

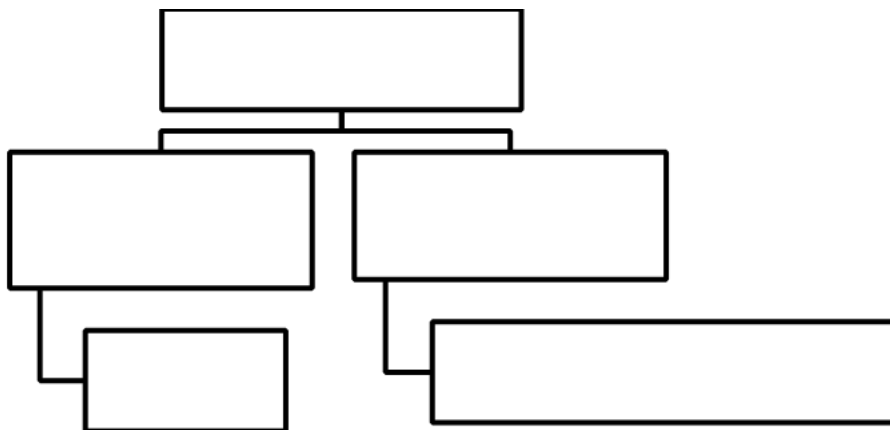
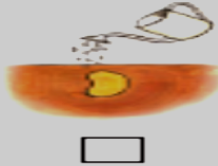
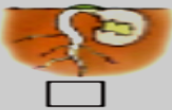
# اختبار مادة العلوم للصف الثاني ابتدائي الفترة الأولى

اسم الطالبة : ..... الصف : 2 /

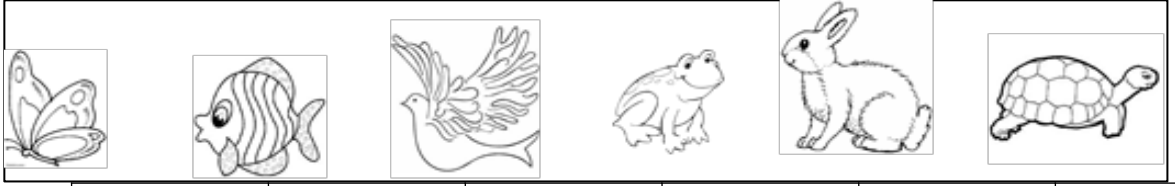
ضعي الكلمة المناسبة في الفراغ ؟ ( الماء - البذرة - الهواء - تنمو - الزهرة )

- يحتاج النبات لينمو إلى : ..... و .....
- جزء النبات الذي ينمو ويصبح نباتاً جديداً هو .....
- تأتي البذور من .....
- النباتات من المخلوقات الحية لأنها : .....

من خلال الصور رتبي مراحل دورة حياة كل ما يلي :



صلي بين الحيوان بالمجموعة المناسبة له :



حشرا ت	برمائيا ت	أسماك	زواح ف	طيور	ثديا ت
-----------	--------------	-------	-----------	------	-----------