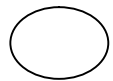

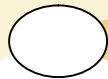

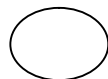
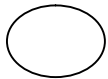
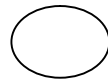

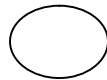

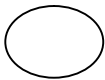
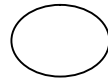
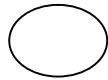
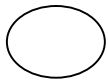


√ ما المخلوقات الحية ؟ وما الأشياء غير الحية ؟

أ تأمل الصور التالية ثم أضع علامة (√) تحت المخلوقات الحية وعلامة (×) تحت الأشياء غير الحية :



ü ضع دائرة حول الإجابة المناسبة :

٠١ لا تحتاج إلى الغذاء والهواء والماء :

أ . الأشياء غير الحية	ب . المخلوقات الحية
-----------------------	---------------------

٠٢ تنمو وتتغير :

أ . الأشياء غير الحية	ب . المخلوقات الحية
-----------------------	---------------------

٠٣ تحتاج إلى الغذاء والهواء والماء :

أ . الأشياء غير الحية	ب . المخلوقات الحية
-----------------------	---------------------

٠٤ تحتاج النباتات لكي تعيش :

أ . ضوء الشمس والماء	ب . حصى وصخور
----------------------	---------------

ü أرسم مخلوق حي وشيء غير حي مما أراه حولي :

(شيء غير حي)

(مخلوق حي)

