

الصف: ثالث ابتدائي  
اليوم:  
التاريخ: / / 1444هـ  
الزمن: ساعة ونصف فقط



المملكة العربية السعودية  
وزارة التعليم  
إدارة تعليم منطقة تبوك

## اختبار نهاية الفصل الدراسي الثاني ( الدور الأول)

مادة **العلوم** للصف الثالث ابتدائي

للعام الدراسي 1444 هـ

اسم الطالبة : .....  
رقم الجلوس : .....

رقم السؤال	الدرجة رقما	الدرجة كتابة	المصححة	المراجعة	المدققة
السؤال الأول					
السؤال الثاني					
السؤال الثالث					

درجة الاختبار النهائية : ..... فقط لا غير من 40 درجة



اعمل بجد في صمت .. ودع النجاح يحدث ضجيجاً


## السؤال الأول:

أ- اختاري الإجابة الصحيحة في كلاً مما يلي:

1- حركة فجائية لصخور القشرة الأرضية.							
أ	البركان	ب	الزلازل	ج	التعرية	د	الترسيب
2- من أسباب حدوث التعرية:							
أ	الشمس	ب	الرياح	ج	درجة الحرارة	د	الصهارة
3- بقايا أو آثار مخلوقات حية عاشت في الماضي البعيد.							
أ	اللابة	ب	المياه الجوفية	ج	الاحفورة	د	التجوية
4- من الموارد الغير متجددة:							
أ	الشمس	ب	الرياح	ج	الوقود الاحفوري	د	المياه
5- عاصفة قوية مصحوبة برياح وامطار وتتكون فوق المحيطات:							
أ	عاصفة رملية	ب	عاصفة ثلجية	ج	إعصار حلزوني	د	التجوية
6- فتحة في القشرة الأرضية تندفع منها الصهارة.							
أ	البركان	ب	الزلازل	ج	التعرية	د	التعرية
7- أحد أنماط الطقس القاسي وهي عاصفة مصحوبة بالثلج والرياح القوية:							
أ	عاصفة رملية	ب	عاصفة رعديّة	ج	عاصفة ثلجية	د	إعصار حلزوني
8- حالة الطقس في مكان معين على فترة زمنية طويلة.							
أ	التربة	ب	المناخ	ج	الوقود الاحفوري	د	الترسيب
9- يسمى كل من الشتاء والربيع والصيف والخريف ب.....							
أ	دورة الماء	ب	فصول السنة	ج	التكثف	د	الغيوم
10- مورد طبيعي متجدد:							
أ	الفحم	ب	الرياح	ج	النفط	د	الغاز طبيعي

السؤال الثاني:

أ- رتب طبقات التربة التالية:  
( الطبقة الصخرية - طبقة التربة السطحية - طبقة التربة تحت السطحية )



(.....)

(.....)

(.....)

ب- ضع الكلمة المناسبة في مكانها المناسب:

( مشمس - غائم جزئي - غائم - ماطر )



.....

.....

.....

.....

ج- أكمل بيانات دورة الماء التالية بما يناسبها:

( التبخر - التكثف - الهطول )



### السؤال الثالث:

أ- ضعي المصطلحات التالية في مكانها المناسب:

( طاقة الشمس - التربة - التجوية - التعرية - دورة الماء )

- 1- (.....) هي تفتت الصخور الى أجزاء صغيرة.
- 2- (.....) مخلوط من المعادن وفتات الصخور وبقايا نباتات وحيوانات متحللة.
- 3- (.....) هي نقل فتات الصخور الى أماكن أخرى.
- 4- (.....) حركة الماء المستمرة بين سطح الأرض والغلاف الجوي.
- 5- (.....) طاقة نحصل عليها من الشمس.

ب- ضعي علامة ( ✓ ) او ( ✗ ) امام العبارات التالية:

1	الوقود مادة يتم حرقها للحصول على طاقة.
2	الطبقة الصخرية تحتوي على الكثير من الدبال.
3	يستخدم الترمومتر لقياس درجة الحرارة.
4	الترسيب هو عملية تجمع فتات الصخور في أماكن مختلفة.
5	من اشكال الهطول (مطر- ثلج - برد ) .
6	الدبال هو بقايا نباتات وحيوانات متحللة.
7	تسمى عملية تحول الغاز الى سائل بالتكثف.
8	التربة الطينية لا تحتفظ بالماء.
9	البراكين والزلازل من العمليات البطيئة.
10	العاصفة الثلجية تحدث في فصل الصيف.

ج- صنفي أدوات القياس التالية :

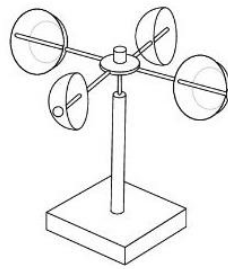
( كمية المطر - سرعة الرياح - درجة الحرارة - الضغط الجوي - اتجاه الرياح )




مقياس .....




مقياس .....



مقياس .....



مقياس .....



مقياس .....

انتهت الاسئلة

دعواتي لكن بالتوفيق والنجاح  
المعلمة: أمل الزهراني