



أكمل الجملَ التالية، باستعمالِ المفردةِ المناسبةِ من الصندوقِ أدناه:

الوحداتُ المربَّعةُ	السعةُ
المحيطُ	الكتلةُ
المساحةُ	الحجمُ
الفترةُ الزمنيةُ	

١. _____ هي وحداتُ لقياسِ المساحةِ.
٢. يُسمَّى الحيزُ الَّذي يشغله الجسمُ في الفراغِ _____ .
٣. _____ هو طولُ الخطِّ حولَ الشكلِ أو المنطقةِ.
٤. تُسمَّى كميَّةُ ما في الجسمِ من مادةٍ _____ .
٥. _____ هي عددُ الوحداتِ المربَّعةِ التي تُغطِّي المنطقةَ أو الشكلَ المستويَ.
٦. تُسمَّى كميَّةُ السائلِ التي يستوعبها الوعاءُ _____ .
٧. مقدارُ الوقتِ بينَ بدايةِ نشاطٍ ما ونهايتهِ هو _____ .



اقرأ كل سؤال بعناية، ثم اكتب رمز الإجابة الصحيحة في المكان المخصص لذلك:

_____ (١)

١ أفضل تقدير لطول حافلة هو:

(ب) ١٠ أمتار

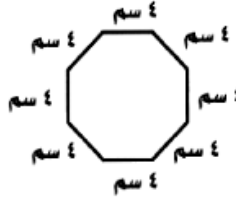
(أ) ١ متر

(د) ١٠ كيلومترات

(ج) ١٠ سنتمترات

_____ (٢)

٢ ما محيط الشكل المجاور؟



(ب) ١٢ سم

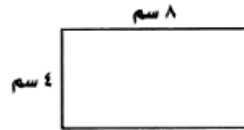
(أ) ٨ سم

(د) ٦٤ سم

(ج) ٣٢ سم

_____ (٣)

٣ أي العبارات الآتية تستعملها لحساب



مساحة المستطيل المجاور؟

(ب) $٨ + ٨ + ٤ + ٤$

(أ) $(٨ \times ٤) + (٨ \times ٤)$

(د) ٨×٤

(ج) $٨ + ٤$

_____ (٤)

٤ ما مساحة الشكل المجاور؟



(ب) ١٨ سم^٢

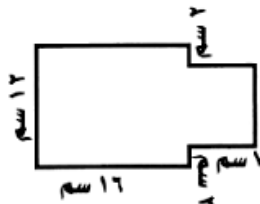
(أ) ١٢ سم^٢

(د) ٦٤ سم^٢

(ج) ٣٦ سم^٢

_____ (٥)

٥ ما محيط الشكل المجاور؟



(د) ٧٠ سم

(ج) ٦٨ سم

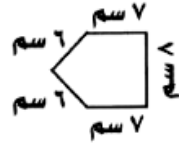
(ب) ٦٢ سم

(أ) ٣٩ سم



اقرأ كل سؤال بعناية، ثم اكتب رمز الإجابة الصحيحة في المكان المخصص لذلك:

(١) _____



١ ما محيط الشكل المجاور؟

(أ) ٣٤ سم

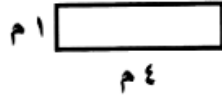
(ب) ٢٩ سم

(د) ١٨ سم

(ج) ٢٧ سم

(٢) _____

٢ أي العبارات الآتية تستعملها لحساب مساحة المستطيل المرسوم؟



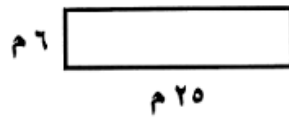
(ب) $1 + 4$

(أ) 1×4

(ج) $(1 \times 4) + (1 \times 4)$

(د) $1 + 1 + 4 + 4$

(٣) _____



٣ ما مساحة الشكل المجاور؟


(ب) 150 م^2

(أ) 170 م^2

(د) 62 م^2

(ج) 120 م^2

(٤) _____



٤ أوجد مساحة الشكل المجاور:

(ب) ٤٠ وحدة مربعة

(أ) ٣٠ وحدة مربعة

(د) ٦٠ وحدة مربعة

(ج) ٥٠ وحدة مربعة

(٥) _____

٥ إذا كانت مساحة ملعب مستطيل الشكل ٥٤ م^٢، ومحيطه ٣٠ م، فأوجد طول

الملعب وعرضه.

(ب) الطول = ١٠ م، العرض = ٥ م

(أ) الطول = ١٨ م، العرض = ٣ م

(د) الطول = ١١ م، العرض = ٤ م

(ج) الطول = ٩ م، العرض = ٦ م

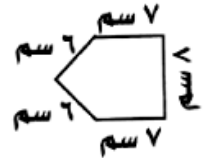


الاسم / الصف الرابع التاريخ

القياس نموذج (٥)

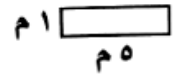
اقرأ كل سؤال بعناية، ثم اكتب إجابتك في المكان المخصص لذلك:

١ أوجد محيط الشكل التالي:



(١) _____

٢ أوجد مساحة الشكل التالي:



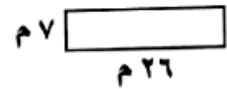
(٢) _____

٣ أوجد محيط الشكل التالي:




(٣) _____

٤ أوجد مساحة الشكل التالي:



(٤) _____

٥ أوجد مساحة الشكل التالي بالوحدات المربعة:

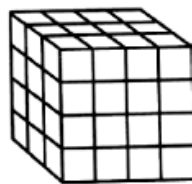


(٥) _____

٦ قدر ارتفاع سقف غرفة الصف بالوحدات المترية.

(٦) _____

٧ أوجد حجم المجسم في الشكل المجاور:



(٧) _____

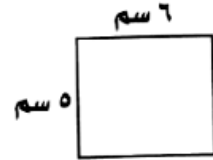


الاسم / الصف الرابع التاريخ

القياس نموذج (٦)

اقرأ كل سؤال بعناية، ثم اكتب إجابتك في المكان المخصص لذلك:

١ احسب محيط الشكل التالي:



(١) _____

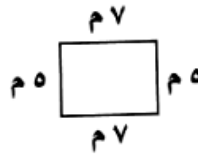
٢ إذا كان طول ضلع مربع ١٠ ستمترات، فما مساحته؟

(٢) _____

٣ أوجد محيط المستطيل الذي طوله ٥ أمتار، وعرضه ٣ أمتار.

(٣) _____

٤ احسب مساحة الشكل المجاور:



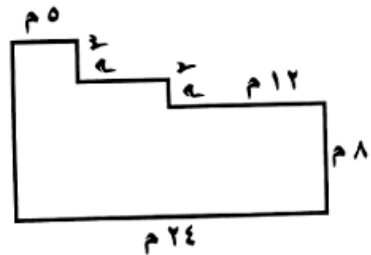
(٤) _____

٥ ما أفضل وحدة لقياس طول نملة؟

(٥) _____

٦ ما محيط الشكل المجاور:

(٦) _____

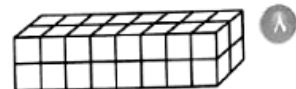
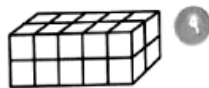


(٧) _____

٧ احتاج فائز إلى ٦٠ مترًا من الأسلاك لعمل سياج حول حديقة المربعة الشكل. فما طول ضلع حديقته؟

أوجد حجم كل من الجسمين التاليين بالوحدات المكعبة.

(٨) _____



(٩) _____