



ورقة عمل لفظي و كمي رقم (7) - برنامج القدرات الموحد 1438 هـ

اليوم:

7

الأسبوع:

المهارة: للفترة الثانية ١٤٣٨ هـ

أولاً القسم اللفظي:

**الارتباط و الاختلاف:

١	بدين - متين - قوي - شديد	أ	ب	ج	د	بدين	متين	قوي	شديد
٢	ضوء - سراب - لمعان - بريق	أ	ب	ج	د	ضوء	سراب	لمعان	بريق
٣	ثج - حج - مج - عج	أ	ب	ج	د	ثج	حج	مج	عج
٤	براشن - مخالاب - كاسر - أظافر	أ	ب	ج	د	براشن	مخالاب -	كاسر	أظافر
٥	حدس - تخمين - توقع - توهم	أ	ب	ج	د	حدس	تخمين	توقع	توهم
٦	سكين - دبوس - مسمار - ابره	أ	ب	ج	د	سكين	دبوس	مسمار	ابره
٧	إبراهيم - يعقوب - إسحاق - محمد	أ	ب	ج	د	إبراهيم	يعقوب	إسحاق	محمد
٨	عقرب - حيتة - ثعبان - ضفدع	أ	ب	ج	د	عقرب	حيتة	ثعبان	ضفدع

إكمال الجمل:

الموسوعات الثقافية محاولة الثغرات التي بدأت تظهر علي الساحة الثقافية العربية في مرحلة الكبرى التي أصابت الثقافة والضمير

أ ب ج د
لتوسيع - الانتقاض لردم - النهضة لفتح - الهيمنة لسد - الانتكاست

١

العلاقات العامة هي الإدارة المتميزة التي تساعد علي بناء خطوط من الاتصال والتفاهم بين المؤسسة وجمهورها

أ ب ج د
برنامج - رقيقت عمل - وظيفة وظيفة - متبادلت مسؤوليت - ود

٢

تعد الزكاة من مظاهر التكافل الاجتماعي التي بها الإسلام عن سائر الأديان

أ ب ج د
أشهر - اختص أهم - تبين أكبر - تقدم أبرز - امتاز

٣

منذ زمن بعيد حاول العلماء جاهدين إثبات استخراج كمية من العقاقير

أ ب ج د
بعد - واضحة إمكانيت - لامحدودة عام - معروف إمكانيت - باهظت

٤

يمثل الحفاظ على الإنسان حجز الزاوية الأساس في استقرار أي مجتمع بشري فإينما وجد شعباً مستقراً وجد إنساناً على حقوقه

أ ب ج د
نيل - توكل عرض - تعرف حقوق - مطمئناً كسب - تحصد

٥

النوم هو الذي به الأطباء ليكون الجسم في الليل

أ ب ج د
ينصح - معافاً تضعف - المكملت زينت - الرئيسية عمدة - المتممت

٦

الزراعة تحقق ونمو الانسان والحيوان و الصناعات الغذائية

أ ب ج د
الأمن - انتاج الإكتفاء - معالجت الرخاء - ازدهار التقدير - التبادل

٧

كشفت الدراسات أن إلقاء المخلفات في الماء يؤثر على لدى الأسماك

أ ب ج د
المعاصرة - المناعة الطبيعت - حركة البحرية - سباحة القديمة - رؤيت

٨

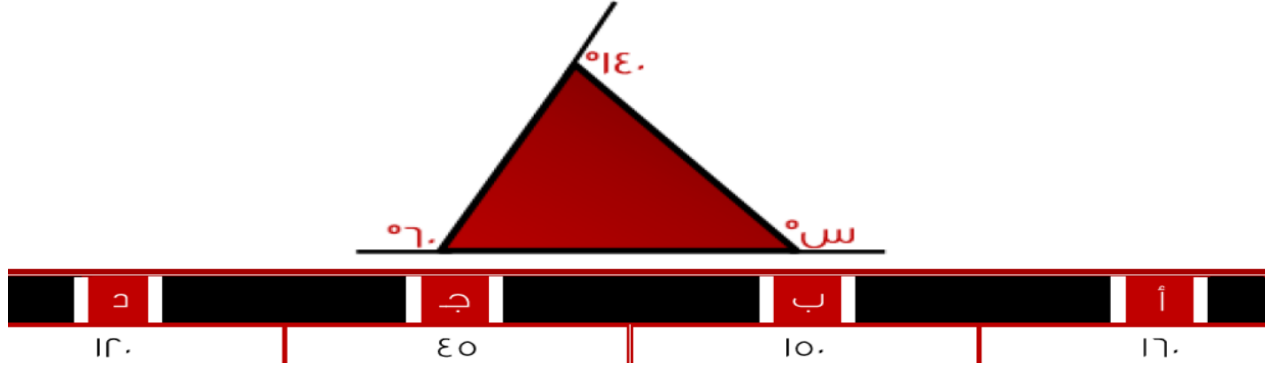
أكثر علم من يطبق عمله ، وأجهلهم من بإمتلاك العلم

أ ب ج د
المغامرون - يتفاخر الناس - يتباهى العلماء - ينشر الأشخاص - يتردد

٩

ثانياً: الجزء الكمي

أوجد قيمة (س) ، علماً بأن الرسم ليس على القياس .



١

أوجد محيط الشكل التالي :



٢

مثلث مختلف الأضلاع محيطه ٣٥ ، و أحد أضلاعه ١٦ ، و الفرق بين طولي الضلعين الآخرين هو ٣ . أوجد طول الضلع الأصغر في المثلث .



٣

كم عدد الأعداد الزوجية بين ٢ و ٩٩ ؟



٤

ما هي مساحة أكبر دائرة يمكن رسمها في مربع طول ضلعه ٨ سم ؟



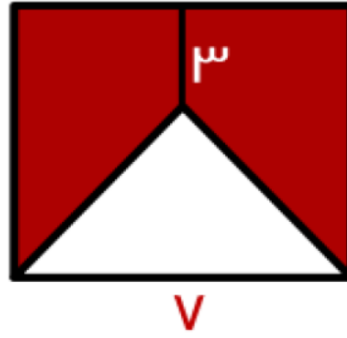
٥

عدد موجب ضرب في نفسه ثم جموع عليه ضعفه .
أوجد قيمة المقدار الناتج .



٦

إذا كان الشكل التالي مربعاً ، فأوجد مساحة الجزء المظلل .



٧

إذا كان هناك شخص يملك ١٢ ريال من فئة الريال و النصف ريال ، و كان مجموع القطع ١٥ . كم عدد القطع من فئة النصف ريال ؟



٨

إذا حفر عامل حفرة بعمق ما في يوم ، ثم في اليوم الثاني حفر ٣ متر ، و اليوم الثالث حفر ٦ متر وهكذا كل يوم يزيد ٣ متر عن الذي قبله ، فإذا كان مجموع مع حفره حتى اليوم السادس هو ٥٢ متر . أوجد العمق الذي حفره في اليوم الأول .



٩

حوض ماء تملأه الحنية الأولى في ساعتين و الحنفية في ٦ ساعات فإذا كان الحوض فارغاً و فتحنا الحنفيتان بوقت واحد ففي كم ساعة يمتلئ الحوض كاملاً ؟




١٠

في مصنع عصير تتوالى العلب المنتجة على النحو التالي : برتقال - تفاح - مانجو - ليمون ، فما نوع العصير في العلبة رقم ١١٥ ؟



١١

كم عدد المستطيلات في الشكل التالي :



١٢



أوجد خانة الأحاد للعدد : ٣^{٩٩} .



١٣

الإجابات

**الارتباط و الاختلاف:

١	بدین - متین - قوي - شديد	أ	ب	ج	د
	بدین	متین	قوي	شديد	
٢	ضوء - سراب - لمعان - بريق	أ	ب	ج	د
	ضوء	سراب	لمعان	بريق	
٣	ثج - حج - معج - عج	أ	ب	ج	د
	ثج	حج	معج	عج	
٤	براشن - مخالف - كاسر - أظافر	أ	ب	ج	د
	براشن	مخالف	كاسر	أظافر	
٥	حدس - تخمين - توقع - توهه	أ	ب	ج	د
	حدس	تخمين	توقع	توهه	
٦	سكين - دبوس - مسمار - ابره	أ	ب	ج	د
	سكين	دبوس	مسمار	ابره	
٧	إبراهيم - يعقوب - إسحاق - محمد	أ	ب	ج	د
	إبراهيم	يعقوب	إسحاق	محمد	
٨	عقرب - حيت - ثعبان - ضفدع	أ	ب	ج	د
	عقرب	حيت	ثعبان	ضفدع	

إكمال الجمل:

الموسوعات الثقافية محاولة الثغرات التي بدأت تظهر علي الساحة الثقافية العربية في مرحلة الكبرى التي أصابت الثقافة والفكر

لتوسيع - الانتقاض | أ | لردم - النهضة | ب | لفتح - الهيمنة | ج | لسد - الانتكاست | د

١

العلاقات العامة هي الإدارة المتميزة التي تساعد علي بناء خطوط من الاتصال والتفاهم بين المؤسسة وجماهيرها

برنامج - رقيقت | أ | عمل - وظيفة | ب | وظيفة - متبادلت | ج | مسؤوليت - ود | د

٢

تعد الزكاة من مظاهر التكافل الاجتماعي التي بها الإسلام عن سائر الأديان

أشهر - اختص | أ | أهم - تبين | ب | أكبر - تقدم | ج | أبرز - امتاز | د

٣

منذ زمن بعيد حاول العلماء جاهددين إثبات استخراج كمية من العقاقير

بعد - واضحة | أ | إمكانية - لأمحودة | ب | إمكانية - باهظة | ج | عام - معروف | د

٤

يمثل الحفاظ على الإنسان حجز الزاوية الأساس في استقرار أي مجتمع بشري فإينما وجد شعباً مستقراً وجد إنساناً على حقوقه

نيل - توكل | أ | عرض - تعرف | ب | حقوق - مطمئناً | ج | كسب - تحصد | د

٥

النوم هو الذي به الأطباء ليكون الجسم في الليل

ينصح - معافاً | أ | تضعف - المكملت | ب | زينت - الرئيسية | ج | عمدة - المتممت | د

٦

الزراعة تحقق ونمو الانسان والحيوان و الصناعات الغذائية

الأمّن - انتاج | أ | الإكتفاء - معالجت | ب | الرخاء - إزدهار | ج | التقدير - التبادل | د

٧

كشفت الدراسات أن إلقاء المخلفات في الماء يؤثر على لدى الأسماك

المعاصرة - المناعة | أ | الطبيعة - حركة | ب | البحرية - سباحة | ج | القديمة - رؤيت | د

٨

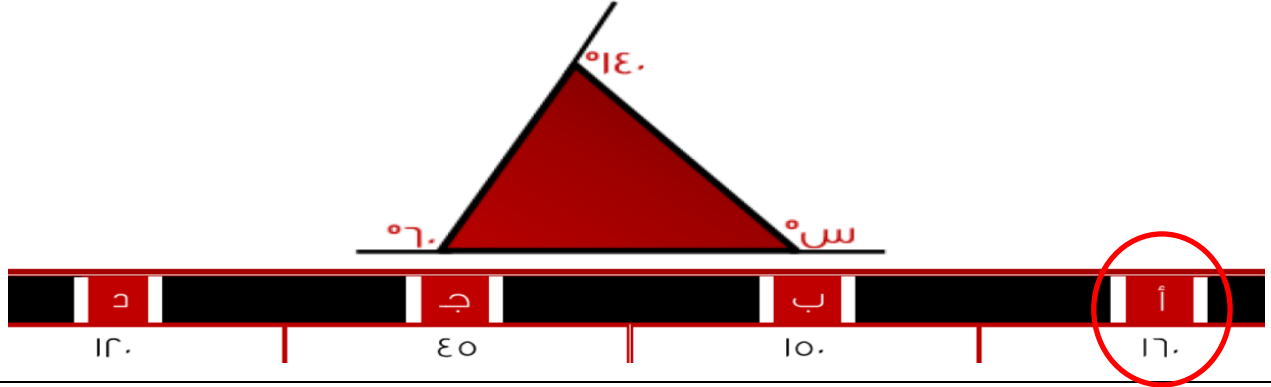
أكثر علم من يطبق عمله ، وأجهلهم من بإمتلاك العلم

المغامرون - يتفاخر | أ | الناس - يتباهى | ب | العلماء - ينشر | ج | الأشخاص - يتردد | د

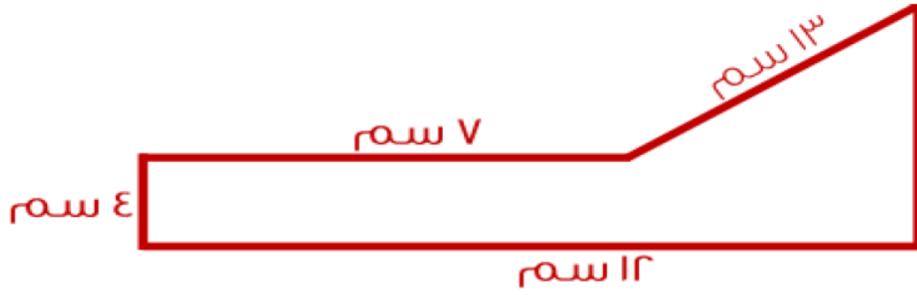
٩

ثانياً: الجزء الكمي

أوجد قيمة (س) ، علماً بأن الرسم ليس على القياس .



أوجد محيط الشكل التالي :



مثلث مختلف الأضلاع محيطه ٣٥ ، و أحد أضلاعه ١٦ ، و الفرق بين طولي الضلعين الآخرين هو ٣ . أوجد طول الضلع الأصغر في المثلث .



كم عدد الأعداد الزوجية بين ٢ و ٩٩ ؟



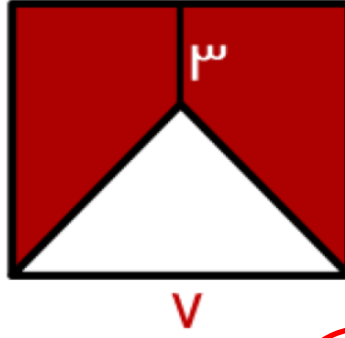
ما هي مساحة أكبر دائرة يمكن رسمها في مربع طول ضلعه ٨ سم ؟



عدد موجب ضرب في نفسه ثم جموع عليه ضعفه .
أوجد قيمة المقدار الناتج .



إذا كان الشكل التالي مربعاً ، فأوجد مساحة الجزء المظلل .



٧

إذا كان هناك شخص يملك ١٢ ريال من فئة الريال و النصف ريال ، و كان مجموع القطع ١٥ . كم عدد القطع من فئة النصف ريال ؟



٨

إذا حفر عامل حفرة بعمق ما في يوم ، ثم في اليوم الثاني حفر ٣ متر ، و اليوم الثالث حفر ٦ متر وهكذا كل يوم يزيد ٣ متر عن الذي قبله ، فإذا كان مجموع مع حفره حتى اليوم السادس هو ٥٢ متر . أوجد العمق الذي حفره في اليوم الأول .



٩

حوض ماء تملأه الحنية الأولى في ساعتين و الحنيفة في ٦ ساعات فإذا كان الحوض فارغاً و فتحنا الحنفتان بوقت واحد ففي كم ساعة يمتلئ الحوض كاملاً ؟



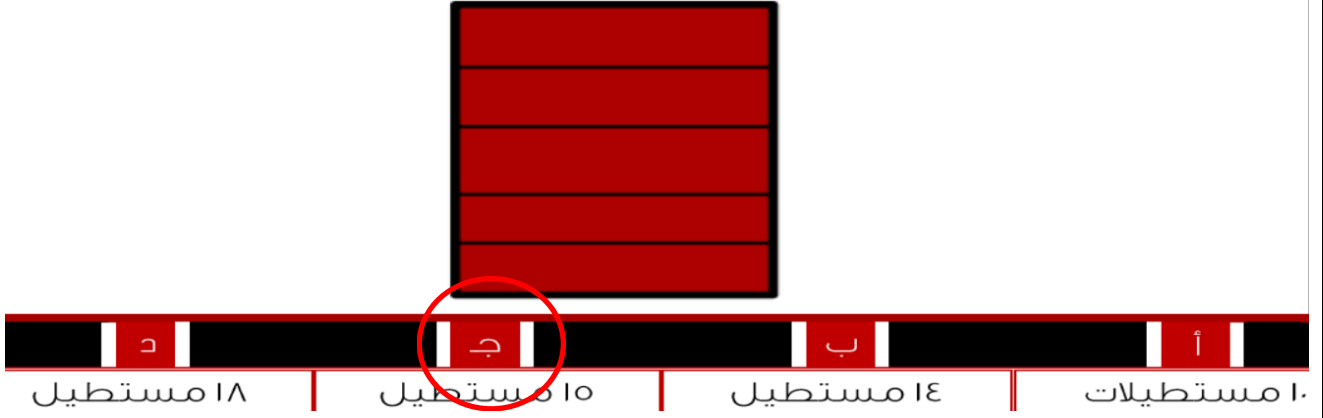
١٠

في مصنع عصير تتوالى العلب المنتجة على النحو التالي : برتقال - تفاح - مانجو - ليمون ، فما نوع العصير في العلبة رقم ١١٥ ؟



١١

كم عدد المستطيلات في الشكل التالي :



أوجد خانة الآحاد للعدد : ٣^{٩٩} .



تمنيتي لكم بالتوفيق والنجاح الباهر،،،،،

إبراهيم قشير قائد تعليمي لاختبارات قياس