

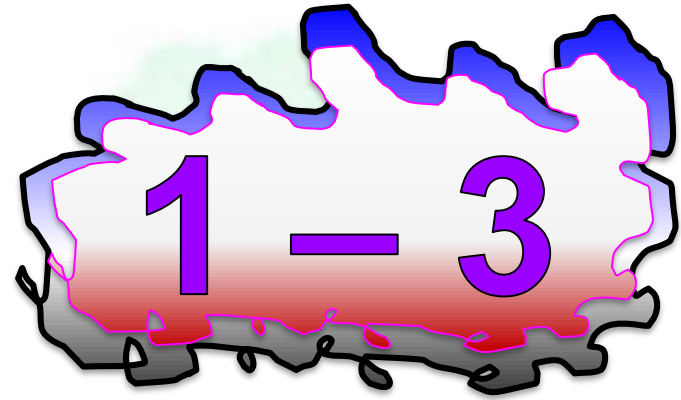
تو عرب

منتدى تو عرب التعليمي

www.arabia2.com/vb

موقع تو عرب التعليمي

www.arabia2.com/vb



طرح الأعداد المكونة من
رقمين



أجد ناتج الطرح، ثم أتحقق من إجابتي:

التحقق

$$25 = 3 + 22$$

25

3 -

22

1

أجد ناتج الطرح، ثم أتحقق من إجابتي:

التحقق

$$\begin{array}{r} 37 \\ - 15 \\ \hline 22 \end{array}$$

$37 = 15 + 22$

2



أجد ناتج الطرح، ثم أتحقق من إجابتي:

التحقق


$$49 = 38 + 11$$

49

38 -

11

3



أجد ناتج الطرح، ثم أتحقق من إجابتي:



التحقق

67

38 -

29

$$67 = 38 + 29$$

$$\begin{array}{r} 67 \\ - 38 \\ \hline \end{array}$$



أجد ناتج الطرح، ثم أتأكد من إجابتي:

5

التحقق

83

9 -

83 = 9 + 74

74



أجد ناتج الطرح، ثم أتحقق من إجابتي:


39

6

التحقق

$$39 = 17 + 22 \quad \underline{17} -$$

22



أجد ناتج الطرح، ثم أتحقق من إجابتي:

التحقق

$$64 = 32 + 32$$

$$\begin{array}{r} 64 \\ 32 - \\ \hline 32 \end{array}$$



أجد ناتج الطرح، ثم أتحقق من إجابتي:

التحقق

$$56 = 38 + 18$$

56

38 -

18

8



أجد ناتج الطرح، ثم أتحقق من إجابتي:

التحقق

$$75 - 26 = 49$$

75 = 26 + 49

9

49



$$\dots 17 = 13 - 30$$

$$30 = 13 + 17 \text{ التحقق}$$

10

$$\underline{12} \dots = 16 - 28$$

$$28 = 16 + 12 \text{ التحقق}$$

11

$$\underline{15} \dots = 23 - 38$$

$$38 = 23 + 15 \text{ التحقق}$$

12

$$\underline{26} \dots = 22 - 48$$

$$48 = 22 + 26 \text{ التحقق}$$

13


$$\dots 22 \dots = 34 - 56$$

$$56 = 34 + 22 \text{ التحقق}$$



14

$$\dots 9 \dots = 58 - 67$$

$$67 = 58 + 9 \text{ التحقق}$$



15



$$\dots 52 = 19 - 71$$

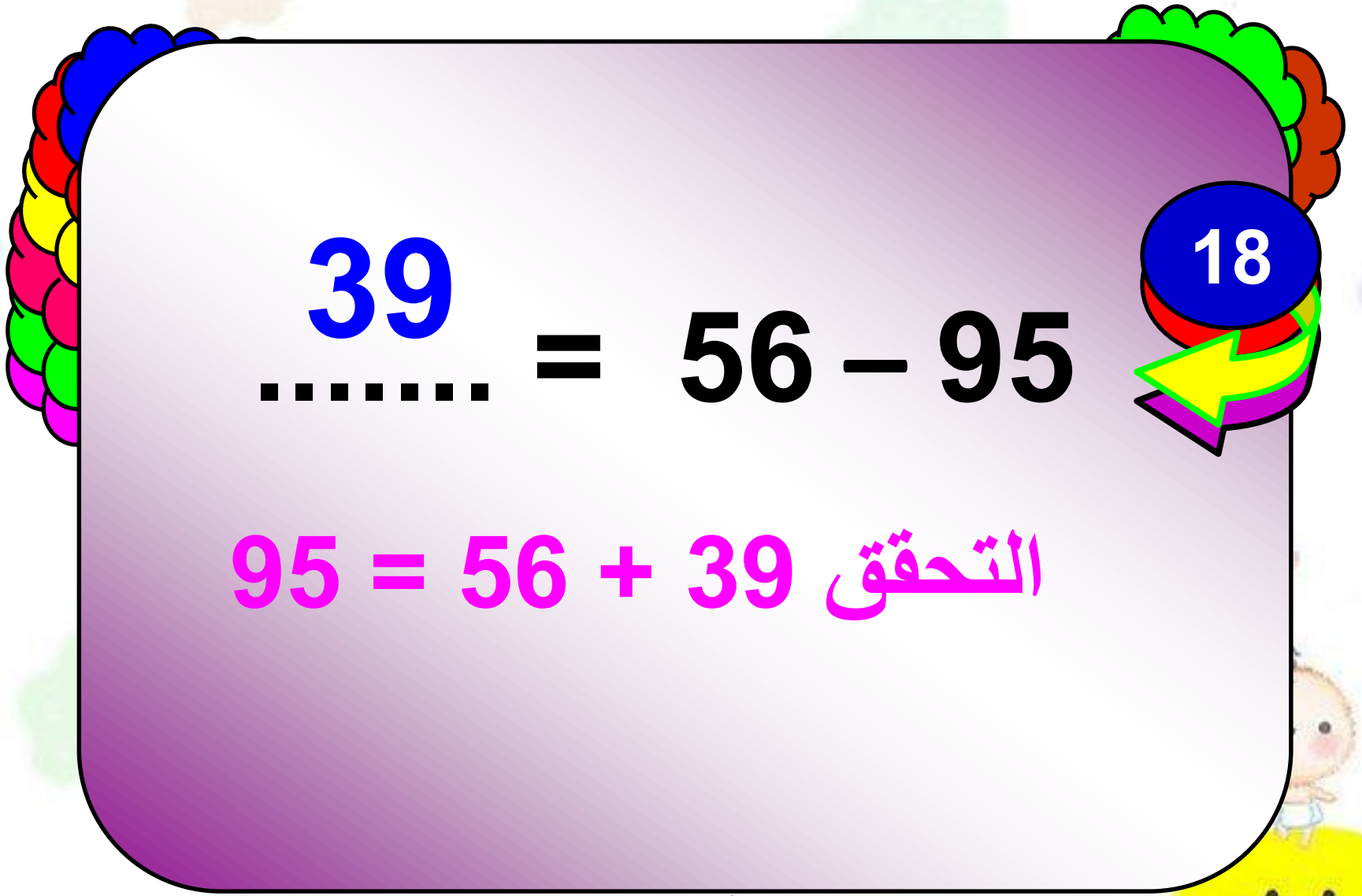
التحقق $71 = 19 + 52$

16

$$\dots 38 = 45 - 83$$

التحقق $83 = 45 + 38$

17


$$\dots\dots\dots = 56 - 95$$

$$95 = 56 + 39 \text{ التحقق}$$



صنعت والدة أحمد 24 فطيرة
صغيرة. إذا أكل أحمد وأصدقائه
16 فطيرة منها، فكم فطيرة
بقيت؟





مجموع الفطائر المتبقية
24 - 16 = 8 فطائر



مراجعة الدرس السابق



أجد ناتج الجمع، وأتأكد من معقولية
الجواب:

$$\underline{\underline{783}} = 338 + 445 \quad 20$$

التأكد $445 = 338 - 783$

إذن الجواب معقول

أجد ناتج الجمع، وأتأكد من معقولية
الجواب:

$$\dots\dots\dots 875 = 276 + 599$$

21

$$599 = 276 - 875 \text{ التأكد}$$

إذن الجواب معقول

أجد ناتج الجمع، وأتأكد من معقولية
الجواب:

$$\underline{1116} = 354 + 762$$

22

التأكد $762 = 354 - 1116$

إذن الجواب معقول

أجد ناتج الجمع، وأتأكد من معقولية
الجواب:

23

$$\dots\dots\dots 580 = 190 + 390$$

$$390 = 190 - 580 \text{ التأكد}$$

إذن الجواب معقول

أجد ناتج الجمع، وأتأكد من معقولية
الجواب:

$$\underline{\underline{1332}} = 888 + 444 \quad 24$$

التأكد $444 = 888 - 1332$

إذن الجواب معقول

أجد ناتج الجمع، وأتأكد من معقولية
الجواب:

$$1533 \dots\dots\dots = 911 + 622$$

25

التأكد $622 = 911 - 1533$

إذن الجواب معقول