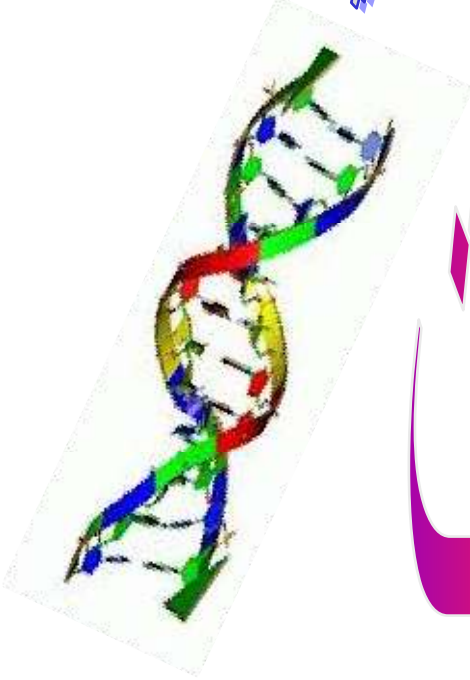


كتاب النشاط العملي

للصف الثالث الثانوي



حلول ومقترحات



الفصل الدراسي الأول

فكرة وإعداد / حارسة الوردات - صابرين ربيع





تجربة (1) لماذا تنقسم الخلايا؟؟؟

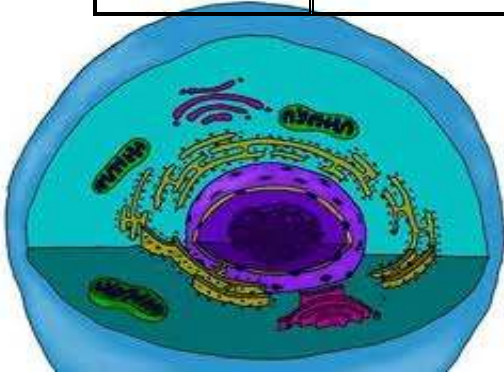
البيانات والملاحظات

الجدول 1

ملاحظة هامة/ يمكن استبدال مكعبات الآجار بمكعبات البطاطس وتوضع في محلول برمنجنات بوتاسيوم لتكسب البطاطس اللون ولكن الانتشار يتم ببطأ

بيانات الآجار

حجم المكعب	مساحة السطح	الحجم	المعدل	عمق الانتشار
ضلع 3cm/	$54=6 \times 3 \times 3$	$27=3 \times 3 \times 3$	1:2	2mm
2cm	$24=6 \times 2 \times 2$	$8=2 \times 2 \times 2$	1:3	3mm
1cm	$6=6 \times 1 \times 1$	$1=1 \times 1 \times 1$	1:6	5mm



حل واستنتج

1- هل مساحة انتقال المواد متساوية في جميع المكعبات ؟ فسر ذلك

لا - لاختلاف حجم المكعبات

2- بناء على إجابتك عن السؤال السابق هل تعتقد أن عمق المنطقة الملونة متساو في جميع الخلايا ؟ فسر ذلك

غير متساو - لأن زيادة الحجم تؤدي إلى نقصان مساحة السطح إلى الحجم وبالتالي تقل نفاذية المواد للداخل

3- إجابته من جدول الآجار

4- افترض أنك أعطيت مجهرا وخلاي بصل مكعبة الشكل طول ضلع كل فيها 0.01cm فما نسبة مساحة سطح المكعب إلى حجمه ؟؟

$$\text{مساحة السطح} = 6 \times 0.01 \times 0.01 = 0.0006$$

$$\text{الحجم} = 0.01 \times 0.01 \times 0.01 = 0.000001$$

$$\text{نسبة السطح للحجم هي } 0.0006 : 0.000001$$

5- أي المكعبين كانت نسبة مساحة سطح إلى حجمه : مكعب البصل أم المكعب المستخدم في هذا المختبر والبالغ طول ضلع فيه 3cm؟؟؟؟؟

نسبه السطح إلى الحجم لمكعب البصل أكبر

كلما صغر الحجم كلما زادت مساحة السطح إلى الحجم

6- ما العلاقة بين نسبة ((مساحة السطح إلى الحجم)) وانتقال المواد عبر الخلية ؟؟؟؟؟؟

كلما زادت مساحة السطح إلى الحجم زاد انتقال المواد عبر الخلية

7- ما الذي يحدث لانتقال المواد عندما تنمو الخلية ؟؟؟؟؟؟

مع زيادة نمو الخلية يصعب حصولها على المواد المغذية أو التخلص من الفضلات أما إذا بقيت صغيرة فتكون نسبة مساحة سطحها إلى حجمها عالية وبذلك تسمح بدخول المواد

9- تحليل الخطأ

تختلف من شخص لآخر

9- كون فرضية تفسر فيها كيف يؤثر انقسام الخلية في قدرتها على امتصاص المواد الضرورية للنمو معتمدا في إجابتك على ملاحظتك لنسبة مساحة السطح إلى الحجم

إذا نمت الخلية تصبح مساحة السطح للحجم قليلة وكلما زادت بالنمو تستمر مساحة السطح للحجم بالنقصان وهذا يعني صعوبة في قدرتها على امتصاص المواد والتخلص من الفضلات

تجربة (2) ما الذي يؤثر في معدل البناء الضوئي

إثبات تصاعد الأوكسجين أثناء عملية البناء الضوئي ودراسة تأثير شدة الإضاءة على عملية البناء الضوئي.

الأدوات والمواد اللازمة:

كأس زجاجي - قمع زجاجي - أنبوبة اختبار - ساق نبات الإلوديا - الماء - بيكربونات الصوديوم.

طريقة العمل:

- 1- ضع فرعاً من نبات الإلوديا المائي تحت قمع زجاجي منكس في كأس يحتوي على محلول ١% بيكربونات الصوديوم بحيث يكون الطرف المقطوع إلى أعلى نحو ساق القمع.
 - 2- انكس فوق ساق القمع أنبوبة اختبار مملوءة بنفس المحلول.
 - 3- عرض الكأس لضوء قوي ثم احسب عدد الفقاعات الصاعدة خلال ثلاث فترات كل منها دقيقة واحدة.
 - 4- عرض الكأس لضوء غير مباشر لمدة دقيقتين ثم احسب عدد الفقاعات كما سبق.
 - 5- عرض الكأس في منطقة ضعيفة الإضاءة وكرر العملية السابقة.
- عرض الكأس لشدة إضاءة قوية وثابتة مع تغيير درجة الحرارة ٢٠ - ٣٠ - ٤٠ - ٥٠ م ثم احسب عدد الفقاعات على عشرة فترات مختلفة كل منها دقيقة واحدة .

ملاحظة : يمكن إجراء التجربة بطريقة مختصرة وذلك بتعريض الجهاز السابق لإضاءة جيدة ولفترة مناسبة فنلاحظ تكون منطقة فارغة أعلى الأنبوب المنكس . ثم يتم الكشف عن الأكسجين بتعريض الأنبوب من الأعلى لعود ثقاب مشتعل فنلاحظ أن هذه الشعلة تتوهج مع حدوث فرقة بسيطة دلالة على أن هذا الغاز المحصور في الأنبوب هو الأكسجين.

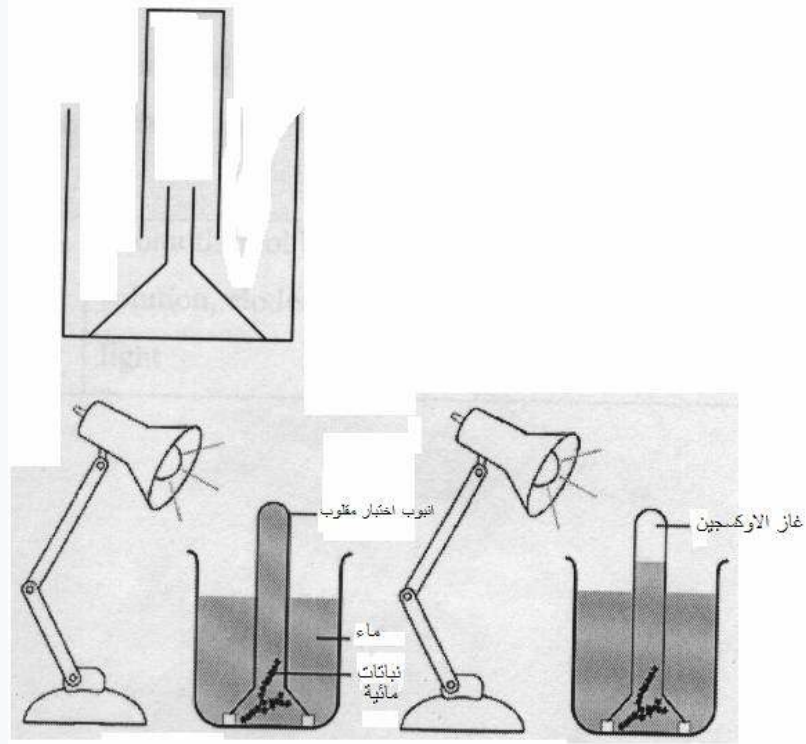
كما نلاحظ من التجربة السابقة أن النبات كلما تعرض لإضاءة قوية كلما زادت كمية الأكسجين المنتجة بفعل عملية البناء الضوئي . وكذلك كلما كانت درجة الحرارة التي يتعرض لها النبات مناسبة (٣٠ - ٤٠ م) كلما كانت إنتاجية الأكسجين بكمية أفضل.

ومن ذلك نجد أنه لا بد من توفر إضاءة كافية ودرجة حرارة مناسبة لحدوث عملية البناء الضوئي بشكل جيد.



صورة نبات الألوديا

ملاحظة : يمكن استخدام أنبوب كبير حجم ٥٠ ملل ثم نقوم بملئه بمحلول بيكربونات الصوديوم ٠.١ % ثم وضع نبات الألوديا منكبساً داخل الأنبوب ثم نقوم بحساب عدد الفقاعات المنتجة في كل حالة من الحالات المذكورة سابقاً .



حل واستنتج

- 1- ما الدليل على حاجة النبات إلى الضوء للقيام بعملية البناء الضوئي ؟
النبات الذي ينمو بالظلام يكون شاحب اللون وهذيل أما الذي ينمو بالضوء يكون أخضر اللون
- 2- هل يتحرر الأوكسجين في أثناء عملية البناء الضوئي ؟ وما دليلك على ذلك؟
نعم ، حدوث الفرقة عند تقريب الثقب وزيادة توجهه - خروج فقاعات بالماء
- 3- ما الهدف من استخدام مادة بيكربونات الصوديوم الهيدروجينية (بيكربونات الصوديوم) ؟
مصدر لغاز ثاني أكسيد الكربون يمكن الاستعاضة عنه بالنفخ بالوعاء

4- ما تأثير شدة الضوء في معدل البناء الضوئي ؟ اكتب جملة تفسر نتائجك ؟

كلما زادت شدة الضوء زادت عملية البناء الضوئي (ملحوظة / إلى أن تصل شدة الضوء إلى حد معين بعد ذلك تنخفض عملية البناء الضوئي

5- صف المجموعة الضابطة في تجربتك وإلام تشير ؟

نفس الخطوات السابقة ولكن بدون تعريض النبات لضوء متغير الشدة في ضوء الغرفة أو الشمس
أن عملية البناء الضوئي تحتاج لوجود الضوء .

6- تحليل الخطأ . ما مصادر الخطأ المحتملة في تجربتك ؟

كمية بيكربونات الصوديوم - كمية الضوء العرض لها النبات .



تجربة (3) ما المدة الزمنية لكل طور في دورة الخلية

كيفية إعداد الخلايا المنقسمة

كأس زجاجية عدد ١٥

شريحة زجاجية عدد ١٥

غطاء شريحة عدد ١٥

سكين حادة عدد ١٥

ورق نشاف عدد ١٥

قطارة عدد ١٥

مجهر عدد ١٥

مقص عدد ١٥

قمة جذر نامية لبصل حديثة النمو

حمض هيدروكلوريك المركز (HCL)

محلول الكارنوي (carnoy's fluid)

محلول أوراسين (orcein) أو تلودين (toluidine blue)

تحضير هرسة من قمة جذر نامية:

تعتبر هذه الطريقة من أفضل الطرق للتعرف على مراحل الانقسام الخلوي في الخلايا النباتية بسرعة، وبأقل التكاليف، بالإضافة إلى ذلك فهي سهلة، وللقيام بهذه التجربة عليك اتباع الخطوات التالية:

١. املاً الكأس الزجاجية بالماء. ثم ضع فيها بصلة بحيث تلامس قاعدتها الماء وانتظر بضعة أيام حتى تنمو جذور البصل، وتندلى إلى الماء.
٢. أحضر وعاءين صغيرين وضع في الأول كمية كافية من حمض الهيدروكلوريك المركز، وفي الوعاء الثاني ضع كمية كافية من محلول الكارنوي (carnoy's fluid)
٣. افصل القمم النامية للجذر بواسطة مقص.
٤. ضع بعض هذه القمم في الوعاء الذي يحتوي على حمض الهيدروكلوريك المركز لمدة (٤) دقائق.
٥. باستخدام الملقط قم بنقل هذه الجذور إلى الوعاء الذي يحتوي على محلول الكارنوي لمدة (٤) دقائق.
٦. خذ أحد هذه الجذور واقطع القمة النامية بواسطة شفرة حادة (بطول حوالي ٢ ملم)

وضعها على شريحة نظيفة.

٧. ضع عدة قطرات من الأوراسين أو محلول التلوين الأزرق لمدة دقيقتين ثم تخلص من الصبغة الزائدة.

٨. ضع قطرة أو قطرتين من الماء على الشريحة.

٩. ضع غطاء الشريحة على العينة واضغط على الغطاء بلطف بواسطة ورق نشاف حتى تنهرس خلايا القمة النامية وتتفك.

١٠. افحص الشريحة تحت المجهر وتعرف على مراحل الانقسام غير المباشر وسجل ملاحظتك.

الانقسام المباشر mitosis :

ويعرف أيضاً بالانقسام البسيط ويحدث عادة في بعض الكائنات الدنيئة وحيدة الخلية كالبكتيريا والخمائر. وفيه تتحصر النواة من وسطها إلى أن تنقسم إلى قسمين كما ينقسم السيتوبلازم وباقي محتويات الخلية إلى جزأين مع حدوث تخصر في جدار الخلية الأم عند وسطها، ويزداد هذا التخصر حتى يفصل الخلية الأم إلى خليتين بنواتين منفصلتين، تحتوي كل خلية منها على جزء من السيتوبلازم المنقسم ومحتوياته إلى جانب نصف النواة الأم التي انقسمت سابقاً، وهذا الانقسام أيضاً يطلق عليه الانشطار الثنائي Binary Fission.

الانقسام غير المباشر (Mitosis) :

يعرف هذا الانقسام أيضاً بالانقسام العادي أو الانقسام الميتوري حيث يتم به انقسام الخلية إلى خليتين شبيهتين بالخلية الأم، ويمر هذا الانقسام بعدة أطوار هي:

• الطور البيني (Interphase)

• الطور التمهيدي (Prophase)

• الطور الاستوائي (Metaphase)

• الطور الانفصالي (Anaphase)

• الطور النهائي (Telophase)

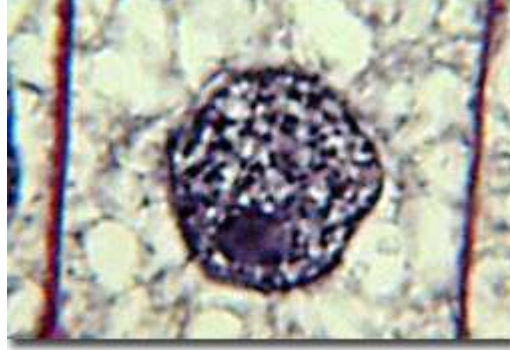
وبما أن هذا النوع من الانقسام هو موضوع مختبرنا، سوف نتناول هذه العملية في الخلية النباتية

الانقسام المباشر في الخلية النباتية:

- الطور البيني (Inter phase)

تظهر النواة التي تتوسط السيتوبلازم محاطة بالغشاء النووي وبها نوية أو أكثر، تملأ النواة مادة الكروماتين (chromatin) التي تعتبر الصورة التي توجد عليها الكروموزومات في هذا الطور، وهي عبارة عن خيوط رفيعة جداً ويعرف كل خيط بالكرومونيما أو يأخذ الطور البيني وقتاً أطول

بكثير من بقية الأطوار لأن الخلية تمر بنشاط بيوكيميائي ملحوظ، ويمكن تقسيم الطور البيئي إلى ثلاث فترات بالنسبة للنشاط البيوكيميائي الذي تقوم به الخلية خلال هذا لطور.



- الطور البيئي (Inter phase)

١. الفترة الفاصلة الأولى (G1-Period) :

يتم خلالها تكوين معظم أنواع البروتين وجميع أنواع (RNA) التي تحتاج إليها الخلية.

٢. فترة التكوين (S-Period) :

وفيها يتم مضاعفة (DNA) للخلية لعملية انقسام الكروموزومات في الأطوار التالية، كما يتم خلال هذه الفترة تكوين البروتينات الداخلة في تكوين الكروموزومات في الخلايا حقيقية النواة.

٣. الفترة الفاصلة الثانية (G2-Period) :

ويتم خلال هذه الفترة التمهيد لعملية انقسام الخلية في الأطوار التالية، وذلك بترتيب الخلية لجزيئاتها الداخلة في تكون أجزائها.

- الطور التمهيدي (prophase) :

تظهر الكروموزومات تدريجياً إلى أن تأخذ شكلها النهائي ويظهر كل كروموزوم منشقاً إلى كروماتيدين (Two Chromatids) يتصلان بالسنترومير (Centromere) في منطقة معينة تأخذ الكروموزومات في القصر وتزداد سمكاً، وتتلاشى النوية كما يتلاشى الغشاء النووي، يتم تكون المغزل.



نهاية الطور التمهيدي



بداية الطور التمهيدي

- الطور الاستوائي (Metaphase):

تصطف سنتروميرات الكروموزومات في المستوى الاستوائي للخلية، كما تظهر خيوط المغزل (Spindle fibers) متصلة بالكروموزومات عند منطقة السنتروميرات وتمتد هذه الخيوط بين قطبي الخلية (Cell poles).

الطور الاستوائي (Metaphase)



- الطور الانفصالي (Anaphase) :

ينقسم كل سنترومير إلى قسمين وتتحرك كروماتيدات كل كروموزوم في اتجاهين متعاكسين نحو القطب المقابل منهما. تستمر حركة الكروماتيدات حتى تصل إلى قطبي الخلية تعتبر كل كروماتيدة الآن كروموزوماً قائماً بذاته. وهكذا يصبح عدد الكروموزومات عند كل قطب مساو لعدد الكروموزومات الأصلي.



بداية الطور الانفصالي (Early Anaphase) ، نهاية الطور الانفصالي (Late Anaphase)

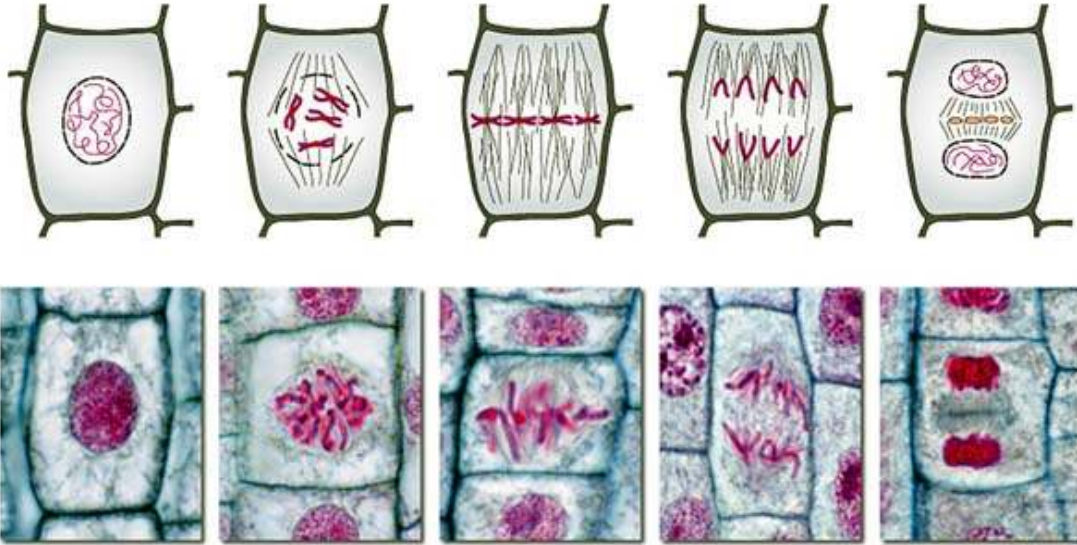
- الطور النهائي (Telophase):

١. تأخذ الكروموزومات في الاختفاء لتتحول إلى كروماتين.
٢. يأخذ الغشاء النووي في الظهور، وتظهر النوية.
٣. ينقسم السيتوبلازم وذلك بتكوين الصفيحة الخلوية (Cell Plate) في مركز

المستوى الاستوائي للخلية. ثم يستمر تكوينها في جميع الاتجاهات نحو سطح الخلية حتى تصل الصفيحة إلى جدار الخلية. ويتم بذلك انقسام الخلية إلى خليتين متساويتين وتسمى هذه العملية بالانقسام السيتوبلازمي (Cytokinesis).



الطور النهائي (Telophase)



البيانات والملاحظات

وصف مبسط للأطوار

الطور الاستوائي : هو عبارة عن مرحلة قصيرة يتم خلالها اصطفاف الكروموسومات على طول خط الخلية النباتية .

الطور الانفصالي : في هذه المرحلة يتم إنقسام السنتروميير ، كما ان الكروموسومات الوليدة تتجه نحو الخلية المعاكسة .

الطور النهائي : هذا الطور يعتبر آخر مرحلة في الانقسام المتساوي ، حيث تصل الكروماتيدات إلى أقطاب الخلية المعاكسة ، وبالإضافة إلى صفيحة خلوية حول النواتين الوليدتين . في هذه الحالة تبدأ الكروموسومات بالتلاشي حيث تفقد شكلها الخيطي وتصبح غير مرئية عند استخدام المجهر الضوئي ، كما إن الخيوط المغزلية تختفي أيضا .

الطور التمهيدي : يتم تكاثف الكروماتيدات في النواة بحيث يمكن رؤيتها تحت المجهر الضوئي على شكل كروموسومات ، كما إن النوية تختفي وتبدأ السنترويولات بالتوجه إلى أقطاب الخلية المعاكسة .

الجدول

المرحلة	العدد الإجمالي لمجموعتك	العدد الإجمالي لباقي الصف	المجموع الكلي	نسبة العدد الكلي	المدة الزمنية للمرحلة
الطور البيئي	٧٠	٧٤	١١٤	%٦١	غير محدد لها فترة زمنية ولكنها أطول فترة
الطور التمهيدي	٢٨	٨٨	١١٦	%٢٤	٦٠.٣٠ دقيقة
الطور الاستوائي	٢	٩٨	١٠٠	%٢	٦٠.٢
الطور الانفصالي	٥	١٢٠	١٢٥	%٤	١٥.٣
الطور النهائي	١٠	١٠١	١١١	%٩	٦٠.٣٠

حل واستنتج

1- أي المراحل في دورة الخلية لاحظتها كثيرا ؟؟؟؟

الطور البيني

2- ما العملية التي يجب أن تحدث قبل بدء الانقسام المتساوي ؟؟؟؟؟؟

الطور البيني وهي مضاعفة كمية البروتينات الموجودة بالخلية ومضاعفة الحامض النووي DNA

3- لماذا تحتاج كل مرحلة من مراحل الانقسام المتساوي وقتا مختلفا عن الأخرى ؟ فسر إجابتك .

بناء على العمل الذي تؤديه هذه المرحلة من حياة الخلية .

4- ماذا تستنتج حول طول المدة الزمنية النسبي التي تمر فيها كل مرحلة ؟

أطول مدة زمنية للطور البيني (من الجدول)

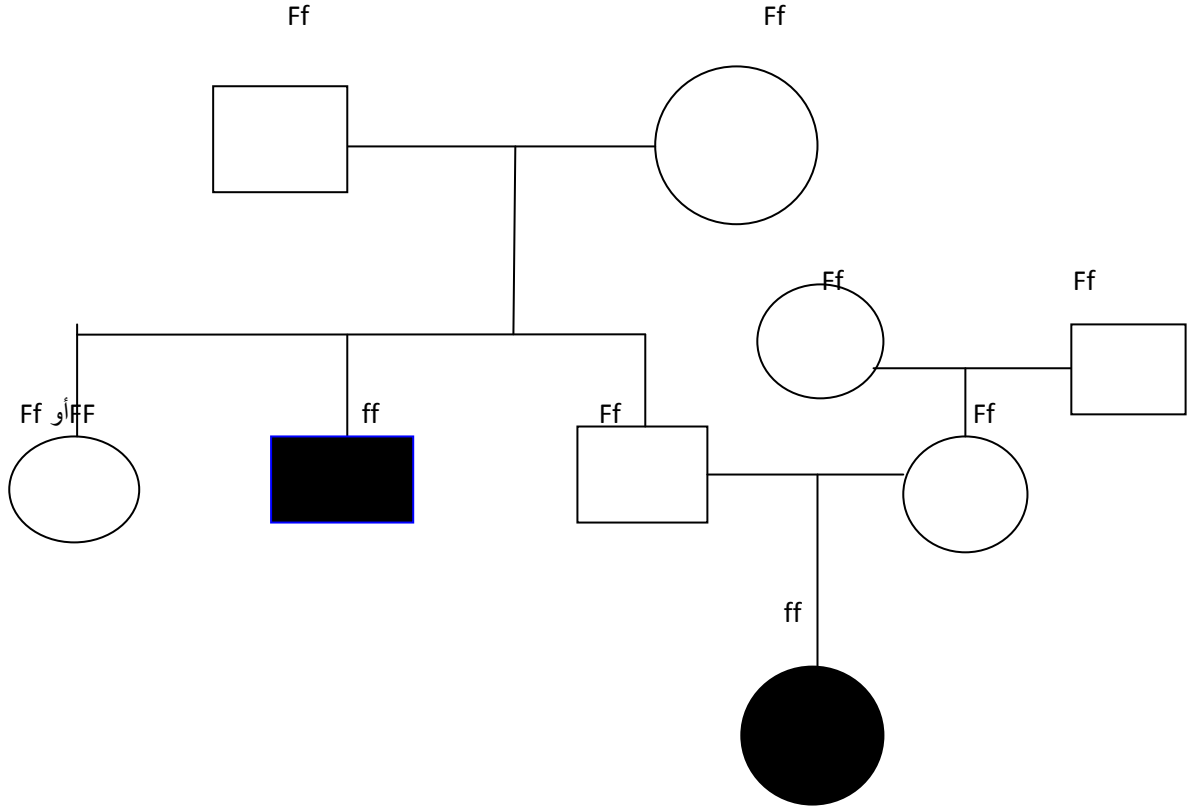
5- ما العلامات التي تدل على انتهاء الطور النهائي ؟ صف أي تراكيب رأيتها وتدل على انتهاء الطور

وجود الصفيحة الخلوية واختفاء خيوط المغزل / نرى الكروموسومات فقدت شكلها الخيطي وأصبحت كروماتيدات غير مرئية وكل منها اتجهت إلى خلية يفصل بينها صفيحة خلوية .



تجربة (4) ما الاحتمالات؟؟؟؟؟

ارسم مخطط سلالة عائلة أحمد وزوجته



نأسف لعدم توضيح الحامل للمرض لعدم معرفتي بعملية تظليل نصف الشكل (جميع الحالات حاملة للمرض ما عدا الأُنثى الأخيرة في الجيل الثاني)

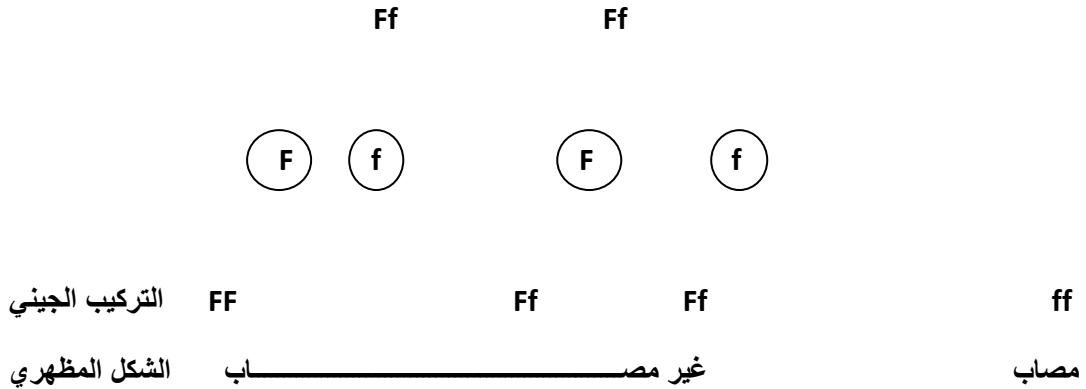
حل واستنتج

1- ما الطرز الجينية لوالدي أحمد؟ وما الطرز الجينية لوالدي زوجته؟

Ff (هجينة) - والدي أحمد والدي زوجته احدهما **FF** و **Ff**

2- لأحمد أيضا أخت تدعى أميرة. ما احتمال أن تكون مصابة بالتليف الكيسي؟؟؟ وضح ذلك .

ليس هناك احتمال أصابتها بالمرض



3- ما احتمال أن ينجب أحمد وزوجته طفلا آخر مصاب بالتليف الكيسي؟؟؟؟؟؟؟؟؟؟؟؟؟؟؟؟؟؟؟؟

ليس هناك احتمال لأصابه طفل آخر بالتليف الكيسي . ولكن هناك احتمال بوجود أطفال حاملين للمرض

4- لماذا تعد المعلومات حول عدة أجيال من أفراد عائلة ما مهمة للتوصل إلى فكرة جيدة حول الحالة الوراثية وضح إجابتك .

لمعرفة التراكيب الجينية للأجيال بطريقة سليمة وأوضح وبالتالي معرفة احتمالات الإصابة بالمرض في الأجيال القادمة .

5- هل تعتقد أن التليف الكيسي مرض وراثي مرتبط بالجنس؟ وضح إجابتك .

لا / لأن التليف الكيسي مرض اختلافي متنحي يحتاج لظهوره جينين متنحين (جينات متماثلة) **ff**

وإذا كان مرض مرتبط بالجنس في هذه الحالة يظهر في النساء دون الرجال لأن الإناث تمتلك كرموسومين

X أما الرجل يمتلك كرموسوم واحد . وهذا لا يكفي لظهور المرض بالذكر .



تجربة 6 من فعلها ؟؟؟؟؟

نموذج البصمات الوراثية

اقترح استبدال نموذج البصمات الموجود بكتاب النشاط بنموذج بصمات أوضح لتحقيق الاهداف بطريقة أبسط

المتهم C	المتهم B	المتهم A	موظف البنك	البنك 3	البنك 2	البنك 1
████████	████████ ████████	████████	████████	████████ ████████ ████████	████████	████████ ████████
████████	████████ ████████ ████████	████████ ████████	████████	████████ ████████ ████████	████████	████████ ████████
████████		████████	████████	████████ ████████	████████	████████ ████████
		████████ ████████ ████████ ████████	████████	████████ ████████	████████ ████████	████████ ████████
████████	████████ ████████	████████ ████████	████████			████████ ████████
████████			████████			████████

الجدول

بيانات DNA			
البنك 3	البنك 2	البنك 1	
√ يوجد شك			المتهم A
		√	المتهم B
لا توجد له بصمات			المتهم C

حل واستنتاج

1- هل هناك أي جريمة من جرائم سرقة البنوك الثلاثة قام بها الشخص نفسه؟؟ فسر كيف تعرف ذلك .

لا / عن طريق البصمات الوراثية الموجودة بالبنوك

2- هل هناك متهم محدد لكل جريمة من جرائم سرقة البنوك الثلاثة؟ وهل يجب إطلاق سراح أي من المتهمين؟ وهل يحتاج المحققون إلى أدلة أكثر حول أي من الحالات الثلاث؟ فسر إجابتك .

لا وإنما هناك متهم B للبنك الأول وشك في المتهم A لسرقة البنك الثالث لوجود شك حول بصماته ويجب إطلاق سراح المتهم C لعدم وجود بصمات في أي من البنوك

3- افترض أن المحققين علموا أن للمتهم A أختا توأما متطابقا . فكيف يغير هذا مسار التحقيق؟

يغير من مسار التحقيق لتطابق البصمات الوراثية لهم ويجب في هذه الحالة جمع الأدلة الكافية حول التوأمين

4- تحليل مصادر الخطأ ما نوع الأخطاء التي يمكن أن تقع عند جمع عينات DNA وفحصها .

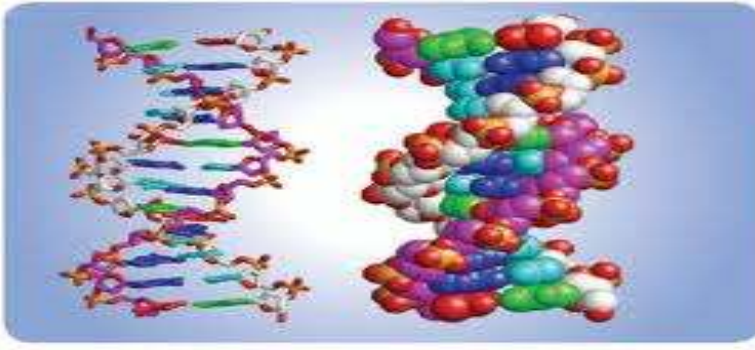
تحدث أخطاء بشرية أو مخبرية، وحدوث أي تلوث تتعرض له العينة يؤثر في دقة النتائج .

5- كيف تقارن التجربة عندما فحصت رموز شفرات المنتجات العالمية UPC بتجربة فحص البصمات الوراثية؟ وكيف اختلفت التجريبتان أو تشابهتا؟

كلاهما تدل على الهوية سواء هوية المنتج أو هوية الشخص وكلاهما يظهر بصورة خطوط عرضية تختلف في السمك والمسافات بينهما بطريقة يسهل قراتها وتخزينها ومقارنتها أما الاختلاف فالبصمة الوراثية ناتجة من فحوصات لـ DNA بأجهزة دقيقة ومعقدة منحها الله عزوجل لـ DNA لتبين الاختلاف بين الأشخاص أما شفرات المنتجات فهي خطوط لتميز المنتج عن غيره مرسومة بدقة بحيث لا يوجد تطابق بين المنتجات من تصميم العقل البشري .

6- لكل متهم بصمة وراثية مختلفة ، فلماذا تختلف البصمة الوراثية كثيرا من شخص إلى آخر ؟

حتى تكون البصمة الوراثية دليل أثبات ونفي لكل فرد ليس فيه جدال بإذن الله تعالى



النموذج DNA

تجربة 5 ما DNA؟؟؟؟

خطوات بسيطة ومجربة للتجربة

أولا ملاحظات التجربة

1- الملح الخال من اليود هو الملح الخشن

2- يمكن أن يشتري الكحول البارد من الصيدلية

3- استخدام الأعواد الخشبية الطويلة لجمع DNA

4- يمكن الاستغناء عن الخلط بعملية الهرس

5- استخدام عينات من الفراولة أو البصل أو الكيوي أو الموز فهي اضبط العينات في الحصول على DNA

6- ممكن عمل التجربة في كأس أو أنبوب اختبار ولكن الأسهل في كأس زجاجي عادي

7- يتغير وزن DNA حسب المجموعات الكروموسومية للكائن الحي هل هي n أم $2n$ أم متعددة المجموعة الكروموسومية

فكلما زادت المجموعة الكروموسومية كلما زادت الكتلة .

8- وضع مزيج الملح والصابون على العينة برفق حتى لا تتكون فقاعات لأن تكون الفقاعات يكسر DNA

9- وضع الكحول الإيثيلي في الثلاجة حتى يبرد أو في الفريزر لمدة نصف ساعة

وإليك خطوات سهلة للتجربة (غير الواردة بكتاب النشاط)

***الادوات :** ١ : مناديل مطبخ متماسكة أو قطعة من الشاش أو ورق ترشيح، ٢ : سائل تنظيف بالليمون

(صابون سائل) ، ٣ : الكحول المثلج (الإيثيلي) ، ٤ : ملح طعام (كلوريد الصوديوم) خشن ، ٥ : عصا خشبية صغيرة ، ٦ : كيس سنداتشات ، ٧ : حبات فراولة .

***الطريقة :** أولا نحضر كوب ماء ونضع فيه بمقدار ربع ملعقة صغيرة ملح طعام ، ثم نضع سائل التنظيف بمقدار حوالي نصف ملعقة صغيرة ثم نقلب بالملعقة حتى يذوب المحلول ويصبح متجانس ومختلط .

ثم نأخذ الكيس ونضع فيه حوالي ٤ حبات فراولة وبعد ذلك نضع في الكيس مع الفراولة نصف كوب السائل المتجانس الذي تم خلطه جيدا برفق.

ثم نقوم بسحق ما وضعناه في الكيس وبعد فركه جيدا نأتي بالمنديل الورقي أو ورق الترشيح ثم تثبيها ونشكلها مثل الاسطوانة أو المرشح ونضعه في كوب فارغ كمرشح تنقيط أو تصفية للمسحوق في الكوب ونسكب الكيس في المرشح الموضوع في الكوب الفارغ لناخذ السائل فقد ونزيل الكتل ، ثم نعصره جيدا و نقوم برمي ورقة الترشيح والموجود فيه.

ثم نحضر الكحول ونسكب كوب الكحول في المستخلص الذي تم عصره ولكن بشكل مائل يتم السكب وعلى جدران الوعاء وبحذر حتى يترسب الحمض النووي DNA في الأسفل الكوب على شكل خيوط هلامية بيضاء نحضر العصا لتجمع الخيوط على العصا وهذا هو الحمض النووي للفراولة .



النتائج :

- 1_ الحصول على خيوط طويلة و هي DNA .
- 2_ رؤية خط فاصل بين الايثانول و محلول الفراولة و هو DNA .
- 3_ كمية DNA في الفراولة كبيرة لأنه ثلاثي العدد الكروموسومي .

حل واستنتج

1- لماذا لا نستطيع استخلاص المكونات الأخرى للمخلوق الحي بالسهولة نفسها التي يمكن أن نستخلص فيها DNA حسب اعتقادك ???

لأن DNA غير مرتبط مع مكونات خلوية كثيرة وممكن لأنه مركب لا يتكسر بسهولة

2- هل كان DNA الذي جمعته على شكل خثرات أم خيوط ؟ فسر لماذا حصل ذلك .

على شكل خيوط ، ناتجة عن تفكك الكروماتيدات المكونة للكروموسومات بعد نزع الهستونات (البروتينات) المرتبطة معها

3- احسب كم المسافة التي يصلها جزئ DNA من جميع خلايا الجسم من الأرض إلى القمر ثم العودة إلى الأرض إذا استخلص وربطت خيوطه طرفاً إلى طرف (علماً بأن كل خلية بشرية تحتوي على نحو 2m من DNA ويتكون جسم الإنسان المكتمل النمو 60 تريليون خلية والمسافة بين الأرض والقمر 380,000Km تحويل المتر إلى كم

$$(002, 60 \times \text{تريليون}) = 1,2 \times 10,0000000000000000 \text{ كم}$$

$$\text{المسافة ذهاباً وإياباً} = 2 \times 380,000 = 760,000 \text{ كم}$$

4 - لقد قمت بتحليل البروتين وتفكيكه كجزء من طريقة العمل فما الدوران الأساسيان للبروتينات في المخلوقات الحية؟؟

تكوين الأغشية الخلوية - وبناء الأحماض النووية -

5- ما خصائص المنظفات الكيميائية (المواد الصابونية) التي تجعل من إجراء هذه التجربة ممكناً؟؟

إذابتها للدهون المكونة للأغشية الخلوية والغلاف النووي وبالتالي يتحرر DNA

6- فكر في كمية المادة التي بدأت بها كيف تتغير عملية استخلاص DNA إذا كنت تتعامل مع كمية صغيرة .

كل ما كانت الكمية كبيرة كلما كانت كمية DNA كبيرة وإذا تعاملت مع كمية صغيرة صعب عليك جمع DNA

7- ما مصادر الخطأ في تجربتك؟

ممكن نوع المنظف - عدم تبريد الكحول

يمكن تلافي الأخطاء بمتابعة الملاحظات .