

تو عرب

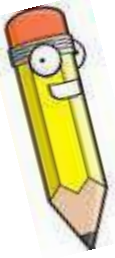
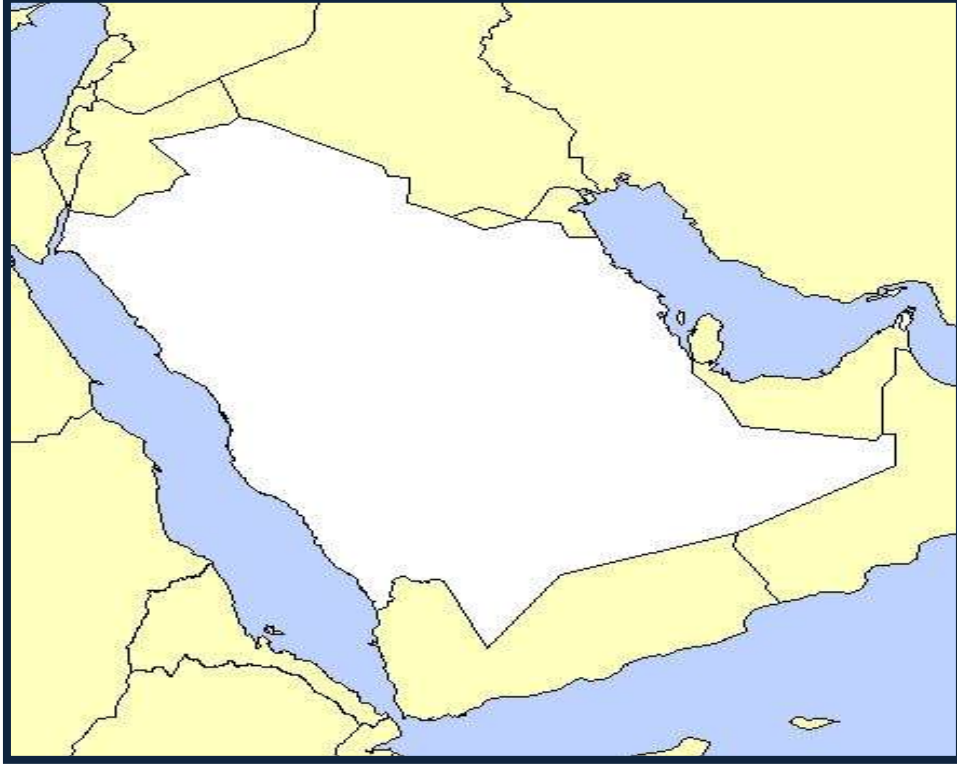
موقع تو عرب التعليمي

www.arabia2.com/vb

الملاح العامة لدول شبه جزيرة العرب (1)



حددي على الخارطة دول شبه جزيرة العرب: _



أكملي:

1- تقع شبه جزيرة العرب في من قارة

2- لدول شبه جزيرة العرب أهمية لأنها تطل على مضيقي

.....

و اللذين يؤديان دوراً تجارياً عالمياً.

3- دول شبه جزيرة العرب تربط قارات العالم

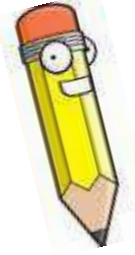

الثلاث.....و.....و.....



الملاح العامة لدول شبه جزيرة العرب (2)



حددي على الخارطة المسطحات المائية التالية التي تطل على دول شبه جزيرة العرب:ـ



أكملي :

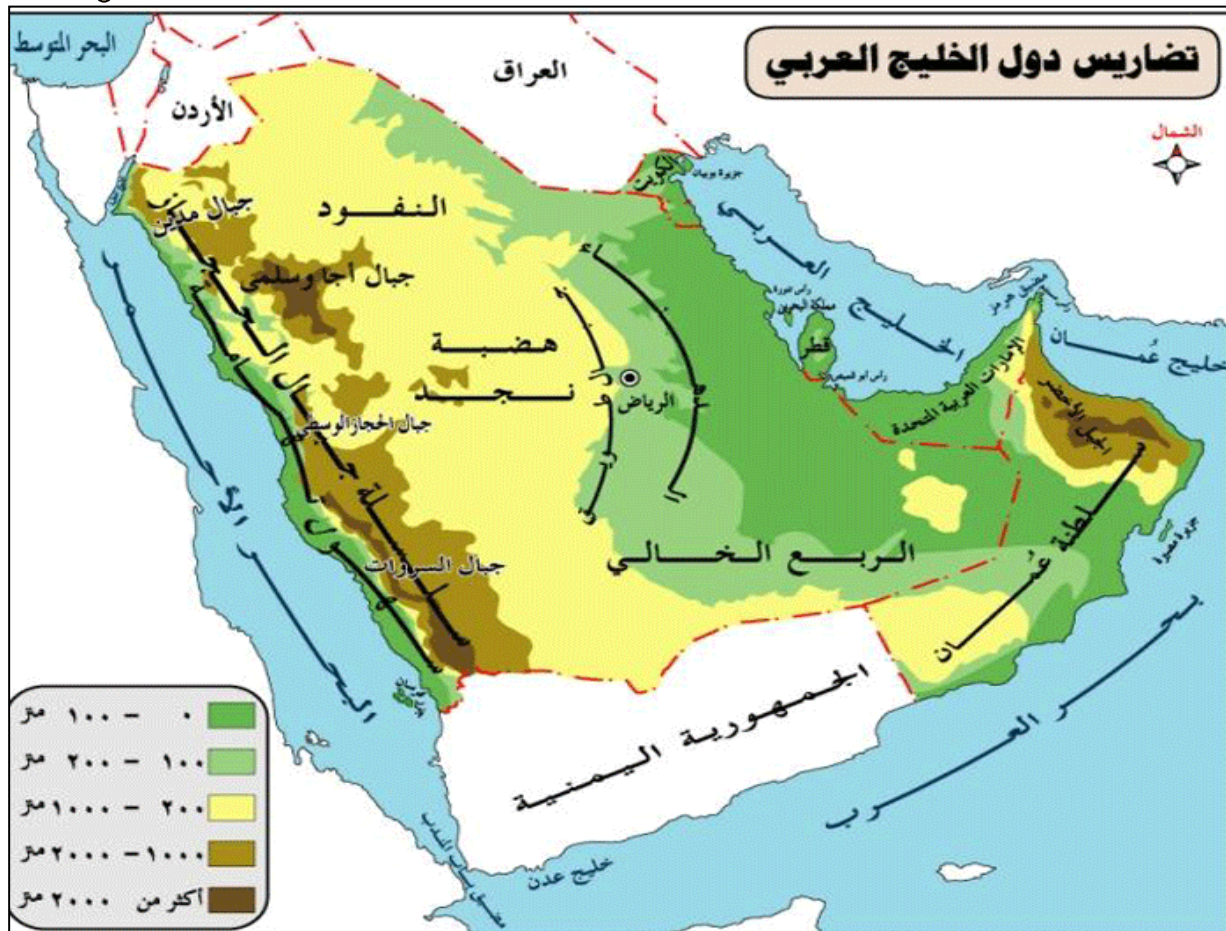
- 1- اصغر دول شبه جزيرة العرب مساحة هي
- 2 - اكبر دول شبه جزيرة العرب مساحة هي



صلي بين الدولة والعاصمة :

الدولة	العاصمة
المملكة العربية السعودية	مسقط
الكويت	المنامة
اليمن	الرياض
الإمارات العربية المتحدة	الدوحة
قطر	الكويت
البحرين	ابوظبي
سلطنة عمان	صنعاء

تضاريس دول شبه جزيرة العرب



من الخارطة .. استخرجي :-

	مناطق رملية
	سلسلة جبال موازية للبحر الأحمر
	سلسلة جبال تشرف على خليج عدن
	هضبة

مناخ دول شبه جزيرة العرب



أنواع الرياح في شبه جزيرة العرب



مناخ شبه جزيرة العرب

مناخبوجه عام

العوامل المؤثرة في مناخ
شبه جزيرة العرب

.....

.....

الاسم

السؤال الأول : اختاري الإجابة الصحيحة :

1- دولة قطر : _

أ-جزيرة ب-مجموعة جزر ج- شبه جزيرة

2-تعد من اكثر الظاهرات التضاريسية اتساعا في شبه جزيرة العرب : _

أ- الجبال ب- الهضاب ج - السهول

3- يمتد البحر الأحمرشبه جزيرة العرب : _

أ-غرب ب- شرق ج- جنوب

4- تمتد سهول تهامة على السواحل:

أ- الغربية ب- الشرقية ج -الجنوبية

السؤال الثاني : على :-

1- تنوع المناخ في شبه جزيرة العرب

السؤال الثالث :- صنفى المظاهر التضاريسية التالية في الجدول

تهامة

الاحساء

الدهناء

حضر موت

كثبان رملية

سهول

هضاب

جبال

السؤال الرابع : أكملى الفراغات التالية :-



1- تشتمل شبه جزيرة العرب على دول منها

.....و.....و.....


2- وطني جزء من الواقعة في من قارة

.....

3- تقل درجة الحرارة في المرتفعات و تزداد في



السؤال الخامس : حددي اسم دولتين تشتركان في المسطح المائي التالي :



البحر الأحمر

.....

.....



السؤال السادس :- حددي دلالات الأرقام على الخريطة امامك :

- اليمن () البحر الأحمر () المملكة العربية السعودية () بحر العرب ()
مضيق باب المندب () الخليج العربي ()

