

المملكة العربية السعودية

وزارة التعليم

إدارة التعليم بمحافظ عسير

مدرسة: الكسائي الابتدائية

الدرجة : \_\_\_\_\_

توقيع ولي الأمر :




### اختبار الفترة الأولى

الصف : الأول الابتدائي

المادة : رياضيات

اسم الطالب: .....

السؤال الأول: صل بين عناصر المجموعتين، ثم اكتب عدد عناصر كل مجموعة أمامها، وارسم دائرة حول المجموعة ذات العناصر الأكثر.



السؤال الثاني : اكتب عدد الأشكال التالية في المربعات المجاورة لها



السؤال الثالث: اكتب الأعداد مرتبة من ١ إلى ٥ في الجدول التالي:

--	--	--	--	--



الصف /

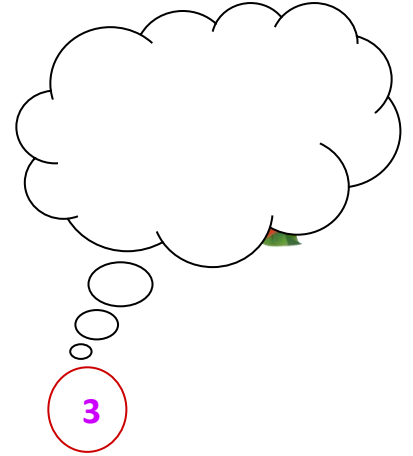


الاسم /

## أسئلة اختبار مادة الرياضيات للصف الأول ابتدائي الفترة الثانية


السؤال الأول : أكتب ترتيب ما تحته خط



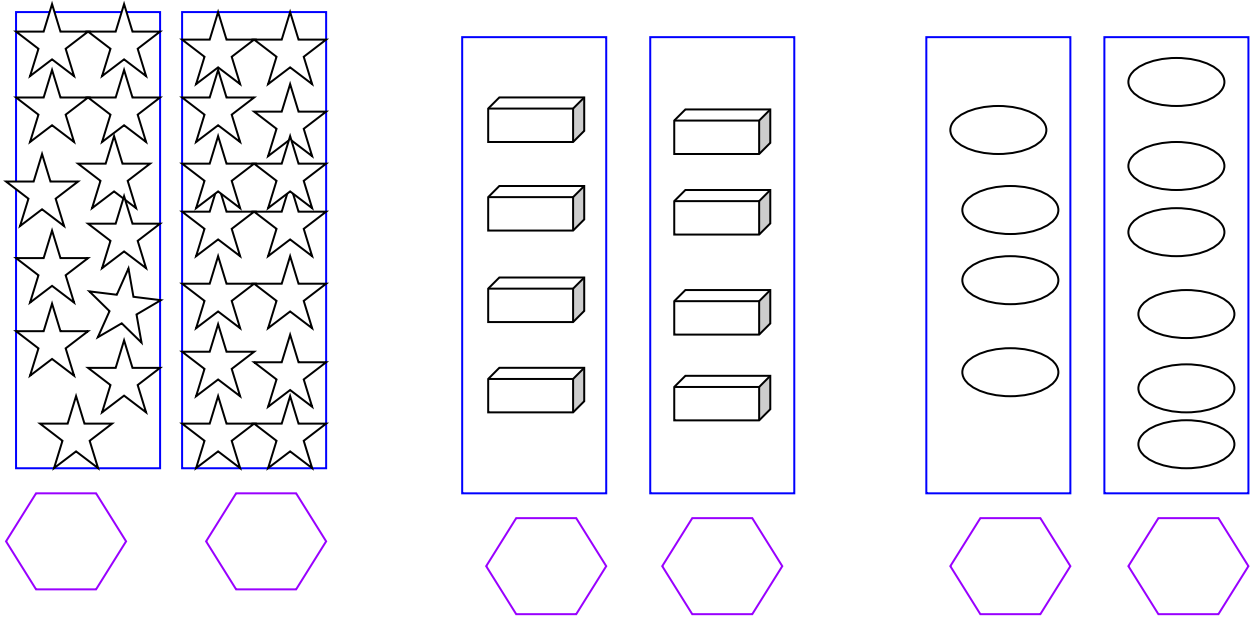
السؤال الثاني : أكتب العدد المفقود ، وأكمل رسم الناقص :



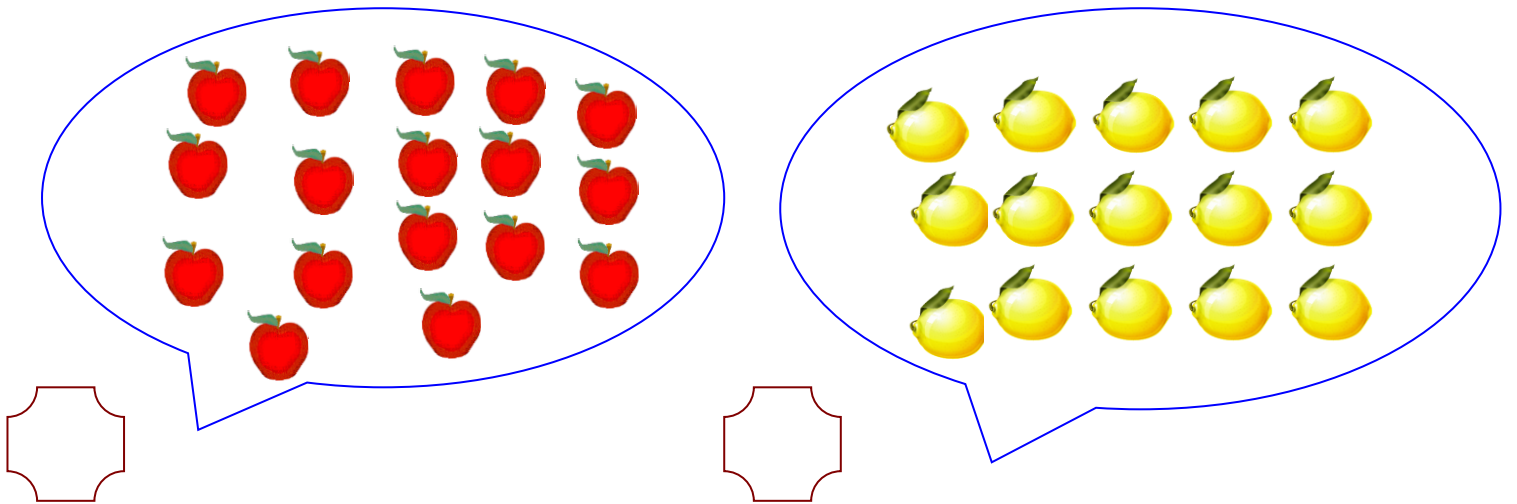
السؤال الثالث : أملئ الفراغات بالعدد الناقص :



السؤال الرابع : عد وأكتب العدد ، ثم أحصي المجموعة الأكثر ، وضع علامة x على المجموعة الأقل ، وعلامة ✓ على المجموعة التي لها نفس العدد



السؤال السادس : عد وأكتب العدد ، ثم ضع علامة x على المجموعة الأقل :



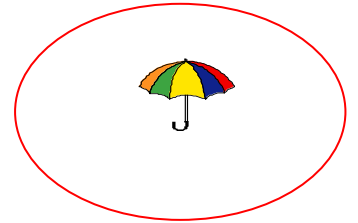
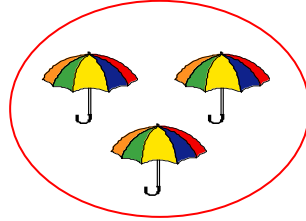


وزارة التعليم  
Ministry of Education

المملكة العربية السعودية  
وزارة التربية والتعليم  
إدارة التربية والتعليم بمحافظة الطائف  
مدرسة الخمسون الابتدائية


الصف /

الاسم /




=


+



+



+



اطرح ما يلي :