



الوحدة الثانية السكان وال عمران

■ السكان :


- أعداد السكان
- توزيع السكان
- تركيب السكان

■ الزيادة السكانية :

- ١- الزيادة الطبيعية (مواليد - وفيات).
- ٢- الزيادة غير الطبيعية (الهجرة).

■ أنواع العمران :

- ريفي.
- حضري.



الدرس التاسع: أعداد السكان



الشكل (٩٢)

نشاط

• أتأمل في الشكل (٩٢) ثم أجيب:

ما الذي أراه في الصورة؟

نرى في الصورة تجمعا سكانيا كبيرا على مجموعة من السكان في دولة واحدة

ما الذي تدل عليه الصورة؟

الكثافة السكانية العالية في هذه الدولة

أضع عنواناً للصورة.

السكان سلاح وجريمة

نحن جميعاً في هذه المدرسة - نمثل مجموعة صغيرة من
سكان وطننا، الذي يمثل سكانه جزءاً من سكان العالم.

- هل نعرف معنى كلمة سكان؟

تشمل عناصر الدراسات السكانية على:

العدد التوزيع التركيب الزيادة

الشكل (٩٣)

السكان هم: مجموعة من البشر، يستقرون في مكان محدد،
وزمن معين، تربطهم روابط متعددة، ويمثل السكان عاملاً
حيوياً داخل الدولة التي ينتمون إليها، لذلك تهتم معظم دول
العالم بدراسة السكان، ومعرفة خصائصهم، وتعد دراسة
السكان أحد فروع الجغرافيا البشرية - الشكل (٩٣).



من فروع الجغرافيا البشرية:

الجغرافيا الطبية	الجغرافيا السكانية	الجغرافيا التاريخية
الجغرافيا السلوكية	الجغرافيا العمرانية	الجغرافيا السياسية
الجغرافيا السياحية	الجغرافيا الاقتصادية	الجغرافيا الاجتماعية

نشاط

أ- ماذا نعني بقولنا: مكان محدد؟

إقليم أو مدينة أو منطقة أو دولة واحدة.

ب- أستنتج العلم الذي يهتم بدراسة السكان.

جغرافية السكان.

التعداد السكاني في المملكة العربية السعودية:

عزيزي رئيس الأسرة:

إن إدلاءك ببيانات دقيقة وشاملة عن أفراد أسرتهم الكريمة، وعن المسكن الذي تقيم فيه؛ هو من الأسس والركائز المهمة لأي تخطيط علمي سليم، ورغبة من الدولة في توسيع مشاريع التنمية الاقتصادية، والاجتماعية لتوفير المزيد من الرخاء لجميع المواطنين؛ فقد صدر قرار مجلس الوزراء المؤقر رقم (٢٢٥) وتاريخ ١٥/٩/١٤٢١هـ القاضي بقيام مصلحة الإحصاءات العامة في وزارة الاقتصاد والتخطيط، بتنفيذ تعداد عام للسكان في مطلع العام الدراسي (١٤٢٥هـ).

مع تحيات

مصلحة الإحصاءات العامة.

الشكل (٩٤)



نشاط

أقرأ الرسالة التي سبقت عملية التعداد السكاني في وطننا - الشكل (٩٤)، ثم أستنتج العام الذي حدث فيه آخر تعداد سكاني في بلادنا:

..... ١٤٢٥ هـ

تقويم

س١ ما المقصود بكل من :

أ السكان: هم مجموعة من البشر يستقرون في مكان محدد وزمن معين تربطهم روابط متعددة.

ب التعداد السكاني: هو حصر شامل لكل الأفراد في الدولة مع جمع معلومات عن أهم خصائصهم في فترة زمنية محددة. أكتب في حدود سطرين عن أهمية التعداد السكاني.

زيادتهم، نقصانهم، نسبة تركيزهم، عدد القوى العاملة.

والمنتجة فيهم، وضع الخطط المستقبلية لتأمين فرص العمل للسكان وتوفير الخدمات لهم كالتعليم والصحة.

س٢ أناقش مع مجموعتي أهم الروابط التي تجمع سكان الدولة ثم أسجلها هنا.

(الدين - اللغة - الجنس - المكان - العلاقات الاجتماعية).

س٣ أ أستنتج اثنتين من فوائد التعداد السكاني.

(١) توسيع مشاريع التنمية الاقتصادية والاجتماعية لتوفير الرخاء للمواطن - توفير البيانات اللازمة للدول.

(٢) وزارة الاقتصاد والتخطيط.

ب أسمي الوزارة المسؤولة عن التعداد السكاني في بلادنا

..... وزارة الاقتصاد والتخطيط.

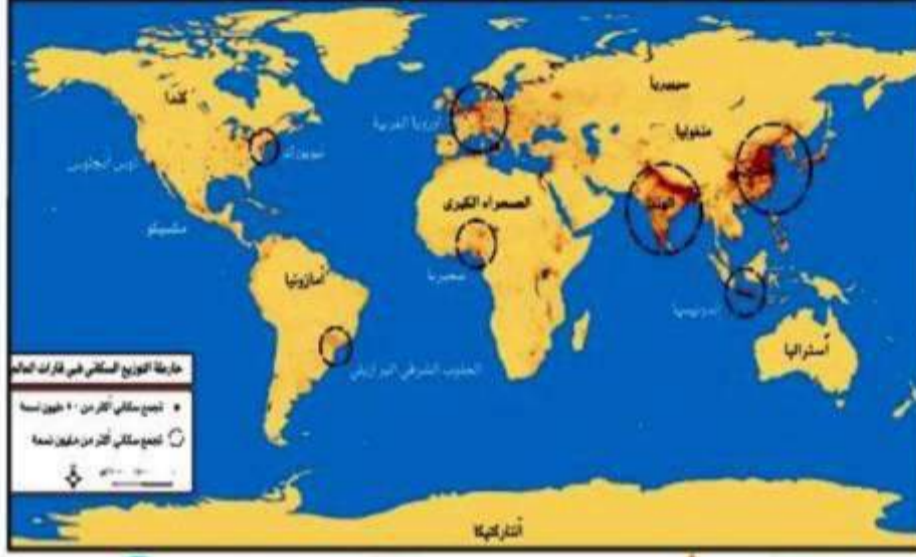
س٤ أعبر عن شعوري تجاه جهود موظفي التعداد السكاني في وطني.

احترام عملهم وجهودهم وتقديرها وإعطائهم معلومات صحيحة ودقيقة لأهميتها في التخطيط الشامل للدولة في جميع المجالات.

س٥ أعلل: اهتمام حكومة وطني (المملكة العربية السعودية) بالتعداد السكاني.

تلبية احتياجات الدولة في توفير البيانات الإحصائية الأساسية كعدد السكان وخصائصهم وتوزيعهم الجغرافي وذلك لأهميتها في التخطيط الشامل على مستوى الدولة.

الدرس العاشر:
توزيع السكان



الشكل (٩٥) خارطة التوزيع السكاني في قارات العالم

- ما المقصود بالتوزيع السكاني؟
- ما أهمية دراسة التوزيع السكاني؟
- تسهم دراسة التوزيع السكاني في رسم خطط التنمية الشاملة، وتوزيع الخدمات العامة، بناء على الاحتياجات المختلفة لكل تجمع سكاني. والتوزيع السكاني هو: نصيب كل وحدة جغرافية من السكان؛ كالقارات والدول والمناطق الإدارية.

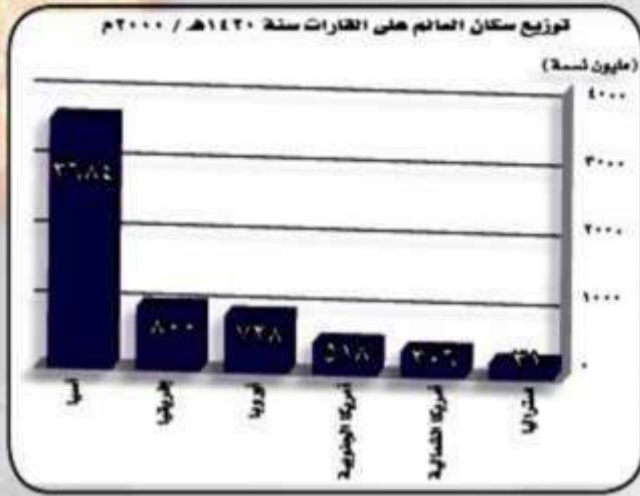
توزيع السكان في العالم:

قال تعالى: ﴿مَنْ لِي حَعْلَكُمُ الْأَرْضَ دَنُورًا فَمَشُونَهَا مَتَّكِبِينَ وَكُفُّوا أَيْدِيَهُمْ وَأَنزِلُوا إِلَيْنَا الْحَصِينَ﴾^{١٥} يتجاوز عدد سكان العالم في الوقت الحالي (٦) مليارات نسمة، يتوزعون على سطح الأرض توزيعاً غير منتظم، حيث يتفاوت العدد من قارة إلى أخرى، ومن دولة إلى أخرى، ومن منطقة إلى أخرى داخل الدولة، فمثلاً يتركز السكان في قارة آسيا، ويقل عددهم في أستراليا، ويلاحظ تركيز سكان وطننا في مناطق معينة، مثل منطقة الرياض، ومنطقة مكة المكرمة، والمنطقة الشرقية، ويقفون في مناطق أخرى.

نشاط

ألاحظ الشكل (٩٥) ثم أكمل ما يلي:

- القارة الأكثر سكاناً هي قارة آسيا والأقل سكاناً هي قارة أستراليا
- يتركز السكان في النصف الشمالي من العالم.
- ما عوامل التركيز السكاني؟
- ارتفاع معدل المواليد وانخفاض معدل الوفيات – ارتفاع الوعي الصحي
والرعاية الطبية



الشكل (٩٦)



الشكل (٩٧)

أهم عوامل التركيز السكاني:

١. مظاهر السطح (السهول الفيضية والبركانية):
 - سهول فيضية على ضفاف الأنهار، مثل: شرق الصين، ودلتا نهر النيل.
 - سهول بركانية ترويتها الأمطار، مثل: جزيرة جاوة في إندونيسيا.
٢. الموقع الجغرافي (المواقع الاستراتيجية):
 - مناطق اتصال، مثل: مدينة إستانبول في تركيا.
 - مناطق ساحلية، مثل مدينة بيروت عاصمة لبنان.
٣. الثروات المعدنية ومصادر الطاقة (المناطق الاستثمارية):
 - مناطق استخراج معادن صناعية أولية، مثل جنوب شرق أستراليا.
 - مناطق صناعة تحويلية، مثل: اليابان - غرب أوروبا.
٤. المناخ (المناخ المعتدل):
 - غرب أوروبا وشرق الولايات المتحدة.
 - مناخ موسمي: شرقي وجنوب شرق آسيا.

نشاط

ألاحظ الشكل (٩٦) ثم:

- أجمع عدد السكان في القارات، ما عدا سكان قارة آسيا: **٢,٣٨٣ مليون نسمة**
- أقرن العدد الذي حصلت عليه بعدد سكان قارة آسيا:
- يزيد عدد سكان قارة آسيا على مجموع عدد سكان القارات.
- ماذا أستنتج؟

أن أكثر من نصف سكان العالم يعيشون في قارة آسيا.

نشاط

من خلال الشكل (٩٧) أرتب مناطق وطني، من حيث عدد السكان، ترتيباً تصاعدياً:

الحدود الشمالية - الجوف - الباحة - نجران - حائل - تبوك - القصيم - جازان
المدينة - عسير - الشرقية - مكة - الرياض.

تقويم

س١ أعرف التوزيع السكاني.

هو نصيب كل وحدة جغرافية من السكان كالقارات والدول والمناطق الإدارية

س٢ أبتن سبباً واحداً لدراسة التوزيع السكاني.

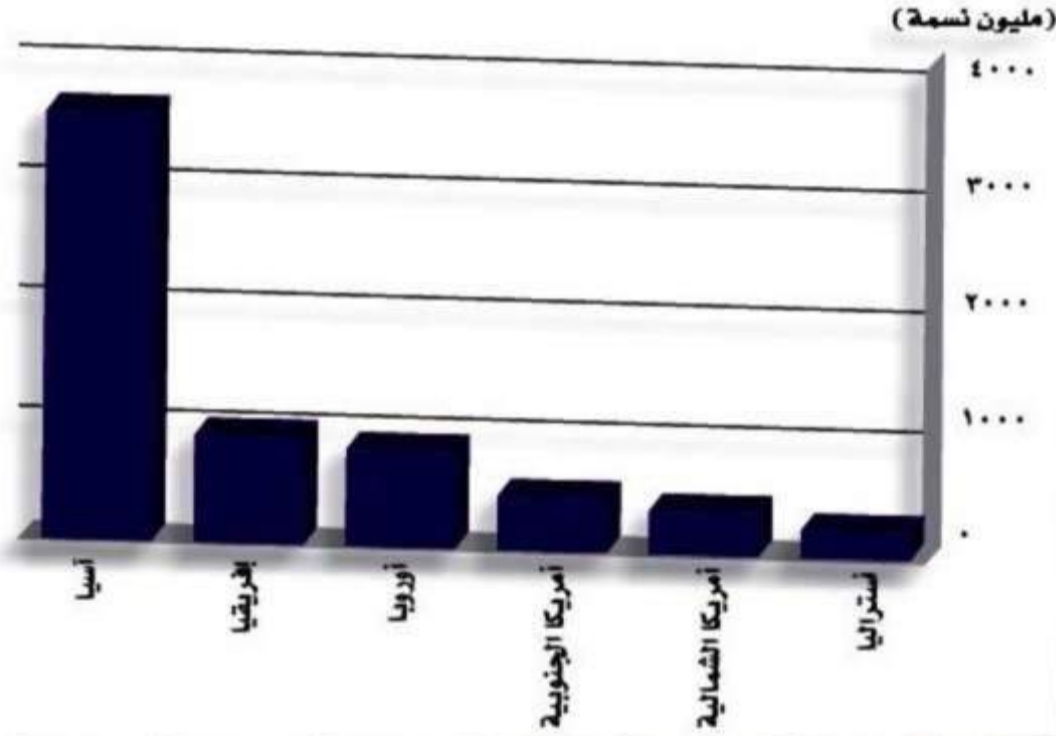
تحديد التركز السكاني، تحديد وظائف المدن، وتوزيع الخدمات وفقاً لحاجة كل تجمع سكاني.

س٣ أستعين بالشكل (٩٥) ثم أضع علامة (✓) أمام العبارة الصحيحة وعلامة (x) أمام

العبارة الخاطئة:

- أ يتوزع السكان على الخارطة توزيعاً منتظماً. (x)
- ب من الدول المزدحمة بالسكان في قارة إفريقيا دولة السودان. (x)
- ج أعيش في القارة الأكثر سكاناً. (✓)

توزيع سكان العالم على القارات سنة ١٤٢٠هـ / ٢٠٠٠م



--	--	--	--	--	--

س٤) أرّب القارات فيما يلي تصاعدياً، حسب عدد السكان، مسترشداً بالأعمدة البيانية التالية:

أستراليا- أمريكا الشمالية- أمريكا الجنوبية- أوروبا- إفريقيا- آسيا.

س٥) أحدّد أهم العوامل التي أسهمت في توزيع السكان في العالم.

(١) مظاهر السطح (السهول الفيضية والبركانية).

(٢) الموقع الجغرافي (المواقع الاستراتيجية).

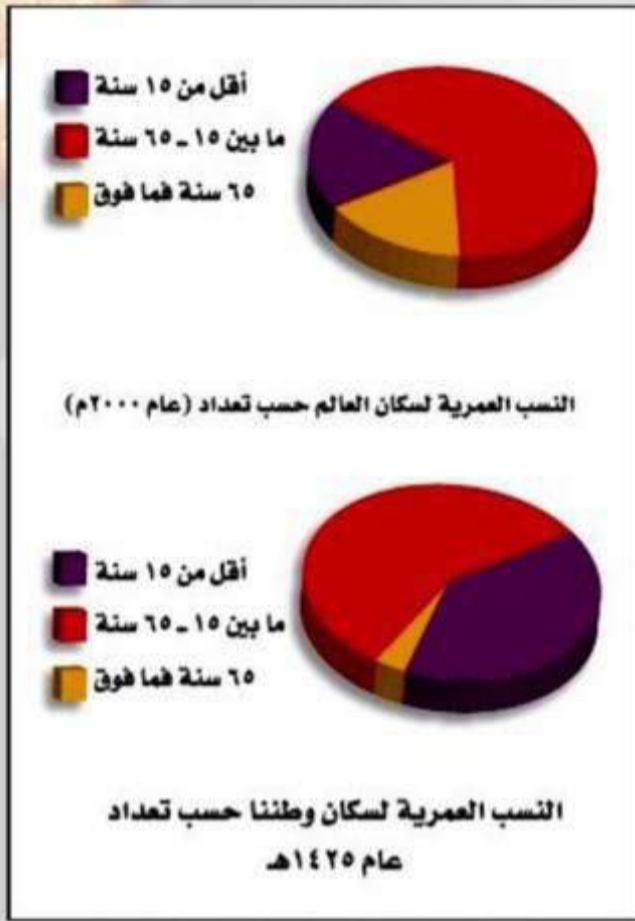
(٣) الثروات المعدنية ومصادر الطاقة.

س٦) أذكر اثنتين من مناطق التركيز السكاني في وطني المملكة العربية السعودية.

.....منطقة الرياض، منطقة مكة المكرمة، المنطقة الشرقية.

س٧) أعلّل قلة السكان في الربع الخالي من وطني.

.....لأنها منطقة صحراوية قليلة الأمطار.



الشكل (٩٩)

نشاط

أتأمل الشكل (٩٩) ثم أجيب:

- أقل النسب العمرية من سكان العالم هم من فئة

الأطفال

- أكبر نسبة من سكان العالم هم من فئة:

الشباب

- أقل النسب العمرية في المملكة هم من فئة:

كبار السن

- لماذا تهتم الدول بجمع البيانات عن التركيب النوعي والعمرى فيها؟

في عصر المعلومات كل المعلومات مفيدة في اتخاذ القرارات وتنظيم الخطط

فوائد جمع بيانات التركيب السكاني بنوعيه (النوعي والعمرى):



المجتمعات الفتية (الشابة): هي التي ترتفع بها نسبة صغار السن، وتنخفض بها نسبة كبار السن بين السكان، مثل: وطننا. المجتمعات الهرمة (المسنّة): هي التي تنخفض بها نسبة صغار السن، وترتفع بها نسبة كبار السن من بين سكانها، مثل: دولة السويد.

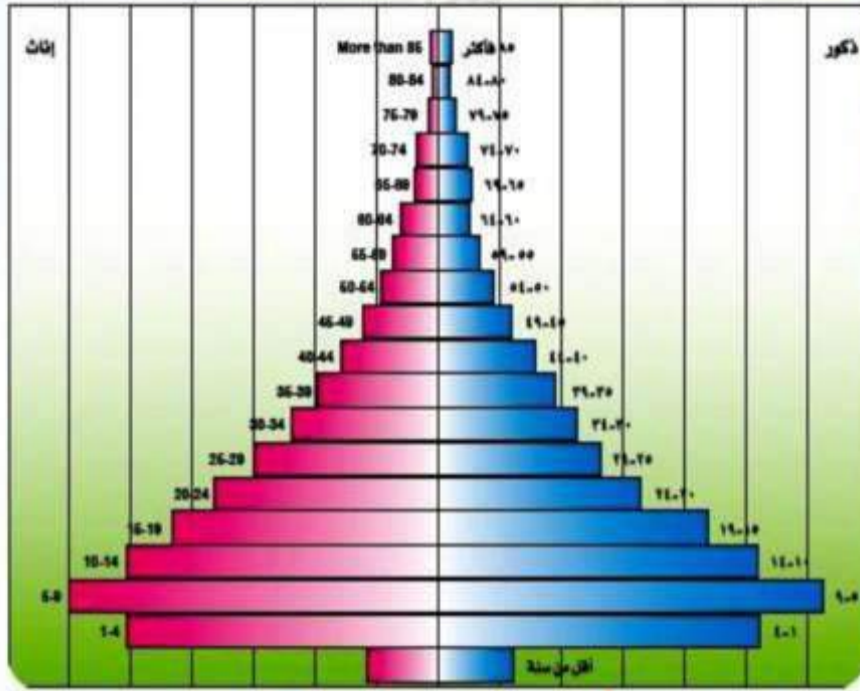
١. تفيد بيانات التركيب العمرى في:

- معرفة مدى إنتاجية الدولة.
- تصنيف المجتمعات إلى (فتية أو هرمة).

٢. تفيد بيانات التركيب النوعى في:

- معرفة العمليات الديموغرافية الثلاث (المواليد - الوفيات - الهجرة)، ومدى العلاقة بينها.
- معرفة نسبة عدد الذكور والإناث حيث ينعكس ذلك على العديد من الجوانب الاجتماعية والاقتصادية.

الهرم السكاني للسكان السعوديين من واقع البحث الديموغرافي موزعين حسب الجنس والفئات العمرية لعام ٢٠٠٠م



يمكن تمثيل التركيبي النوعي والعمري للسكان، وذلك في أشكال بيانية تُسمى الأهرام السكانية، توضح طبيعة التركيب العمري والنوعي للسكان - الشكل (١٠٠).

الشكل (١٠٠)



أتأمل الشكل (١٠٠) ثم أجيب:

• أوجد العلاقة بين شكل الرسم البياني والمسمى الذي يُطلق عليه:

الشكل الهرمي

• أذكر الفئات العمرية الظاهرة في الهرم السكاني:

فئة صغار السن - فئة المنتجين (متوسطى السن) - فئة كبار السن.

• أعلل ارتفاع نسبة صغار السن في المملكة العربية السعودية:

بسبب اتباع تعاليم الدين الإسلامي التي تحث على كثرة التوالد وزيادة العناية الصحية بالأم الحامل والمواليد التي أدت إلى قلة الوفيات.

ينقسم الهرم السكاني إلى نوعين هما:

١- **الهرم العددي:** ويعتمد على عدد السكان في الفئات العمرية مباشرة، دون تحويلها إلى نسبة مئوية.

٢- **الهرم النسبي:** يعتمد على نسب السكان في الفئات العمرية المختلفة؛ وتحسب أعداد السكان في الفئات العمرية - منسوبة إلى إجمالي السكان.

تقويم

س١ أعرف كلاً من:

- أ) التركيب النوعي: هو تصنيف السكان إلى ذكور وإناث
ب) التركيب العمري: هو بنية السكان حسب فئات الأعمار المختلفة

س٢

أ) أصنف سكان العالم إلى الفئات العمرية الثلاث:

- (١) صغار السن (٠-١٤ سنة) متوسط السن (١٥-٦٤ سنة) كبار السن (٦٥ فما فوق).

ب) أحدد الفئة المنتجة:

- (٣) الفئة المنتجة هي متوسطي السن (١٥-٦٤)

س٣ أوجد العلاقة بين معرفة التركيب العمري للدولة وبين مدى إنتاجية الدولة:

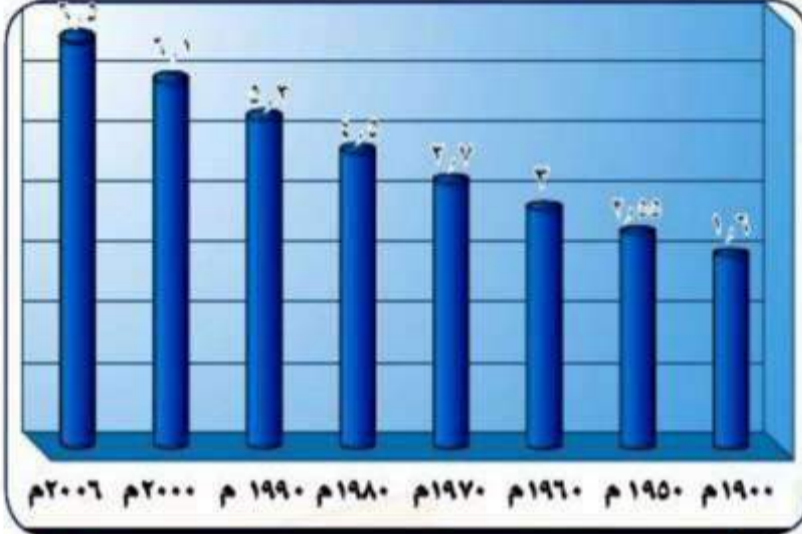
كلما زادت نسبة متوسطي السن في الدولة وهي الفئة العاملة كلما زاد إنتاج الدولة في جميع المجالات.

س٤ أقرأ الشكل (١٠٠) ثم أحدد الفئة العمرية التي تشكل الأغلبية في وطني.

فئة صغار السن.

أتعرف إلى المزيد عن التركيب
السكاني من خلال القرص المدمج.

الدرس الثاني عشر: الزيادة السكانية



الشكل (١٠١) أعداد سكان العالم ما بين عامي (١٩٠٠ - ٢٠٠٦)

كان السكان في الماضي يتزايدون ببطء شديد لعدة أسباب منها: كثرة الأمراض، وانتشار الأوبئة، وفي المئة سنة الأخيرة - بعد التقدم الصحي والاقتصادي - شهد العالم زيادة سكانية هائلة ومستمرة، تختلف من مكان لآخر.

ترجع هذه الزيادة وكذا الاختلاف في أعداد السكان لعاملين رئيسيين هما: أولاً: الزيادة الطبيعية (مواليد، وفيات). ثانياً: الزيادة غير الطبيعية (الهجرة).



ألاحظ الشكل (١٠١) ثم أجيب:

- أيهما أكثر سرعة: زيادة السكان قبل سنة (١٩٧٠م) أم بعدها؟
بعد سنة (١٩٧٠م).
- أحسب عدد الزيادة المتوقعة لسكان العالم عام (١٤٣٠هـ) (٢٠٠٩م)، إذا علمت أنهم يزيدون (٧٧) مليون نسمة في السنة: $2009 - 2006 = 3$ سنوات
العدد المتوقع لزيادة عدد سكان العالم: $77,000,000 * 3 = 231,000,000$ مليون نسمة.
- برأيك، ما العامل الذي أدى إلى الزيادة السريعة في عدد سكان العالم؟
الزيادة الطبيعية.



الشكل (١٠٢) المواليد في أحد مستشفيات الولادة والأطفال

ألاحظ الشكل (١٠٢) ثم أجيب:

١- أقرن بين معدل المواليد والوفيات في الدول النامية والدول المتقدمة:

المواليد في الدول النامية أكثر من الدول المتقدمة (أو المواليد في الدول المتقدمة أقل من الدول النامية).

الوفيات في الدول النامية أكثر من الدول المتقدمة (أو الوفيات في الدول المتقدمة أقل من الدول النامية).

٢- ابين الدول التي تعد ذات أثر على الزيادة الطبيعية في العالم:

السعودية - مصر - الهند

٣- أسجل المشكلة المتوقعة من استمرار هذه الزيادة في الدول النامية: زيادة الكثافة السكانية

• زيادة أعباء الدولة في توفير الخدمات الصحية والاقتصادية والتعليمية وغيرها.

• تدهور المستوى الصحي والاقتصادي والتعليمي للدولة في حال عدم تمكنها من مواجهة هذه الزيادة.

BASIC VACCINATION SCHEDULE جدول التطعيمات الأساسية

التطعيم Vaccine	موعد الزيارة Visit
الدرن (B.C.G) التهاب كبدي (ب) (Hepatitis B)	عند الولادة (At Birth)
شلل الأطفال (Oral Polio) الثلاثي البكتيري (DTP) مستديمة نزلية (Hib) التهاب كبدي (ب) (Hepatitis B)	عمر شهرين (2 Months)
شلل الأطفال (Oral Polio) الثلاثي البكتيري (DTP) مستديمة نزلية (Hib)	عمر ٤ أشهر (4 Months)
شلل الأطفال (Oral Polio) الثلاثي البكتيري (DTP) مستديمة نزلية (Hib) التهاب كبدي (ب) (Hepatitis B)	عمر ٦ أشهر (6 Months)
ثلاثي فيروسي MMR	عمر ١٢ شهراً (12 Months)
شلل الأطفال (Oral Polio) الثلاثي البكتيري (DTP) مستديمة نزلية (Hib)	عمر ١٨ شهراً (18 Months)
شلل الأطفال (Oral Polio) الثلاثي البكتيري (DTP) ثلاثي فيروسي MMR	عمر ٤-٦ سنوات (4-6 Yrs)

الشكل (١٠٤) شهادات التطعيم



الشكل (١٠٧) إعصار تسونامي



الشكل (١٠٦) إحدى المجموعات الإفريقية

نشاط

أجب عما يلي:

أ- أسمي المستشفيات الكبرى في المنطقة التي أعيش فيها:

متروك للمتعلم حسب المنطقة التي يعيش فيه

ب- أعطي بعض الأمثلة للأمراض الوبائية، التي أدرجتها وزارة الصحة في جدول تطعيمات

الأطفال - الشكل (١٠٤)

"الدرن - التهاب الكبد - شلل الأطفال"

ثانياً: الزيادة غير الطبيعية (الهجرة):

الهجرة هي انتقال الناس أفراداً أو جماعات من موطنهم الأصلي إلى مكان آخر، والاستقرار فيه بشكل دائم أو مؤقت، بحثاً عن مستوى أفضل للعيش والسكن، ويختلف تأثير الهجرة في توزيع السكان من دولة إلى أخرى. فهي لا تحدث تغييراً في عدد سكان العالم، ولكنها تحدث تغييراً في عدد سكان دولة ما؛ سواء بالزيادة أو بالنقصان.



الشكل (١٠٨) اتجاهات بعض الهجرات في شبه الجزيرة العربية

ومن **الهجرات القديمة**، هجرة سكان جنوب شبه الجزيرة العربية إلى شمالها قبل الإسلام، وهجرة نبينا محمد ﷺ وأصحابه رضي الله عنهم من مكة إلى المدينة، حيث أسسوا الدولة الإسلامية التي جاهدت لنشر رسالة الإسلام السامية، وإخراج الناس من الظلمات إلى النور.

ومن **الهجرات الحديثة**: هجرة بعض سكان أوروبا إلى قارتي أمريكا الشمالية والجنوبية، وقارة أستراليا.

نشاط

أتبع خط سير الهجرات في شبه الجزيرة العربية على الشكل (١٠٨) ثم:

١- أكمل:

- يمثل الخط الأحمر هجرة **الغساسنة والمناذرة** إلى شمالي شبه الجزيرة العربية.

- يمثل الخط الأزرق هجرة بعض الصحابة (رضي الله عنهم) إلى **الحبشة**

- يمثل الخط الأخضر هجرة سيد الخلق نبينا محمد ﷺ إلى **المدينة**

٢ - أسجل السبب الذي دفع نبينا محمد ﷺ لترك وطنه من وجهة نظري:

لحفاظ على دينه وحماية أصحابه من التعذيب.

الهجرة الداخلية:

هي انتقال الإنسان من مكان إلى مكان آخر داخل حدود الدولة الواحدة، وللهجرة الداخلية مظاهر يمثلها الشكل (١١٠).

• الهجرة من المدن إلى الريف: ارتبطت هذه الهجرة بالاتجاه نحو الضواحي القريبة، بهدف الإقامة، وهذه الهجرة كثيرة الحدوث في الدول المتقدمة، خصوصاً لدى المتقاعدين عن العمل - الشكل (١١٢).

• الهجرة من المدن إلى المدن: غالباً ما تكون من المدن الصغيرة إلى المدن الكبيرة ذات الخدمات المتوفرة، مثل: هجرة بعض سكان مدن المملكة إلى الرياض - الشكل (١١١).

مظاهر الهجرة الداخلية

• الهجرة من الريف إلى الريف: يهاجر عدد من المزارعين من الريف المزدهم التقليدي إلى الريف المنظم المستصلح زراعياً، وهذه الهجرة تحدث في أكثر دول العالم.

• الهجرة من الريف إلى المدن: بسبب تطور المدن، وتوفر فرص عمل أفضل، ودخل أعلى، وخدمات أحسن، مثل هجرة أغلب سكان الأرياف في الدول النامية إلى المدن.

الشكل (١١٠)



الشكل (١١٢) ريف سعودي متطور



الشكل (١١١) الرياض من المدن الكبرى في العالم



أتأمل الشكل (١١٣) ثم أجيب:

- أحدّد نوع الهجرة الداخلية التي يمثلها الشكل:
الهجرة من منطقة إدارية إلى منطقة إدارية أخرى.
- أرّتب المناطق الإدارية الجاذبة للسكان، مبتدئاً بالأكثر جذباً:
الباحة - جازان - حائل - القصيم - عسير - الحدود الشمالية - المدينة المنورة - الجوف.

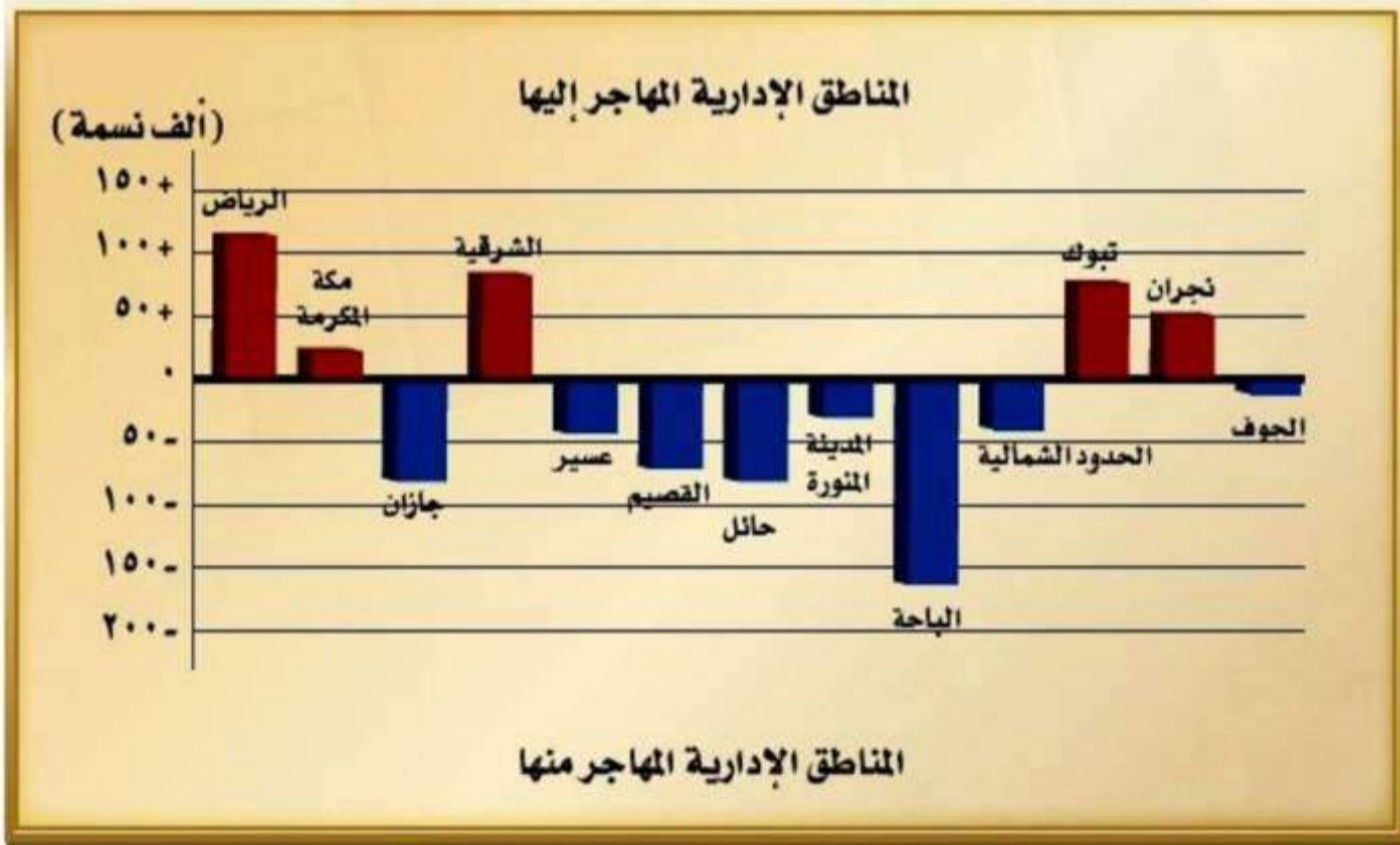


منطقة الطرد:

هي المنطقة التي يغادرها المهاجر لعدم توفر الظروف المناسبة لمعيشته فيها.

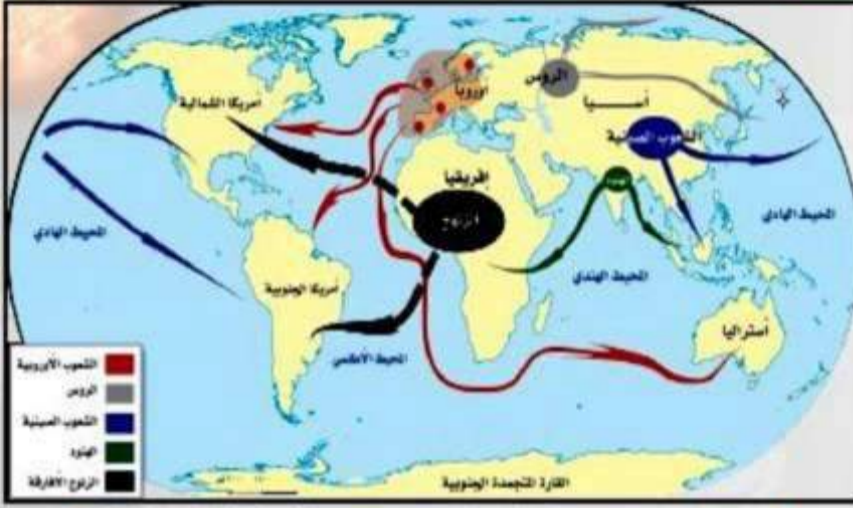
منطقة الجذب:

هي المنطقة التي يقصدها المهاجر لتوفر الظروف المناسبة لمعيشته فيها.



الشكل (١١٣) اتجاهات الهجرة الداخلية في بلادنا

خطوط الهجرة الخارجية (الدولية):



الشكل (١٢١) خارطة العالم توضح خطوط هجرات بعض الشعوب

من أشهر خطوط الهجرة الخارجية:
خط هجرة مجموعات من الشعوب
التالية:

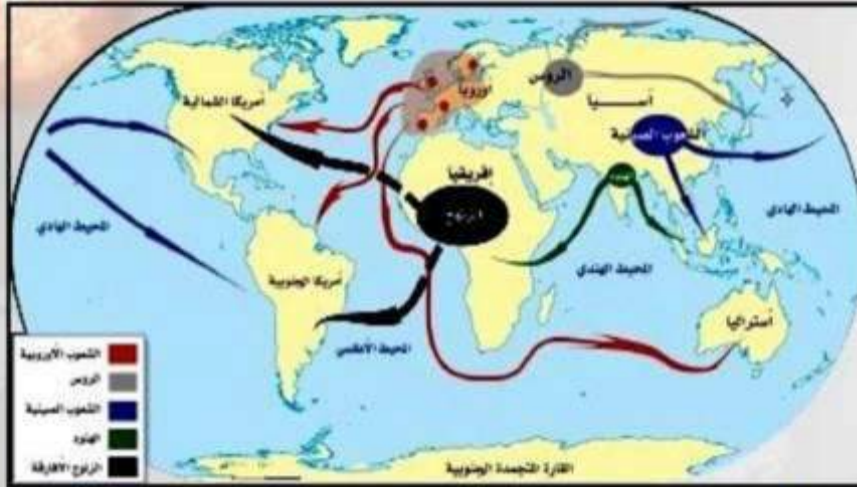
شعوب غرب أوروبا إلى الأمريكتين
وأستراليا، والروس إلى سواحل آسيا
الشرقية والشمالية، والصينيون إلى
غربي الأمريكتين وجزر جنوب شرق
آسيا، والهنود إلى شرقي إفريقيا وجزر
جنوب شرق آسيا، والزنج الأفارقة
إلى الأمريكتين- الشكل (١٢١).



أستعين بالشكل (١٢١)، ثم أملأ الجدول التالي على منوال المثال:

شعوب الهجرة	المناطق المهاجر منها	المناطق المهاجر إليها
الصينيون	شرق آسيا	غربي أمريكا الشمالية والجنوبية - جزر جنوب شرق آسيا
شعوب	أوروبا	
الروس		
الهنود		
الزنج		

خطوط الهجرات الخارجية (الدولية):



الشكل (١٢١) خارطة العالم توضح خطوط هجرات بعض الشعوب

من أشهر خطوط الهجرات الخارجية:
خط هجرة مجموعات من الشعوب
التالية:

شعوب غرب أوروبا إلى الأمريكتين
وأستراليا، والروس إلى سواحل آسيا
الشرقية والشمالية، والصينيون إلى
غربي الأمريكتين وجزر جنوب شرق
آسيا، والهنود إلى شرقي إفريقيا وجزر
جنوب شرق آسيا، والزنج الأفارقة
إلى الأمريكتين- الشكل (١٢١).



أستعين بالشكل (١٢١)، ثم أملأ الجدول التالي على منوال المثال:

المناطق المهاجر إليها	المناطق المهاجر منها	شعوب الهجرة
غربي أمريكا الشمالية والجنوبية - جزر جنوب شرق آسيا	شرق آسيا	الصينيون
الأمريكيتان وأستراليا	أوروبا	شعوب غرب أوروبا
سواحل شرق آسيا وسواحل آسيا الشمالية	شمالي آسيا	الروس
شرقي إفريقيا وجزر جنوب شرق آسيا	جنوبي آسيا (شبه القارة الهندية)	الهنود
شرقي أمريكا الجنوبية وجنوبي أمريكا الشمالية	غربي إفريقيا	الزنج الأفارقة

آثار الهجرة:

- ١- تغيير عدد السكان، فيزداد في الدول المهاجر إليها، وينقص في الدول المهاجر منها.
- ٢- المساهمة في حل المشكلات التي تواجه الدول المهاجر إليها والمهاجر منها، من أمثلة ذلك: توفير الخبرات العلمية والأيدي العاملة للدول المهاجر إليها، وزيادة الأموال المحوَّلة إلى الدول المهاجر منها.
- ٣- تغيير نسب التركيبيين النوعي والعمرى للسكان في كلا الدولتين، حيث تزيد نسبة الذكور، خصوصاً الشباب في الدول المهاجر إليها، وتقل في الدول المهاجر منها.
- ٤- تبادل الخبرات والأفكار بين شعوب الدول المهاجر إليها والدول المهاجر منها، والتعرّف إلى ثقافات مختلفة، وعادات متنوعة، وتقالييد جديدة ومظاهر سلوكية قد تكون حسنة أو سيئة.

نشاط

أ- أوضح أثر الهجرة على التركيبيين النوعي والعمرى للسكان في:

- المناطق المهاجر منها:
- التركيب النوعي: تقل نسبة الذكور وتغلب نسبة الإناث.
- التركيب العمرى: تقل فئة الشباب وتغلب فئة الشيوخ والأطفال.
- المناطق المهاجر إليها:
- التركيب النوعي: تزيد نسبة الذكور.
- التركيب العمرى: تزيد فئة الشباب.

ب- أقرأ العبارة التالية، ثم أجب:

(استمرار الزيادة الطبيعية وغير الطبيعية في منطقة ما، يؤدي إلى زيادة سكانية هائلة، يترتب عليها مشاكل كبيرة مع مرور الوقت).

أحدّد ثلاثاً من المشاكل السكانية المترتبة على هاتين الزياتين:

- ١- زيادة الكثافة السكانية في المنطقة التي تحدث فيها.
- ٢- عدم كفاية الخدمات الموجودة أو تدنى مستواها.
- ٣- كثرة الجرائم والسلوكيات الخاطئة وظهور أحياء فقيرة داخل المدن.



١ أسجل اسم المفهوم أمام ما يناسبه من تعريف:

- الزيادة الطبيعية الفرق بين معدل المواليد والوفيات خلال فترة معينة.
- الهجرة الداخلية انتقال الإنسان من مكان إلى آخر داخل حدود الدولة الواحدة.
- الهجرة الخارجية الانتقال من الموطن الأصلي والاستقرار في مكان آخر.

٢ أعرف المفاهيم التالية:

المواليد: عدد المواليد الأحياء المسجلين في سنة محددة في منطقة معينة
الوفيات: هي عدد الوفيات المسجلة في سنة محددة في منطقة زمنية معينة

٣ أحدد أسباب ما يلي:

أ- الزيادة الطبيعية في الدول النامية أكثر منها في الدول المتقدمة.

كثرة المواليد وقلة الوفيات

ب- الزيادة في معدلات الوفيات في بعض الدول.

تحسن المستوى الصحي في الدول النامية

ج- الهجرة.

الأمراض الوبائية والحروب والمجاعات والكوارث والحوادث

٤ أيبّن النتائج المترتبة عن التالي:

أ- الاستمرار في زيادة أعداد المواليد في الدول النامية.

زيادة الكثافة السكانية - الضغط على موارد الدولة واقتصادياتها

ب- الهجرة من بلد إلى آخر.

زيادة أعداد الدولة المهاجر إليها ونقصها في المهاجر منها - تأثر اقتصاد الدولة المهاجر إليها بزيادة الأموال المحولة لدولة المهاجر منها - توفير الخبرات في الدولة المهاجر إليها وتقصها في المهاجر منها.



سؤال ١٤ أعد ما يلي:

١ العوامل المؤثرة في زيادة المواليد.

تحسن الأوضاع الصحية تبعاً لقوانين الدولة والعادات والتقاليد والتعاليم الدينية.

٢ مظاهر الهجرة في الداخل.

الهجرة من المدن إلى الريف والهجرة من المدن إلى المدن والهجرة من الريف إلى المدن.

سؤال ١٥ أمثل لما يلي:

١ الهجرات الاختيارية هجرة العمال العرب والآسيويين للعمل في الدول المنتجة للنفط بشكل مؤقت

٢ الهجرات الإجبارية للاحتلال والتهجير كحال الفلسطينيين.

٣ الهجرات التاريخية القديمة هجرة سكان جنوب شبه الجزيرة العربية إلى شمالها قبل الإسلام

سؤال ١٦ أقرأ الشكل (١١٣) ثم أجب:

١ أرتب المناطق الإدارية الجاذبة للسكان مبتدئاً بالأكثر جذباً.

الرياض - الشرقي - تبوك - نجران - مكة المكرمة

٢ أمثل لمظهرين من مظاهر الهجرة الداخلية في وطننا غير ما ورد في الشكل.

الهجرة من المدن إلى المدن كهجرة كثير من سكان مدن وطننا إلى مدنها الكبرى السياسية والصناعية والتجارية والدينية

الهجرة من المدن الصغيرة إلى الكبيرة داخل المنطقة الإدارية الواحدة كالهجرة نحو مدينة الرياض

سؤال ١٧ أقوم بتعبئة البطاقات التالية وأحتفظ بها في ملف خاص.


مكة المكرمة - المدينة المنورة - جدة - الدمام	بعض مدن المملكة ذات الجذب السكاني	بطاقة (١)
توفر المدارس والمعاهد والجامعات	أحد أسباب انتقال الطلاب إلى المدن	بطاقة (٢)
المواليد	أحد مظاهر الزيادة الطبيعية في وطني	بطاقة (٣)

أسنف - بشكل متوازن - بين الآثار الإيجابية والسلبية للزيادة السكانية في الجدول التالي:

الآثار السلبية	الآثار الإيجابية
<ul style="list-style-type: none">• تغير عدد السكان• انتقال كثير من اموال البلد إلى الخارج.• قلة الشباب في الدول المهاجر منها وزيادة نسبة كبار السن والأطفال.	<ul style="list-style-type: none">• توفير الخبرات العلمية والأيدي العاملة للدول المهاجرة إليها .• زيادة الأموال في الدول المهاجر منها .• زيادة نسبة الذكور خاصة للشباب في الدول المهاجر إليها.

أسنف أعبر عن شكري لوطني وما يبذله من مبالغ باهظة لعلاجنا بالمجان.
كل الشكر والتقدير للوطن وحكومته الرشيدة التي تبذل قصاري جهدها في
سبيل تحقيق الرعاية الطبية المرضية لمواطني المملكة العربية السعودية

الدرس الثالث عشر: أنواع العمران



الشكل (١٢٢)

خلق الله سبحانه وتعالى الأرض ومهدّها، ثم خلق الإنسان وأمره
بعمارتها، قال تعالى: ﴿هُوَ أَنشَأَكُم مِّنَ الْأَرْضِ وَاسْتَعْمَرَ عَلَيْهَا﴾



من خلال الرجوع إلى تفاسير القرآن الكريم أجيب:

• أيّن معنى (أنشأكم): **خلقكم**

• أفسّر المقصود بالاستعمار في الآية

عمارة الأرض والسكن فيها والانتفاع منها واستغلال منافعها.

العمران هو: تعمير الإنسان لأي بقعة يستقر فيها؛ للاستفادة من مواردها.

أقسام العمران:



الشكل (١٢٣)

سكن الإنسان قديماً في الأماكن التي تتوفر فيها
الحماية الطبيعية له، ثم بدأ تدريجياً ببناء مساكن
بسيطة متقاربة، كوّنّت مع مرور الزمن عمراناً بشرياً
متطوراً، حيث انقسم إلى قسمين رئيسيين هما:

أولاً: العمران الريفي:

**وهو: تجمع سكاني أو إنتاجي صغير نسبياً،
كالضاحية، والقرية، والهجرة.**

ثانياً: العمران الحضري:

- وهو: تجمع سكاني كبير، تمارس فيه أنشطة متنوعة، ويتميز بتوفر خدمات كثيرة. ونهتم بدراسة العمران لأسباب، منها:
- 1- إيجاد الحلول للمشكلات التي تعاني منها المدن والقرى.
 - 2- التخطيط لإعادة توزيع السكان، وبناء التجمعات السكانية، وتخطيط الأحياء.



«الهجر» نمط جديد استخدمه الملك عبدالعزيز آل سعود - رحمه الله - بعد توحيد المملكة لتوطين البادية.



أتأمل الشكلين (١٢٢، ١٢٣) ثم:

أ - أصف ما أراه في الشكلين:

الصورة الأولى لقرية شوارعها ضيقة وقليلة وغير مزدحمة، مبانها قليلة ومبعثرة، تحيط بها المزارع، الصورة الثانية لمدينة تظهر فيها المباني العالية والحدائق العامة.

ب - أفرق بين الصورتين:

الصورة الأولى: قلة السكان والمباني وقلّة الشوارع وضيقها وكثرة المزارع. أما الصورة الثانية نجد ازدحام السكان وكثرة المباني وكثرة الشوارع وسعتها.

ج - أستنتج أبرز أعمال السكان التي أتوقعها في الصورتين:

القرية: الرعي، الزراعة، والصناعات اليدوية. أما المدينة: التجارة، الصناعة، والعمل في الشركات والوظائف الحكومية.

د - أضع عنواناً مشتركاً للصورتين:

من العناوين المتوقع اقتراحها: بين المدينة والقرية... هذه مدينتي وهذه قرية صديقي بين الحاضر والماضي

هـ - أحدّد أي الشكلين أفضل للعيش فيه، وأذكر السبب:

بحسب مايفضله المتعلم

نشاط

- أ - أرسم دائرة حول المدن الرئيسية الظاهرة في الشكل (١٢٦).
ب - أسجل في الجدول التالي وظيفة أربع من المدن الظاهرة في الشكل

المدن	دورها الوظيفي

مشكلات المدن:

من أبرز المشكلات التي تعاني منها معظم مدن العالم ما يلي:

- مشكلة المرور، أو الاختناقات المرورية.
- مشكلة التلوث الناتج عن المصانع ووسائل المواصلات، واستخدام المبيدات والمنظفات.
- مشكلة السكن، خصوصاً في الدول النامية، حيث لا يتوفر السكن الملائم لأعداد كبيرة من السكان، مثل مدينة القاهرة في مصر.
- عدم استطاعة المدن توفير جميع الخدمات، والحاجات اليومية بشكل كاف (كالماء، والكهرباء، والمؤن الغذائية).

نشاط

- أ - أضع أسفل كل صورة في الشكل (١٢٧) عنواناً مناسباً لها:

الشكل (١٢٧)
صور لمشكلات
المدن



أزمة المرور التلوث الانفجار السكاني

- ب - اقترح حلاً مناسباً للمشكلة التي تمثلها الصورة الأولى:

شق الشوارع الواسعة والأنفاق وإنشاء الجسور ذات المخارج المتعددة - استخدام وسائل نقل سريعة ومتطورة كالقطارات السريعة التي تعمل بالطاقة الكهربائية - استخدام الحافلات الجماعية والاستغناء عن وسائل النقل الخاصة في أوقات الذروة (في الصباح وقت الخروج للمدارس والعمل وفي العود منهن).

تقويم

س١٤ ما المقصود بما يلي:

- العمران: هو تعمير الإنسان لأي بقعة يستقر فيها للاستفادة من مواردها.
- العمران الريفي: هو تجمع سكاني أو إنتاجي صغير نسبياً كالضاحية والقرية والهجرة.
- العمران الحضري: هو تجمع سكاني كبير تمارس فيه أنشطة متنوعة ويتميز بتوفر خدمات كثيرة.

س١٥ أقرن في الجدول التالي بين أقسام العمران

أقسام العمران	أوجه الشبه	أوجه الاختلاف	الأمثلة
الريفي	تجمعات سكانية	صغيرة - نشاط وإنتاج محدود	ضاحية - قرية - هجرة
الحضري	تجمعات سكانية	كبيرة - نشاط وإنتاج متنوع	مدينة - بلدة

س١٦ أعل ما يلي:

أ - أهمية دراسة العمران.

إيجاد الحلول للمشكلات التي تعاني منها المدن أو القرى... التخطيط لإعادة توزيع السكان بناء التجمعات السكانية وتخطيط الأحياء

ب - للمدن دور مهم في الدولة.

لأنها تؤدي وظائف مهمة ومتنوعة سياسية أو دينية أو تجارية أو صناعية أو غيرها.

س١٧ أستعين بالأطلس الجغرافي للمملكة العربية السعودية، وأسجل في الجدول التالي أسماء

خمس مدن، وخمس قرى في وطني.

المدن	القرى
الرياض	
مكة المكرمة	
جدة	
المدينة المنورة	
الدمام	

س٦ أمثل لما يلي:

أحدّد أي المشكلات السكانية الآتية يعاني منها وطني:

△ توفير السكن. ▲ الازدحام والاختناقات المرورية. △ توفير الكهرباء.

ب أدوّن بعض الحلول التي عملتها حكومة وطني للتغلب على تلك المشكلات.

(١) الازدحام والاختناقات المرورية.

(٢) وضع الجسور والأنفاق والطرق السريعة منافذ وخدمات وخطوط دائرية وإشارات مرورية

س٧ أستنتج من خلال الشكل (١٢٧) ثلاثاً من مشكلات المدن.

أ الازدحام

ب التلوث

ج أزمة السكن

س٨ أحدّد أبرز المشكلات التي تعاني منها مدن بالمواصفات التالية:

• مدينة مقدسة الازدحام- السكن- الأوبئة.

• مدينة صناعية تلوث الهواء.

• مدينة سياحية الإزدحام- أزمة السكن- التلوث.

تقويم الوحدة

س١ ما الجامع بين الكلمات التالية:

العدد، التوزيع، التركيب، السكان.

أنها عبارة عن عناصر الدراسات السكانية.

س٢ أقرأ ثم أجيب:

يزيد عدد سكان آسيا سنوياً (٤٧) مليون نسمة تقريباً، ولذلك يُتوقع أن يبلغ عدد سكان هذه القارة سنة ١٤٣٠هـ (٢٠٠٩م) حوالي (٤١٥٤) مليون نسمة.

أكتشف العدد التقريبي لسكان آسيا سنة ١٤٣٥هـ (٢٠١٤م).

مقدار الزيادة المتوقعة لعدد سكان آسيا بين عامي ١٤٣٠هـ - ١٤٣٥هـ (٢٠٠٩-٢٠١٤) = ٤٧ * ٥ = ٢٣٥ مليون نسمة.

س٣ أصمّم شعاراً يدعو إلى إعطاء بيانات صحيحة لمصلحة الإحصاءات العامة والمعلومات في وطننا (المملكة العربية السعودية).

متروك للمتعم

س٤ أصمّم خارطة مفاهيم لعناصر الدراسات السكانية وأزودها بالمعلومات.

(تشتمل عناصر الدراسات السكانية على: العدد، التوزيع، التركيب، الزيادة).

س٤ أوضح الخطط التي يجب اتخاذها نحو الفئة العمرية التي تشكل الأغلبية في وطني المملكة العربية السعودية.

توفير الخدمات المناسبة لهم ووضع الخطط المستقبلية لهذه الفئة.

س٥ أفرق بين:

الزيادة الطبيعية	الزيادة غير الطبيعية
تتمثل في المواليد والوفيات تؤثر على الزيادة السكانية في العالم	تتمثل في الهجرة تؤثر على الزيادة السكانية في منطقة ما
التركيب النوعي	التركيب العمري
تصنيف السكان إلى ذكور وإناث	بنية السكان حسب فئات الأعمار
الهجرات الداخلية	الهجرات الخارجية
<ul style="list-style-type: none"> انتقال الإنسان داخل حدود الدولة الواحدة لا تؤثر على عدد السكان تؤثر على توزيع السكان 	<ul style="list-style-type: none"> انتقال الإنسان من دولة إلى دولة أخرى تؤثر على أعداد السكان تؤثر على توزيع السكان

س٦ أستعين بالأطلس الجغرافي - خارطة العالم - ثم أسجل:

أ مدينة ساحلية الإسكندرية

ب مدينة صناعية طوكيو

ج مدينة ذات مناخ معتدل جدة

س١٤ أفسر ما يلي:

١ تركز سكان العالم في النصف الشمالي من الكرة الأرضية.

بسبب تركز اليابسة في النصف الشمالي من الكرة الأرضية.

٢ عدم تأثر عدد سكان العالم بالهجرة.

لأن عدد سكان العلم يمثل سكان الأرض جميعا حتى لو اجتمعوا في قارة واحدة (آسيا مثلا) أو لأن الهجرة الخارجية + عدد سكان العالم يشبهه في عدم تأثره الهجرة الداخلية + عدد سكان الدولة.

س١٥ أعدد الفوائد التي ترتبت على هجرة نبينا محمد ﷺ إلى المدينة.

مثلا: انتشار الإسلام، ظهور الدولة الإسلامية، انتشار الأخلاق الحميدة، الدعوة إلى العلم

والتعلم، إخراج الناس من الظلمات إلى النور ورفي الحضارة

س١٦ أصل مدن وطننا التالية بما يناسبها من الكلمات المقابلة:

أبها	تجارية
الأحساء	سياحية
مكة المكرمة	زراعية
جدة	صناعية
القريات	دينية

س١٧ أستنتج العلاقة بين الزيادة السكانية ودراسة العمران في الدولة الواحدة

الزيادة السكانية تتطلب وضع خطط مستقبلية للتنمية والتطوير في المجالات الاقتصادية والصحية والتعليمية لمواجهة كثير من المشكلات الاقتصادية والصحية والتعليمية بسبب تلك الزيادة

أحدّد على خارطة وطني ثلاث مدن رئيسية، وبعض القرى التابعة لها.

