


أوراق عمل



الصف الأول الابتدائي

الفصل الدراسي الأول





الفصل الأول - الدرس الأول

اجب عن الاسئلة الآتية

١- ضع دائرة حول الشيء غير الحي



٤



٢- اكمل الجدول الآتي كما في المربع الاول

شيء غير حي	مخلوق حي	
	√	نبات
		طاولة
		حيوان
		كرة
		ماء
		إنسان
		سيارة
		طائرة

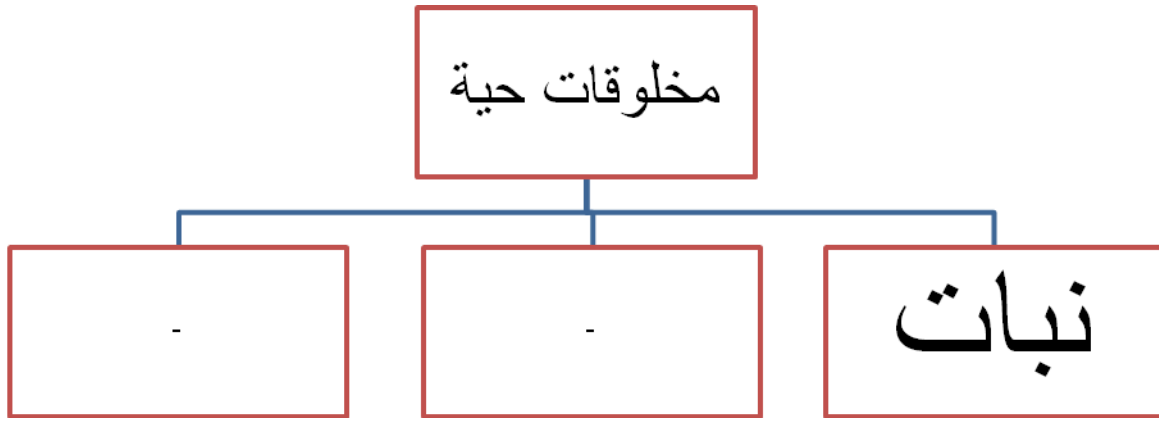
١	أتقن المعيار ١٠٠% ()	٢	أتقن المعيار من ٩٠% إلى أقل من ١٠٠% ()
٣	أتقن المعيار من ٨٠% - أقل من ٩٠% ()	٤	لم يتقن أقل من ٨٠% ()



الفصل الأول - الدرس الأول

اجب عن الاسئلة الاتية :-

١- اكمل الشكل الاتي



٢ - ضع علامة ✓ امام العبارة الصحيحة وعلامة خطأ x امام العبارة الخطأ

- أ- النبات مخلوق حي ()
- ب- لا تحتاج النباتات الي الهواء والماء ()
- ت- نبات الصبار يحتاج إلي كمية كبيرة من الماء كي يعيش ()
- ث - أنا مخلوق حي ()
- ج - المخلوقات الحية تنمو وتحتاجالي الغذاء والماء والهواء لكي تعيش وتنمو ()

١	أتقن المعيار ١٠٠% ()	٢	أتقن المعيار من ٩٠% إلى أقل من ١٠٠% ()
٣	أتقن المعيار من ٨٠%- أقل من ٩٠% ()	٤	لم يتقن أقل من ٨٠% ()



الفصل الأول - الدرس الأول

س ١ - صف المخلوقات الحية والأشياء غير الحية في هذه الصورة



المخلوقات الحية

الأشياء غير الحية

س ٢

أكمل :- يحتاج نبات تباع الشمس إلى ----- كي يعيش



١	أتقن المعيار ١٠٠% ()	٢	أتقن المعيار من ٩٠% إلى أقل من ١٠٠% ()
٣	أتقن المعيار من ٨٠% - أقل من ٩٠% ()	٤	لم يتقن أقل من ٨٠% ()



الفصل الأول - الدرس الأول

س ١ ضع علامة (✓) أمام العبارة الصحيحة وعلامة (✗) أمام العبارة الخاطئة :-

- ١- الحيوانات والنباتات من الكائنات الحية ()
- ٢- الكائنات الحية لا تحتاج للماء ()
- ٣- الكائنات الحية تنمو وتتحرك ()
- ٤- الصخر من الكائنات الحية ()

س ١ صل بخط بين كلمة تنمو والمخلوقات التي تنمو وتكبر :-



١	أتقن المعيار ١٠٠% ()	٢	أتقن المعيار من ٩٠% إلى أقل من ١٠٠% ()
٣	أتقن المعيار من ٨٠% - أقل من ٩٠% ()	٤	لم يتقن أقل من ٨٠% ()



اسمعين بالله أولاً - ابدء بالبسملة - لا تنس في الإجابة - تأكد أنك أجبت على كل الأسئلة

الصف : الصف الأول الابتدائي المادة : العلوم اسم الطالب :

الفصل الأول - الدرس الثاني

اجب عن الاسئلة الاتية :-

١- ضع دائرة حول ليس من أجزاء النبات

د - الجمال



ج- الساق



ب- الجذور



أ- الأوراق



٢- اكمل الجدول آتاي كما في المربع الاول

الأوراق	الساق	الجذر	
		√	يثبت النبات في التربة
			تحمل الأوراق
			تستخدم الهواء وضوء الشمس لتصنع الغذاء

٣- أكمل :-

١- أجزاء النبات هي الجذور - الساق ، الأوراق ----- و-----

٢- نأكل من نبات الخس -----


٣- عندما أكل الجزر فإني أكل -----

١	أتقن المعيار ١٠٠% ()	٢	أتقن المعيار من ٩٠% إلى أقل من ١٠٠% ()
٣	أتقن المعيار من ٨٠%- أقل من ٩٠% ()	٤	لم يتقن أقل من ٨٠% ()



الفصل الأول الدرس الثاني

س ١ :- أكمل البيانات علي الرسم



أصِلْ بَيْنَ الصُّوْرَةِ وَبَيْنَ الْكَلِمَةِ الْمُنَاسِبَةِ لَهَا:



جذور



-١



أوراق



-٢



سيقان



-٣

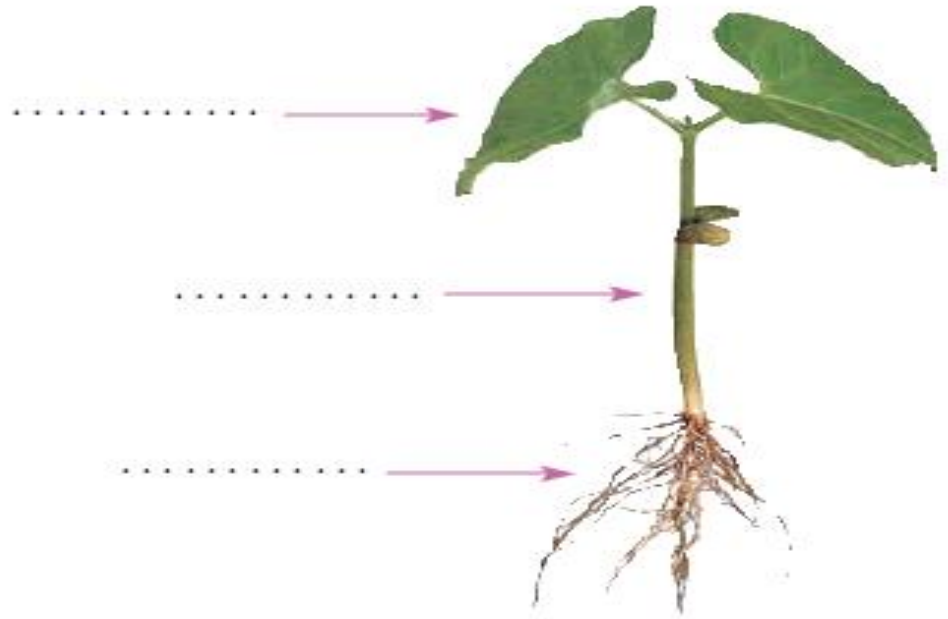
١	أتقن المعيار ١٠٠% ()	٢	أتقن المعيار من ٩٠% إلى أقل من ١٠٠% ()
٣	أتقن المعيار من ٨٠% - أقل من ٩٠% ()	٤	لم يتقن أقل من ٨٠% ()



اسعین بالله أولا - ابدء بالبسملة - لا تنس في الإجابة - تأكد أنك أجبت على كل الأسئلة

الصف : الصف الأول الابتدائي المادة : العلوم اسم الطالب :

س ٢ أكتب أجزاء النبات الآتية :-



س ٢: ضع علامة (✓) أمام العبارة الصحيحة وعلامة (✗) أمام العبارة الختأ :-

()

١- النباتات كثيرة ومتنوعة

()

٢- يتكون النبات من ساق وأوراق فقط

()

٣- الساق يستخدم الهواء وضوء الشمس لتصنع الغذاء

١	أتقن المعيار ١٠٠% ()	٢	أتقن المعيار من ٩٠% إلى أقل من ١٠٠% ()
٣	أتقن المعيار من ٨٠% - أقل من ٩٠% ()	٤	لم يتقن أقل من ٨٠% ()



الفصل الثاني - الدرس الأول

١- صل بين الصورة وبين الكلمة

الصورة	الكلمة
	١ الزهرة
	٢ البذرة
	٣ الثمرة

(دورة الحياة - نباتا - نبات جديد - الثمرة - -)

٢- اكمل بكلمة مناسبة

١- تنبت البذرة بمساعدة ----- وغذاء الجنين

٢- تنبت البذرة لتكون -----

٣- توجد البذور داخل -----

٤- تنمو البادرة وتكون ----- جديدا

١	أتقن المعيار ١٠٠% ()	٢	أتقن المعيار من ٩٠% إلى أقل من ١٠٠% ()
٣	أتقن المعيار من ٨٠% - أقل من ٩٠% ()	٤	لم يتقن أقل من ٨٠% ()



اسعین بالله أولا - ابدء بالبسملة - لاتسرع في الإجابة - تأكد أنك أجبت على كل الاسئلة

الصف : الصف الأول الابتدائي المادة : العلوم اسم الطالب :

٥-تعني نمو المخلوقات الحية وعيشها ثم موتها

الفصل الثاني - الدرس الأول

اجب عن الاسئلة الاتية:-

١- رتب الشكل الاتي لتكون دورة حياة نبات الفاصوليا



١	أتقن المعيار ١٠٠% ()	٢	أتقن المعيار من ٩٠% إلى أقل من ١٠٠% ()
٣	أتقن المعيار من ٨٠% - أقل من ٩٠% ()	٤	لم يتقن أقل من ٨٠% ()



أصلُ بَيْنِ الصُّورَةِ وَبَيْنَ الكَلِمَةِ المُناسِبَةِ فِيمَا يَلِي :

تَمْرَةٌ
دَوْرَةٌ حَيَاةٍ
بَادِرَةٌ
بُنُورٌ



-١



-٢



-٣



-٤

١	أتقن المعيار ١٠٠% ()	٢	أتقن المعيار من ٩٠% إلى أقل من ١٠٠% ()
٣	أتقن المعيار من ٨٠% - أقل من ٩٠% ()	٤	لم يتقن أقل من ٨٠% ()



اسعین بالله أولا - ابدء بالبسملة - لا تنس في الإجابة - تأكد أنك أجبت على كل الأسئلة

الصف : الصف الأول الابتدائي المادة : العلوم اسم الطالب :

الفصل الثاني - الدرس الثاني

١- صل بين الصورة وبين الكلمة



١- نبات من الصحراء



٢- نبات من الغابة

س ٢: ضع علامة (✓) أمام العبارة الصحيحة وعلامة (✗) أمام العبارة الخطأ :-

- ١- الصحراء مكان جاف قليل النبات
- ٢- لا تعيش نباتات في الصحراء
- ٣- تعيش النباتات في الغابات
- ٤- الغابة مكان حار رطب فيه نباتات كثيرة
- ٥- نباتات الغابة لها أوراق كبيرة تساعد علي التخلص من الماء الزائد

١	أتقن المعيار ١٠٠% ()	٢	أتقن المعيار من ٩٠% إلى أقل من ١٠٠% ()
٣	أتقن المعيار من ٨٠% - أقل من ٩٠% ()	٤	لم يتقن أقل من ٨٠% ()



الفصل الثالث - الدرس الأول / أنواع الحيوانات

١- صل بين الصورة وبين الكلمة


الصورة	الكلمة		
	الأسماك	أ	١
	الطيور	ب	٢
	الزواحف	ت	٣
	البرمائيات	ث	٤
	الثدييات	ج	٥
		٢	١
		٤	٣



اسعین بالله أولا - ابدء بالبسملة - لاتسرع في الإجابة - تأكد أنك أجبت على كل الأسئلة

الصف : الصف الأول الابتدائي المادة : العلوم اسم الطالب :

١- اختر الحيوان الخاطئ من المجموعة الآتية



١- اختر الحيوان الخاطئ من المجموعة الآتية



٣-- اختر الحيوان الخاطئ من المجموعة الآتية



١	أتقن المعيار ١٠٠% ()	٢	أتقن المعيار من ٩٠% إلى أقل من ١٠٠% ()
٣	أتقن المعيار من ٨٠% - أقل من ٩٠% ()	٤	لم يتقن أقل من ٨٠% ()



س ٢ صنف الحيوانات التالية مجموعات :-



مجموعة -----

مجموعة -----

مجموعة -----

١	أتقن المعيار ١٠٠% ()	٢	أتقن المعيار من ٩٠% إلى أقل من ١٠٠% ()
٣	أتقن المعيار من ٨٠% - أقل من ٩٠% ()	٤	لم يتقن أقل من ٨٠% ()



اسعین بالله أولا - ابدء بالبسملة - لا تسرع في الإجابة - تأكد أنك أجبت على كل الأسئلة

الصف : الصف الأول الابتدائي المادة : العلوم اسم الطالب :

س ١ أكتب أسفل كل صورة المجموعة التي تنتمي إليها :-

(الثدييات - الزواحف - الطيور - الأسماك)



مجموعة



مجموعة



مجموعة



مجموعة



مجموعة



مجموعة



مجموعة

١	أتقن المعيار ١٠٠% ()	٢	أتقن المعيار من ٩٠% إلى أقل من ١٠٠% ()
٣	أتقن المعيار من ٨٠% - أقل من ٩٠% ()	٤	لم يتقن أقل من ٨٠% ()



ضع علامة صح (✓) امام العبارة الصحيحة وعلامة خطأ (x) امام العبارة الخاطأ

- ١- الإبل من الطيور إنها تلد وتعني بصغارها
- ٢- الطيور مجموعة من الحيوانات يغطي أجسامها الريش ولها رجلان ولها جناحان يساعدان علي الطيران
- ٣- هناك طيور لا تطير مثل النعامة
- ٤- الخفاش طائر يطير
- ٥- الأسماك حيوانات لها جلد جاف
- ٦- التماسيح والثعابين يغطي جسمها حرشف وهي طيور
- ٧- البرمائيات مجموعة من الحيوانات تستطيع العيش في الماء وعلي اليابسة مثل الثعبان
- ٨- الأسماك لها زعانف تساعد علي السباحة تعيش في الماء
- ٩- الأسماك لها خياشيم تساعد علي التنفس
- ١٠- الحشرات حيوانات لها ٥ أرجل
- ١١- العنكب ليست من الحشرات لان لها ٦ أرجل

١	أتقن المعيار ١٠٠% ()	٢	أتقن المعيار من ٩٠% إلى أقل من ١٠٠% ()
٣	أتقن المعيار من ٨٠% - أقل من ٩٠% ()	٤	لم يتقن أقل من ٨٠% ()



اسمعين بالله أولا - ابدء بالبسملة - لا تنس ع في الإجابة - تأكد أنك أجبت على كل الأسئلة

الصف : الصف الأول الابتدائي المادة : العلوم اسم الطالب :

أصلُ بيِّن الصورةِ ويبيِّن الكلمةَ المناسبةِ.



-٢

بَرْمَانِي

طَائِرٌ

سَمَكَةٌ

حَشْرَةٌ

تَلْدِي

زَاجِفٌ



-١



-٣



-٥



-٤



-٦





١	أتقن المعيار ١٠٠% ()	٢	أتقن المعيار من ٩٠% إلى أقل من ١٠٠% ()
٣	أتقن المعيار من ٨٠% - أقل من ٩٠% ()	٤	لم يتقن أقل من ٨٠% ()



الفصل الثالث - الدرس الثاني

١- صل بين الصورة وبين الكلمة

ضع علامة صح ✓ امام أكل اللحوم

الحيوان			
			
			
			
			

١	أتقن المعيار ١٠٠% ()	٢	أتقن المعيار من ٩٠% إلى أقل من ١٠٠% ()
٣	أتقن المعيار من ٨٠% - أقل من ٩٠% ()	٤	لم يتقن أقل من ٨٠% ()



ضع علامة صح (✓) امام العبارة الصحيحة وعلامة خطأ (x) امام العبارة الخطأ

- ١- الحيوانات التي تأكل الحيوانات فقط تسمى آكلات اعشاب
- ٢- الأرانب والخيول من آكلات اللحوم
- ٣- آكلات الاعشاب لها أسنان مسطحة تساعد على مضغ الطعام وطحنه
- ٤- الحيوانات التي تأكل حيوانات أخرى تسمى آكلات لحوم
- ٥- آكلات الأعشاب لها أسنان حادة تساعد على تقطيع اللحم وتمزيقه
- ٦- بعض آكلات اللحوم لها مخالب حادة تساعد على تناول طعامها
- ٧- المأوي مكان آمن يعيش فيه الحيوان
- ٨- الأجنحة تساعد الطيور على الطيران للحصول على طعامها
- ٩- الخياشيم تساعد الطيور على التنفس في الماء
- ١٠- الدلافين ثدييات تعيش في المحيطات ولها رئتان

١	أتقن المعيار ١٠٠ % ()	٢	أتقن المعيار من ٩٠ % إلى أقل من ١٠٠ % ()
٣	أتقن المعيار من ٨٠ % - أقل من ٩٠ % ()	٤	لم يتقن أقل من ٨٠ % ()



اسمعين بالله أولاً - ابدء بالبسملة - لا تنس في الإجابة - تأكد أنك أجبت على كل الأسئلة

الصف : الصف الأول الابتدائي المادة : العلوم اسم الطالب :

س ١ أكتب أسفل كل صورة أي هذه الحيوانات تبيض وأيها تلد :-



(.....)



(.....)



(.....)



(.....)



(.....)

ضع علامة (✓) أمام العبارة الصحيحة وعلامة (✗) أمام العبارة الختأ :-

()

- الأسماك لها خياشيم تتنفس بها

()

- الجمل آكل لحوم

()

- الثعابين من الزواحف

()

- الأسد آكل لحوم -

١	أتقن المعيار ١٠٠ % ()	٢	أتقن المعيار من ٩٠ % إلى أقل من ١٠٠ % ()
٣	أتقن المعيار من ٨٠ % - أقل من ٩٠ % ()	٤	لم يتقن أقل من ٨٠ % ()



اسعین بالله أولا - ابدء بالبسملة - لاتسع في الإجابة - تأكد أنك أجبت على كل الاسئلة

الصف : الصف الأول الابتدائي

المادة : العلوم

اسم الطالب :

لفصل الرابع - الدرس الأول مواطن علي اليابسة

اجب عن الاسئلة الاتية:-

١- صل بين العبارة الصحيحة والصورة المناسبة



الْبَحِيرَةُ

مَكَانٌ فِيهِ مِيَاهٌ عَذْبَةٌ تُحِيطُ بِهِ
الْيَابِسَةُ.



الْمِنْطَقَةُ الْعُشْبِيَّةُ

مَكَانٌ وَاسِعٌ فِيهِ كَثِيرٌ مِنَ
الْأَغْشَابِ.



الْمُحِيطُ

مَكَانٌ وَاسِعٌ جِدًّا وَعَمِيقٌ، تَمَلُّؤُهُ
مِيَاهٌ مَالِحَةٌ.



الْغَابَةُ

مَكَانٌ وَاسِعٌ فِيهِ كَثِيرٌ مِنَ الْأَشْجَارِ
الْكَبِيرَةِ.

١	أتقن المعيار ١٠٠% ()	٢	أتقن المعيار من ٩٠% إلى أقل من ١٠٠% ()
٣	أتقن المعيار من ٨٠% - أقل من ٩٠% ()	٤	لم يتقن أقل من ٨٠% ()



عد أرجل الحيوانات في كل صورة



()



()



()



()

صل بين الموطن والصورة المناسبة

٣- الصحراء

٢- المنطقة العشبية

١- الغابة



١	أتقن المعيار ١٠٠% ()	٢	أتقن المعيار من ٩٠% إلى أقل من ١٠٠% ()
٣	أتقن المعيار من ٨٠% - أقل من ٩٠% ()	٤	لم يتقن أقل من ٨٠% ()



ضع علامة (✓) أمام العبارة الصحيحة وعلامة (✗) أمام العبارة الخطأ :-

- ١- الموطن هو المكان الذي يعيش فيه المخوقات الحية
- ٢ - الصحراء من المواطن التي خلقها الله سبحانه وتعالى
- ٤- تعيش السحالي في الماء
- ٥- المناطق العشبية منطقة واسعة فيها أشجار عالية
- ٦- الزرافة لها رقبة قصيرة تساعد علي تناول أوراق الأشجار العالية
- ٧- البحيرة موطن تعيش فيه أشجار كثيرة طويلة
- ٨- بعض الحيوانات يحصل علي طعامه من الأشجار
- ٩- بعض الحيوانات يتخذ جذع الأشجار مسكنا

١	أتقن المعيار ١٠٠ % ()	٢	أتقن المعيار من ٩٠ % إلى أقل من ١٠٠ % ()
٣	أتقن المعيار من ٨٠% - أقل من ٩٠ % ()	٤	لم يتقن أقل من ٨٠ % ()



الدرس الثاني مواطن في الماء

ضع علامة (✓) أمام العبارة الصحيحة وعلامة (✗) أمام العبارة الخطأ :-

- ١- البحر موطن من مواطن المياه العذبة تحيط بها اليابسة
- ٢- الحيوانات تحصل من النباتات التي تنمو في البحيرة وتتخذها مأوي لها
- ٣- المحيط موطن واسع عميق من مواطن المياه العذبة
- ٤- السماك له جلد سميك يقيه دافئا في المياه الباردة
- ٥- للسمكة ذيل وزعاف تساعد على السباحة في الماء
- ٦- سمك القرش يتغذي على أسماك كبيرة تعيش في المحيط

١	أتقن المعيار ١٠٠% ()	٢	أتقن المعيار من ٩٠% إلى أقل من ١٠٠% ()
٣	أتقن المعيار من ٨٠% - أقل من ٩٠% ()	٤	لم يتقن أقل من ٨٠% ()



الفصل الخامس الدرس الأول

ضع علامة (✓) أمام العبارة الصحيحة وعلامة (✗) أمام العبارة الخطأ :-

١- الأشياء التي نحصل عليها من الأرض ونستخدمها تسمى موارد طبيعية

٢- من الموارد الغير حية الحيوانات والنباتات

٣- من الموارد الحية الصخور والترربة والماء والهواء

٤- تقسم الموارد الصناعية الي موارد حية وموارد غير حية

٥- يجب ان نستهلك جميع الموارد الحية

٦- نستخدم صوف الاغنام في صنع الملابس

٧- تستخدم الصخور في بناء الجدران ورصف الطرق

٨- التربة مورد طبيعي مهم جدا للانسان والنبات والحيوان

٩- الطين نوع من الصخور

١٠- يستخدم الطين في صنع الأطباق والأكواب

١	أتقن المعيار ١٠٠% ()	٢	أتقن المعيار من ٩٠% إلى أقل من ١٠٠% ()
٣	أتقن المعيار من ٨٠% - أقل من ٩٠% ()	٤	لم يتقن أقل من ٨٠% ()



الفصل الخامس الدرس الثاني

ضع علامة (✓) أمام العبارة الصحيحة وعلامة (✗) أمام العبارة الخطأ :-

- ١- الماء والهواء ضروران لجميع المخلوقات الحية
- ٢- الإنسان والحيون في حاجة الي الماء لكي نتنفس ويعيش
- ٣- نستخدم الماء في الشرب والوضوء والطبخ والاستحمام
- ٤- يجب الا نحافظ علي نظافة الماء والهواء
- ٥- التلوث هو وجود أشياء مفيدة مثل النفايات في اليابسة أو في الماء أو في الهواء
- ٦- عندما يلوث الناس الماء والهواء واليابسة فإن ذلك لا يضر بالحيوانات
- ٧- التلوث يسبب المرض للانسان والحيوان



ماذا يسمى التلوث في هذه الصورة

تلوث

١	أتقن المعيار ١٠٠ % ()	٢	أتقن المعيار من ٩٠ % إلى أقل من ١٠٠ % ()
٣	أتقن المعيار من ٨٠ % - أقل من ٩٠ % ()	٤	لم يتقن أقل من ٨٠ % ()



الفصل الخامس الدرس الثالث

ضع علامة (✓) أمام العبارة الصحيحة وعلامة (✗) أمام العبارة الخطأ :-

- ١- نحافظ علي موارد الأرض عن طريق إعادة الاستخدام أو الترشيد أو إعادة التدوير
- ٢- الترشيد هو استخدام الأشياء بصورة جديدة
- ٣- أهمية إعادة الاستخدام أننا لا نستهلك الموارد الطبيعية
- ٤- إعادة الاستخدام هو التقليل من استخدام الشيء
- ٥- التدوير يعني صنع شيء جديد من شيء قديم

١	أتقن المعيار ١٠٠% ()	٢	أتقن المعيار من ٩٠% إلى أقل من ١٠٠% ()
٣	أتقن المعيار من ٨٠% - أقل من ٩٠% ()	٤	لم يتقن أقل من ٨٠% ()



صل الصورة بما يناسبها



١- تقليل استهلاك الماء



٢- إعادة الأستخدام



٣- التدوير



٤- ترشيد استهلاك الكهرباء

١	أتقن المعيار ١٠٠% ()	٢	أتقن المعيار من ٩٠% إلى أقل من ١٠٠% ()
٣	أتقن المعيار من ٨٠%- أقل من ٩٠% ()	٤	لم يتقن أقل من ٨٠% ()