

تم تحميل وعرض المادة من

موقع كتبي

المدرسية اونلاين



www.ktbbby.com

موقع كتبي يعرض لكم الكتب الدراسية الطبعة الجديدة
وحلولها، توزيع مناهج، تحضير، أوراق عمل، عروض
بوربوينت، نماذج إختبارات بشكل مباشر PDF

جميع الحقوق محفوظة للقائمين على العمل

بسم الله الرحمن الرحيم

اختبار التحريري لمادة الرياضيات للصف السادس

اسم الطالبة الصف

اليوم التاريخ

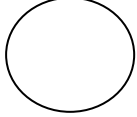
<p>درجة لكل فقرة</p> <p>○</p>	<p>اختاري الاجابة الصحيحة من بين الاقواس</p> <p>1- الزاويتان المتتامتان مجموعهما (360 - 90 - 180)</p> <p>2- المربع جميع زواياه (قائمة - متوازية - غير متطابقة)</p> <p>3_ اذا كان قياس $a=70$ و $b=20$ فان الزاويتان (متتامتان - متكاملتان)</p>
<p>درجتين لكل فقرة</p> <p>○</p>	<p>اكمل الفراغات التالية :</p> <p>1-مجموع قياسات زوايا المثلث تساوي -----</p> <p>2- مثلث اضلاعه 5سم , 7سم , 5سم يكون مثلث -----</p>
<p>درجة لكل فقرة</p> <p>○</p>	<p>3-تصنف المثلثات وفق الزوايا الى ----- و -----</p> <p>4-مجموع قياسات زوايا الشكل الرباعي يساوي-----</p>
<p>○</p>	<p>ارسمي زاوية قياسها 60</p>

المعيار المراد

قياسه

حجم المنشور

الرباعي



أوجدي حجم المنشور الرباعي التالي

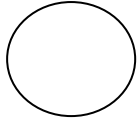


المعيار المراد

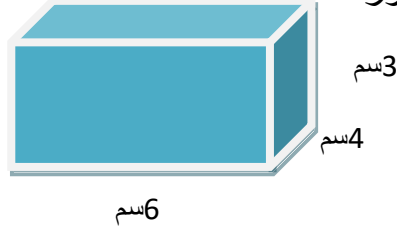
قياسه

مساحة سطح

المنشور الرباعي



أوجدي مساحة سطح المنشور التالي

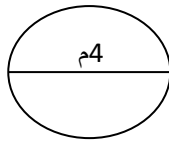
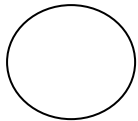


المعيار المراد

قياسه

ايجاد محيط

الدائرة



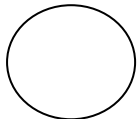
أوجدي محيط الدائرة التالية:

المعيار المراد

قياسه

ايجاد مساحة

متوازي الاضلاع



أوجدي مساحة متوازي الأضلاع التالي:

