



↓ تم تحميل ملف المادة من مكتبة طلابنا
زورونا على الموقع

www.tlabna.net

مكتبه طلابنا تقدم لكم كل ما يحتاج المعلم والمعلمه والطلبة , الطبعات الجديده للكتب والحلول ونماذج الاختبارات والتحاظير وشروحات الدروس بصيغة الورد والبي دي اف وكذلك عروض البوربوينت.

أرقام الطفل المبدع

أنا طفل مبدع

أستطيع أن أتعلم وأعد وأكتب وأرسم وألون

أسمي الجميل :

.....

أنا طفل مبدع



أرقام الطفل المبدع



- جميع الأطفال قادرين على التعلم والإبداع في عدة مهارات
- تكرار الكلمات الايجابية مع الطفل تساعد على تنمية الثقة بالذات مما يجعله يكرر المحاولة للوصول إلى النجاح وتحقيق الهدف في جميع نواحي الحياة
- مذكرة أرقام الطفل المبدع عبارة عن جزء من مذكرات أنا طفل مبدع
- المذكرة مقدمة للأمهات و معلمات التربية الخاصة في مرحلة الدمج برياض الأطفال والصفوف الأولية ومعلمات رياض الأطفال ومعلمات الصف الأول
- قبل بدء تعلم الأرقام التأكد من أن الطفل يستطيع مسك القلم بشكل صحيح وتحريكه في عدة مسارات واتجاهات مختلفة
- المذكرة للأطفال المبتدئين في تعلم الأرقام العربية أو مراجعتها من ١-١٠
- المذكرة مناسبة للأطفال من عمر ٣ - ٦ سنوات
- المذكرة تدريب للطفل على حفظ شكل الأرقام ونطقها وكتابتها والعد بشكل صحيح
- المذكرة تعتبر تهيئة واستعداد لتعلم الأرقام بأعداد كبيرة
- يمكن تطبيق الأفكار المطروحة في المذكرة كوسائل حسية للتعلم (إستراتيجية التعلم باللعب) لعبة البولينق ، كرة القدم (يركل الطفل الكرة حسب العدد)
- نهاية المذكرة تمارين بسيطة للتأكد من مدى إتقان الطفل للأرقام
- يمكن تطبيقها من قبل الأم في المنزل والمعلمات في الروضة والمدرسة
- عند نسخ صفحات معينة أو اقتباس جزء من مذكرات أنا طفل مبدع يتم ذكر المصدر
- مذكرات أنا طفل مبدع مجانية ويمنع بيعها أو استغلال أحد صفحاتها بشكل مادي

إعداد المعلمة : حصه الخثلان

Twitter:@h_alkhathlan

Instagram: h_alkhathlan1







تقوم المعلمة أو الأم بنطق الرقم والإشارة إليه بعد ذلك تقوم بالعد




إعداد المعلمة : حصة الخثان [twitter:@h_alkhathlan](https://twitter.com/h_alkhathlan)

لنساعد السلحفاة لتسجيل هدف واحد باختيار المرمى المناسب ؟




أن يختار الطفل رقم ١ بشكل صحيح

لنساعد السلحفاة على رمي الكرة إلى البولينق عدد ١ ؟



أن يختار الطفل العدد ١ بشكل صحيح

لنساعد السلحفاة لرسم دائرة واحدة ؟





أن يرسم الطفل دائرة واحدة

لنساعد السلحفاة لكتابة رقم ١؟





أن يكتب الطفل رقم ١



تقوم المعلمة أو الأم بنطق الرقم والإشارة إليه بعد ذلك تقوم بالعد

إعداد المعلمة : حصة الخثان [twitter:@h_alkhathlan](https://twitter.com/h_alkhathlan)


لنساعد السلحفاة لتسجيل هدفين باختيار المرمى المناسب ؟




أن يختار الطفل رقم ٢ بشكل صحيح

إعداد المعطمة : حصه الخثلان twitter:@h_alkhathlan



لنساعد السلحفاة لرسم دائرتين ؟






أن يرسم الطفل دائرتين



٢	٢
٢	٢




لنساعد السلحفاة على رمي الكرة إلى البولينق عدد ٣ ؟




أن يختار الطفل العدد ٣ بشكل صحيح

لنساعد السلحفاة لرسم ٣ دوائر؟



أن يرسم الطفل ٣ دوائر





لنساعد السلحفاة لكتابة رقم ٣؟



٣	٣
٣	٣


أن يكتب الطفل رقم ٣

٤




تقوم المعلمة أو الأم بنطق الرقم والإشارة إليه بعد ذلك تقوم بالعد

لنساعد السلحفاة لتسجيل أربع أهداف المرمى المناسب ؟



٢




٤






أن يختار الطفل رقم ٤ بشكل صحيح

انساعء السلءفاء لكءابء رقم ٤ ؟






٤	٤
٤	٤

أن يكءب الءفل رقم ٤




تقوم المعلمة أو الأم بنطق الرقم والإشارة إليه بعد ذلك تقوم بالعد

لنساعد السلحفاة على رمي الكرة إلى البولينق عدد ٥ ؟



أن يختار الطفل العدد ٥ بشكل صحيح

لنساعد السلحفاة لرسم ٥ دوائر؟










أن يرسم الطفل ٥ دوائر

لنساعد السلحفاة لكتابة رقم ٥؟




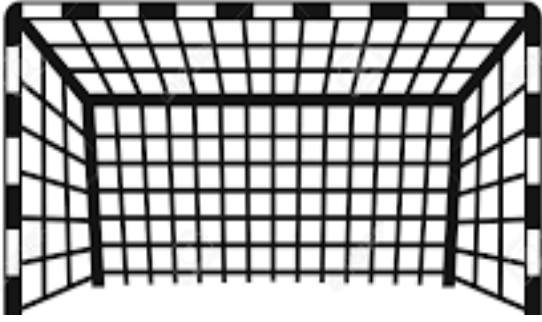
٥	٥
٥	٥

أن يكتب الطفل رقم ٥



تقوم المعلمة أو الأم بنطق الرقم والإشارة إليه بعد ذلك تقوم بالعد

لنساعد السلحفاة لتسجيل ست أهداف المرمى المناسب ؟



أن يختار الطفل رقم ٦ بشكل صحيح




إعداد المعطمة : حصه الخثلان twitter:@h_alkhathlan

انساعء السلءفاء لكءابء رقم ٦؟






٦	٦
٦	٦

أن يكءب الءفل رقم ٦




تقوم المعلمة أو الأم بنطق الرقم والإشارة إليه بعد ذلك تقوم بالعد

لنساعد السلحفاة على رمي الكرة إلى البولينق عدد ٧ ؟



أن يختار الطفل العدد ٧ بشكل صحيح

لنساعد السلحفاة لرسم ٧ دوائر؟





أن يرسم الطفل ٧ دوائر

لنساعد السلحفاة لكتابة رقم ٧؟





أن يكتب الطفل رقم ٧



تقوم المعلمة أو الأم بنطق الرقم والإشارة إليه بعد ذلك تقوم بالعد


لنساعد السلحفاة لتسجيل ثمانية أهداف باختيار المرمى المناسب ؟



أن يختار الطفل رقم ٨ بشكل صحيح



إعداد المعطمة : حصه الخثلان twitter:@h_alkhathlan

انساعء السلءفاء لكءابء رقم ٨؟






أن يكءب الءفل رقم ٨

9




تقوم المعلمة أو الأم بنطق الرقم والإشارة إليه بعد ذلك تقوم بالعد

لنساعد السلحفاة على رمي الكرة إلى البولينق عدد ٩ ؟




أن يختار الطفل العدد ٩ بشكل صحيح

لنساعد السلحفاة لرسم ٩ دوائر؟














أن يرسم الطفل ٩ دوائر

لنساعد السلحفاة لكتابة رقم ٩؟



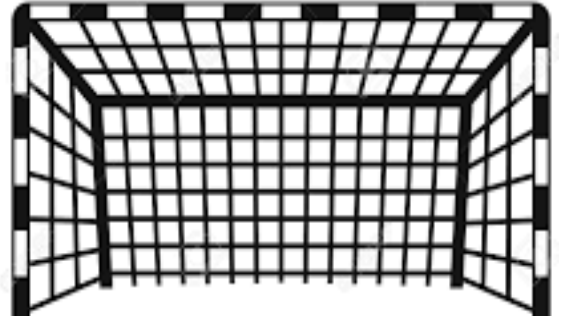
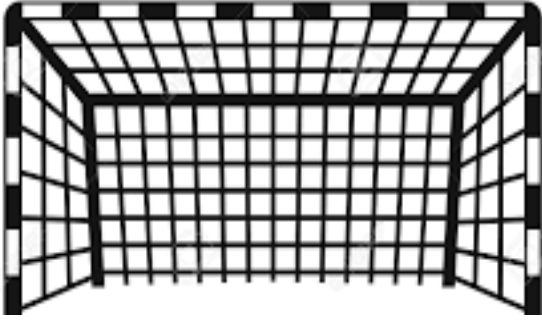
٩	٩
٩	٩

أن يكتب الطفل رقم ٩



تقوم المعلمة أو الأم بنطق الرقم والإشارة إليه بعد ذلك تقوم بالعد


لنساعد السلحفاة لتسجيل عشر أهداف بالمرمى المناسب ؟



أن يختار الطفل رقم ١٠ بشكل صحيح

إعداد المعطمة : حصه الختلان twitter:@h_alkhathlan

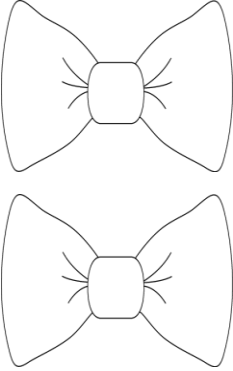
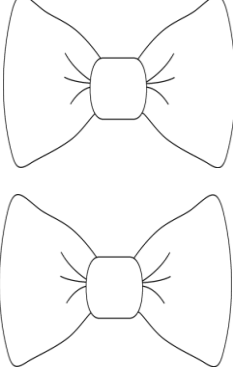
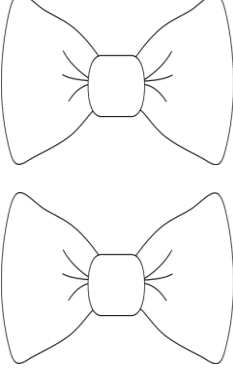
لنساعد السلحفاة لكتابة رقم ١٠؟

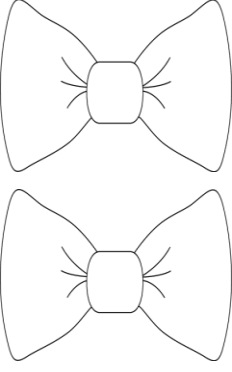
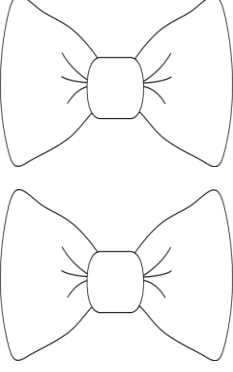
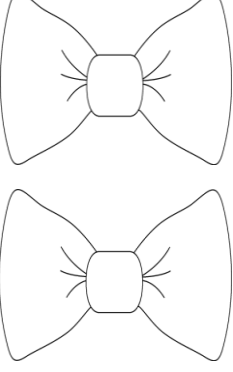
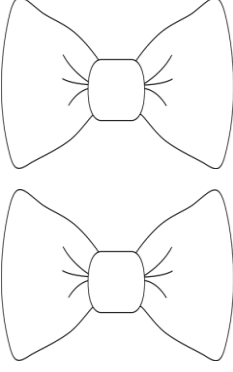


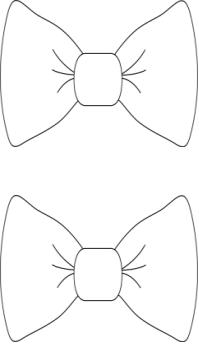
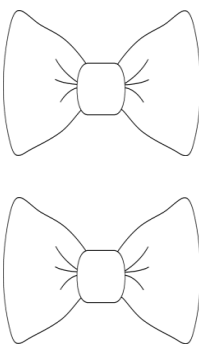
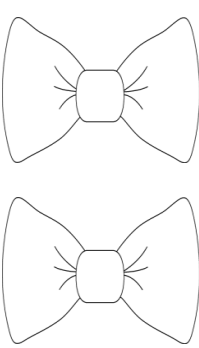
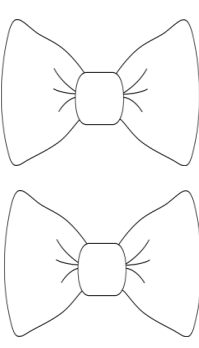
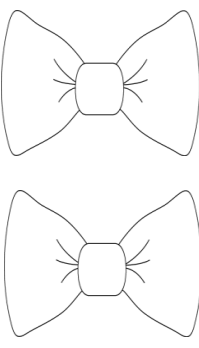
أن يكتب الطفل رقم ١٠







لنساعد السلحفاة على العد واختيار الرقم الصحيح؟

		
٦	٣	


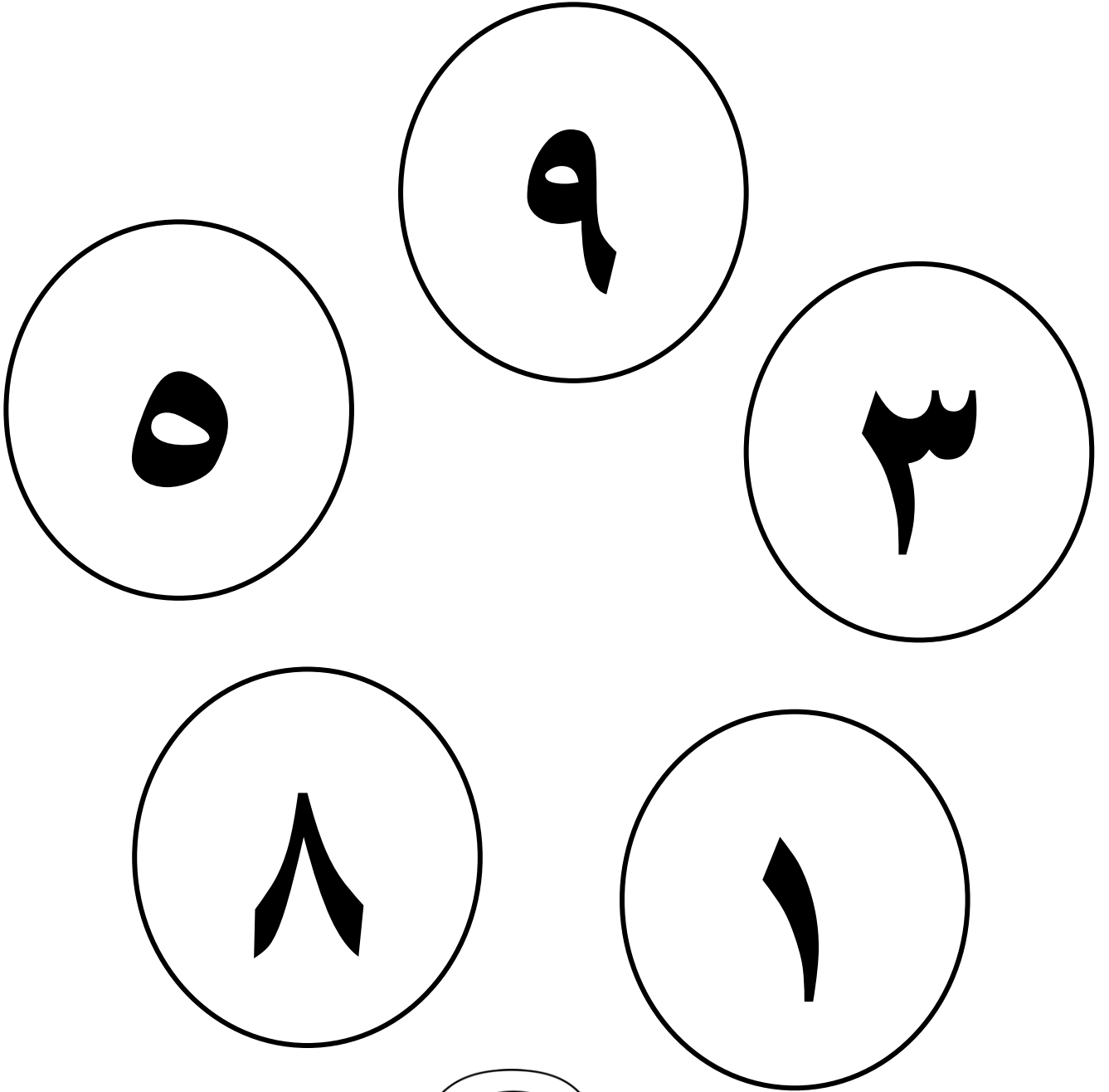
			
٧	٨		

				
٥	١٠			



لنساعد السلحفاة على عد البالون وكتابة الرقم المناسب ؟



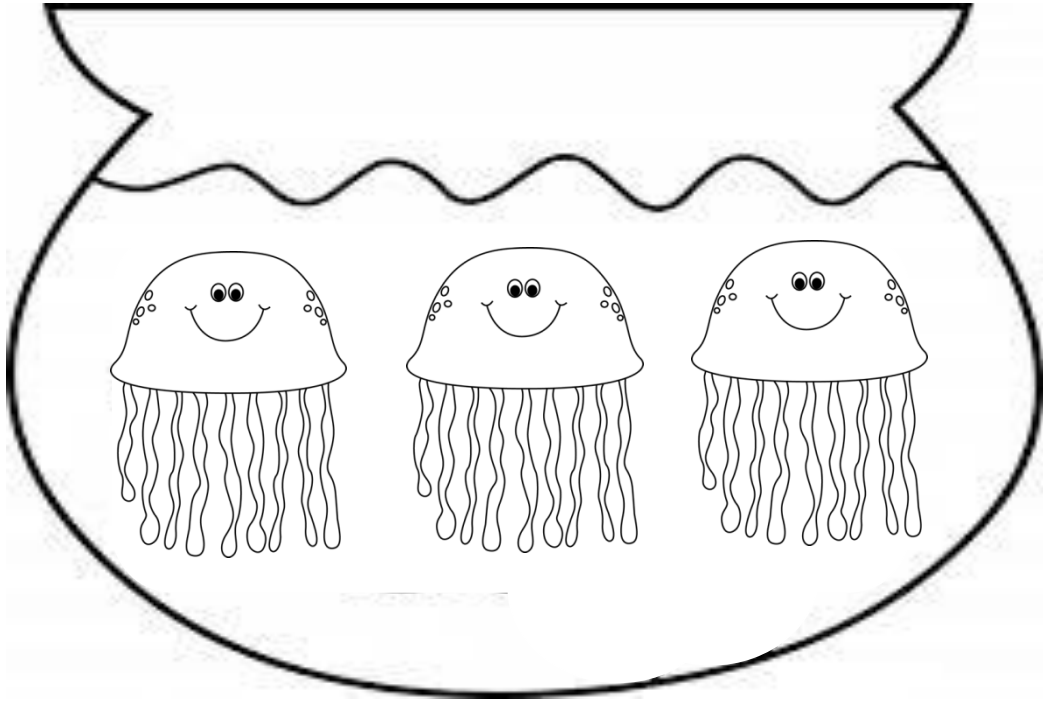
لنساعد السلحفاة على البحث عن دائرة الرقم ٩ وتلوينها ؟



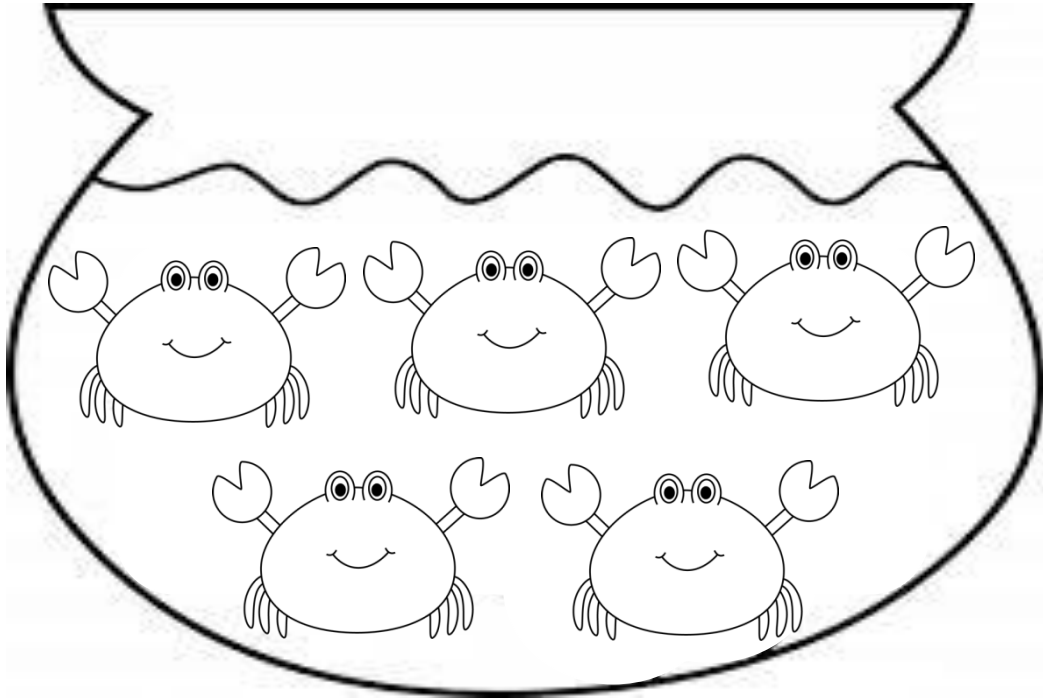
ساعدى السلحفاة لتلوين ٣ من غلاف الكتب ؟



لنعد الحيوانات البحرية داخل الحوض ونكتب الرقم الصحيح أسفل الحوض ؟





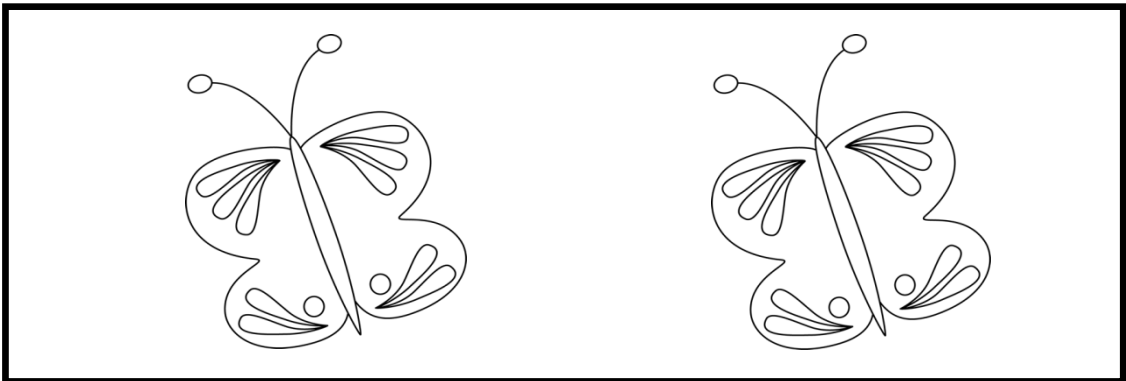


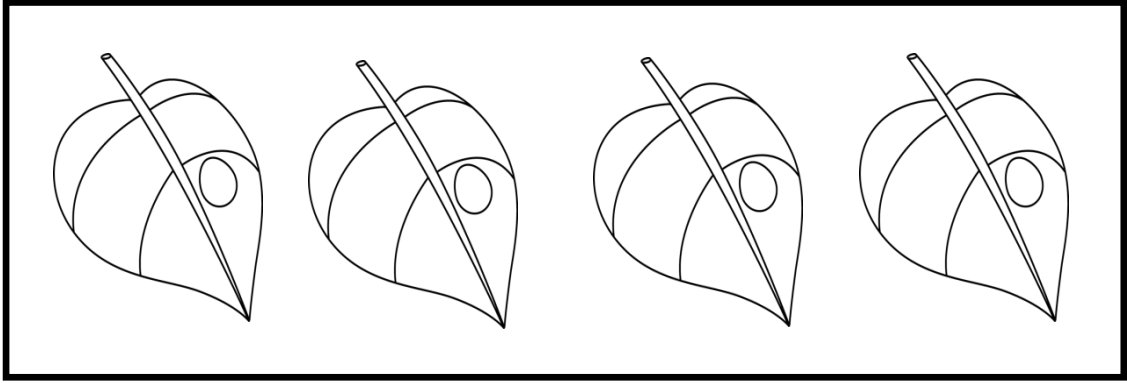



.....



.....



لنساعد السلحفاة على اختيار الدائرة الصحيحة وتلوينها ؟



شكراً لك يا صغيري البطل على حثك
لقد قمت بعمل جميل بالمحاولة والحل وأريد منك أن تتعلم المزيد من
المهارات لتصبح شخصاً مهماً في المستقبل وتفيد المجتمع وتساعد
الناس وتسعد والديك

أتمنى لك التوفيق والنجاح دائماً

شكراً لك يا صغيرتي البطلة على حثك
لقد قمتي بعمل جميل بالمحاولة والحل وأريد منك أن تتعلمي المزيد
من المهارات لتصبحي شخصاً مهماً في المستقبل وتفيدين المجتمع
وتساعدين الناس وتسعين والديك

أتمنى لك التوفيق والنجاح دائماً

