

تم تحميل وتوفير المادة من

موقع كتبي

المدرسية اونلاين



[www.ktbbby.com](http://www.ktbbby.com)

موقع كتبي يعرض لكم الكتب الدراسية الطبعة الجديدة  
وحلولها، توزيع مناهج، تحضير، أوراق عمل، عروض  
بوربوينت، نماذج إختبارات بشكل مباشر PDF

\*جميع الحقوق محفوظة للقائمين على العمل\*

الصف : الأول  
الحصة :

المادة / رياضيات  
التاريخ / / / 14

الاسم :

الموضوع / التهيئة

- ألون الشاحنة بالأصفر والكرة بالأزرق والطائر بالأسود  
والوردة بالأحمر



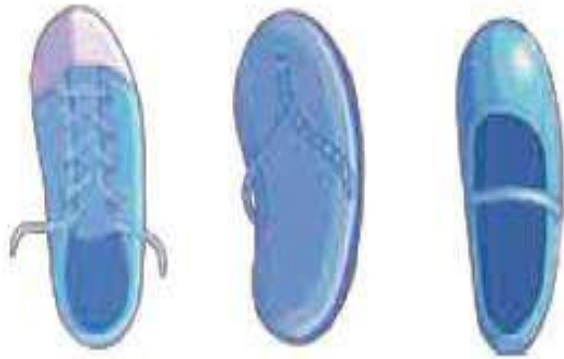
غير مجتازة	متمكنة	متقدمة	متفوقة
<input type="checkbox"/> غير متقن أقل من 80 %	<input type="checkbox"/> متقن المعيار من 80% إلى أقل من 90%	<input type="checkbox"/> متقن المعيار من 90% إلى أقل من 100%	<input type="checkbox"/> متقن المعيار 100%
معلمة المادة/.....			

الصف : الأول  
الوحدة :

المادة / رياضيات  
التاريخ / / / 14

الموضوع / التصنيف وفق خاصية واحدة الاسم :

أضع ○ حول الشيء داخل الإطار الذي له نفس الصفة



غير مجتازة

متمكنة

متقدمة

متفوقة

غير متقن أقل من 80 %

متقن المعيار من 80% إلى أقل من 90%

متقن المعيار من 90% إلى أقل من 100%

متقن المعيار 100%

معلمة المادة/.....

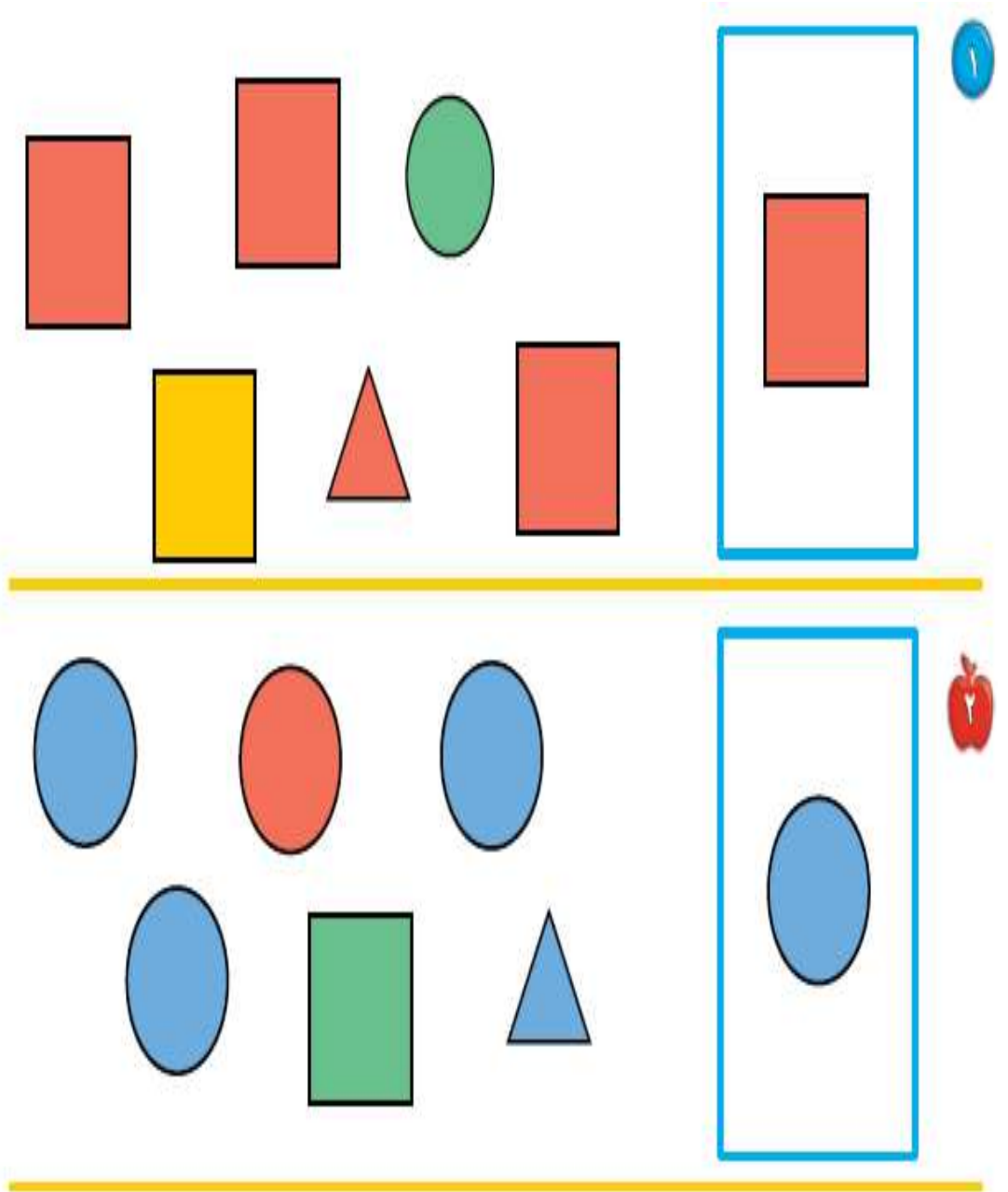
الصف : الأول  
الحصة :

المادة / رياضيات  
التاريخ / / / 14

الاسم :

الموضوع / التصنيف وفق أكثر من خاصية

أضع ○ حول الشكل المماثل و علامة × حول الشكل المختلف



غير مجتازة

متمكنة

متقدمة

متفوقة

غير متقن أقل من 80 %

متقن المعيار من 80% إلى أقل من 90%

متقن المعيار من 90% إلى أقل من 100%

متقن المعيار 100%

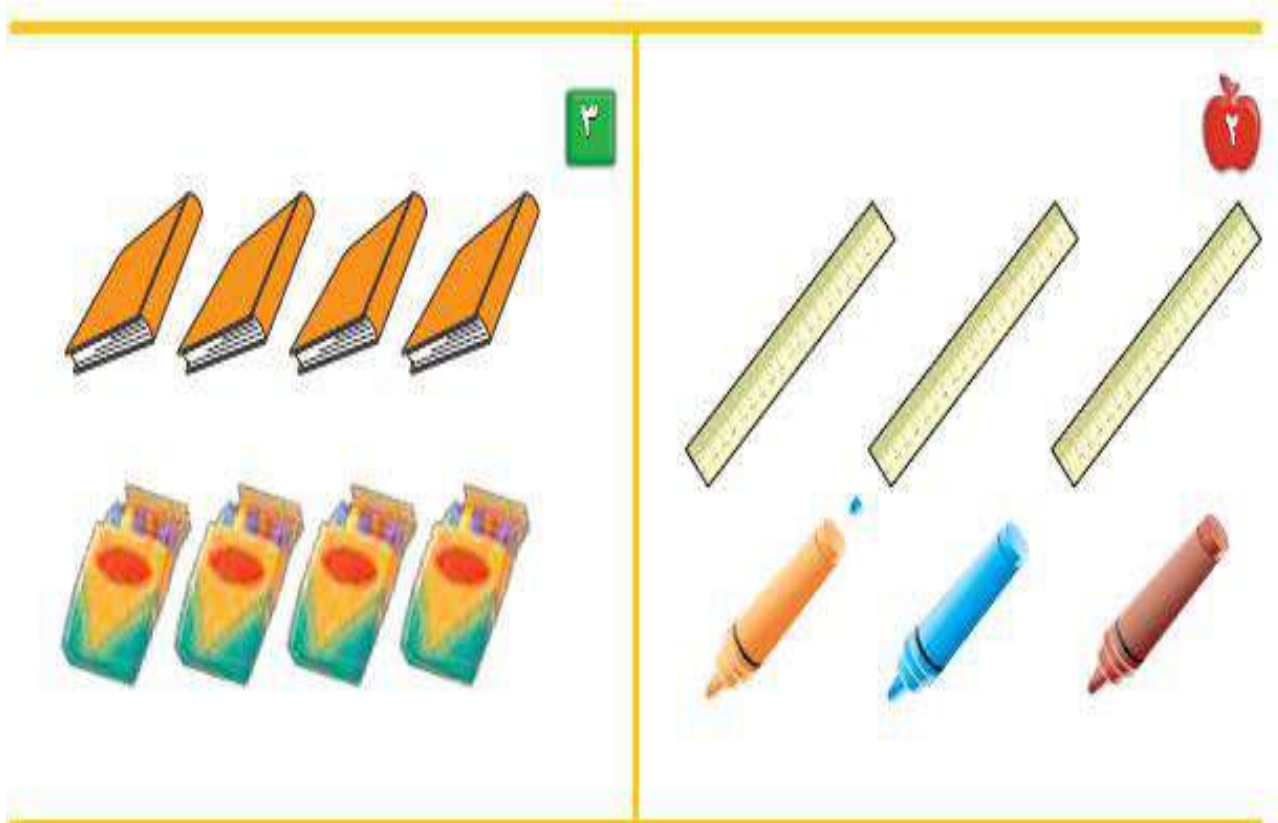
معلمة المادة/.....

الصف : الأول  
الحصة :

المادة / رياضيات  
التاريخ / / / 14

الموضوع / التصنيف وفق أكثر من خاصية (يساوي) الاسم :

أصل بخط بين المجموعتين المتقابلتين



غير مجتازة

متمكنة

متقدمة

متفوقة

غير متقن أقل من 80 %

متقن المعيار من 80% إلى أقل من 90%

متقن المعيار من 90% إلى أقل من 100%

متقن المعيار 100%

معلمة المادة/.....

الصف : الأول  
الحصّة :

المادة / رياضيات  
التاريخ / / / 14

الاسم :

الموضوع / التصنيف ( أكثر من وأقل من )

أصل بخط بين المجموعتين وضع  حول المجموعة التي عناصرها أكثر



غير مجتازة

متمكنة

متقدمة

متفوقة

غير متقن أقل من 80 %

متقن المعيار من 80% إلى أقل من 90%

متقن المعيار من 90% إلى أقل من 100%

متقن المعيار 100%











معلّمة المادة/.....

الصف : الأول  
الحصّة :

المادة / رياضيات  
التاريخ / / / 14

الموضوع / الأعداد 1 ، 2 ، 3 . الاسم :

أعد المربعات ثم ألونها

 ٣  ٢  ١	 ٥  ٤	
		
		

غير مجتازة

متمكنة

متقدمة

متفوقة

غير متمن أقل من 80 %

متمن المعيار من 80% إلى أقل من 90%

متمن المعيار من 90% إلى أقل من 100%

متمن المعيار 100%

معلمة المادة/.....

الصف : الأول  
الحصة :

المادة / رياضيات  
التاريخ / / / 14

الموضوع / قراءة الأعداد ( 1 ، 2 ، 3 ) الاسم :

أعد الأشياء وانطق العدد ثم اكتبه ثلاث مرات



واحد



ثلاثة



اثنان



غير مجتازة

متمكنة

متقدمة

متفوقة

غير متقن أقل من 80 %

متقن المعيار من 80% إلى أقل من 90%

متقن المعيار من 90% إلى أقل من 100%

متقن المعيار 100%

معلمة المادة/.....



الصف : الأول  
الحصة :

المادة / رياضيات  
التاريخ / / / 14

الاسم :

الموضوع / العدان 4 ، 5

ارسم 4 تفاحات على الشجرة الأولى و 5 تفاحات على الشجرة الثانية



1



2

غير مجتازة

متمكنة

متقدمة

متفوقة

غير متقن أقل من 80 %

متقن المعيار من 80% إلى أقل من 90%

متقن المعيار من 90% إلى أقل من 100%

متقن المعيار 100%

معلمة المادة/.....

الصف : الأول  
الحصة :

المادة / رياضيات  
التاريخ / / / 14

الاسم :

الموضوع / قراءة العددين 4 ، 5 وكتابتهم

أعد الأشياء وانطق العدد ثم اكتب العدد ثلاث مرات

3




أَرْبَعَةٌ

4



خَمْسَةٌ

5




أَرْبَعَةٌ

6



7



غير مجتازة

ممكنة

متقدمة

متفوقة

غير متقن أقل من 80 %

متقن المعيار من 80% إلى أقل من 90%

متقن المعيار من 90% إلى أقل من 100%

متقن المعيار 100%

معلمة المادة/.....







الصف : الأول  
الحصّة :

المادة / رياضيات  
التاريخ / / / 14

الاسم :

الموضوع / قراءة العدّد صفر، وكتابتُهُ

أعد الكرات في كل رسمة وعاء ثم قل العدد واكتبه

غير مجتازة

متمكنة

متقدمة

متفوقة

غير متقن أقل من 80 %

متقن المعيار من 80% إلى أقل من 90%

متقن المعيار من 90% إلى أقل من 100%

متقن المعيار 100%

معلّمة المادة/.....

الصف : الأول  
الحصة :

المادة / رياضيات  
التاريخ / / / 14

الاسم :

الموضوع / الأعداد 6 ، 7 ، 8

أعد الأشياء وقل العدد واستعمل قطع العد الملونة لتمثيل العدد



غير مجتازة

متمكنة

متقدمة

متفوقة

غير متقن أقل من 80 %

متقن المعيار من 80% إلى أقل من 90%

متقن المعيار من 90% إلى أقل من 100%

متقن المعيار 100%

معلمة المادة/.....


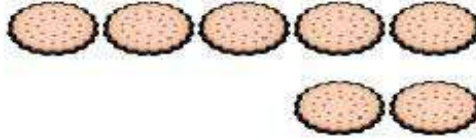
الصف : الأول  
الحصة :

المادة / رياضيات  
التاريخ / / / 14

الاسم :

الموضوع / قراءة الأعداد 6 ، 7 ، 8 وكتابتها

أعد الأشياء وقل العدد ووضح عددها



غير مجتازة

ممكنة

متقدمة

متفوقة

غير متقن أقل من 80 %

متقن المعيار من 80% إلى أقل من 90%

متقن المعيار من 90% إلى أقل من 100%

متقن المعيار 100%

معلمة المادة/.....

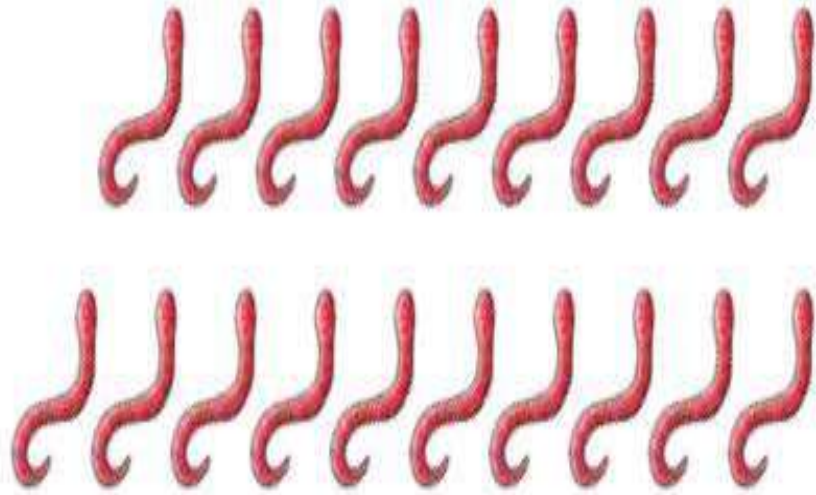
الصف : الأول  
الحصّة :

المادة / رياضيات  
التاريخ / / / 14

الاسم :

الموضوع / العدّان 9 ، 10

أعد المجموعات ثم قل عددها ثم حوّل المجموعة التي عدد عناصرها 9 باللون الأحمر  
والمجموعة التي عدد عناصرها 10 باللون الأزرق



غير مجتازة

متمكنة

متقدمة

متفوقة

غير متقن أقل من 80 %

متقن المعيار من 80% إلى أقل من 90%

متقن المعيار من 90% إلى أقل من 100%

متقن المعيار 100%

معلّمة المادة/.....

الصف : الأول  
الحصة :

المادة / رياضيات  
التاريخ / / / 14

الاسم :

الموضوع / قراءة العددين 9 - 10

أعد الحيوانات وقل العدد ثم اكتب العدد في المكان المخصص



٣



غير مجتازة

ممكنة

متقدمة

متفوقة

غير متقن أقل من 80 %

متقن المعيار من 80% إلى أقل من 90%

متقن المعيار من 90% إلى أقل من 100%

متقن المعيار 100%


معلمة المادة/.....


الصف : الأول  
الحصّة :


المادة / رياضيات  
التاريخ / / / 14


الموضوع / مقارنة الأعداد حتى 10 الاسم :

أعد الأشياء في كل مجموعة ثم اكتب عددها وضع × على المجموعة الأقل









غير مجتازة

ممكنة

متقدمة

متفوقة

غير متقن أقل من 80 %

متقن المعيار من 80% إلى أقل من 90%

متقن المعيار من 90% إلى أقل من 100%

متقن المعيار 100%

معلّمة المادة/.....



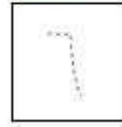

الصف : الأول  
الحصّة :

المادة / رياضيات  
التاريخ / / / 14




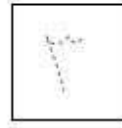



الاسم :

الموضوع / ترتيب الأعداد حتى 10

أعد الأشياء ثم مرر قلمك على الأعداد المنقطة واكتب الأعداد المفقودة



3



غير مجتازة

متمكنة

متقدمة

متفوقة

غير متقن أقل من 80 %

متقن المعيار من 80% إلى أقل من 90%

متقن المعيار من 90% إلى أقل من 100%

متقن المعيار 100%

معلّمة المادة/.....

الصف : الأول  
الحصة :

المادة / رياضيات  
التاريخ / / / 14

الاسم :

الموضوع / العدد الترتيبي

اذكر ترتيب كل نسر وضع  $\bigcirc$  على النسر السادس و  $\times$  على النسر الثالث



غير مجتازة

ممكنة

متقدمة

متفوقة

غير متقن أقل من 80 %

متقن المعيار من 80% إلى أقل من 90%

متقن المعيار من 90% إلى أقل من 100%

متقن المعيار 100%


معلمة المادة/.....

الصف : الأول  
الحصّة :

المادة / رياضيات  
التاريخ / / / 14

الموضوع / الفصل الثالث ( الأعداد حتى 20 ) الاسم :

## أعد الجزرات وحبّات الفلفل وكتب عددها



غير مجتازة

متمكنة

متقدمة

متفوقة

غير متقن أقل من 80 %

متقن المعيار من 80% إلى أقل من 90%

متقن المعيار من 90% إلى أقل من 100%

متقن المعيار 100%

معلّمة المادة/.....


الصف : الأول  
الحصة :


المادة / رياضيات  
التاريخ / / / 14

الاسم :

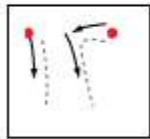
الموضوع / العدان 11 ، 12

أعد الأشياء وانطق العدد ومرر قلمك على العدد المنقط واكتبه





غير مجتازة

ممكنة

متقدمة

متفوقة

غير متقن أقل من 80 %

متقن المعيار من 80% إلى أقل من 90%

متقن المعيار من 90% إلى أقل من 100%

متقن المعيار 100%


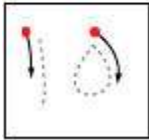

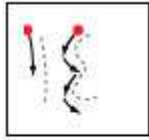
معلمة المادة/.....

الصف : الأول  
الحصة :

المادة / رياضيات  
التاريخ / / / 14

الموضوع / الأعداد 13 ، 14 ، 15 الاسم :

أعد الأشياء وانطق العدد ومرر قلمك على العدد المنقط واكتبيه



غير مجتازة

ممكنة

متقدمة

متفوقة

غير متقن أقل من 80 %

متقن المعيار من 80% إلى أقل من 90%

متقن المعيار من 90% إلى أقل من 100%

متقن المعيار 100%

معلمة المادة/.....


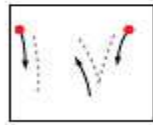

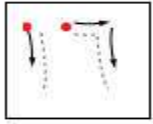
الصف : الأول  
الحصة :

المادة / رياضيات  
التاريخ / / / 14

الاسم :

الموضوع / العددين 16 - 17

أعد الكرات وانطق العدد ثم مرر قلمك على العدد المنقط واكتب العدد



غير مجتازة

ممكنة

متقدمة

متفوقة

غير متقن أقل من 80 %

متقن المعيار من 80% إلى أقل من 90%

متقن المعيار من 90% إلى أقل من 100%

متقن المعيار 100%

معلمة المادة/.....

الصف : الأول  
الحصّة :

المادة / رياضيات  
التاريخ / / / 14

الموضوع / أبحث عن نمط الاسم :

## أعد الريش ثم اكتب العدد وحدد النمط



غير مجتازة

غير متقن أقل من 80 %

متمكنة

متقن المعيار من 80% إلى أقل من 90%

متقدمة

متقن المعيار من 90% إلى أقل من 100%

متفوقة

متقن المعيار 100%

معلّمة المادة/.....

الصف : الأول  
الحصّة :


المادة / رياضيات  
التاريخ / / / 14



















الاسم :

الموضوع / الأعداد 18 ، 19 ، 20


أعد الأشياء و اكتب العدد و مرر قلمك على العدد المنقط و اكتبه




















1




									
									





















2



3



غير مجتازة

ممكنة

متقدمة

متفوقة

غير متقن أقل من 80 %

متقن المعيار من 80% إلى أقل من 90%

متقن المعيار من 90% إلى أقل من 100%

متقن المعيار 100%

معلّمة المادة/.....







الصف : الأول  
الحصة :


المادة / رياضيات  
التاريخ / / / 14

الاسم :

الموضوع / مقارنة الأعداد حتى 20

أعد الأشياء في كل طبق واكتب عددها وضعي × على العدد الذي يمثل المجموعة الأكبر

			
<input type="text"/>	<input type="text"/>	<input type="text"/>	<input type="text"/>



غير مجتازة

ممكنة

متقدمة

متفوقة

غير متقن أقل من 80 %

متقن المعيار من 80% إلى أقل من 90%

متقن المعيار من 90% إلى أقل من 100%

متقن المعيار 100%

معلمة المادة/.....

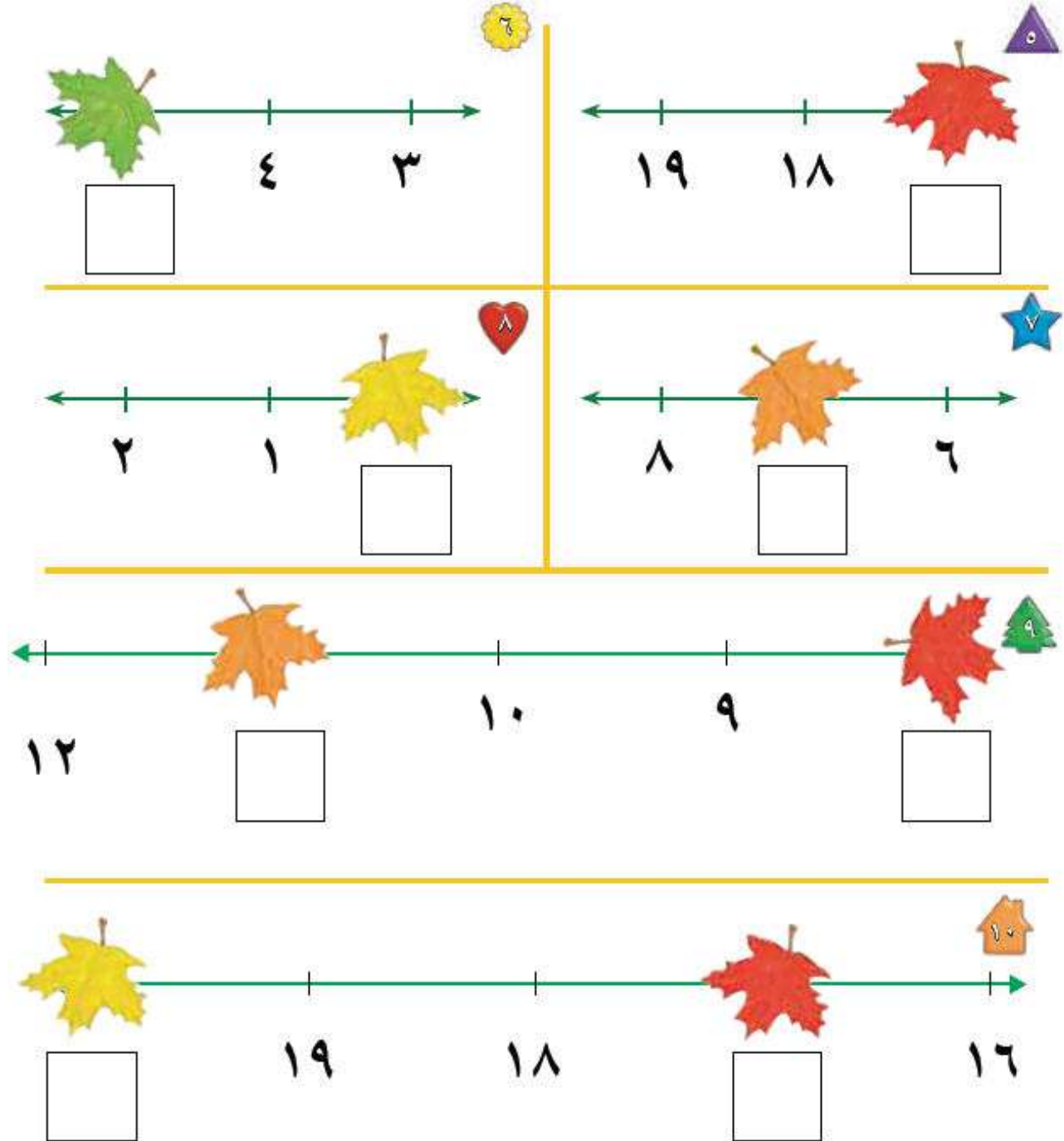
الصف : الأول  
الحصة :

المادة / رياضيات  
التاريخ / / / 14

الاسم :

الموضوع / ترتيب العدد حتى 20 .

أكتب العدد المفقود في الفراغ



غير مجتازة

ممكنة

متقدمة

متفوقة

غير متقن أقل من 80 %

متقن المعيار من 80% إلى أقل من 90%

متقن المعيار من 90% إلى أقل من 100%

متقن المعيار 100%

معلمة المادة/.....


الصف : الأول  
الحصّة :

المادة / رياضيات  
التاريخ / / / 14

الاسم :

الموضوع / الفصل الرابع ( الجمع )

ألاحظ الصورة واكتب عدد التفاحات



غير مجتازة

ممكنة

متقدمة

متفوقة

غير متقن أقل من 80 %

متقن المعيار من 80% إلى أقل من 90%

متقن المعيار من 90% إلى أقل من 100%

متقن المعيار 100%

معلّمة المادة/.....

الصف : الأول  
الحصة :

المادة / رياضيات  
التاريخ / / / 14

الاسم :

الموضوع / قصص الجمع

احكي قصة عددية مستعملاً قطع العدد واكتب عدد الحيوانات



ثَعَالِبَ \_\_\_\_\_



عَزَالاً \_\_\_\_\_



فَرَأَشَةَ \_\_\_\_\_

غير مجتازة

متمكنة

متقدمة

متفوقة

غير متقن أقل من 80 %

متقن المعيار من 80% إلى أقل من 90%

متقن المعيار من 90% إلى أقل من 100%

متقن المعيار 100%

معلمة المادة/.....

الصف : الأول  
الحصة :

المادة / رياضيات  
التاريخ / / / 14

الاسم :

الموضوع / تمثيل الجمع

## استعمل ورقة العمل 3 وقطع العد لإيجاد ( الكل ) المجموع

جزء	جزء
٥	٤
الكل	



جزء	جزء
٢	٣
الكل	



جزء	جزء
٥	٥
الكل	



جزء	جزء
٢	٥
الكل	



جزء	جزء
٢	٤
الكل	



جزء	جزء
٣	١
الكل	



جزء	جزء
٣	٣
الكل	



جزء	جزء
٢	١
الكل	



غير مجتازة

متمكنة

متقدمة

متفوقة

غير متقن أقل من 80 %

متقن المعيار من 80% إلى أقل من 90%

متقن المعيار من 90% إلى أقل من 100%

متقن المعيار 100%

معلمة المادة/.....

الصف : الأول  
الحصة :

المادة / رياضيات  
التاريخ / / / 14

الاسم :

الموضوع / جمل الجمع

### استعمل المكعبات لتمثيل جملة الجمع واكتبها



غير مجتازة

متمكنة

متقدمة

متفوقة

غير متقن أقل من 80 %

متقن المعيار من 80% إلى أقل من 90%

متقن المعيار من 90% إلى أقل من 100%

متقن المعيار 100%

معلمة المادة/.....

الصف : الأول  
الوحدة :

المادة / رياضيات  
التاريخ / / / 14


الاسم :

الموضوع / جمع الصفر

## اكتب ناتج الجمع



$$\underline{\quad} = 1 + 3$$



$$\underline{\quad} = 1 + 5$$



$$\underline{\quad} = 1 + 1$$



$$\underline{\quad} = 1 + 6$$

$$\underline{\quad} = 1 + 8$$



$$\underline{\quad} = 1 + 7$$



$$\underline{\quad} = 1 + 2$$



$$\underline{\quad} = 3 + 3$$



غير مجتازة

متمكنة

متقدمة

متفوقة

غير متقن أقل من 80 %

متقن المعيار من 80% إلى أقل من 90%

متقن المعيار من 90% إلى أقل من 100%

متقن المعيار 100%

معلمة المادة/.....

الصف : الأول  
الحصة :

المادة / رياضيات  
التاريخ / / / 14

الاسم :

الموضوع / أهل المسألة

## مثل قصص الجمع لإيجاد الناتج



$$\underline{\hspace{2cm}} = \underline{\hspace{2cm}} + \underline{\hspace{2cm}}$$



$$\underline{\hspace{2cm}} = \underline{\hspace{2cm}} + \underline{\hspace{2cm}}$$



$$\underline{\hspace{2cm}} = \underline{\hspace{2cm}} + \underline{\hspace{2cm}}$$

غير مجتازة

متمكنة

متقدمة

متفوقة

غير متقن أقل من 80 %

متقن المعيار من 80% إلى أقل من 90%

متقن المعيار من 90% إلى أقل من 100%

متقن المعيار 100%

معلمة المادة/.....





الصف : الأول  
الحصّة :

المادة / رياضيات  
التاريخ / / / 14

الاسم :

الموضوع / تكوين الأعداد 4، 5، 6

استعمل قطع العد الكرة الحمراء والصفراء وضعهما في مجموعتين لتكوين العدد 4 ثم لون واكتب الأعداد

تكوّن العدد 4				
التّاج	يَسَاوِي		زائد +	
4	=		+	
4	=	_____	+	_____
4	=	_____	+	_____


غير مجتازة

متمكّنة

متقدمة

متفوقة

غير متقن أقل من 80 %

متقن المعيار من 80% إلى أقل من 90%

متقن المعيار من 90% إلى أقل من 100%

متقن المعيار 100%

معلّمة المادة/.....








الصف : الأول  
الحصة :








المادة / رياضيات  
التاريخ / / / 14

الاسم :

الموضوع / تكوين الأعداد 7 ، 8 ، 9

استعمل قطع العد الكرة الحمراء والصفراء وضعهما في مجموعتين لتكوين العدان 8 ، 9 ثم لون واكتب الأعداد

تكوين العدد 9			
النتج	يساوي	زائد	
9	=	___ + ___	
9	=	___ + ___	
9	=	___ + ___	
9	=	___ + ___	
9	=	___ + ___	
9	=	___ + ___	
9	=	___ + ___	

تكوين العدد 8			
النتج	يساوي	زائد	
8	=	___ + ___	
8	=	___ + ___	
8	=	___ + ___	
8	=	___ + ___	
8	=	___ + ___	
8	=	___ + ___	
8	=	___ + ___	

غير مجتازة	متمكنة	متقدمة	متفوقة
<input type="checkbox"/> غير متقن أقل من 80 %	<input type="checkbox"/> متقن المعيار من 80% إلى أقل من 90%	<input type="checkbox"/> متقن المعيار من 90% إلى أقل من 100%	<input type="checkbox"/> متقن المعيار 100%
معلمة المادة/.....			

الصف : الأول  
الحصّة :

المادة / رياضيات  
التاريخ / / / 14

الاسم :

الموضوع / تكوين الأعداد 10 ، 11 ، 12

استعمل قطع العد الكرة الحمراء والصفراء ثم ارسـم دوائر واكتب العدد




$$10 = \text{---} + \text{---}$$




$$10 = \text{---} + \text{---}$$




$$11 = \text{---} + \text{---}$$




$$11 = \text{---} + \text{---}$$




$$12 = \text{---} + \text{---}$$




$$12 = \text{---} + \text{---}$$




$$12 = \text{---} + \text{---}$$




$$11 = \text{---} + \text{---}$$

غير مجتازة

متمكنة

متقدمة

متفوقة

غير متقن أقل من 80 %

متقن المعيار من 80% إلى أقل من 90%

متقن المعيار من 90% إلى أقل من 100%

متقن المعيار 100%

معلّمة المادة/.....

الصف : الأول  
الحصّة :

المادة / رياضيات  
التاريخ / / / 14

الاسم :

الموضوع / الجمع الرأسي

اكتب الأعداد ثم أوجد الناتج



$$\begin{array}{r} \square \\ \square + \\ \hline \square \end{array}$$



$$\text{---} = \text{---} + \text{---}$$



$$\begin{array}{r} \square \\ \square + \\ \hline \square \end{array}$$



$$\text{---} = \text{---} + \text{---}$$



غير مجتازة

متمكنة

متقدمة

متفوقة

غير متقن أقل من 80 %

متقن المعيار من 80% إلى أقل من 90%

متقن المعيار من 90% إلى أقل من 100%

متقن المعيار 100%

معلّمة المادة/.....