

تم تحميل وعرض المادة من :



موقع واجباتي

www.wajibati.net


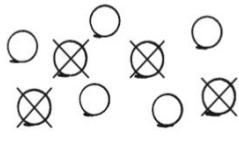
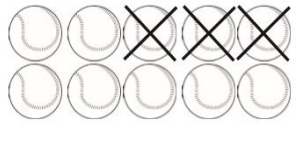
موقع واجباتي منصة تعليمية تساهم بنشر حل المناهج الدراسية بشكل متميز لترتقي بمجال التعليم على الإنترنت ويستطيع الطلاب تصفح حلول الكتب مباشرة لجميع المراحل التعليمية المختلفة

* جميع الحقوق محفوظة للقائمين على الموقع *

السؤال الأول : أكتب العدد المتبقي ، أكتب جملة الطرح ، مهارة حل مسائل رياضية

<p>١٠٠</p> <p>١٠ حمامات على الأرض، طارَت ٢ منها. كم حمامة بقيت؟</p> <p>..... ○ ○</p>	<p>٦ قطع عدّ، أخذنا ٣ منها. كم يتبقى؟ قطعة</p>	<p>٧ قطع عدّ، أخذنا ٥ منها. كم يتبقى؟ قطعة</p>
--	--	--

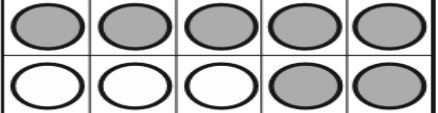
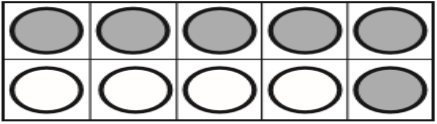
السؤال الثاني : أكتب جملة الطرح : مهارة كتابة جمل الطرح

<p>١٠٠</p> <p>٣</p>  <p>..... ○ ○</p>	<p>٢</p>  <p>..... ○ ○</p>	<p>١</p>  <p>..... ○ ○</p>
--	---	---

السؤال الثالث : أكتب ناتج الطرح : مهارة إيجاد ناتج (الجمع إلى الصفر)

<p>١٠٠</p> <p>..... = ١ - ٥</p> <p>..... = ٣ - ٤</p> <p>..... = ٥ - ٦</p>	<p>..... = ٣ - ٦</p> <p>..... = ٥ - ٥</p> <p>..... = ٢ - ٤</p>	<p>..... = ٠ - ٤</p> <p>..... = ٢ - ٦</p> <p>..... = ٢ - ٥</p>
---	--	--

السؤال الرابع : أكتب ناتج الطرح : مهارة إيجاد ناتج الطرح من الأعداد (٤ ، ٥ ،)

<p>١٠٠</p> <p>..... = ٥ - ٧</p> <p>..... = ٢ - ٨</p> 	<p>..... = ٤ - ٨</p> <p>..... = ٦ - ٩</p> 	<p>..... = ١ - ٩</p> <p>..... = ٧ - ٨</p>
--	---	---

..... = ٤ - ١١

..... = ٧ - ١١

..... = ٤ - ١٠

..... = ٦ - ١٠