

تم تحميل وعرض المادة من

موقع كتبي

المدرسية اونلاين



www.ktbbby.com

موقع كتبي يعرض لكم الكتب الدراسية الطبعة الجديدة
وحلولها، توزيع مناهج، تحضير، أوراق عمل، عروض
بوربوينت، نماذج إختبارات بشكل مباشر PDF

جميع الحقوق محفوظة للقائمين على العمل

اليوم :

المادة : رياضيات

..... :

بِسْمِ اللَّهِ الرَّحْمَنِ الرَّحِيمِ

/ هو :

(.) :



المجموع



المجموع

المهارة

(
الاوراق النقدية ذات
الفئات (ريال 5 ريال ،
10ريال ، 50 ريال)

المهارة

) ()

(

ب) اكتب الوقت الذي تشير اليه الساعة:



.....

.....

يأتي , أحيط الصحيحة :

(

صديق

ساعة

دقيقة

ثانية

ساعة

دقيقة


ثانية

:

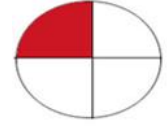
المهارة
(تمثيل كسور الوحدة
12
وقراءتها وكتابتها



.....





.....



.....

:

المهارة
التعبير عن الكل باستعمال



:

:

المهارة :
(التعبير بالكسور عن شي واحد أو أكثر
من الأشياء المتماثلة ضمن مجموعة)

فيما يلي :

/



المهارة
يطرح بالعد التنزلي

استعمال حقائق العدد ونفسه واستعمال حقائق

/

$$\dots = 0 - 7 \quad \dots = 2 - 6 \quad \dots = 4 - 8$$

$$\dots = 5 - 10 \quad 10 = \dots + 5 \quad \dots = 0 - 6 \quad \dots = 6 - 6$$

اختبار مادة: الرياضيات

المملكة العربية السعودية

وزارة التعليم

مكتب التربية والتعليم بمحافظة الطائف

المدرسة : الابتدائية 23

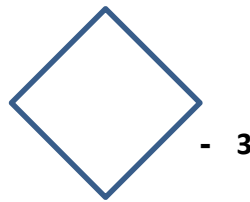
:

/2 :

:


: حل مسائل رياضية باستعمال استراتيجيات ومهار

السؤال الثاني : تمييز الأشكال الهندسية المستوية (المربع ، المستطيل ، المثلث ، الدائرة ، شبه المنحرف ، السداسي)
ووصفها حسب عدد أضلاعها ورؤسها .



يلي :

:



.....:

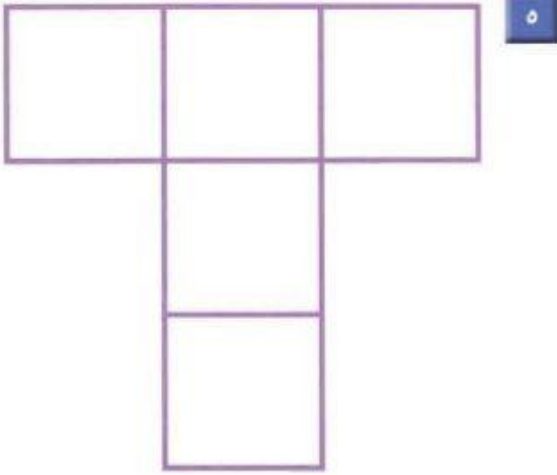
.....:

.....
.....


.....
.....

ع: استعمال نماذج مربعة الشكل لايجاد المساحة :

أَسْتَعْمِلُ  لِأَجْدَ الْمِسَاحَةَ:



..... وَحَدَاتٍ مُرَبَّعَةٍ.



..... وَحَدَاتٍ مُرَبَّعَةٍ.

انتهت الأسئلة