

الفصل الدراسي الفترة	الأول الثانية	المادة التاريخ	علوم		الصف	السادس	الفصل العدد	١
			/ / ١٤٤٠ هـ					

السؤال الأول : اكمل: من الوظائف التي يؤديها جسم المخلوق الحي :

(أ) - حركة الجسم تنتج عن العضلات وانبساطها وتشكل العضلات في الجسم الجهاز

وظيفة الجهاز الهيكلي و

المهارة ٢٠:

وصف علاقة بين أجهزة الجسم أثناء الحركة

أ	ب	ج	د

(ب) - الجهاز مسنول عن هضم الطعام وامتصاصه ويساعده على ذلك أعضاء أخرى ، منها الكبد

والبنكرياس والأوعية الدموية

والجهاز التنفسي مسنول عن تزويد الجسم من خلال عملية الشهيق وإخراج ثاني أكسيد الكربون

و الماء من خلال عملية

والجسم يتخلص من الفضلات عن طريق والجهاز

أما الجهاز فهو المسنول عن تنظيم جميع أنشطة الجسم ، سواء أكان الإنسان مستيقظاً أم نائماً

المهارة ٢١:

ذكر الوظائف التي يؤديها جسم المخلوق الحي وتسمية الأجهزة المسؤولة عنها

أ	ب	ج	د

السؤال الثاني : بمقال بسيط اكتب عن بعض السلوكيات السليمة والخطئة التي يمارسها التلاميذ في المدرسة وأثارها الصحية

السلوكيات الخطئة

السلوكيات السليمة :

.....

.....

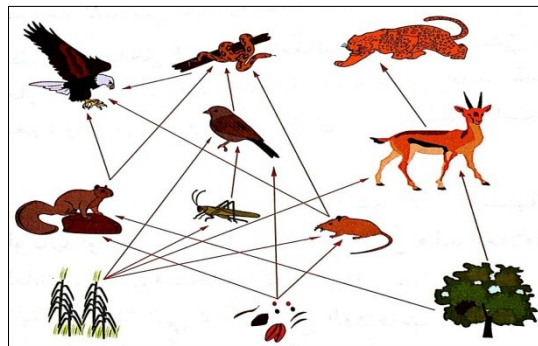
.....

المهارة ٢٢:

كتابة مقال بسيط عن السلوكيات السليمة والخطئة التي يمارسها التلاميذ في المدرسة وأثارها الصحية

أ	ب	ج	د

السؤال الثالث : من خلال الشبكة الغذائية التالية حدد ادوار المخلوقات الحية المكونة لها ؟



مصدر الطاقة :

المنتجات :

المستهلك الأول :

المستهلك الثاني :

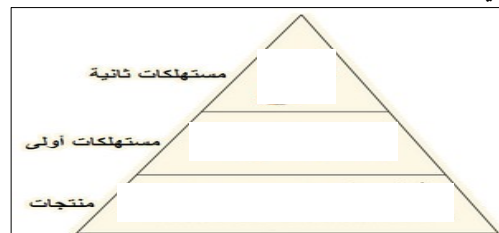
المحللات :

المهارة ٢٣:

تكوين شبكة غذائية في بيئة ما مع تحديد ادوار المخلوقات الحية المكونة لها

أ	ب	ج	د

السؤال الرابع: كون هرم الطاقة من خلال النموذج التالي



- مصدر الطاقة الرئيسي

المهارة ٢٤:

بناء هرم طاقة في نظام بيئي ما

أ	ب	ج	د

السؤال الخامس: عدد العوامل التي تحدد أنواع المخلوقات الحية التي تعيش في منطقة حيوية ما ؟

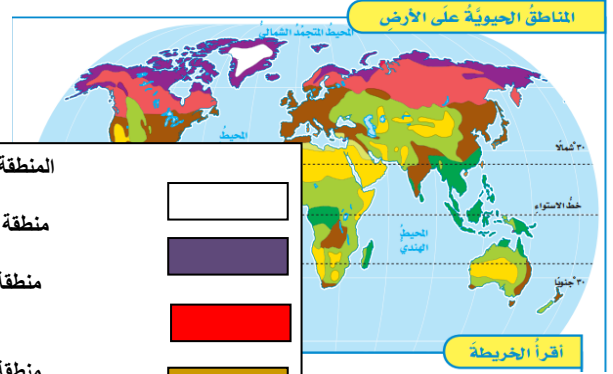
- ١-
- ٢-
- ٣-

المهارة: ٢٥

تعداد العوامل التي تحدد أنواع المخلوقات الحية التي تعيش في منطقة حيوية ما

أ	ب	ج	د

السؤال السادس: سم بعض المناطق الحيوية من خلال خريطة المناطق الحيوية على سطح الأرض ؟



المنطقة المتجمدة .

منطقة

منطقة

منطقة الغابات المتساقطة الأوراق

منطقة

منطقة

منطقة

أ	ب	ج	د

المهارة: ٢٦

تسمية المناطق الحيوية

السؤال السابع : عدد نطاقات التربة؟

المهارة: ٢٧

تعداد نطاقات التربة

أ	ب	ج	د

السؤال الثامن : كيف نحافظ على التربة؟

المهارة: ٢٨

تعداد بعض طرائق المحافظة على التربة

أ	ب	ج	د

السؤال التاسع : من الطاقة البديلة في البيئة ؟

المهارة: ٢٩

تعداد بعض طرائق المحافظة على التربة

أ	ب	ج	د

- ١-
- ٢-

أ	ب	ج	د
١٠٠	٩٩-٩٠	٨٠-٨٩	>٨٠

معلم المادة /