

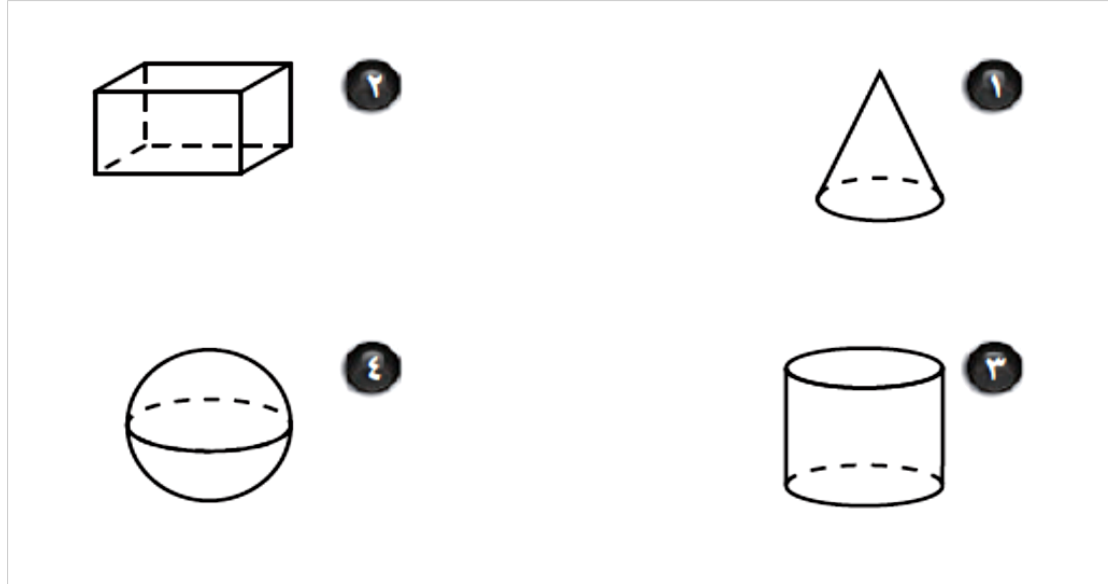
بنك الأسئلة للفصل الثامن

((الأشكال الهندسية والاستدلال المكاني))

ضعي الورقة بعد الحل في ملف الانجاز

السؤال الأول:

ما اسم كل مجسم مما يأتي



املئي الجدول

عدد الأحرف	عدد الأوجه	عدد رؤوسه	اسمه	الشكل
			هرم ثلاثي	
			منشور ثلاثي	

## السؤال الثاني

اختيار من متعدد

١ ما نوع الزاوية في الشكل المجاور؟



- (أ) منفرجة  
(ب) حادة  
(ج) مستقيمة  
(د) قائمة

٢ ما اسم المضلع في الشكل المجاور؟



- (أ) خماسي  
(ب) ثماني  
(ج) سداسي  
(د) مثلث

٣ ما قياس الزاوية في الشكل المجاور؟



- (أ)  $90^\circ$   
(ب)  $180^\circ$   
(ج)  $270^\circ$   
(د)  $360^\circ$

استعمل الشكل المجاور؛ للإجابة عن السؤالين (٤ ، ٥) :



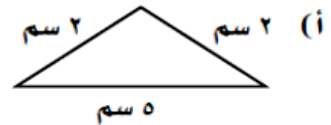
٤ ما اسم الشكل؟

- (أ) منشور ثلاثي  
(ب) منشور رباعي  
(ج) هرم ثلاثي  
(د) هرم رباعي

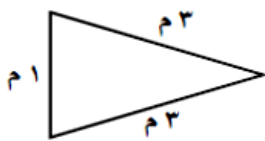
٥ ما عدد الأوجه والأحرف والرؤوس لهذا الشكل؟

- (أ) ٣ أوجه، ٣ أحرف، رأس واحد.  
(ب) ٤ أوجه، ٦ أحرف، ٤ رؤوس.  
(ج) ٣ أوجه، ٥ أحرف، ٣ رؤوس.  
(د) ٤ أوجه، ٧ أحرف، ٣ رؤوس.

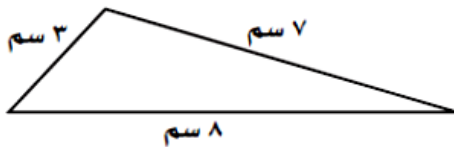
٦ أي المثلثات التالية مختلف الأضلاع ومنفرج الزاوية؟



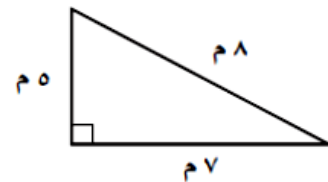
(ب)



(د)

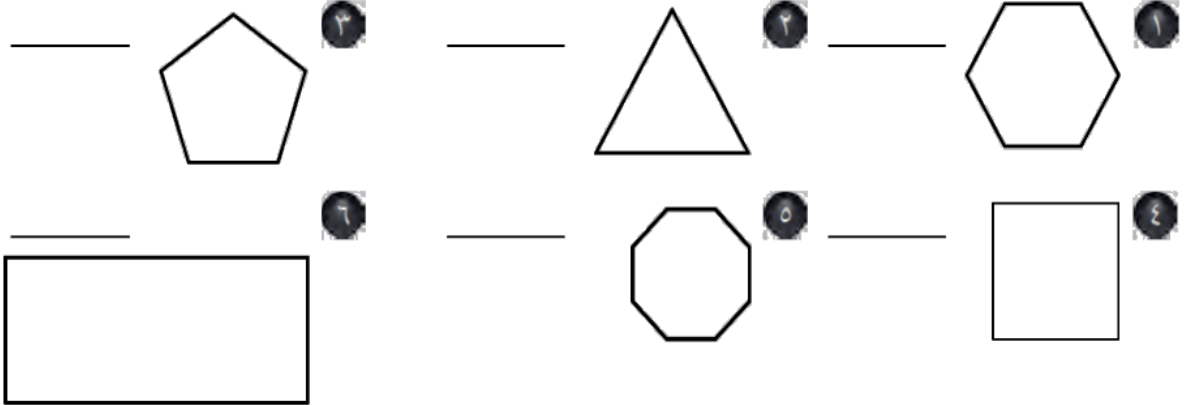


(ج)

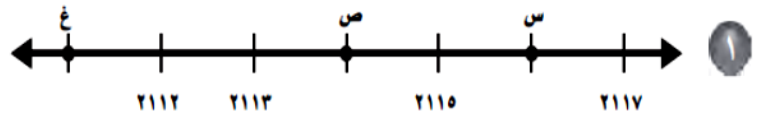


السؤال الثالث

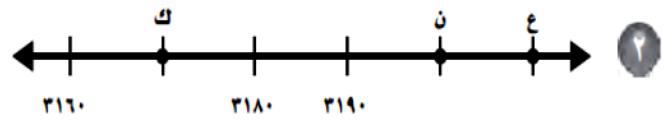
مَا اسْمُ كُلِّ مِنَ الْمُضَلَّعَاتِ الْآتِيَةِ:



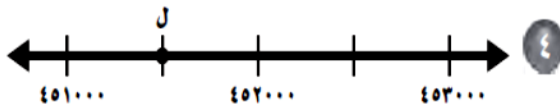
فِي الْأَسْئَلَةِ ١-٤، مَا الْعَدَدُ الَّذِي تُمَثِّلُهُ كُلُّ نُقْطَةٍ عَلَى خَطِّ الْأَعْدَادِ؟



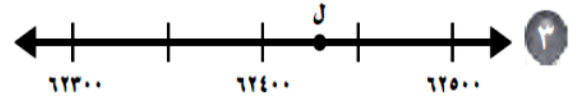
س = \_\_\_\_\_ ص = \_\_\_\_\_ ع = \_\_\_\_\_



ع = \_\_\_\_\_ ن = \_\_\_\_\_ ك = \_\_\_\_\_



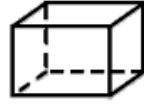
ل = \_\_\_\_\_



ل = \_\_\_\_\_

السؤال الرابع

اختيار من متعدد



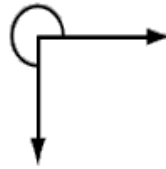
١ ما اسم الشكل المجاور؟

- (أ) مكعب  
(ب) مخروط  
(ج) منشور ثلاثي  
(د) منشور رباعي



٢ ما اسم المضلع في الشكل المجاور؟

- (أ) خماسي  
(ب) ثماني  
(ج) سداسي  
(د) مثلث



٣ ما قياس الزاوية في الشكل المجاور بالدرجات؟

- (أ)  $90^\circ$   
(ب)  $180^\circ$   
(ج)  $270^\circ$   
(د)  $360^\circ$



استعمل الشكل المجاور؛ للإجابة عن السؤالين (٤، ٥)؛

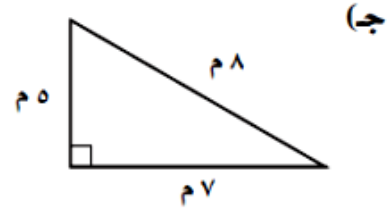
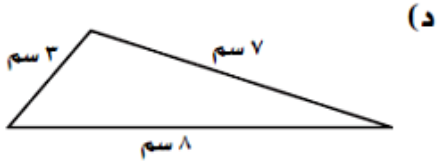
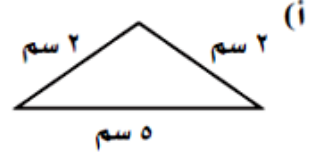
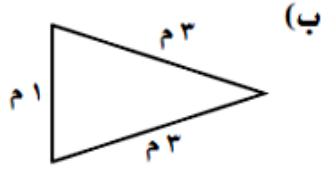
٤ ما اسم الشكل؟

- (أ) منشور ثلاثي  
(ب) هرم ثلاثي  
(ج) منشور رباعي  
(د) هرم رباعي

٥ ما عدد الأوجه والأحرف والرؤوس لهذا الشكل؟

- (أ) ٦ أوجه، ٧ أحرف، ٥ رؤوس  
(ب) ٥ أوجه، ٩ أحرف، ٦ رؤوس  
(ج) ٥ أوجه، ٩ أحرف، ٥ رؤوس  
(د) ٦ أوجه، ٨ أحرف، ٦ رؤوس

٦ أيّ المثلثات التالية متطابقٌ الضلعينِ وحادُّ الزوايا؟



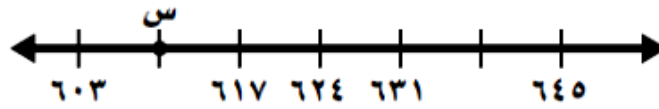
٧ ما عددُ رؤوسِ الشَّكْلِ المجاورِ؟

- (i) ٠ (ب) ١ (ج) ٢ (د) ٣

٨ أوجدِ العددَ المفقودَ في النمطِ التالي: ١، ٣، ٧، \_\_، ٣١

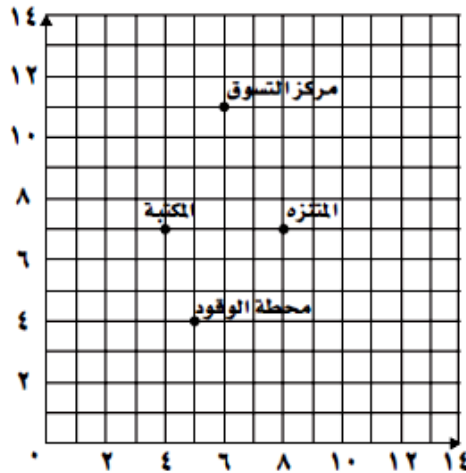
- (i) ١٤ (ب) ١٥ (ج) ١٨ (د) ٢١

٩ ما العددُ الَّذِي تمثلهُ النقطةُ (س) على خطِّ الأعدادِ أدناه؟



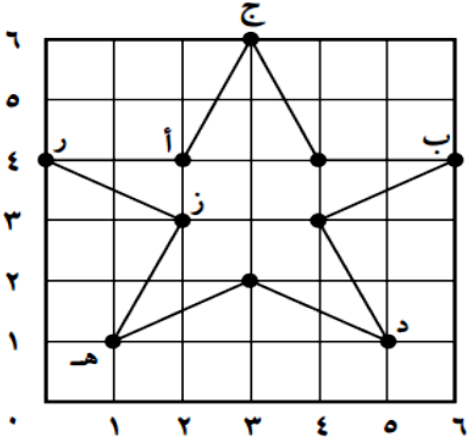
- (i) 652 (ب) 596 (ج) 638 (د) 610

١٠ ما الشيءُ الَّذِي يقعُ عندَ الزوجِ المرتبِ (٧، ٨) في الرسمِ البيانيِّ أدناه؟

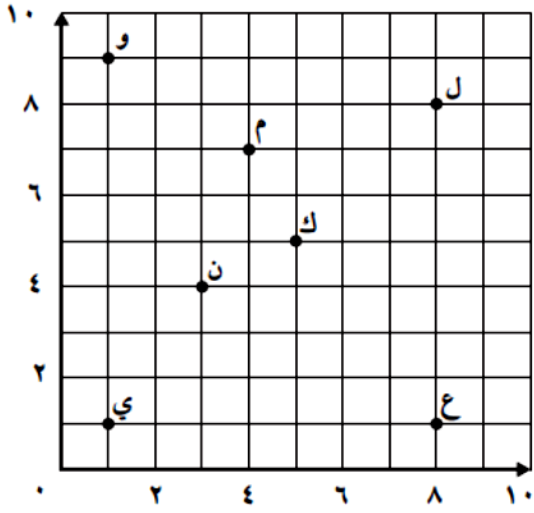


- (i) المكتبة (ب) مركزُ التسوق (ج) المتنزه (د) محطةُ الوقود

حدد الزوج المرتب الذي يمثل موقع كل مما يأتي



- ب \_\_\_\_\_  
 د \_\_\_\_\_  
 هـ \_\_\_\_\_  
 ز \_\_\_\_\_



- ل \_\_\_\_\_  
 و \_\_\_\_\_  
 ع \_\_\_\_\_  
 ي \_\_\_\_\_

ستصبحين ناجحة

منذ اللحظة التي تبدأين فيها التوجه

نحو هدف ذي قيمة

إعداد المعلمة / إيمان اليافعي