



↓ تم تحميل ملف المادة من مكتبة طلابنا  
زورونا على الموقع

[www.tlabna.net](http://www.tlabna.net)

مكتبه طلابنا تقدم لكم كل ما يحتاج المعلم والمعلمه والطلبة , الطبعات الجديده للكتب والحلول ونماذج الاختبارات والتحاثير وشروحات الدروس بصيغة الورد والبي دي اف وكذلك عروض البوربوينت.

تم تحميل الملف  
من موقع حلول



حلول  
الحلول اون لاين







hulul.online

حلول الكتب - اختبارات الكترونية • مراجعات وتدريبات  
والمزيد من الملفات التعليمية للمناهج السعودية


أختار من الصور التالية الأشياء التي تحتاج إليها المخلوقات الحية

لكي تنمو ثم ألوها :

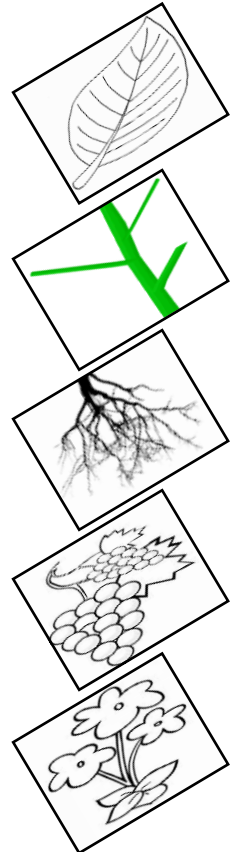
☆ المخلوقات الحية تحتاج إلى :

	٣		٢		١
الغذاء ( )		الحاسب الآلي ( )		الهواء ( )	
	٦		٥		٤
ضوء الشمس ( )		الماء ( )		السيارة ( )	

السؤال الرابع: أصل كل جزء من أجزاء النبات باسمه المناسب:



الجذور  
الساق  
الأوراق  
الأزهار  
الثمار



## أصل كل جزء من أجزاء النبات بوظيفته :

تصنع الغذاء

تصنع البذور

تمتص الماء

تحمل الاوراق

تحمي البذور



الجدور



الساق



الأوراق



الأزهار



الثمار

## أصل بين كل نبات والبيئة التي يعيش بها :

أصل العمود الثاني بما يناسبه من العمودين الأول والثالث

نباتات كثيرة

أوراقها شوكية


تفقد الماء

تحتفظ بالماء

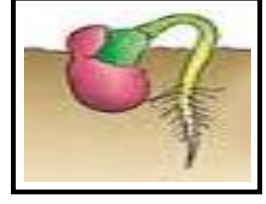
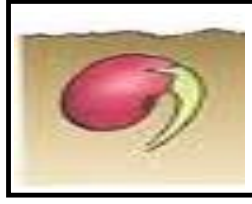
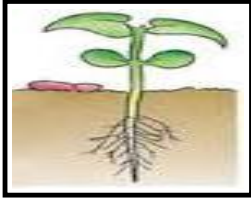
نباتات قليلة

نباتات الصحراء

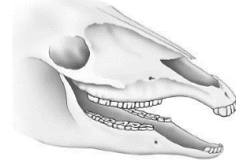
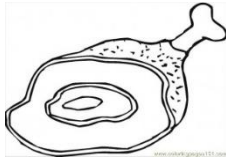
نباتات الغابة



## أرتب بوضع الأرقام دورة حياة بذرة :



## السؤال التاسع: أربط بين شكل أسنان الحيوان ونوع الطعام الذي يتناوله:





انتهت الأسئلة

مع أطيب التمنيات بالنجاح والتوفيق

الاسم / ..... الصف اول / .....

استنتاج مفهوم التلوث من خلال الصور.

ضعي علامة ( x ) أمام الصور التي تعبر عن التلوث .



تسمية المكان الذي تعيش فيه المخلوقات الحية

صلي كل صورة بالاسم المناسب لها .

المحيط

المنطقة العشبية

الغابة

