








































الاختبار التشخيصي الخاص بالفاقد التعليمي للصف الثاني ابتدائي

١	العدد الذي يلي مباشرة العدد ٢٠ هو:	أ	٣٠	ب	٣١	ج	٢٠	د	٢١
٢	العدد الواقع بين العددين ٣٢،، ٣٤ هو:	أ	٣٠	ب	٣١	ج	٣٣	د	٣٥
٣	الشكل الذي رسمه خالد ليس له أضلاع، هو:	أ		ب		ج		د	
٤	أطول الأسهم هو:	أ		ب		ج		د	
٥	الشكل الأثقل هو:	أ		ب		ج		د	
٦	الشيء الذي سعته أكبر هو:	أ		ب		ج		د	
٧	لدى منال ١٠ تفاحات، أكلت منها ٥ تفاحات. كم تفاحة بقيت لديها؟	أ	٤	ب	٥	ج	١٠	د	١٥
٨	الكسر الذي يمثل الشكل التالي هو:	أ	!	ب	∇	ج	#	د	١
٩	مجموع قيمة العملات النقدية:	أ	٥	ب	١٠	ج	١٥	د	٢٠
	الأسطوانة في المجسمات التالية:	أ		ب		ج		د	

نموذج إجابة الاختبار التشخيصي الخاص بالفاقد التعليمي للصف الأول ابتدائي

١	العدد الذي يلي مباشرة العدد ٢٠ هو:	أ	٣٠	ب	٣١	ج	٢٠	د	٢١
٢	العدد الواقع بين العددين ٣٢،، ٣٤ هو:	أ	٣٠	ب	٣١	ج	٣٣	د	٣٥
٣	الشكل الذي رسمه خالد ليس له أضلاع، هو:	أ		ب		ج		د	
٤	أطول الأسهم هو:	أ		ب		ج		د	
٥	الشكل الأثقل هو:	أ		ب		ج		د	
٦	الشيء الذي سعته أكبر هو:	أ		ب		ج		د	
٧	لدى منال ١٠ تفاحات، أكلت منها ٥ تفاحات. كم تفاحة بقيت لديها؟	أ	٤	ب	٥	ج	١٠	د	١٥
٨	الكسر الذي يمثل الشكل التالي هو:	أ	!	ب	$\frac{1}{3}$	ج	#	د	١
٩	مجموع قيمة العملات النقدية:	أ	٥	ب	١٠	ج	١٥	د	٢٠
	الأسطوانة في المجسمات التالية:	أ		ب		ج		د	