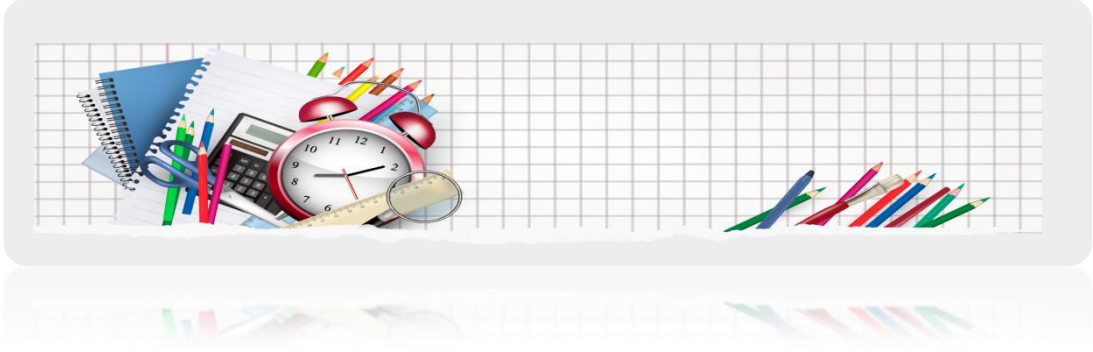




↓ تم تحميل ملف المادة من مكتبة طلابنا
زورونا على الموقع

www.tlabna.net

مكتبه طلابنا تقدم لكم كل ما يحتاج المعلم والمعلمه والطلبة , الطبعات الجديده للكتب والحلول ونماذج الاختبارات والتحاظير وشروحات الدروس بصيغة الورد والبي دي اف وكذلك عروض البوربوينت.



قناة القدرة المعرفية اضغط هنا

استفسارات القدرة المعرفية

حل اسئلة القدرة المعرفية اضغط هنا

مجموعات أبو الجوهرة التعليمية

تجميعات - شروحات - حل الاسئلة

قناة القدرة المعرفية يوتيوب اضغط هنا





اشترى احمد بقيمة ٤٠٠٠ طابعتين واربعة شاشات، اذا علمت أن قيمة الطابعة الواحدة تساوي نصف قيمة الشاشة، فكم تساوي قيمة الطابعة الواحدة؟

أ- ٤٠٠

ب- ٤٥٠

ج- ٥٥٠

د- ٦٠٠

٣٤ حلاوه لو تقسمت بالتساوي على ١٢ طالب كم يبقى منها؟

أ- ١٠

ب- ٧

ج- ٦

د- ٤

شمعتين طول كل واحدة منها 30 سم مصنوعتين من مادتين مختلفتين الأولى تحترق بسرعة ثلاث مرات عن الثانية , اذا الاولى احترقت النصف كم احترق من الثانية؟

أ- ٥

ب- ١٠

ج- ١٥

د- ٢٠



خديجة كان عمرها 32 في عام ١٤٣٧ كم كان عمرها في عام ١٤١٥ ؟

أ- ١٠

ب- ١٥

ج- ٢٠

د- ٢٥

معلمة لديها ٥١ لعبة، قسمتها بالتساوي بين طلابها ؛ فكم عدد الطلاب ؟

أ- ٥

ب- ٧

ج- ١٠

د- ١٧

كرسي مكون من ٨ قطع كل قطعة ب ٥ ريال اذا كان يبيع بمكسب ٢٠ ريال بكم يبيع الكرسي ؟

أ- ٦٠

ب- ٧٠

ج- ٨٠

د- ١٠٠



علبتين بنفس الحجم وحدة سعرها ٦٠ والثانية سعرها ١٠٠ ، اذا خلطنا الاثنين بالتساوي في علبة واحدة بنفس الحجم ، فكم سيكون سعر العلبة

الجواب : ٨٠ ريال

سلعة قيمتها ٢٢٠ خفضت بنسبة ١٥% فما قيمتها الحالية ؟

أ- ١٦٧

ب- ١٧٧

ج- ٢٠٥

د- ١٨٧

اذا كانت الشركة توزع ارباح سنوية بنسبة ٥ ، ١٢% من رأس المال فبعد كم سنة تتساوى الارباح مع رأس المال ؟

أ- بعد ٦ سنوات

ب- بعد ٧ سنوات

ج- بعد ٨ سنوات

د- بعد ٩ سنوات



وصف طبيب اقراص لاحمد حبتين صباحا وحبّة مساء والعبة فيها ٣٠
حبّة فقد منها ٣ حبات كم يوم تكفي العبة ؟

- أ- ٧ ايام
ب- ٨ ايام
ج- ٩ ايام
د- ١٠ ايام

سعر سلعتين ٨٥ ريال ، اذا كانت السلعة الاولى ربع سعر السلعة الثانية ، كم سعر
السلعة الاولى؟

- أ- ١٥
ب- ١٧
ج- ٣٤
د- ١٥

مكالمه هاتفية سيكون سعر الدقيقة ب ٣٠ هللة ، اذا كلمت ١٥٠ دقيقة ، كم سيكون سعر
المكالمة بالريال ؟

- أ- ٣٠٠
ب- ٤٥
ج- ١٠٥



ثلاثة اصدقاء يذهبون الى الحديقة بشكل دوري ، الأول يذهب مره كل ٤ أيام
والثاني يذهب مرة كل ٦ ايام ، والثالث يذهب مرة كل ١٦ يوم ، في أي يوم سيلتقي الثلاثة في
الحديقة ؟

أ- ٢٤

ب- ٢٦

ج- ٤٨

د- ٦٤

مكالمة هاتفية وسعر المكالمة ريال لكل ٣٠ ثانية ، اذا كلمت ١٥٠ دقيقة فكم يكون سعر
المكالمة بالريال؟

أ- ١٥٠

ب- ٢٠٠

ج- ٣٠٠

شخص معاه مبلغ ٤٠٠٠ وساهم بأسهم مبلغ السهم ٢٥ ريال كم سهم اشترى؟

أ- ١٢٠

ب- ١٣٠

ج- ١٦٠

د- ١٤٠



محمد صاحب مكتب عقارات وباع ارض بقيمة ٢٥٠٠٠٠٠ علما بأن نصيبة من كل عملية بيع ٢,٥% من قيمة الصفقة فكم نصيب محمد من عملية البيع؟

أ- ٣٥٠٠

ب- ٤٥٠٠

ج- ٥٢٥٠

د- ٦٢٥٠

شركة راس مالها ١٠٠٠٠٠٠ ، زادت أرباحها بنسبة ٢٠% ، وكافى المدير الموظفين بنسبة ٢٠% من الارباح ، فكم كان مقدار المكافأة؟

أ- ٤٠٠٠

ب- ٣٥٠٠

ج- ٢٥٠٠

د- ١٢٥٠

فواز واخته طولهم ٣١٠ وفواز يزيد عن أخته ب ٢٠ سم كم طول فواز؟

أ- ١٦٥

ب- ١٧٥

ج- ١٤٥

د- ١٦٠



مصنع ينتج كل يوم ونص سيارة فكم ينتج خلال ٣٠ يوم ؟

الجواب : ٢٠

يخلص شخص ١٦ صفحة في ساعة كم يخلص في ساعتين ونص ؟

الجواب : ٤٠

مجمع سكني مكون من ١٠٠ فيلا كل فيلا فيها ٥ غرف وكل غرفة نافذتين فكم عدد نوافذ المجمع كاملة ؟

أ- ٥٠٠

ب- ١٠٠٠

ج- ٦٠٠

إذا كان هناك صندوق برتقالات ، لكل صندوق يوجد ٣٦ برتقالة ، وقد تم إزالة ٨ برتقالات فاسدة ، فكم تصبح عدد البرتقالات في صندوقين ؟

الجواب : ٥٦



سؤال المتابعات :

٦٤ ، ٧٦ ، ١٠٠ ، ١٤٨ ، ...

أ- ١٩٦

ب- ٢٤٤

ج- ١٨٤

د- ٢٨٤

٤ ، ٨ ، ١٧ ، ٣٣ ، ٥٨ ، ...

أ- ٩٤

ب- ٦٤

ج- ٩٦

د- ٩٢

٣ ، ٥ ، ٩ ، ١٥ ، ...

أ- ٢١

ب- ٢٣

ج- ١٩

د- ٢٤



..... ٣١، ١٥، ٧، ٣، ١

أ- ٥٤

ب- ٦٣

ج- ٦٨

د- ٧٢

..... ١٦، ١٣، ٩، ٧

أ- ٢٠

ب- ١٩

ج- ٢١

د- ٢٢

..... ٣٢، ٢٩، ٢٥، ٢٠

أ- ٤٠

ب- ٣٤

ج- ٣٨

د- ٣٧



.....، ٣٧٥ ، ٧٥ ، ١٥

أ- ١٨٧٥

ب- ٩٩٢

ج- ٨٧٨

د- ٦٠٠

.....، ١٦ ، ٤ ، ٢

أ- ٩٩

ب- ١٦٦

ج- ٢٥٥

د- ٢٥٦

.....، ١٣ ، ٨ ، ٥ ، ٣ ، ٢ ، ١

أ- ٢١

ب- ٢٥

ج- ٢٦

د- ٢٨



.....، ٤٢ ، ١٦ ، ٣

أ- ٦٣

ب- ٨٤

ج- ٩٤

د- ١٠١

..... ، ٦٧ ، ٢٢ ، ٧ ، ٢

أ- ١٤٠

ب- ١٧٧

ج- ١٩٧

د- ٢٠٢

.....، ١٦ ، ١٢ ، ٨ ، ٤

أ- ١٨

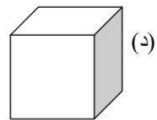
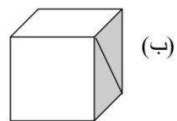
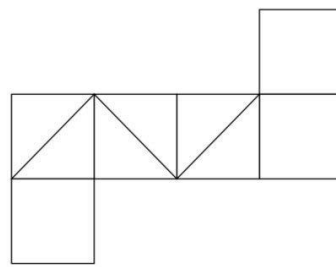
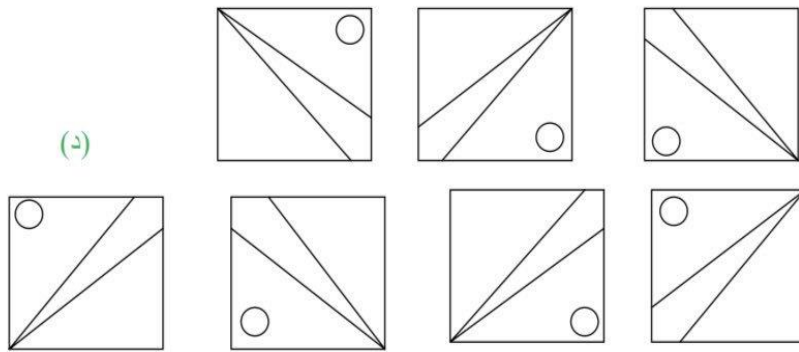
ب- ٢٠

ج- ٢٣

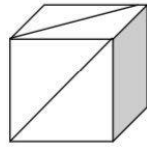
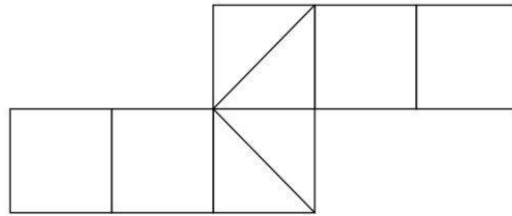
د- ٢٥

سؤال أشكال القدرة المعرفية:

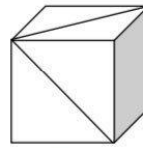
٢: ماهو الشكل التالي



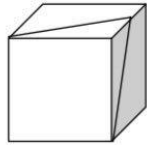
سؤال مكعب القدرة المعرفية:



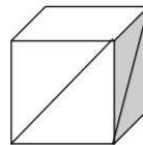
(أ)



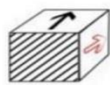
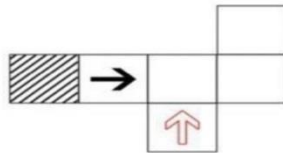
(ب)



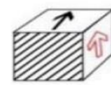
(ج)



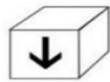
(د)



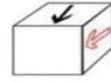
(أ)



(ب)



(ج)



(د)





اسئلة قطعة البلاستيك

١- هناك علاقة عكسيه مذكورة في القطعه :

الجواب / المتين - الخطر

٢- حرق البلاستيك يؤدي الى :

الجواب / الغثيان

٣- افضل طريقة للتخلص من البلاستيك

الجواب / التحلل

يقرأ خالد كتب علم الاجتماع، ويقرأ زميله سعيد كتب علم الطبيعة، بينما زميلهما حسن يقرأ الكتب في مختلف التخصصات:

(أ) حسن لا يقرأ كتب علم الطبيعة

(ب) حسن وسعيد يقرآن كتب علم الطبيعة

(ج) خالد يقرأ في مختلف التخصصات

(د) خالد وسعيد يقرآن كتب علم الاجتماع



يستحق الموظف الجديد الحصول على إجازة بعد ستة أشهر من مباشرته للعمل، والإجازة السنوية للموظف ٣٦ يوم:

أ- الموظف الجديد لا يحصل على إجازة

ب- الموظف يستحق الإجازة بعد ستة أشهر من بداية العام

ج- الموظف القديم يحصل على إجازته في أي وقت من العام

اليابان تقع شرق الفلبين والفلبين تقع شرق الصين والصين تقع غرب الفلبين :

أ-اليابان غرب الكره الارضية

ب- اليابان شرق الصين

ج- اليابان تقع في اقصى الغرب

د- اليابان تقع غرب الصين

إذا كان مجموع سلعتين ٨٥ ريال ، وكان سعر الأولى ربع سعر الثانية ، كم سعر السلعة

الأولى ؟

الجواب : سعر السلعة الأولى ١٧

سعر السلعة الثانية ٦٨



المرادفات :

ماهو مرادف كلمة رث ؟

ج) بال

ماهو مرادف كلمة موائمة ؟

مرادفها : موافقة

مرادف جهبذ؟

الجواب: خبير

ماهو ضد كلمة هوادة ؟

معناها : اسرع او عجلة



ماهو مرادف كلمة وئام؟

الجواب: وفاق

معنى كلمة (حلكة)؟

الإجابة: الظلام الشديد

ماهو مرادف تأليب؟

الجواب: تحريض

ماهو مرادف كلمة الأمد؟

الجواب: النهاية

ماهو مرادف أفل؟

الجواب غاب



ماهو مرادف كلمة أمشاج ؟

الجواب: اختلاط

مرادف كلمة أوما ؟

الجواب: أشار

ماهو مرادف كلمة مقطب ؟

الجواب: بشوش

ماهو مرادف كلمة حصيف ؟

الجواب: غبي

ماهو مرادف حلقة ؟

الجواب : ظلمة



ما هو مرادف كلمة باسقات ؟

الجواب: طويلات

اوجد عكس ريبة ؟

الجواب : وثوق

اوجد عكس حصيف ؟

الجواب : احمق وغبي

اوجد عكس تأليب ؟

الجواب : تهدئة

اوجد عكس التنظير؟

الجواب : التطبيق



دقيقة واحدة تقضيها في توفر عليك ساعات في

أ- العمل - التخطيط

ب- التدبير- التفكير

ج- المراقبة- الترتيب

د- التخطيط- التنفيذ

لاتجعل المال هدفك الوحيد في الحياة بل وسيلة لأن المال صديقك إذا وعدوك إذا

أ- ادخرته - ابلية

ب- جمعتة- انفقته

ج- استخدمته- خدمته

د- بعدته- قربته

يجب ان ينظر المدير الى الإدارة كوحدة وألا تحجبه رؤية عن رؤية

أ- متوازنة- الأصول - الفروع

ب- متكاملة- الجزئيات - الكليات

ج- مستقلة- السلبيات - الإيجابيات

د- موضوعية - النجاحات - الأخفاقات



لا.....بسوء الحظ ، فلا يوجد من غير جهد ، فلا
تتوهم أن سوء الحظ.....لك:

- أ- تتمسك - انجاز - عذر
- ب- تتعلق - تقدم - مخرج
- ج- تتعلل - تفوق- عائق
- د- تعتذر - أرتقاء- معين

كرمت مدرسة جميع المتفوقين خلال السنة الدراسية وجميع المدعويين متفوقين ، وكان فهد
ضمن المدعويين للتكريم وخالد يدرس مع فهد.

أ- فهد من المتفوقين

- ب- خالد من المتفوقين
- ج- خالد وفهد من المتفوقين
- د- خالد ضمن المدعويين

الطبقة الاجتماعية هي ذلك القطاع من المجتمع الذي يضم مجموعة من الذين
يتصفون بقدر كبير من في مكانتهم الاجتماعية.

أ- الأفراد- التواضع

ب- الأفراد - التجانس

- ج- البشر - الشفافية
- د- البشر - الواقعية



الوقت هو الأحداث.....ثم وهو مصدر.....وهو حق متساوي بين.....

أ- المتابعة - عدل - الجميع

ب- المتلاحقة - متغير - الناس

ج- المتوازية - ثبات - المخلوقات

د- الجارية - توازن - البشر

عمليه.....المستقبل لست عمليه سهله لان الغد..... الملامح

أ- استطلاع - غامض

ب- رفض - باهت .

ج- معرفه - ثرى

تميز العرب ب.....، وتميز الروم ب.....، وتميز الصين ب.....، وتميز الفرس ب.....

ا- كثره الكلام - الذكاء - السرعة في العمل - قوه المشاه.

ب- الفصاحة - الحكمة والفلسفة - العمل - الفن .

ج- اللغات - العمل - الفطنة - المهاره.

د- حسن التدوق - غزاره الشعر - مهاره العمل - الجراه .



يقرأ خالد كتب علم الاجتماع ، ويقرأ زميلة سعيد كتب علم الطبيعة ، بينما زميلهما حسن يقرأ الكتب في مختلف التخصصات :

أ- حسن لا يقرأ كتب علم الطبيعة

ب- حسن وسعيد يقرآن كتب علم الطبيعة

ج- خالد يقرأ في مختلف التخصصات

د- خالد وسعيد يقرآن كتب علم الاجتماع

حديقة الحيوان لا يدخلها طلاب الروضة الا بوجود الاب ، و عثمان طيب وهشام من طلاب الروضة ودخل حديقة الحيوان :

أ- عثمان لم يدخل الروضة

ب- عثمان والد هشام

ج- هشام دخل مع أبوة

ابناء أبو صالح يحفظون القرآن اكبرهم محمد وهو امام مسجد وأصغرهم فهد وهو طالب في المرحلة الثانوية :

أ- محمد يحفظ القرآن

ب- فهد يحفظ القرآن

ج- أصغرهم يدرس في المرحلة المتوسطة

د- أبناء أبو صالح كثيرون



مهند وفيصل وعمار وفهد ونواف يسكنون في ٣ مناطق بالمملكة العربية السعودية ، وعمار لايسكن في نفس المنطقة التي يسكن فيها فيصل ، وفيصل ونواف يسكنون في منطقة واحدة ، وفهد لايسكن في نفس المنطقة التي يسكن فيها نواف ، ومهند لايسكن مع فيصل في منطقة واحدة ، فأأي العبارات صحيحة :

أ- فهد يسكن مع فيصل في منطقة واحدة

ب- فهد لايسكن مع عمار في منطقة واحدة

ج- فهد ومهند يسكنون مع عمار في منطقة واحدة

د- عمار لايسكن مع نواف في منطقة واحدة

قامت جامعة بتكريم الأوائل بإعطائهم هدايا، والطلاب المتفوقين بإعطائهم شهادات شكر ، جميع المشاركين تقديرهم ممتاز:

أ- المتفوقين حصلوا على شهادة شكر

ب- كل المتفوقين اوائل

ج- الأوائل حصلوا على شهادة شكر

د- جميع المشاركين حصلوا على هدية وشهادة شكر

أقلعت رحلة من الرياض في الساعة ٤ بتوقيت الرياض ووصلت الساعة ٦ بتوقيت لندن اذا علمت أن فرق التوقيت بين الرياض ولندن ٣ ساعات ، فكم تستغرق الرحلة؟

أ- ٣ ساعات

ب- ٤ ساعات

ج- ٥ ساعات

د- ٦ ساعات



محمد اشترى ثلاث عطور بعد التخفيض ب ٧٠٠ ريال، خفض له من العطر الثاني نصف السعر، ومن العطر الثالث الربع، فكم سعر العطر الأول؟

أ- ٣٠٠

ب- ٣٥٠

ج- ٤٠٠

د- ٤٥٠

إذا كان الموظف يحصل على كل ساعه عمل إضافيه يحصل على ١٣٠ ريال فكم ساعه عمل إضافيه كي يحصل على ١٩٥٠؟

أ/ ١٥

ب/ ١٠

ج/ ١٢

د- ١١

يملك تاجر ١٢ بقرة تنتج الواحد ١٢ لتر ويخسر عليها التاجر ١٠٠ ريال للأعلاف ، اذا كان بيع اللتر الواحد ٤ ريال ، كم هي ارباح التاجر؟

أ- ٧٦ ريال

ب- ٥٠٠ ريال

ج- ٤٧٥ ريال

د- ٦٧٨ ريال

قطعة الإدارة :

القطعة (٧)

عد الإدارة من أهم النشاطات الإنسانية التي تمارس داخل المجتمعات، حيث لها تأثير كبير على نواحي الحياة المختلفة نظراً لارتباطها المباشر بالشؤون الاقتصادية، والقضايا الاجتماعية، والسياسية، فالإدارة هي الجهة المسؤولة التي تعمل على جمع الموارد الاقتصادية وتوظيفها من أجل إشباع حاجات الفرد والجماعات في هذه المجتمعات، حيث تتطور المجتمعات وتتقدم بالاعتماد على الإدارة، ولهذا تعتمد الدول عليها من أجل توفير الرخاء لمواطنيها، وتعتبر الإدارة الناجحة أساس نجاح منظومة المجتمع وتطورها. تعريف الإدارة تعرف الإدارة بأنها عملية تحقيق الأهداف الموضوعية من خلال استغلال الموارد والعناصر المتاحة، حسب منهج مُحدد، وضمن بيئة محددة، كما تعرف بأنها عملية التخطيط والتنظيم، والرقابة، والتنسيق، والتوجيه المطبقة على الموارد المالية والبشرية، من أجل تحقيق أفضل النتائج، بأقل التكاليف، وأفضل الطرق وأقصرها، والإدارة هي فرع من فروع العلوم الاجتماعية. أنواع الإدارة الإدارة العامة: تتميز بأنها تعمل خلال الظروف الاحتكارية بعدد كبير من الموظفين، حيث تقدم خدمات عامة ضخمة لا تكون غايتها الربح، وإنما تقدم الخدمات الواجبة والضرورية لأفراد المجتمع، وتلتزم بمساواة المواطنين أمام هذه الخدمات دون تمييز. إدارة الأعمال: تتميز عن الإدارة العامة بروح التنافس الحادة، حيث إن الهدف الرئيسي لإدارة الأعمال تحقيق أقصى ربح مادي ممكن من خلال إدارة المشاريع الخاصة، إلا أنها مشاريع أصغر من مشاريع الإدارة العامة، كما أن عدد موظفيها أقل من موظفي الإدارة العامة. مستويات الإدارة الإدارة العليا: تتمثل في المدير العام أو رئيس مجلس الإدارة. الإدارة الوسطى: تتمثل بمدراء الأقسام. الإدارة التنفيذية: تعرف أيضاً بالإدارة التشغيلية والتي تتمثل بالمشرفين بشكل مباشر على تنفيذ الأعمال، وتطبيق السياسات على أرض الواقع.

١: تعرف الإدارة بأنها :

ب- متخصصة

أ- متنوعة

د-شاملة

ج- مهنية



٢: الإدارة فن عندما تتعامل مع :

- أ- الآلات
ب- الأفراد
ج- الانظمة والقوانين
د- الأرقام و الاحصائيات

٣: الفرق بين الادارة العليا والادارة الوسطى :

- أ- الادارة الوسطى ترفض المقترحات لانها لا تتماثل مع رأيها
ب- الادارة الوسطى لا تتوافق مع السلطة التشريعية العليا
ج- الادارة العليا تختص بعملية ترجمة الاهداف والسياسات العامة المحددة
د- تمثل الادارة العليا القاعدة الاساسية للمتخصصين والخبراء في كل المشاريع

٤: توجه الادارة التقليدية الى :

- أ- التعامل المباشر
ب- التعامل الالكتروني
ج- التعامل عن طريق وسيط
د- التعامل عن بعد

٥: القرارات التي تتخذ تكون عن طريق :

- أ- الادارة العليا
ب- الادارة الوسطى
ج- الادارة العليا و الوسطى
د- الادارة العليا و المباشرة

٦: اهداف الرقابة :

- أ- تطوير الاداء الوظيفي
ب- مراقبة سلوكيات الموظفين
ج- متابعة الاداء الوظيفي
د- معاقبة الموظفين الغير منضبطين



قطعة الدموع :

عدد انواع الدموع في النص :

أ- ٤

ب- ٥

ج- ٦

د- ١

يفهم من الفقرة ان الدموع :

أ- مفيدة ومهمة وصحية للإنسان

ب- مضرّة وقد تصيب بالآكتئاب

ج- ليس لها فايد حقيقة ظاهرة

د- لاتضر ولاتنفع فوجودها كعدمة

العلاقة بين الدموع والانهيار:

أ- طردية

ب- يجعله يزداد

ج- في تناقص

د- تضاد



الدموع المطرية هي التي :

أ- تحافظ على رطوبة العين

ب-تساعد على مرونة العين

ج-دموع الانتصار

د-دموع الجرح

العلاقة بين المختلفة والمتعددة :

أ- ترادف

ب-تعارض

ج-تضاد

د-تقابل

العلاقة التي تحافظ على رطوبة العين وصحتها بما قبلها:

أ-وظيفة

ب-بيان السبب

ج-نتيجة

د-ترادف



ذهب مجموعة الى السودان لصيد ، علما ان الغزلان في المحمية أي العبارات صحيحة :

أ- لم يصطادوا غزالا

ب- اصطادوا غزالا

ج- لم يصطادوا شيئا

د-اصطادوا شيئا

وضع زيد اسئلة أختبار مادة الرياضيات ، وكانت الاسئلة شاملة لجميع مستويات الطلاب إذا :

أ- أسئلة الرياضيات ليست صعبة

ب- زيد صحح اختبار مادة الرياضيات

ج- بعض اسئلة الرياضيات سهلة

د- يمكن لزيد وضع أسئلة أي مادة

خالد عمرة ١٥ سنة ومن شروط الحصول على بطاقة الاحوال أن يكون العمر ١٥ سنة :

أ- اخو خالد الأكبر لديه بطاقة الأحوال

ب- اخو خالد الأصغر ليس لديه بطاقة احوال

ج- أخوة خالد لديهم بطاقة أحوال

د- اخوة خالد لايملكون بطاقة احوال



لا يذهب إلى المكتبة إلا الذين يحبون القراءة، خالد ذهب إلى المكتبة ووجد محمد هناك :

أ-خالد لا يحب القراءة

ب- محمد يعمل في المكتبة

ج- خالد ومحمد يحبون القراءة

د-خالد لم يدخل المكتبة

إذا كان الموظف يحصل ع كل ساعة عمل إضافية ٣٠ ريال فكم ساعة عمل إضافية كي يحصل ع ١٩٥٠ ؟

أ-١٥

ب-١٠

ج-١٢

د-١١

٣٤ حلوة لو تقسمت على ١٢ طالب كم يبقى منها؟

أ-١٠

ب-٧

ج-٦

د-٤



دفع رجل ٣٠% من راتبه قسط لسيارته وانفق ٤٠% من راتبه مصاريف للبيت وتبقى معه ٢٧٠٠ ريال فكم راتبه كامل؟

أ- ٩٠٠٠

ب- ٨٠٠٠

ج- ٥٩٠٠

د- ٤٩٠٠

مدفع يتحرك ٥٠٠ متر عند تحريكه بزاوية ٤٥ درجة إذا علمت ان الدرجة تساوي ٢٠ متر كم يقطع متر عمدا تحريكه بزاوية ٥٠ درجة؟

أ- ٥٠٠

ب- ٥٥٠

ج- ٦٦٠

د- ٦٠٠

المترجم هو في الحقيقة اخر غير ان التي يصوغها هي من نتاج غيره :

١- مؤلف - الافكار

٢- شخص - مشاعره

٣- مبدع - الالغاز

٤- كاتب - المفردات



من شروط التقديم على الماجستير تقدير جيد جدا وقياس لا يقل عن ٧٠ ، احمد درجته في قياس ٧٠ وتقديره جيد جدا :

أ- جميع من تم قبولهم مثل احمد وأفضل

- ب- احمد اقل درجة من بين المتقدمين على الماجستير
ج- جميع الحاصلين على درجة قياس ٧٠ مقبولين في الماجستير
د- جميع الحاصلين على تقدير ممتاز مقبولين في الماجستير

محمد اصغر من ثامر ، وثامر أكبر من احمد ، وثامر نصف عمر بندر :

أ- بندر اكبر من احمد

- ب- احمد اكبر من بندر
ج- ثامر اصغر من بندر
د- محمد اكبر من احمد

توظف خالد وعمره ٢٢ سنة ، التقاعد النظامي في الشركة عند بلوغ السن ٦٦ سنة ، تقاعد خالد وعمره ٦٦ سنة ، اذا اكمل ٤٠ سنة عمل يستحق راتب تقاعد كامل :

أ- اكمل خالد ٤٠ سنة خدمة في الشركة

ب- خالد يستحق راتب كامل

ج- تقاعد خالد وعمره ٦٠ سنة

د- تقاعد خالد بناء على رغبته



تم تقسيم مبلغ ٣٤ بين ١٢ طالب بالتساوي كم الباقي :

أ- ١٠

ب- ١٣

ج- ١٥

د- ١٩

٥٠٠٠٠ كم تمثل نسبة مئوية من ٥٠٠٠٠٠

أ- ١٠%

ب- ١٥%

ج- ٢٠%

د- ٣٠%

إذا محمد راتبة ٣٠٠٠ ريال وياخذ نسبة من الأرباح ٢,٥% وبيع بقيمة ١٥٠٠٠ وعبا بنزين ب ١٣ ريال ، فكم تبقى معه ؟

أ- ٣٣٦٢

ب- ٢٤٠٠

ج- ٣٥٠٠

د- ٣٦٠٠



خزان سعة ٧٢ م مكعب وسيارة الماء سعتها ١٨ م مكعب وقيمة التعبئة ٩٠ ريال ، فكم تعبئة الخزان كامل ؟

أ- ٣٠٠

ب- ٣٦٠

ج- ٤٠٠

د- ٤٥٠

يرصف ١٥ عاملا طريقا في ٢٤ يوم ، كم يوم يحتاجها ٤٠ عامل لرصف نفس الطريق ؟

أ- ٧

ب- ٨

ج- ٩

د- ١٠

قرأ احمد في احد الكتب من الصفحة ٧ الى الصفحة ٤٩ ومن ثم قرأ من الصفحة ١٠١ الى الصفحة ١٥٧ ، ماهو مجموع ماقرأ ؟

أ- ١٠٠

ب- ١٠١

ج- ١٠٢

د- ١٠٣



يلزم ١٨ رجلا لنقل بضاعة من السفينة الى الشاطئ ٥ ساعات ، فكم رجلا يلزم لنقلها في ٣ ساعات ؟

أ- ٣٠

ب- ٤٠

ج- ٥٠

د- ٦٠

ترتيب محمد في الطابور هو ١٠٩ وترتيب خالد في الطابور نفسة ١١٣ كم عدد الاشخاص بين محمد وخالد ؟

أ- ٣

ب- ٤

ج- ٥

د- ٦

بدأت السنة الهجرية الجديدة ١٤١٤ يوم الاحد ، وكان عدد ايام هذه السنة ٣٥٥ يوم ، فما هو آخر ايام هذه السنة ؟

أ- الثلاثاء

ب- الأربعاء

ج- الخميس

د- الجمعة



اشترت امرأة عطور من نفس النوع الاول بكامل السعر ، والثاني بنصف السعر ، والثالث بربع السعر ، إذا علمت ان اجمالي مادفعته هو ٢١٠٠ ، فأحسب السعر الاصلي للعطر ؟

أ- ٦٠٠

ب- ٨٠٠

ج- ١٢٠٠

د- ١٥٠٠

مجموع رواتب خالد وسلمان ومحمد ٢١٠٠٠٠ ، راتب سلمان ضعف راتب محمد ، وراتب محمد ربع راتب خالد ، فكم راتب خالد ؟

أ- ٣٠٠٠٠

ب- ٥٠٠٠٠

ج- ٦٠٠٠٠

د- ١٢٠٠٠٠

كان الماء ممتلئ خمسة واضفنا لترين فأصبح ثلثة فكم حجم الماء ؟

أ- ٦ لتر

ب- ٩ لتر

ج- ١٢ لتر

د- ١٥ لتر



نسبة الطلاب الناجحين ٩٠% وعدد الرسوب ٧٥ طالب كم عدد الطلاب الناجحين ؟

أ- ٧٥٠

ب- ٦٧٥

ج- ٦٠٠

د- ٥٥٠

الموظف الذي يعمل من بيته يحقق نتائج ممتازة بسبب ؟

أ- شعورة بالذنب

ب- اهتزاز ثقة مديرة به

ج- عدم شعورة بالحرية

د- تمتعة بالاجازة المرضية

إذا كان قيمة الريال العماني تساوي ٣,٦ دولار وتساوي ١٣,٩١ ريال سعودي فما قيمة بيع الدولار بالريال السعودي ؟

أ- ٣,٨٦

ب- ٠,٢٥١

ج- ٣,٥١

د- ٢,٦٥



عندما تتوافر المناسبة في العمل ؛ تزيد للموظفين ، و استبقائهم.

أ- الخدمات - موافقة - درجة

ب- الأموال - حركة - يقل

ج- الراحة - كفاءة - سرعة

د- الحوافز - الإنتاجية - فرص

شركة لا أحد يصير فيها مدير إلا بعد ١٥ سنة من الخبرة في الشركة، عمر توظف قبل مديره بسنتين؛ لذا أي الخيارات التالية صحيحة ؟

أ- عمر مؤهل أن يكون مدير

ب- عمر يستحق راتب ١٥ الف

ج- عمر يستحق راتب تقاعد

د- عمر خبرته أكثر من ١٥ عام

شخص صرف من راتبه الثلث، وتبقى ١٠٠٠ ريال، فكم مجموع الراتب ؟

أ- ١٣٠٠

ب- ١٥٠٠

ج- ١٧٠٠



آلة تعمل يومياً ساعتين ونصف الساعة، إذا كان عمرها الافتراضي ٢٥٠٠ ساعة ؛ فكم يوماً
وتنتهي هذه الآلة ؟

أ- ٢٠٠

ب- ٥٠٠

ج- ٧٥٠

د- ١٠٠٠

الصف الأول يوجد فيه ١٢ مقعد، والصف الثاني يزيد عن الأول عن كل ٤ مقاعد مقعد ؛ فكم
عدد مقاعد الصف الثاني ؟

أ- ١٢

ب- ١٣

ج- ١٤

د- ١٥



قام صاحب متجر بإخراج ٢ % مما مر عليه منصناديق فاكهة بسبب تلفها فإذا كان عدد ما أخرجته ٦ صناديق . فكم صندوق مر عليه ؟

أ - ٣٠

ب - ٣٠٠

ج - ٣٠٠٠

د - ٢٩٤

٤ اخوة طبيب ومهندس وطيار ومعلم ، خالد وفيصل توأمان ، اذا كان الطيار اطول من الجميع ، والمهندس اقصرهم ،

وظيفة فيصل مهندس ، وكان محمد أطول من عبدالله ، وظيفة عبدالله طبيب ، فما وظيفة خالد ؟

أ- مهند

ب- طبيب

ج- طيار

د- معلم



محمد يمتلك وحدتين سكنية الاولى ماجره بمبلغ ٣٠ الف في السنه والثانيه ٢٥ الف في السنه
كم المبلغ الإجمالي بعد سنتين ونص ، اذا افترضنا انه ياخذ الاجار كل ست اشهر؟

ا- ١٣٧٠٠٠

ب- ١٣٨٠٠٠

ج- ١٣٦٥٠٠

د- ١٣٧٥٠٠

اذا كان ٢٠٠ قلم ب ٨٠ ريال فكم سعر ٥ اقلام؟

أ- ٤ ريال

ب- ٢ ريال

ج- ١٠ ريال

د- ريال واحد

اذا كان عدد طلاب مدرسة ٥٠ طالب ، ونجح منهم ٣٠ طالب ، فإن نسبة الناجحين هي ؟

الجواب : ٦٠%



أحمد دعا جميع أصدقائه في الجامعة، خالد حضر إلى الحفل، جميع الحضور متزوجين، أي الآتي صحيح؟

أ- خالد من أصدقائه في الجامعة

ب- خالد متزوج

ج- خالد لديه أطفال

د- خالد ليس متزوج

مدفع يتحرك ٥٠٠ متر عند تحريكه بزاوية ٤٥ درجة إذا علمت ان الدرجة تساوي ٢٠ متر كم يقطع متر عمدا تحريكه بزاوية ٥٠ درجة؟

أ- ٥٠٠

ب- ٥٥٠

ج- ٦٦٠

د- ٦٠٠

إذا موظف يحصل على كل ساعة اضافة عمل ١٣٠ ريال ، فكم ساعة عمل بـ ١٩٥٠ ؟

الجواب : ١٥ ساعة



إذا ارتفع سعر الفاصوليا من ٦٠ هائلة الى ٧٥ هائلة ، مانسبة الزيادة ؟

أ- ١٥ %

ب- ٢٠ %

ج- ٢٥ %

د- ٣٠ %

حديقة مساحتها ٢٤٠٠٠ م^٢ ونسبة المزروع فيها ٦٠ % كم مساحة الجزء الغير مزروع ؟

أ- ١٤٠٠

ب- ١٦٠٠

ج- ١٨٠٠

د- ٢٠٠٠

طالب درجة اختارة الاول والثاني متساوية ، واعمال السنة ٧ ، ومجموعة ٤٣ ، فكم تكون درجة بالاختبار الواحد ؟

أ- ١٨

ب- ٢٤

ج- ٢٨

د- ٣٠



إذا كان ثمن ٥ كتب ٥٢ ريال ، كم ثمن ٢٥ كتاب ؟

أ- ٢٥٠

ب- ٢٦٠

ج- ٢٧٠

د- ٢٨٩

إذا كان ١ سم = ١٢٠ كم ، كم يساوي إذا كانت المسافة بين المدينتين ٤ سم ؟

أ- ٨٤٩

ب- ٤٨٠

ج- ٤٢٠

د- ٢٤٠

يقطع ٣ عمال ٣ الواح خشبية الى قطع متساوية في ٣ دقائق كم لوحا يقطعه ٩ عمال في ٤ ساعات ؟

أ- ١٦٠

ب- ٢٧٠

ج- ٥٢٤

د- ٧٢٠



ثلاثة أطفال، مجموع أعمارهم ١٤ سنة، بعد خمس سنوات من الآن، كم سيصبح مجموع أعمارهم ؟

أ- ١٩ سنة

ب- ٢٩ سنة

ج- ٥٤ سنة

د- ٦٧ سنة

أحمد لديه عربيه تسع لـ ٨ صناديق برتقال، وعنده ٢٦ صندوق، فكم مره يحتاج لنقلهم من ؟

أ- ٢ مرات

ب- ٣ مرات

ج- ٤ مرات

د- ٥ مرات

إذا كان نصف مايملكة محمد ٣٠٠٠ فكم يساوي ربع ثلث مايملكة محمد ؟

أ- ٢٥٠

ب- ٤٥٠

ج- ٥٠٠

د- ٧٥٠



القبلي والبعدي :

في أي مادة الفرق بين القبلي والبعدي هو الأكبر ؟

أ- حاسب

ب- علوم

ج- أحياء

د- رياضيات

ماهي المادة التي تحسنت درجات الطلاب فيها واستفادوا من التدريب ؟

أ- حاسب

ب- علوم

ج- أحياء

د- رياضيات

في أي مادة الفرق بين القبلي والبعدي هو الأقل ؟

أ- حاسب

ب- علوم

ج- أحياء

د- رياضيات



ماهي المدرسة التي استفادت استفاده كبيرة من التدريب ؟

أ- مدرسة ١

ب- مدرسة ٢

ج- مدرسة ٣

د- مدرسة ٤

ماهي المدرسة التي حصلت على اعلى مجموع لدرجات ؟

أ- مدرسة ١

ب- مدرسة ٢

ج- مدرسة ٣

د- مدرسة ٤

القطعة (٢)

جزء كبير من تردي الأوضاع الاجتماعية لبعض الأسر نشأ نتيجة لسوء إدارة مواردها المالية وشؤونها الاقتصادية. العديد من الأسر أقحمت نفسها في قروض استهلاكية وتردت أوضاعها الاقتصادية إلى مستويات غير قابلة للاستمرار. وأصبح لزاما عليها تغيير أنماطها الاستهلاكية وبذل جهد أكبر لتصحيح أوضاعها الاقتصادية والاهتمام أكثر بالتخطيط المالي لمواردها الاقتصادية. أدت الأخطاء الاقتصادية- والإصرار على تكرارها - عند بعض الأسر إلى خلق أزمات مالية ساهمت في تدهور الحياة الاجتماعية. سلوك معظم الأسر يحتاج إعادة صياغة لاسيما ما يتعلق بالاستهلاك وتنظيم الوقت. والعديد من الأسر بحاجة لعلماء الاجتماع أكثر من حاجتها لعلماء الاقتصاد لسد الفجوة بين القيم التي تؤمن بها والقيم التي تطبقها في حياتها. أحد أهم مؤشرات سلبيات الفوضى الاستهلاكية يتمثل في ارتفاع حجم إنفاق الأسرة في بداية الشهر مقارنة بنهايته البرمجة الاقتصادية لميزانية الأسرة وأسس التخطيط المالي: -أسس التخطيط المالي الجيد ينطلق من إدراك حاجة الأسرة للتغيير لاسيما الأسر التي تردت أوضاعها الاقتصادية إلى مستويات غير قابلة للاستمرار. -البرمجة الاقتصادية لميزانية الأسرة إحدى أهم الوسائل المساعدة على تصحيح الخلل الذي تعاني منه معظم الأسر من الطبقة المتوسطة

السبب في ان الاسر الفقيرة تعاني اكثر من غيرها ؟

أ- كثرت التضخم المالي

ب- غلاء المعيشة

ج- ارتفاع المعيشة بسبب الادخار

د- القروض البنكية الميسرة



اختر الاجابة الصحيحة :

أ العلاقة بين الازواح المادية والاجتماعية علاقة تعاضد

- ب- العلاقة بين الازواح المادية والاجتماعية علاقة تضاد
ج- العلاقة بين الازواح المادية والاجتماعية علاقة تضامن
د- العلاقة بين الازواح المادية والاجتماعية علاقة طردية

الترشيد في الانفاق يكون ب :

- أ- القروض الاستهلاكية
ب- تحديد الدخل
ج- الانفاق على الضروريات
د- الابتعاد عن الكماليات



تم بحمد الله انتهاء من تجميع اختبار القدرة المعرفية الفترة الثانية لعام ١٤٤١ هـ

هذا العمل لوجه الله تعالى

تم تجميعه وتنسيقه من المشرفة : غلا

تحت اشراف : أبو الجوهرة

من مجموعات أبو الجوهرة التعليمية

[القدرة المعرفية اضغط هنا](#)

[استفسارات القدرة المعرفية اضغط هنا](#)

[حل اسئلة القدرة المعرفية اضغط هنا](#)

[الرخصة المهنية اضغط هنا](#)

[قناة جدارة اضغط هنا](#)

[استفسارات جدارة اضغط هنا](#)

[استفسارات مساعد اضغط هنا](#)

[استفسارات الوظائف اضغط هنا](#)

[قناة كفايات عام وخاص اضغط هنا](#)

[قروب كفايات عام وخاص اضغط هنا](#)

[قروب الدورات التدريبية اضغط هنا](#)

من مجموعات أبو الجوهرة التعليمية

قناة اعلانات وظائف اضغط هنا

قناة مهام الوظائف اضغط هنا

قروب ثقافيات عامة اضغط هنا

قناة اساسيات السيرة الذاتية والمقابلات الشخصية

قروب السيرة الذاتية والمقابلات الشخصية

قروب ختم القرآن الكريم اضغط هنا

قروب بلغوا عنى ولو آية اضغط هنا

قناة القدرة المعرفية لأبو الجوهرة يوتيوب

<https://www.youtube.com/channel/UCSoJfAZA1tHPMjk0LI01Ydg>

