

تجميع ١٤٤٠ هـ
الفترة
الأولى

تجميع
(قدرات ورقية)

تجميع السبت ٢٦-١-١٤٤٠
صباحي ، مسائي



[Twitter.com/AbdihQT](https://twitter.com/AbdihQT)



[Instagram.com/AbdihQT](https://www.instagram.com/AbdihQT)



[Snapchat.com/add/AbdihQT](https://www.snapchat.com/add/AbdihQT)



[T.me/AbdihQT](https://t.me/AbdihQT)

الفهرس

رقم الصفحة	إسم الصفحة
١	المقدمة
٢	دعاء بداية المذاكرة
٣	القسم اللفظي
٥٧	القسم الكمي
٧٥	دعاء نهاية المذاكرة
٧٦	الخاتمة
اللاخيرة	فريق العمل

”

المقدمة

بسم الله الرحمن الرحيم
الصلاة والسلام على المبعوث رحمة للعالمين
سيدنا محمد وعلى آله أصحابه وأتباعه أجمعين .

نتقدم بتجميعنا هذا إلى زملائنا التلاميذ وإلى
كل من يجمعنا بهم رباط العلم ،
نحن نضع بين أيديكم هذا التجميع الذي نرجوا أن
يحاز رضاكم وأن يكون في المستوى ونأمل أننا
لم نقصر ولم نهمل، لأننا محصورين بعوامل
كثيرة يصعب التوفيق في ما بينها، ومنها
الوقت والكتابة .

(والكمال لله سبحانه وتعالى، ونعتذر إن وُرد
خطأ منا)

اللهم انى أسألك فهم النبيين وحفظ الملائكة
المقربين اللهم اجعل لسانى عامرا بذكرك وقلبى
بخشيتك وسرى بطاعتك انك على كل شيء قدير

دعاء بداية المذاكرة

القسم اللفظي



غصن : شجرة

أ. خزانة : نقود

ب.

ج.

د.

الاجابة (أ)

الإمارات : عُمان

أ. مصر : السودان

ب. قطر : سوريا

ج. اليمن : الكويت

د. البحرين : العراق

الاجابة (أ)

ورد : ماء

أ. سيارة : بنزين

ب.

ج.

د.

الاجابة (أ)

(صاعد أبو الأسود الدؤلي)
يفهم من النص أن أبي الأسود توفي وعمره:

أ . ٨٥

ب .

ج .

د .

الإجابة (أ)

(صاعد أبو الأسود الدؤلي)
أقرب الإصابات للفاالج:

أ . ضمور الساق

ب .

ج .

د .

الإجابة (أ)

(صاعد أبو الأسود الدؤلي)
سبق أبو الأسود من في عصره بأعمال وعددها:

أ . ٣

ب .

ج .

د .

الإجابة (أ)

خزانة : نقود

أ. ثلاجة : فواكه

ب.

ج.

د.

الاجابة (أ)

جريمة : محقق

أ. عملية : جراح

ب.

ج.

د.

الاجابة (أ)

نجمة : سماء

أ. عين : وجه

ب.

ج.

د.

الاجابة (أ)

التعاسة كالشمس كلما اقتربت منها أقلت بظل متابعتك خلفك.

أ. التعاسة

ب. اقتربت

ج. أقلت

د. خلفك

الإجابة (أ)

إصبع : ظفر

أ. لسان : فم

ب.

ج.

د.

الإجابة (أ)

حجاب : امرأه

أ. صدقة : لؤلؤة

ب.

ج.

د.

الإجابة (أ)

عاشوراء : محرم

أ. ذبول : خريف

ب.

ج.

د.

الاجابة (أ)

كن عندما ترى طريقاً الآخرون.

أ. قائد ا - ضله

ب. حكيم - عرفه

ج. رجلا - أخطاه

د. تابعا - يعلمه

الاجابة (أ)

قلم : كتابة

أ. سيف : غمد

ب. تذكرة : سفر

ج. مكتبة : كتاب

د. ماء : بئر

الاجابة (ب)

عزير : اليهود

ب. عيسى : النصارى

أ. مكة : المسلمون

د .

ج .

الاجابة ()

جندي : معسكر

ب. مصنع : عامل

أ. لاعب : ملعب

د . طبيب : مريض

ج . مدرسة : معلم

الاجابة (ب)

دولة : مدينة

ب .

أ . جملة : كلمة

د .

ج .

الاجابة (أ)

أبشع مذبحة حدثت بعد الحرب العالمية الثانية هي المذبحة العرقية ضد مسلمي البوسنة والهرسك.

أ . أبشع

ب . الثانية

ج . العرقية

د . مسلمي

الإجابة (ج)

زراعة بيان

أ . جريدة : إصدار

ب . جامعة : شهادة

ج . حكم : محكمة

د . مستشفى : عيادة

الإجابة (ب)

اختراع المفردة الشاذة

أ . قمر

ب . كوكب

ج . مجرة

د . ساحل

الإجابة (د)

الماء : البحر

ب. المبطخ : المنزل

أ. التعليم : المدرسة

د .

ج .

الاجابة ()

سحيق : عميق

ب .

أ. عليل : كليل

د .

ج .

الاجابة (أ)

غرور : نفور

ب. محبة : زواج

أ. قناعة : سعادة

د .

ج .

الاجابة (أ)

(قطعة انثى الحوت)
علاقة "وقد يبلغ من العمر رذله" بما قبلها:

أ . تأكيد

ب . تمثيل

ج .

د .

الاجابة ()

(قطعة انثى الحوت)
كلمة قد تفيد:

أ . الاحتمال

ب .

ج .

د .

الاجابة (أ)

(قطعة انثى الحوت)
الضمير في كلمة ارذه عائد على:

أ . العمر

ب .

ج .

د .

الاجابة (أ)

الأعمدة الصوتية العالية صورة من صور التلوث البيئي.
(خطأ سياقي) ولا لدينا علم بالخيارات.

أ .

ب .

ج .

د .

الإجابة ()

يمكن للإنسان أن يبيع قد اشتراه ولكن لا يبيع
(الجملة ناقصة)

أ . كتاب - عزيز

ب . قلم : منزل

ج . بيت : نقد

د . شيء : فكريا

الإجابة ()

(قطعة انثى الحوت)
معنى كلمة أرذله

أ . أوله

ب . آخره

ج .

د .

الإجابة (ب)

(التصحر)
أنسب عنوان للنص:

أ. التصحر أسبابه وأخطاره

ب.

ج.

د.

الإجابة (أ)

حجاب : امرأه

أ. عقال : رجل

ب.

ج.

د.

الإجابة (أ)

اختر المفردة الشاذة

أ. قطة

ب. خروف

ج. لبوة

د. كلب

الإجابة (ج)

(التصحر)
ما الشيء الذي لا يتأثر بالتصحر؟

أ . الأراضي

ب .

ج .

د .

الإجابة (أ)

(التصحر)
السبب الرئيسي للتصحر:

أ . سوء استخدام الناس
للبيئة

ب .

ج .

د .

الإجابة (أ)

(التصحر)
الضمير في كلمة "أبعادها" يعود على:

أ . الظاهرة

ب .

ج .

د .

الإجابة (أ)

(التصحر)
تأثير الجفاف على التصحر:

أ. يزيد تأثيره

ب.

ج.

د.

الإجابة (أ)

(التصحر)
يمتد تأثير التصحر على:

أ. الإنسان

ب. الحيوان

ج. النبات

د. جميع ما سبق

الإجابة (د)

(التصحر)
يفهم من النص للحد من التصحر وزيادة الجفاف يجب:

أ. حسن الإدارة

ب.

ج.

د.

الإجابة (أ)

اختر المفردة الشاذة

ب. أدب

أ. جغرافيا

د. طقس

ج. تاريخ

الإجابة (د)

اختر المفردة الشاذة

ب. قمر

أ. مجرة

د. ساحل

ج. كوكب

الإجابة (د)

سحيق : عميق

ب.

أ. الخرج : اليوم

د.

ج.

الإجابة (أ)

عرج : رجل

ب. يد : بتر

أ. عمى : عين

د .

ج .

الاجابة (أ)

مزارع : أرض

ب. راعي : رعيه

أ. غواص : بحر

د .

ج .

الاجابة (أ)

اختر المفردة الشاذة

ب. يكتب

أ. يقرأ

د . يطبخ

ج . يحرث

الاجابة (أ)

(صاعد الأندلسي)
كان عمر صاعد الأندلسي عندما هاجر إلى طليعة:

أ . ١٨

ب .

ج .

د .

الإجابة (أ)

(صاعد الأندلسي)
كان كتاب طبقات الأمم لصاعد الأندلسي:

أ . علمي فكري

ب .

ج .

د .

الإجابة (أ)

(صاعد الأندلسي)
عرف العلماء كتب صاعد الأندلسي رغم أنها كانت مفقودة لأنها:

أ . ذكرت في كتب اخرى

ب .

ج .

د .

الإجابة (أ)

(قطعة الزهراوي)
الضمير في عبارة (والناظر إليها) الواردة بالفقرة (٢) يعود على:

أ . الحقائق

ب .

ج .

د .

الإجابة (أ)

(قطعة الزهراوي)
علاقة جملة (وكانت بالغة الأهمية على الأخص...) الواردة بالنص بما قبلها:

أ . تخصيص

ب .

ج .

د .

الإجابة (أ)

(قطعة الزهراوي)
معنى الناجح

أ . النافع

ب .

ج .

د .

الإجابة (أ)

(قطعة الزهراوي)
وفقاً للفقرة (٤) فقد ترجمت كتب الزهراوي إلى اللغة:

ب. اللاتينية

أ. الفارسية

د. الروسية

ج. الهندية

الإجابة (ب)

(قطعة الزهراوي)
توفي الزهراوي في:

ب.منتصف القرن الرابع الهجري

أ. مطلع القرن الرابع الهجري

د. منتصف القرن الخامس الهجري

ج. مطلع القرن الخامس الهجري

الإجابة (ج)

(قطعة الزهراوي)
عاش الزهراوي أقلب عمره في:

ب.

أ. النصف الثاني من القرن الرابع الهجري

د.

ج.

الإجابة (أ)

(قطعة الزهراوي)
يعتبر الزهراوي أول من وضع ال.....

ب. العلاج بالأعشاب

أ. الطب السريري

د. العلاج بالكي

ج. العلاج بالجراحة

الإجابة (أ)

(قطعة الزهراوي)
يستنتج من سيرة الزهراوي أن على الطبيب قبل أن يمارس الجراحة:

ب. يدرس طب الأعشاب

أ. يقوم بدراسة فروع الطب الأخرى

د. الطب السريري

ج. العلاج بالجراحة

الإجابة (أ)

(قطعة الزهراوي)
يستنتج من سيرة الزهراوي أن على الطبيب قبل أن يمارس الجراحة:

ب. يدرس العلوم العامة

أ. يدرس طب الأعشاب

د. يقوم بدراسة فروع الطب الأخرى

ج. يدرس تشريح الدماغ

الإجابة (د)

(قطعة أحاسيس الشخص)
الضمير في (نفسه) يعود على:

أ . الفرد

ب .

ج .

د .

الإجابة (أ)

(قطعة أحاسيس الشخص)
الغرض من استخدام (لأن) يفيد:

أ . التعليل

ب .

ج .

د .

الإجابة (أ)

(قطعة الإنسان والبيئة)
العادات التي تغير بالإكراه تكون بسبب:

أ . القوانين

ب . الوعي البيئي

ج .

د .

الإجابة (أ)

(قطعة أحاسيس الشخص)
علاقة (قوة الإرادة والثقة بالنفس) بما قبلها:

أ . نتيجة

ب . إهمال

ج . تعليل

د . استدراك

الإجابة (أ)

(قطعة أحاسيس الشخص)
(وجدانية) الواردة بالنص تعني:

أ . الإحساس والمشاعر

ب .

ج .

د .

الإجابة (أ)

(قطعة أحاسيس الشخص)
الخروج والتنزه ماذا يفعل للفرد:

أ . يضيع الوقت

ب . يزيد السرور والراحة

ج .

د .

الإجابة (ب)

(قطعة الجميل للإنسان ٢)
معنى جميل:

ب . وسيم

أ . معروف

د . معروف

ج . الجواب

الإجابة (أ)

(قطعة الجميل للإنسان ٢)
يمكن استبدال كلمة (فلا) ب:

ب . إياك أن

أ . رغم أن

د .

ج . قبل أن

الإجابة (ب)

(قطعة الجميل للإنسان ٢)
الآية الأقرب لمعنى النص:

ب .

أ . (هل جزاء الإحسان إلا الإحسان)

د .

ج .

الإجابة (أ)

(قطعة الصلاة)
الآية التي تحتوي على معنى القطعة السابقة:

أ . (واستعينوا بالصبر والصلاة
وإنما لكبيرة إلا على الخاشعين)

ب .

ج .

د .

الإجابة (أ)

(قطعة الجميل للإنسان)
علاقة (وإن أسدى الإنسان إليك جميلاً) بما قبلها:

أ . استدراك

ب . تعليل

ج . تناقض

د .

الإجابة (أ)

(قطعة الجميل للإنسان)
يمكن استبدال (إذا) بـ:

أ . عندما

ب . متى

ج . إن

د .

الإجابة (ج)

(قطعة الصلاة)
المقصود بـ(لا جرم)

ب. لا إثم

أ. لا بد (أو) لا محالة

د .

ج. لا فضيله

الاجابة (أ)

(قطعة الصلاة)
الرخصة الوحيدة هي الصلاة في:

ب. المسجد

أ. الوقت

د. الخوف

ج. الحرب

الاجابة (أ)

(قطعة الصلاة)
كم تضاد بالنص؟

ب. ٣

أ. ٢

د. ٥

ج. ٤

الاجابة (ب)

(قطعة الإعجاز)
القطعة السابقة تفيد أن القرآن يتميز؟

أ . با لإعجاز

ب .

ج .

د .

الإجابة (أ)

(قطعة الإعجاز)
العلاقة بين كلمتي الحُجى والألباب:

أ . ترادف

ب . تباين

ج . اختلاف

د . تعاكس

الإجابة (أ)

(قطعة الإعجاز)
عبارة ما وراء امكانات البشر تفيد؟

أ . الدهشة

ب . الحماس

ج . التدبير

د .

الإجابة (ج)

محراب : مسجد

ب. مطلى : جامع

أ. قائمة : مطعم

د .

ج .

الاجابة (أ)

ثعبان : فحيح

ب .

أ . شجرة : حفيف

د .

ج .

الاجابة (أ)

(قطعة الدموع)

حين تكون الدموع مصاحبة لموقف مؤثر فإنها تخرج:

ب. منهمة

أ. باردة

د .

ج .

الاجابة (ب)

علم : سارية

ب. رايه : خفاقة

أ. طعام : مائدة

د .

ج .

الاجابة (أ)

طفل : شاب

ب .

أ. يرقة : حشرة

د .

ج .

الاجابة (أ)

امنح الطفل القليل من الحب يكن ربحك في المقابل صغيراً.

ب .

أ. صغيرا

د .

ج .

الاجابة (أ)

غش : أمانة

ب. يد : رجل

أ. جد : هزل

د .

ج. ظلم : جور

الاجابة (أ)

صيف : حرارة

ب. كهرباء : مصباح

أ. ذو الحجة : الحج

د . قدم : أصابع

ج. شوال : عيد

الاجابة (أ)

كلمات : جملة

ب. أحاسيس : طبيعة

أ. ألوان : لوحة

د .

ج .

الاجابة (أ)

إدارة : تخطيط

ب. تقويم : تدريب

أ. أسلوب : تنميق

د .

ج .

الإجابة (أ)

فقر : املاق

ب. قلب : روح

أ. ذل : خنوع

د . ذهاب : إياب

ج . رجل : شاب

الإجابة (أ)

محراب : مسجد

ب .

أ . اصبع : يد

د .

ج .

الإجابة (أ)

(قطعة البيئة)
كلمة "ولو كرها" ناتجة عن:

أ. قانون العقوبات

ب.

ج.

د.

الإجابة (أ)

اختر المفردة الشاذة:

أ. تل أبيب

ب. إسرائيل

ج. القاهرة

د. المنوفية

الإجابة (ب)

قلل من المشاورة تصل للرأي الصحيح.

أ. قلل

ب.

ج.

د.

الإجابة (أ)

تحتاج لخطوات كثيرة للوصول إلى الهاوية، ولا تحتاج أكثر من خطوة واحدة للسقوط.

أ. كثيرة

ب. للوصول

ج. الهاوية

د. أكثر

الإجابة (ج)

امنح الطفل قليل من الحب يكن ربحك في المقابل قليلاً.

أ. امنح

ب. الحب

ج. ربحك

د. قليلاً

الإجابة (د)

كساد : تجارة

أ. صلاح : أعمال

ب.

ج.

د.

الإجابة (أ)

يقول العلماء تطفو فوق الماء و..... تغوص في الأعماق.

أ . القشة - الأحجار الكريمة

ب .

ج .

د .

الإجابة (أ)

إذا سألتك ماذا لحلمك غدا ولم يكن لديك الجواب مع احلامك
بسلام.

أ . اعددت - فأرقد

ب .

ج .

د .

الإجابة (أ)

كلب : وفاء

أ . غزال : جمال

ب .

ج .

د .

الإجابة (أ)

باب : مزلاج

ب. كساد : تجارة

أ. مسجد : منارة

د .

ج. فخار : طين

الاجابة (أ)

فخار : طين

ب .

أ . شجرة : بذور

د .

ج .

الاجابة (أ)

وقت : صلاة

ب. صدقة : مال

أ. استطاعة : حج

د .

ج .

الاجابة (أ)

اختر المفردة الشاذة

أ . قبرص

ب . مد عشقر

ج . قطر

د . البحرين

الاجابة (ج)

عصير : يرتقال

أ . سبيكة : ذهب

ب . صلب : حجارة

ج . خشب : نجارة

د . فضة : سكين

الاجابة (أ)

جندي : ضابط

أ . يرقة : حشرة

ب .

ج .

د .

الاجابة (أ)

(قطعة المعروف)
معنى جميل:

أ. العكسي

ب.

ج.

د.

الإجابة (أ)

(قطعة المنطق)
كلمة "فاحذر" نستطيع استبدالها بـ:

أ. إياك

ب.

ج.

د.

الإجابة (أ)

(قطعة المنطق)
أقرب آية للنص:

أ. (فمن عفى له من أخيه شيء
فاتباع بالمعروف)

ب.

ج.

د.

الإجابة (أ)

اختر المفردة الشاذة

ب. دبور

أ. عكاس

د. أسد

ج. لبوة

الإجابة (ب)

(قطعة المنطق)
يمكن وصف المنطق بالكلمات الآتية عدا:

ب.

أ. العكسي

د.

ج.

الإجابة (أ)

(قطعة المنطق)
تفيد القطعة السابقة أن:

ب.

أ. المنطق والخيال كلاهما
فى مستوى واحد

د.

ج.

الإجابة (أ)

وقود : خشب

ب. صورة : ورقة

أ. سيارة : بنزين

د. صوت : أذن

ج. شمس : مصباح

الإجابة (أ)

إذا عجز المرء عن التعبير عما يدور بداخله تعبيراً خيالياً، كان عاجزاً عن التفكير تفكيراً منطقياً سليماً.

ب .

أ . خياليا

د .

ج .

الإجابة (أ)

اختر المفردة الشاذة

ب. أبتتر

أ. أجدع

د. أحوص

ج. أصلم

الإجابة (د)

اختر المفردة الشاذة:

أ. اسفنج

ب. ورقة

ج. منشفة

د. خرقة

الاجابة (ب)

الحياة لها حدان الأمل والأجر، الأول ينتهي بفراقها والثاني بفناؤها.

أ. بفراقها

ب.

ج.

د.

الاجابة (أ)

قضاء : خصوم

أ. معلمون : طلاب

ب. موظف : شركة

ج. حماة : سجون

د.

الاجابة (أ)

أشهر العلماء أكثرهم، فالأرض كلما زادت بها مساحة الماء.

أ. تواضعا - انخفضت

ب.

ج.

د.

الإجابة (أ)

إذا هممت إلى أمر فانظر فإن كان طاعة وإذا كان معصية
.....

أ. أقدم - أحجم

ب.

ج.

د.

الإجابة (أ)

اختر المفردة الشاذة

أ. طابعة ليزر

ب. ماسح ضوئي

ج. لوحة مفاتيح

د. بريد إلكتروني

الإجابة (د)

الشخص المحايد، هو شخص لم ينتصر ولكن من المؤكد أنه
خذل

أ. الباطل - الحق

ب.

ج.

د.

الإجابة (أ)

استطاع العالم أن يضع طريقة خاصة لـ..... بصمات الأصابع وأن يبين
أوجه منها.

أ. حفظ - الإفادة

ب.

ج.

د.

الإجابة (أ)

..... يؤمنون بالحقيقة، ينطقون بها.

أ. كثيرون-قليلون

ب.

ج.

د.

الإجابة (أ)

التنظيم والترتيب لساعة واحدة من قضاء شهر في عمل

ب. أفضل - شاق

أ. أطيب - بسيطة

د .

ج .

الاجابة (ب)

ليس المهم ما بل المهم ما به الوقت المناسب.

ب. تعرفه - تعمل

أ. تقوله - تفكر

د .

ج .

الاجابة (ب)

إذا صنعت معروفاً وإذا صنع لك ف.....

ب .

أ . استره - انشره

د .

ج .

الاجابة (أ)

الصندوق المليء بالجواهر لا يتسع والقلب المليء بالحكمة لا يتسع

أ. للحصى - للصغائر

ب.

ج.

د.

الإجابة (أ)

القشة تطفو على الماء والحجر الكريم يغوص إلى

أ. الأعماق

ب.

ج.

د.

الإجابة (أ)

من بما قسمه الله له، لم على جميع ما فاته.

أ. رضي - يحزن

ب.

ج.

د.

الإجابة (أ)

أحياناً تكون أحلامنا أوسع من أن يحتويها واقعا فنصبر على واقعا قليلاً حتى يصغر.

أ . يصغر

ب .

ج .

د .

الإجابة (أ)

يسعى الإعلاميون إلى كسب الأخبار بسرعة كأنهم في سباق من سيصل أولاً.

أ . كسب

ب .

ج .

د .

الإجابة (أ)

من اتكل على زاد غيره، طال

أ . جوعه

ب . صبره

ج . عمره

د .

الإجابة (أ)

(قطعة قياس الرأي العام)
إعلان تجاري الواردة بالفقرة (٢) تعني:

أ . دعاية

ب .

ج .

د .

الإجابة (أ)

عندما عرفت أن رزقي لن يأخذه غيري فحزن قلبي.

أ . فحزن

ب .

ج .

د .

الإجابة (أ)

استخدام معجون به فلورايد في تنظيف الأسنان لمدة دقيقتين يساعد في
الحفاظ على سامه اللسان والفك.

أ . اللسان

ب .

ج .

د .

الإجابة (أ)

(قطعة قياس الرأي العام)
كان غرض القطعة:

أ . سياسي و اقتصادي

ب .

ج .

د .

الإجابة (أ)

(قطعة قياس الرأي العام)
أنسب عنوان للقطعة:

أ . قياس الرأي العام

ب .

ج .

د .

الإجابة (أ)

(قطعة قياس الرأي العام)
وفقاً لما ورد في الفقرة (٢) فإن قياس الرأي العام يخرج للناس في صورة:

أ . إعلان تجاري

ب .

ج .

د .

الإجابة (أ)

(قطعة البيئة)
أي مما يلي صحيح:

أ. كلما تحسنت عادات الإنسان
زاد تحسن البيئة

ب.

ج.

د.

الإجابة (أ)

(قطعة البيئة)
حماية البيئة تكون لـ:

أ. الفرد و الحكومة

ب. الإنسان

ج. الحكومة

د.

الإجابة (أ)

(قطعة البيئة)
أنسب عنوان للنص:

أ. نحن والبيئة

ب. عادات البيئة

ج. حقوق البيئة

د.

الإجابة (أ)

(قطعة الدموع)
تحدث الفقرة الثانية عن:

أ. أنواع الدموع

ب.

ج.

د.

الإجابة (أ)

(قطعة الدموع)
علاقة جملة (تعمل على ترطيب العين والمحافظة عليها) بما قبلها:

أ. بيان الوظيفة

ب. ترادف

ج. نتيجة

د. بيان السبب

الإجابة (أ)

(قطعة الدموع)
العلاقة بين الدموع والإنهمار:

أ. في تناقص

ب. في تزايد

ج.

د.

الإجابة (ب)

خطأ : اعتذار

ب. سجن : عقوبة

أ. ذنب : توبة

د. سرعة : تضحية

ج. حادث : غرامة

الاجابة (أ)

قال عمر بن الخطاب رضي الله عنه: يجب عليك أن على ولدك من
عليه

ب. تنفق - رزقكم

أ. تغضب - خوفك

د .

ج. تشفق - اشفاقكم عليه

الاجابة (أ)

اختر المفردة الشاذة

ب. ظهر

أ. ضحى

د . عشاء

ج. مغرب

الاجابة (أ)

اختر المفردة الشاذة

ب. صحن

أ. كأس

د. فنجان

ج. أكواب

الإجابة (ب)

اختر المفردة الشاذة

ب. طريق

أ. ميناء

د. مطار

ج. موقف

الإجابة (ب)

صيف : حرارة

ب. كهرباء : مصباح

أ. ذو الحجة : الحج

د. قدم : أصابع

ج. شوال : عيد

الإجابة (أ)

جو : غبار

ب. جلد : برص

أ. غيوم : مطر

د. مريض : عكاز

ج. قلم : ممحاة

الاجابة (ب)

إدارة : تخطيط

ب. تقييم : تدريب

أ. كتابة : تنسيق

د .

ج .

الاجابة (أ)

اختر المفردة الشاذة:

ب. ناقة

أ. ثور

د. كنغر

ج. زرافة

الاجابة (د)

اختر المفردة الشاذة

أ . مربى

ب . عسل

ج . حلوى

د . كنافة

الاجابة (ب)

محرر : صحيفة

أ . موظف : شركة

ب .

ج .

د .

الاجابة (أ)

التجارة مهنة قديمة عرفها الناس منذ القدم ويعمل بما الموظفون.

أ . التجارة

ب . الناس

ج . القدم

د . الموظفون

الاجابة (د)

قفل : مفتاح

أ . مسأله : تفكير

ب .

ج .

د .

الاجابة (أ)

(سؤال من أحد القطع)
العلاقة بين متفرقة ومختلفة:

أ . ترادف

ب .

ج .

د .

الاجابة (أ)

المبدع هو الذي يبدع في مجال معين، ويكتشف أشياء معروفة بين الناس
تؤدي إلى شهرته.

أ . معروفه

ب .

ج .

د .

الاجابة (أ)

الجندي الذي لا يطمح أن يكون فهو جندي

أ. ضابطا - خامل

ب.

ج.

د.

الاجابة (أ)

ثعلب : مكر

أ. غزال : جمال

ب.

ج.

د.

الاجابة (أ)

شر خصال الملوك الجبن مع الأعداء والرحمة مع الضعفاء

أ. الرحمة

ب.

ج.

د.

الاجابة (أ)



القسم الكمي

مجموع عمر الاب وابناؤه الثلاثة ٦٦، ما مجموع اعمارهم بعد خمس سنوات؟

ب. ١١٩

أ. ٨٦

د. ١١١

ج. ٧١

الإجابة (أ)

عمر الاب ٧٩ وعمر ابنه ١٣ فبعد كم سنة يصبح عمر الابن ربع عمره؟

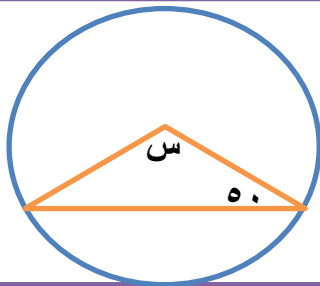
ب. ١

أ. ٣

د. ٢٢

ج. ٩

الإجابة (ج)



ب. ٦٠

أ. ٨٠

د. ٥٠

ج. ١٨٠

الإجابة (أ)

شخص يقطع ٨ كم/س كم ساعة يحتاج لقطع ٤٨ كم؟

أ. ٦

ب. ٢

ج. ٨

د. ٤٨

الإجابة (أ)

رجل اشترى ٣ سيارات بنفس السعر وباع منهم سيارتين بسعر ٣ سيارات ثم باع السيارة الثالثة بضعف سعرها فكان الاجمالي ربع مليون ريال فكم سعر السيارة الواحدة؟

أ. ٢٥٠ الف

ب. ٥٠ الف

ج. ١٠٠ الف

د. ٧٥ الف

الإجابة (ب)

مثلث مساحته ٣٦ سم^٢ إذا كان ارتفاعه ٩ سم
فقارن بين
القيمة الأولى : ٨
القيمة الثانية : طول القاعدة

أ. القيمة الأولى أكبر

ب. القيمة الثانية أكبر

ج. متساويتان

د. المعطيات غير كافية

الإجابة (ج)

نريد توزيع ٩٠٠ ريال لثلاث اشخاص ونسبة الاول الى الثاني ٤:٢ ونسبة الثالث الى الثاني ١:٢ فكم يأخذ كل شخص؟

ب. ٣٠٠ : ٤٠٠ : ٢٠٠

أ. ٣٠٠ : ٣٠٠ : ٣٠٠

د. ٣٠٠ : ٢٠٠ : ٤٠٠

ج. ٢٠٠ : ٤٠٠ : ٣٠٠

الاجابة (ب)

أكمل المتتالية:

١ ، ٤ ، ١٦ ، ٦٤ ، ...

ب. $\frac{1}{4}$

أ. $\frac{1}{4}$

د. ٤

ج. $\frac{7}{4}$

الاجابة (ج)

قارن بين ٠.٤ و ٠.٤٠١

ب. القيمة الثانية اكبر

أ. القيمة الاولى اكبر

د. المعطيات غير كافيه

ج. متساويتان

الاجابة (ب)

المرضى في المستشفى



من التمثيل السابق، إذا علمت أن زاوية الرجال = 90°
وعددهم 38 رجل، أوجد مجموع المرضى.

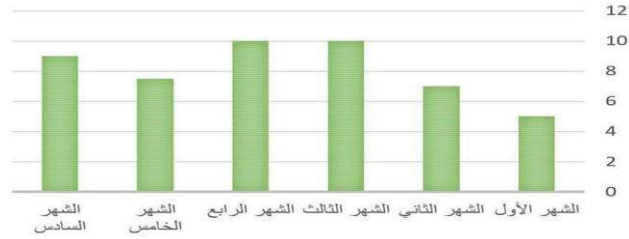
ب. 246

أ. 66

د. 124

ج. 102

الإجابة (ج)



يمثل التمثيل البياني إنجازات شركة، كم يبلغ متوسط إنجازات الشركة؟

ب. 7.2

أ. 6.4

د. 8.1

ج. 7.6

الإجابة (أ)

احمد عنده ١٨٠٠ ريال من فئة ٢٠٠ و ٥٠٠ وهو عنده في يده ٦ قطع فكم قطعه من فئة ٢٠٠ يملك؟

ب. ٤

أ. ٥

د. ٨

ج. ٦

الاجابة (ب)

اذا كان هناك عامل يعمل في الفترة الصباحية ٤ ساعات الساعة ١٢ ويعمل في المساء ٦ ساعات الساعة ١٠ فكم مجموع ما سيحصل عليه خلال ٢٠ يوم؟

ب. ٤٠٠٠

أ. ٢٠١٦

د. ٢١٦٠

ج. ٩٨٠٠

الاجابة (د)

قارن بين
٢٨(٣-)
و
- جذر ٢٨٩

ب. القيمه الثانيه اكبر

أ. القيمه الاولي اكبر

د. المعطيات غير كافيه

ج. متساويتان

الاجابة (ب)

عدد إذا طرحنا منه ١ وربعناه أصبح الناتج ٤٩ فما هو العدد؟

أ. ٤٧

ب. ١٣

ج. ٩

د. ٨

الإجابة (د)

شخص يستخدم اربعة اقلام ملونه ، احمر، اسود، اخضر، ابيض فما اللون الذي يستخدمه في اليوم ال ٧٠؟

أ. احمر

ب. اسود

ج. اخضر

د. ابيض

الإجابة (ب)

لديك ٢٧ قطعه مستطيله و١٥ قطعه مربعه ، الصندوق الواحد يحتاج ٤ قطع مستطيله و٢ مربعه، كم صندوق يمكن انت تصنع؟

أ. ٣

ب. ٦

ج. ١٣٠

د. ٧

الإجابة (ب)

شخص يوزع مال للفقراء بنسبه ٢:٢:١ والفرق بين
الاول والثالث ١٢٠ ما مبلغ الثالث؟

ب. ١٨٠

أ. ٦٠

د. ٢٢٠

ج. ١٢٠

الإجابة (ب)

١٢ شخص يجلس على ٣ طاولات فكم يجلسون
على ٢١ طاولة؟

ب. ٧٦٥

أ. ٩١

د. ٩٢

ج. ١٣٠

الإجابة (أ)

كان المتوسط بين ٦ أعداد ٥٠ ومتوسط مجموع ثلاثه
منهم ٢٠ فما مجموع الثلاثه الاخرى؟

ب. ٩٠

أ. ٣٠

د. ٢١٠

ج. ١٢٠

الإجابة (د)

قارن بين 2^{707} و $2^{5005} + 2^{606}$

ب. القيمة الثانية اكبر

أ. القيمة الأولى اكبر

د. المعطيات غير كافية

ج. متساويتان

الإجابة (ب)

قارن بين 1824^2 و 608^{27}

ب. القيمة الثانية اكبر

أ. القيمة الأولى اكبر

د. المعطيات غير كافية

ج. متساويتان

الإجابة (ج)

قارن بين $\sqrt{0.81}$ و 0.9

ب. القيمة الثانية اكبر

أ. القيمة الأولى اكبر

د. المعطيات غير كافية

ج. متساويتان

الإجابة (ج)

إذا كان ١٥% من العدد هو ٤.٥ فكم يكون ٤٥% من العدد نفسه؟

ب. ١٣.٥

أ. ١٠.٥

د. ٤٥

ج. ٩.٥

الإجابة (ب)

شخص معه ٥٤٠٠ زكى ب ٢٢% ما مقدار مال شخص زكى ب ١٤%؟

ب. ٥٤٠٠

أ. ٢٩٨٧

د. ٤٩٦٨

ج. ٣٩٨٠

الإجابة (د)

قارن بين
الزاوية عند الساعة ٢
الزاوية عند الساعة ١١:٢٠

ب. القيمة الثانية اكبر

أ. القيمة الأولى اكبر

د. المعطيات غير كافية

ج. متساويتان

الإجابة (ب)

عمر سليمان اكبر من مجد ب 5 مرات و عمر خالد ربع عمر
سليمان
قارن بين عمر مجد و خالد

ب. القيمة الثانية اكبر

أ. القيمة الاولى اكبر

د. المعطيات غير كافية

ج. متساويتان

الإجابة (ب)

ما مقدار زكاة ٦٤٠ ريال؟

ب. ٦٤

أ. ٢٠

د. ١٦

ج. ٣٢

الإجابة (د)

قارن بين $\sqrt{0.4}$ و ٠.٤

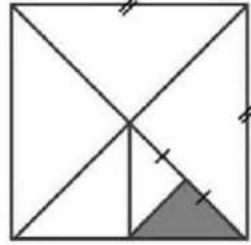
ب. القيمة الثانية اكبر

أ. القيمة الاولى اكبر

د. المعطيات غير كافية

ج. متساويتان

الإجابة (ب)



مساحة المثلث ٣ اوجد مساحه الغير
ممثل ؟

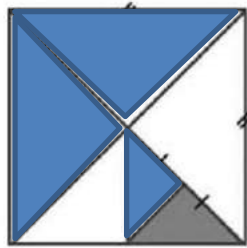
ب . ٤٨

أ . ٨٢

د . ٤٥

ج . ٢٩

الاجابة (د)



مساحة الغير ممثل ١٨ اوجد مساحة
المثلث ؟

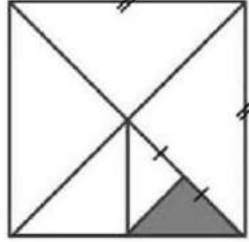
ب . ٨٤

أ . ٤٨

د . ٤٢

ج . ٣٦

الاجابة (أ)



ما نسبة المظل؟

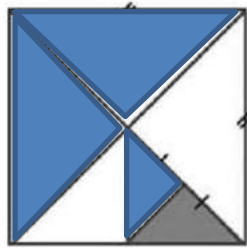
ب. ٤ : ١

أ. ٨ : ١

د. ١٦ : ١

ج. ٢ : ١

الإجابة (د)



ما نسبة المظل؟

ب. ٨ : ٥

أ. ١٧ : ٧

د. ٥ : ٦

ج. ٤ : ٣

الإجابة (ب)

س $2^8 = 2^6 + 2^2$ ، س + ص = 2 ، اوجد س-ص؟

ب. 3

أ. 32

د. 8

ج. 7

الإجابة (د)

الفرق بين عدد وحذره التربيعي هو 72 ، ماذك العدد؟

ب. 100

أ. 81

د. 9

ج. 8

الإجابة (أ)

عدد طلاب ثانوية

قارن

٢٠٠ اول ثانوي
٤٥ ثاني ثانوي شريعة
٩٥ ثاني ثانوي طبيعة
٥٥ ثالث ثانوي شريعة
١٠٥ ثالث ثانوي طبيعة
ما عدد طلاب طبيعة في المدرسة؟

ب. ١٠٥

أ. ٢٠٠

د. ٩٥

ج. ٤٠٠

الإجابة (أ)

يوجد ٣ صفوف وكل صف يزيد واحد عن الذي أمامه
وعدد المقاعد ١٨ اوجد عدد المقاعد بالصف الاخير؟

ب. ٧

أ. ٥

د. ٩

ج. ٦

الإجابة (ب)

$$(س ص ع) x \frac{1}{(س ص ع)}$$

قارن

$$(ع ص س) x \frac{1}{2(ع ص س)}$$

ب. القيمة الثانية اكبر

أ. القيمة الاولى اكبر

د. المعطيات غير كافية

ج. متساويتان

الاجابة (ج)

كأس اسطواني مساحه قاعدته 15 سم مربع و ارتفاعه 15 سم ، فكم هو الحجم اللازم لملئ ثلثه؟

ب. 75

أ. 50

د. 100

ج. 60

الاجابة (ب)

محل يصمم بطائق و كل اول ١٥ كلمه فقط بالبطاقه بريالين ، ثم يصبح
سعر الكلمه الوحده ب ١٢.٥ هلله ف كم يصبح مجموع الكلمات اذا اصبح
السعر ب ٤ ريال؟ (١٠٠ هلله =ريال)

ب. ٢٢

أ. ١٦

د. ٣١

ج. ١٣

الإجابة (د)

يوجد ٢٢ قطعة حلوى و ١٢ طفل ، وزع قطع الحلوى على
الاطفال *بالتساوي* فكم قطعه حلوى متبقية؟

ب. ١٢

أ. ٨

د. ٣

ج. ٩

الإجابة (أ)

اذا كان س اصغر عدد موجب يقبل القسمة على
٢١، ١١ اي من التالي يقبل القسمة عليه؟

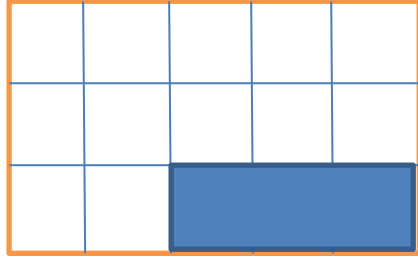
ب. ١١

أ. ١٤

د. ١٥

ج. ٢٢

الإجابة (د)



كم مربع يجب ان نظل كي
يصبح المظل $5/4$ ؟

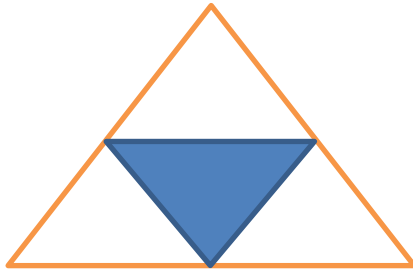
ب. ٩

أ. ٨

د. ١٥

ج. ١٢

الاجابة (ب)



مساحه المظل تساوي ٥ سم مربع
فكم مساحه المثلث؟

ب. ٢٥ سم مربع

أ. ٣٠ سم مربع

د. ١٥ سم مربع

ج. ٢٠ سم مربع

الاجابة (ج)

اللهم انى أستودعك ما قرأت وما حفظت وما تعلمت
فردده عند حاجتي إليه , إنك على كل شيء قدير.

دعاء نهاية المذاكرة

الذاتمة

{فَمَنْ كَانَ يَرْجُو لِقَاءَ رَبِّهِ فَلْيَعْمَلْ عَمَلًا
صَالِحًا وَلَا يُشْرِكْ بِعِبَادَةِ رَبِّهِ أَحَدًا }

نأمل اننا قد وفقنا بعملنا هذا
نشكر القائمين على إعداد هذا العمل

للتواصل :

Telegram:@AbdihQT
Twitter:@AbdihQT

فريق العمل





تابعونا على ...



[Twitter.com/AbdihQT](https://twitter.com/AbdihQT)



[Instagram.com/AbdihQT](https://www.instagram.com/AbdihQT)



[Snapchat.com/add/AbdihQT](https://www.snapchat.com/add/AbdihQT)



[T.me/AbdihQT](https://t.me/AbdihQT)

تجميع ١٤٤٠ هـ
الفترة
الأولى

تجميع
(قدرات ورقية)



تجميع الاعداد ١٤٤٠-١-٢٧
مسابقي



[Twitter.com/AbdihQT](https://twitter.com/AbdihQT)



[Instagram.com/AbdihQT](https://www.instagram.com/AbdihQT)



[Snapchat.com/add/AbdihQT](https://www.snapchat.com/add/AbdihQT)



[T.me/AbdihQT](https://t.me/AbdihQT)

الفهرس

رقم الصفحة	إسم الصفحة
١	المقدمة
٢	دعاء بداية المذاكرة
٣	القسم اللفظي
	القسم الكمي
	دعاء نهاية المذاكرة
	الخاتمة
اللاخيرة	فريق العمل

”

المقدمة

بسم الله الرحمن الرحيم
الصلاة والسلام على المبعوث رحمة للعالمين
سيدنا محمد وعلى آله أصحابه وأتباعه أجمعين .

نتقدم بتجميعنا هذا إلى زملائنا التلاميذ وإلى
كل من يجمعنا بهم رباط العلم ،
نحن نضع بين أيديكم هذا التجميع الذي نرجوا أن
يحاز رضاكم وأن يكون في المستوى ونأمل أننا
لم نقصر ولم نهمل، لأننا محصورين بعوامل
كثيرة يصعب التوفيق في ما بينها، ومنها
الوقت والكتابة .

(والكمال لله سبحانه وتعالى، ونعتذر إن وُرد
خطأ منا)

اللهم انى أسألك فهم النبيين وحفظ الملائكة
المقربين اللهم اجعل لسانى عامرا بذكرك وقلبى
بخشيتك وسرى بطاعتك انك على كل شيء قدير

دعاء بداية المذاكرة

القسم اللفظي



كرسي : خشب

أ. ثوب:قطن

ب.

ج.

د.

الاجابة (أ و ب)

سباحة : نشاط

أ. سباحة : نشاط

ب.

ج.

د.

الاجابة (أ)

قائم : قاعد

أ. الآخذ : الوهاب

ب. نائم : مستلقين

ج.

د.

الاجابة (أ)

ماء : صفاء

ب. هواء : نقاء

أ. شباب : نظارة

د.

ج.

الاجابة (أ و ب)

عسل : نحل

ب.

أ. مسك : غزال

د.

ج.

الاجابة (أ)

كرسي : جلوس

ب.

أ. قلم:كتابة

د.

ج.

الاجابة (أ)

للصدق رائحة بالأنوف ولكن تحس

أ. تشم-القلوب

ب.

ج.

د.

الاجابة (أ)

الهوايات تحمي الشباب من العمل الضار ،
وتوفر لهم مشروعه

أ. المفيدة-المتعة

ب.

ج.

د.

الاجابة (أ)

سقم : شفاء

أ. خيانة:وفاء

ب.

ج.

د.

الاجابة (أ)

إحذر من مازحته ومن إذا عاشرتة

ب. كريم-لئيم

أ. أرعن-سافل

د.

ج.

الإجابة (أ)

جمال الأفكار و يجعل سهلاً على الذاكرة

ب. تفكها-تخزينها

أ. ترابطها-استدعاؤها

د.

ج. غموضها-نسيانها

الإجابة (أ)

حياة الإنسان لا تقاس بطول بل بعرض

ب. الايام-المصائب

أ. السنين-الاحداث

د.

ج. الشهور-المنازل

الإجابة (أ)

إذا كانت المرأة الجميلة كنز ، فالمرأة الفاضلة
فضة

أ. الجميلة

ب. كنز

ج. الفاضلة

د. فضة

الإجابة (د)

تهتم الدولة بتدوير الاحداث و عنيت بتأسيس
المؤسسات وتسهر على مصلحة أبنائها

أ. تدوير

ب.

ج.

د.

الإجابة (أ)

يقال إن بن سينا كان إذا استغلق عليه شيء تردد على
المسجد فصلى وابتهل لربه حتى يفتح له

أ. أخذ-الرزق

ب. جهل-الباب

ج. ادراك-اليسر

د. فهم-المستغلق

الإجابة (أ)

شيء جميل أن يستشهد المسلم لأجل دينه ، ولكن
الأجمل أن يموت لأجل هذا الدين

ب. الاجمل

أ. الدين

د. هذا

ج. يموت

الاجابة (ج)

أهم العامل صنعته وتفوق على أقرانه

ب. صنعته

أ. اهمل

د. اقرانه

ج. تفوق

الاجابة (أ)

القناعة دائماً عظيمة فمهما كنت فقيراً فهناك أكثر
غنى منك

ب. عظيمة

أ. القناعة

د. أكثر

ج. فقيراً

الاجابة (ج)

فلنحکم على الأشخاص بما يعطون لا بما يبذلون

أ. فلنحکم

ب. الاشخاص

ج. يعطون

د. يبذلون

الاجابة (د)

كلما ازداد الشرب من البئر قل عطاؤها

أ. البئر

ب. قل

ج. عطاؤها

د. ازداد

الاجابة (ج)

نقطة التحول في حياتنا عندما نقرر أن نفعل ما
كنا نعتقد أنه ممكناً

أ. التحول

ب. نقرر

ج. نعتقد

د. ممكناً

الاجابة (د)

أختر المفردة الشاذة مما يلي

أ. ماء

ب. زيادته

ج. طيب

د. قشقة

الاجابة (أ)

أختر المفردة الشاذة مما يلي

أ. مها

ب. ظبي

ج. ريم

د. بقرة

الاجابة (د)

أختر المفردة الشاذة مما يلي

أ. سيد

ب. حسن

ج. علي

د. حسين

الاجابة (أ)

أختر المفردة الشاذة مما يلي

ب. كتاب

أ. كرسي

د. ورقة

ج. قلم

الإجابة (أ)

أختر المفردة الشاذة مما يلي

ب. مذياع

أ. تلفاز

د. سيارة

ج. فرن

الإجابة (د)

أختر المفردة الشاذة مما يلي

ب. فقيه

أ. بليغ

د. زاهد

ج. محدث

الإجابة (أ)

مسجد - امام - ماموم - مصحف

أ. مسجد

ب. امام

ج. ماموم

د. مصحف

الاجابة (أ)

بطاطس - أرز - قمح - عدس

أ. بطاطس

ب. أرز

ج. قمح

د. عدس

الاجابة (أ)

أم-أب-طفل-اخ

أ. أم

ب. أب

ج. طفل

د. اخ

الاجابة (ج)



القسم الكمي

١٣ أعداد صحيحة موجبه متتاليه حاصل جمعهم
يساوي حاصل ضرب الثاني في الثالث فإن أحد هذه الأعداد؟

ب. ٣

أ. ٤

د. ١٠

ج. ٠

الإجابة (ب)

دائرة نصف قطرها ١٠٠ سم رسم على قطرها ٢٠ دائرة صغيرة
اوجد نسبة المساحة بين الدائرة الصغيرة و الكبيرة

ب. ٢ : ٢٠٠

أ. ١ : ٤٠٠

د. ١ : ٥٠٠

ج. ١ : ٣٠٠

الإجابة (أ)

اشترى عبدالله ٥ دفاتر و ٤ أقلام وتبقى له ريالان
واشترى أخوه ٤ دفاتر و ٥ أقلام وتبقى له ٥ ريال فإذا كان ما دفعاه
متساويًا فقارن بين - سعر القلم - سعر الدفتر

ب. القيمة الثانية اكبر من الاولى

أ. القيمة الاولى اكبر من الثانية

د.

ج.

الإجابة (ب)

$$\sqrt[10]{256} =$$

أ. 0.2^8

ب.

ج.

د.

الإجابة (أ)

ما مجموع المتسلسلة "المتتابعة" التالية عند
الحد رقم ٥٠
 $٣ + ٣ + ٣ + \dots$

أ. ١٥٠

ب. ٩٠

ج. ١٢٠

د. ٥٠

الإجابة (أ)

إذا لعب خالد ومحمد الكرة الساعة ١٠:٢٠ وتوقفوا بعدها بساعتين و
٥٥ دقيقة ثم لعبوا بعدها بساعتين و ١٥ دقيقة متى انتهوا من اللعب؟

أ. ٣:٣٠

ب. ٢:٣٠

ج. ٣:١٥

د. ٢:٠٠

الإجابة (أ)

اوجد قيمة $س$

$$31 \dots 26 \dots 21 \dots 16 \dots س \dots 6$$

أ. 11

ب. 7

ج. 5

د. 9

الاجابة (أ)

مصنع بة 4 مولدات تنتج 5000 واط لو توقف احدهم
عن العمل كم تنتج

أ. 3750

ب. 3500

ج. 4500

د. 4000

الاجابة (أ)

سلك طوله 36 شكلنا به مستطيل إذا كان الطول ضعف العرض فما
مساحة المستطيل ؟

أ. 72

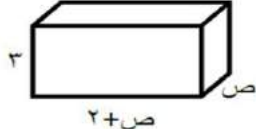
ب. 60

ج. 70

د. 62

الاجابة (أ)

إذا كان حجم المتوازي = ٧٢ فأوجد ص



ب. ٥


أ. ٤

د. ٦

ج. ٧

الإجابة (أ)

أوجد ص + ص



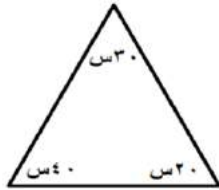
ب. ١٠٠

أ. ١٥٠

د. ٢٥٠

ج. ١٢٠

الإجابة (أ)



ما قيمة \angle ص ٤٠° في الشكل المقابل؟

ب. ٤٠

أ. ١٦٠

د. ٨٠

ج. ٦٠

الإجابة (د)

قارن بين

0.1

و

$\frac{11}{111}$

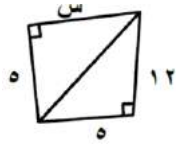
ب. القيمة الثانية اكبر من الاولى

أ. القيمة الاولى اكبر من الثانية

د. المعطيات غير كافية

ج. القيمتان متساوية

الاجابة (أ)



اوجد قيمة س:

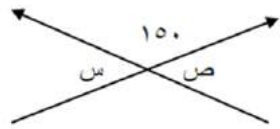
ب. 13

أ. 12

د. 9

ج. 144

الاجابة (أ)



اوجد س+ص

ب. 20

أ. 60

د. 180

ج. 30

الاجابة (أ)

إذا كان مع محمد ٥٠ وهو مثلي ما مع خالد
بفارق ٢٠ ريال فكم مع خالد

أ. ١٥

ب. ٣٠

ج. ٢٥

د. ٥٠

الإجابة (أ)

أوجد متوسط الأعداد التالية
١٦ ، ١٢,٢٥ ، ١٣,٧٥

أ. ٢٥

ب. ١٤

ج. ٢٠

د. ٧٥

الإجابة (ب)

$$= \frac{1}{5} + 1$$

أ. ١.٢

ب. ١

ج. ٢

د. ١.٥

الإجابة (أ)

باع تاجر سلعة ب ١٠٠ ريال واشتراها ب ١٢٠ ثم باعها ب ١٦٠
قارن بين - الربح - ٣٠ ريال

ب. القيمة الثانية اكبر من الاولى

أ. القيمة الاولى اكبر من الثانية

د.

ج. الربح = ٤٠

الاجابة (أ)

ملاحظة الاختبار يحتوى على العديد من
الاسئلة الهندسية فى القسم الكمي

تابعونا على التلجرام

http://t.me/Abdih_t

قناة احدث التسريبات سيتم
نشر بقية التسريبات فى القناة
لانه تحتوى على اشكال هندسية

اللهم انى أستودعك ما قرأت وما حفظت وما تعلمت
فردده عند حاجتي إليه , إنك على كل شيء قدير.

دعاء نهاية المذاكرة

الذاتمة

{فَمَنْ كَانَ يَرْجُو لِقَاءَ رَبِّهِ فَلْيَعْمَلْ عَمَلًا
صَالِحًا وَلَا يُشْرِكْ بِعِبَادَةِ رَبِّهِ أَحَدًا }

نأمل اننا قد وفقنا بعملنا هذا
نشكر القائمين على إعداد هذا العمل

للتواصل :

Telegram:@AbdihQT
Twitter:@AbdihQT

فريق العمل





تابعونا على ...



[Twitter.com/AbdihQT](https://twitter.com/AbdihQT)



[Instagram.com/AbdihQT](https://www.instagram.com/AbdihQT)



[Snapchat.com/add/AbdihQT](https://www.snapchat.com/add/AbdihQT)



[T.me/AbdihQT](https://t.me/AbdihQT)