



| | | | | |
|-----|-----|-----|-----|-----|
| | | | | |
| --- | --- | --- | --- | --- |
| --- | --- | --- | --- | --- |
| --- | --- | --- | --- | --- |
| --- | --- | --- | --- | --- |

| | |
|--|--|
| | |
| | |
| | |

كم في اللوحة؟

كم في اللوحة؟

كم في اللوحة؟

كم في اللوحة؟



| | | | | |
|-----|-----|-----|-----|-----|
| | | | | |
| --- | --- | --- | --- | --- |
| --- | --- | --- | --- | --- |
| --- | --- | --- | --- | --- |
| --- | --- | --- | --- | --- |

| | |
|--|--|
| | |
| | |
| | |

كم في اللوحة؟

كم في اللوحة؟

كم في اللوحة؟

كم في اللوحة؟

الأحد 15 / 9 / 2019

منهاجي
متعة التعليم الهادف



واجب



اكتب العدد التالي للاعداد التالية :

| | | | | | | | | | |
|---|--|---|--|---|--|---|--|---|--|
| 7 | | 5 | | 8 | | 4 | | 3 | |
|---|--|---|--|---|--|---|--|---|--|

اكتب العدد السابق للاعداد التالية :

| | | | | | | | | | |
|--|---|--|----|--|---|--|---|--|---|
| | 1 | | 10 | | 9 | | 2 | | 6 |
|--|---|--|----|--|---|--|---|--|---|

اكتب بالارقام :

سَبْعَةٌ ----- تِسْعَةٌ ----- واحد -----
عَشْرَةٌ ----- سِتَّةَ عَشَرَ ----- اثنان -----
ثَلَاثَةَ عَشَرَ ----- تِسْعَةَ عَشَرَ ----- اربعة -----

الأحد 15 / 9 / 2019

منهاجي
متعة التعليم الهادف



واجب



اكتب العدد التالي للاعداد التالية :

| | | | | | | | | | |
|---|--|---|--|---|--|---|--|---|--|
| 7 | | 5 | | 8 | | 4 | | 3 | |
|---|--|---|--|---|--|---|--|---|--|

اكتب العدد السابق للاعداد التالية :

| | | | | | | | | | |
|--|---|--|----|--|---|--|---|--|---|
| | 1 | | 10 | | 9 | | 2 | | 6 |
|--|---|--|----|--|---|--|---|--|---|

اكتب بالارقام :

سَبْعَةٌ ----- تِسْعَةٌ ----- واحد -----
عَشْرَةٌ ----- سِتَّةَ عَشَرَ ----- اثنان -----
ثَلَاثَةَ عَشَرَ ----- تِسْعَةَ عَشَرَ ----- اربعة -----

الاثنين 16 / 9 / 2019

منهاجي
متعة التعليم الهادف



مجلس التعليم
S.A.S

واجب

اكتب العدد الواقع بينالعددين :

| | | |
|--|--|----|
| | | 75 |
|--|--|----|

| | | |
|--|--|----|
| | | 53 |
|--|--|----|

| | | |
|--|--|-----|
| | | 866 |
|--|--|-----|

| | | |
|--|--|----|
| | | 42 |
|--|--|----|

| | | |
|--|--|----|
| | | 31 |
|--|--|----|

رتب الاعداد التالية تصاعديا:

(7 , 6 , 9 , 2 , 1 , 5)

| | | | | | |
|--|--|--|--|--|--|
| | | | | | |
|--|--|--|--|--|--|

رتب الاعداد التالية تنازليا:

(8 , 6 , 7 , 2 , 5 , 4)

| | | | | | |
|--|--|--|--|--|--|
| | | | | | |
|--|--|--|--|--|--|

الاثنين 16 / 9 / 2019

منهاجي
متعة التعليم الهادف



مجلس التعليم
S.A.S

واجب

اكتب العدد الواقع بينالعددين :

| | | |
|--|--|----|
| | | 75 |
|--|--|----|

| | | |
|--|--|----|
| | | 53 |
|--|--|----|

| | | |
|--|--|-----|
| | | 866 |
|--|--|-----|

| | | |
|--|--|----|
| | | 42 |
|--|--|----|

| | | |
|--|--|----|
| | | 31 |
|--|--|----|

رتب الاعداد التالية تصاعديا:

(7 , 6 , 9 , 2 , 1 , 5)

| | | | | | |
|--|--|--|--|--|--|
| | | | | | |
|--|--|--|--|--|--|

رتب الاعداد التالية تنازليا:

(8 , 6 , 7 , 2 , 5 , 4)

| | | | | | |
|--|--|--|--|--|--|
| | | | | | |
|--|--|--|--|--|--|

الاثنين 23 / 9 / 2019

منهاجي
متعة التعليم الهادف



واجب



طفلي الحبيب افقر واحداث:

| | | | | | | | | | | |
|----|--|--|----|--|-----|--|----|--|----|----|
| 1 | | | 3 | | 6 | | | | 10 | |
| 12 | | | 15 | | 6 | | 19 | | | |
| 23 | | | | | 286 | | | | 32 | |
| 34 | | | | | 6 | | 40 | | | 44 |
| 45 | | | | | 506 | | | | | |



أفكر : أنا عدد أقل من (11) وأكبر من (9) فمن أنا.....

الاثنين 23 / 9 / 2019

منهاجي
متعة التعليم الهادف



واجب



طفلي الحبيب افقر واحداث:

| | | | | | | | | | | |
|----|--|--|----|--|-----|--|----|--|----|----|
| 1 | | | 3 | | 6 | | | | 10 | |
| 12 | | | 15 | | 6 | | 19 | | | |
| 23 | | | | | 286 | | | | 32 | |
| 34 | | | | | 6 | | 40 | | | 44 |
| 45 | | | | | 506 | | | | | |



أفكر : أنا عدد أقل من (11) وأكبر من (9) فمن أنا.....



الاثنين 23 / 9 / 2019

واجب

طفلي الحبيب اقفز بإضافة اثنينات:

| | | | | | | | | | | |
|---|--|--|---|--|-----|--|--|--|----|----|
| 2 | | | 6 | | 126 | | | | 20 | 22 |
|---|--|--|---|--|-----|--|--|--|----|----|

| | | | | | | | | | | |
|----|--|--|----|--|---|--|----|--|--|----|
| 24 | | | 30 | | 6 | | 38 | | | 44 |
|----|--|--|----|--|---|--|----|--|--|----|

| | | |
|----|--|------|
| 46 | | 5050 |
|----|--|------|

طفلي الحبيب اقفز بإضافة خمسات:

| | | | | | | | | | |
|---|--|--|--|--|----|--|--|--|----|
| 5 | | | | | 25 | | | | 50 |
|---|--|--|--|--|----|--|--|--|----|

طفلي الحبيب اقفز بإضافة عشرات:

| | | | | | | | | | |
|----|--|--|--|--|----|--|--|--|-----|
| 10 | | | | | 50 | | | | 100 |
|----|--|--|--|--|----|--|--|--|-----|



الاثنين 23 / 9 / 2019

واجب

طفلي الحبيب اقفز بإضافة اثنينات:

| | | | | | | | | | | |
|---|--|--|---|--|-----|--|--|--|----|----|
| 2 | | | 6 | | 126 | | | | 20 | 22 |
|---|--|--|---|--|-----|--|--|--|----|----|

| | | | | | | | | | | |
|----|--|--|----|--|---|--|----|--|--|----|
| 24 | | | 30 | | 6 | | 38 | | | 44 |
|----|--|--|----|--|---|--|----|--|--|----|

| | | |
|----|--|------|
| 46 | | 5050 |
|----|--|------|

طفلي الحبيب اقفز بإضافة خمسات:

| | | | | | | | | | |
|---|--|--|--|--|----|--|--|--|----|
| 5 | | | | | 25 | | | | 50 |
|---|--|--|--|--|----|--|--|--|----|

طفلي الحبيب اقفز بإضافة عشرات:

| | | | | | | | | | |
|----|--|--|--|--|----|--|--|--|-----|
| 10 | | | | | 50 | | | | 100 |
|----|--|--|--|--|----|--|--|--|-----|



الاثنين 23 / 9 / 2019

واجب

طفلي الحبيب اقفز بإضافة ثلاثيات (فردي):

| | | | | | | | | | | |
|----|--|--|----|----|-----|--|----|--|----|----|
| 3 | | | 9 | 15 | 6 | | 24 | | 30 | 33 |
| 36 | | | 45 | | 516 | | | | | |

طفلي الحبيب اقفز بإضافة أربعيات (زوجي):

| | | | | | | | | | |
|----|--|----|----|--|----|--|----|--|----|
| 4 | | | 12 | | 20 | | 32 | | 40 |
| 44 | | 52 | | | | | | | |



أفكر: أنا عدد أقل من (20) وأكبر من (14) آحادي (5) فمن أنا



الاثنين 23 / 9 / 2019

واجب

طفلي الحبيب اقفز بإضافة ثلاثيات (فردي):

| | | | | | | | | | | |
|----|--|--|----|----|-----|--|----|--|----|----|
| 3 | | | 9 | 15 | 6 | | 24 | | 30 | 33 |
| 36 | | | 45 | | 516 | | | | | |

طفلي الحبيب اقفز بإضافة أربعيات (زوجي):

| | | | | | | | | | |
|----|--|----|----|--|----|--|----|--|----|
| 4 | | | 12 | | 20 | | 32 | | 40 |
| 44 | | 52 | | | | | | | |



أفكر: أنا عدد أقل من (20) وأكبر من (14) آحادي (5) فمن أنا



الثلاثاء 24\9\2019

أعد على خط الاعداد بإضافة واحداث تصاعديا:

9 10

أعد على خط الاعداد بإضافة اثنينات تصاعديا:

2 4



الثلاثاء 24\9\2019

أعد على خط الاعداد بإضافة واحداث تصاعديا:

9 10

أعد على خط الاعداد بإضافة اثنينات تصاعديا:

2 4

الاربعاء 25 / 9 / 2019

منهاجي
متعة التعليم الهادف



واجب



| | | | | |
|----|----|----|----|----|
| 10 | 11 | 12 | 13 | 14 |
| 20 | 21 | 22 | 23 | 24 |
| 30 | 31 | 32 | 33 | 34 |

جد عدد أصغر من (22) بـ 10 :

جد عدد اصغر من (22) بـ 1 :

جد عدد اكبر من (22) بـ 10 :

جد عدد أكبر من (22) بـ 1 :

الاربعاء 25 / 9 / 2019

منهاجي
متعة التعليم الهادف



واجب



| | | | | |
|----|----|----|----|----|
| 10 | 11 | 12 | 13 | 14 |
| 20 | 21 | 22 | 23 | 24 |
| 30 | 31 | 32 | 33 | 34 |

جد عدد أصغر من (22) بـ 10 :

جد عدد اصغر من (22) بـ 1 :

جد عدد اكبر من (22) بـ 10 :

جد عدد أكبر من (22) بـ 1 :

الأحد 29 / 9 / 2019

منهاجي
متعة التعليم الهادف



واجب



طفلي الحبيب اقفز بإضافة اثنينات:

| | | | | | | | | | | |
|----|--|--|----|--|-----|--|--|--|----|----|
| 50 | | | 54 | | 606 | | | | 68 | 70 |
|----|--|--|----|--|-----|--|--|--|----|----|

| | | | | | | | | | | |
|----|--|--|--|--|---|--|----|--|--|----|
| 72 | | | | | 6 | | 86 | | | 92 |
|----|--|--|--|--|---|--|----|--|--|----|

| | | | |
|----|--|--|--|
| 94 | | | |
|----|--|--|--|

طفلي الحبيب اقفز بإضافة خمسات:

| | | | | | | | | | |
|----|--|--|--|--|----|--|--|--|----|
| 50 | | | | | 70 | | | | 95 |
|----|--|--|--|--|----|--|--|--|----|

طفلي الحبيب اقفز بإضافة عشرات:

| | | | | | | | | | |
|----|--|--|--|--|----|--|--|--|-----|
| 10 | | | | | 50 | | | | 100 |
|----|--|--|--|--|----|--|--|--|-----|

الأحد 29 / 9 / 2019

منهاجي
متعة التعليم الهادف



واجب



طفلي الحبيب اقفز بإضافة اثنينات:

| | | | | | | | | | | |
|----|--|--|----|--|-----|--|--|--|----|----|
| 50 | | | 54 | | 606 | | | | 68 | 70 |
|----|--|--|----|--|-----|--|--|--|----|----|

| | | | | | | | | | | |
|----|--|--|--|--|---|--|----|--|--|----|
| 72 | | | | | 6 | | 86 | | | 92 |
|----|--|--|--|--|---|--|----|--|--|----|

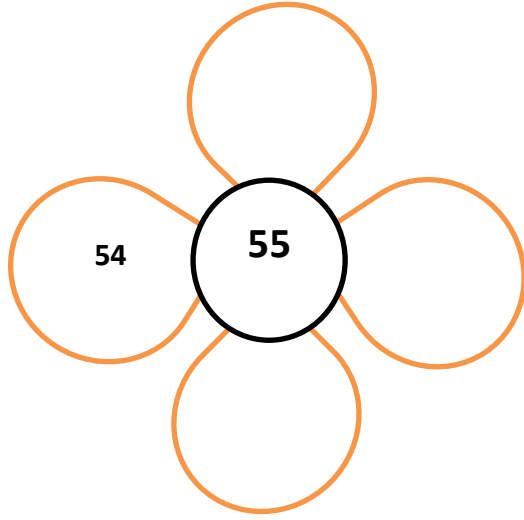
| | | | |
|----|--|--|--|
| 94 | | | |
|----|--|--|--|

طفلي الحبيب اقفز بإضافة خمسات:

| | | | | | | | | | |
|----|--|--|--|--|----|--|--|--|----|
| 50 | | | | | 70 | | | | 95 |
|----|--|--|--|--|----|--|--|--|----|

طفلي الحبيب اقفز بإضافة عشرات:

| | | | | | | | | | |
|----|--|--|--|--|----|--|--|--|-----|
| 10 | | | | | 50 | | | | 100 |
|----|--|--|--|--|----|--|--|--|-----|

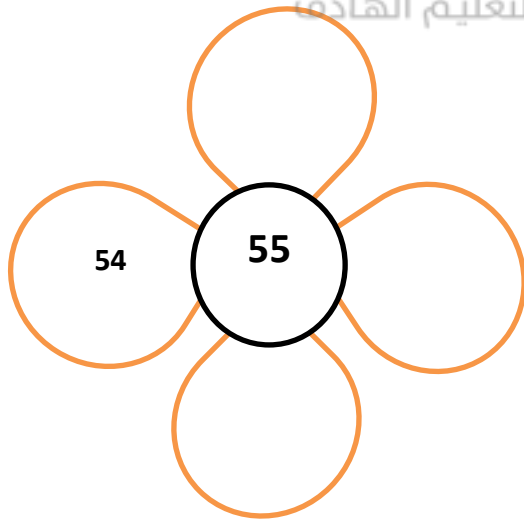


جد عدد أصغر من (55) بـ 10 :

جد عدد اصغر من (55) بـ 1 :

جد عدد اكبر من (55) بـ 10 :

جد عدد أكبر من (55) بـ 1 :



جد عدد أصغر من (55) بـ 10 :

جد عدد اصغر من (55) بـ 1 :

جد عدد اكبر من (55) بـ 10 :

جد عدد أكبر من (55) بـ 1 :



| | | |
|----|----|--|
| | | |
| 85 | 84 | |
| | | |

جد عدد أصغر من (84) بـ 10 :

جد عدد اصغر من (84) بـ 1 :

جد عدد اكبر من (84) بـ 10 :

جد عدد أكبر من (84) بـ 1 :



| | | |
|----|----|--|
| | | |
| 85 | 86 | |
| | | |

جد عدد أصغر من (84) بـ 10 :

جد عدد اصغر من (84) بـ 1 :

جد عدد اكبر من (84) بـ 10 :

جد عدد أكبر من (84) بـ 1 :

الثلاثاء 13 / 10 / 2019




منهاجي
متعة التعليم الهادف



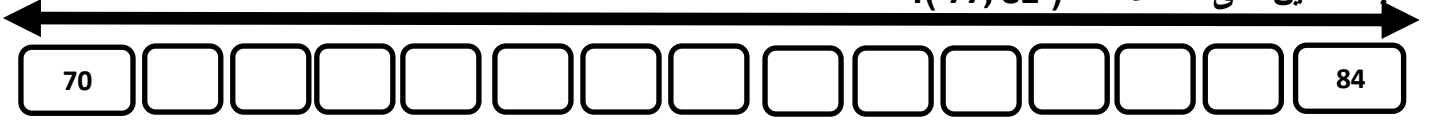
واجب للمراجعة



اكتب الاعداد التالية على خط الاعداد : (35 , 76 , 55 , 62 , 43) :



اكتب العددين على خط الاعداد (77 , 82) :



الثلاثاء 13 / 10 / 2019



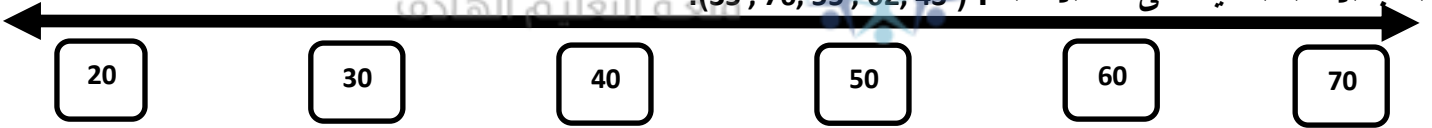
منهاجي
متعة التعليم الهادف



واجب للمراجعة



اكتب الاعداد التالية على خط الاعداد : (35 , 76 , 55 , 62 , 43) :



اكتب العددين على خط الاعداد (77 , 82) :



واجب بيتي

الاحد /20 /10

2019

قرب الأعداد التالية

إلى اقرب:10

22

24

26

32

36

48

52

66

19

12

13

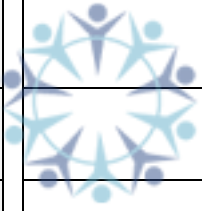
14

15

16

17

18



منهاجي
مؤسسة التعليم القادف



واجب بيتي

الاحد /20 /10

2019

قرب الأعداد التالية

إلى اقرب:10

22

24

26

32

36

48

52

66

19

12

13

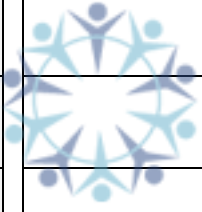
14

15

16

17

18



منهاجي
مؤسسة التعليم القادف



الإحد 24 / 10 / 2019

منهاجي
متعة التعليم الهادف



واجب بيتي



عين الاعداد الواقعة بين (30 و 40) ثم أحوط ال 10 التي يقرب إليها العدد 35 :

عين الاعداد الواقعة بين (60 , 70) ثم أحوط ال 10 التي يقرب إليها العدد 62 :

عين الاعداد الواقعة بين (80 و 90) ثم أحوط ال 10 التي يقرب إليها العدد 87 :



واجب صفي الإحد 24 / 10 / 2019

منهاجي
متعة التعليم الهادف



أحوط ال 10 التي يقرب إليها العدد 35 :

أحوط ال 10 التي يقرب إليها العدد 62 :

أحوط ال 10 التي يقرب إليها العدد 87 :



الثلاثاء 22 / 10 / 2019

منهاجي

متعة التعليم الهادف



مدارس السرمد
S.A.S

واجب بيتي

أحدد هل يقرب العدد إلى الأعلى أم إلى الأسفل, وأكتب العشرة التي يقرب إليها كما في الحالة الأولى:

| | | | | | | | | | |
|----------------------|-----|----------------------|----|----------------------|----|----------------------|------------|----------------------|--------|
| <input type="text"/> | إلى | <input type="text"/> | 43 | <input type="text"/> | 20 | <input type="text"/> | إلى الأعلى | <input type="text"/> | إلى 18 |
| <input type="text"/> | إلى | <input type="text"/> | 75 | <input type="text"/> | | <input type="text"/> | إلى | <input type="text"/> | 15 |
| <input type="text"/> | إلى | <input type="text"/> | 93 | <input type="text"/> | | <input type="text"/> | إلى | <input type="text"/> | 25 |
| <input type="text"/> | إلى | <input type="text"/> | 22 | <input type="text"/> | | <input type="text"/> | إلى | <input type="text"/> | 83 |



الثلاثاء 22 / 10 / 2019

منهاجي

متعة التعليم الهادف



مدارس السرمد
S.A.S

واجب بيتي

أحدد هل يقرب العدد إلى الأعلى أم إلى الأسفل, وأكتب العشرة التي يقرب إليها كما في الحالة الأولى:

| | | | | | | | | | |
|----------------------|-----|----------------------|----|----------------------|----|----------------------|------------|----------------------|--------|
| <input type="text"/> | إلى | <input type="text"/> | 43 | <input type="text"/> | 20 | <input type="text"/> | إلى الأعلى | <input type="text"/> | إلى 18 |
| <input type="text"/> | إلى | <input type="text"/> | 75 | <input type="text"/> | | <input type="text"/> | إلى | <input type="text"/> | 15 |
| <input type="text"/> | إلى | <input type="text"/> | 93 | <input type="text"/> | | <input type="text"/> | إلى | <input type="text"/> | 25 |
| <input type="text"/> | إلى | <input type="text"/> | 22 | <input type="text"/> | | <input type="text"/> | إلى | <input type="text"/> | 83 |



الاحد 2019 /10 /24

منهاجي
متعة التعليم الهادف



مدارس السرعة
S.A.S

واجب صفي

أحدد هل يقرب العدد إلى الاعلى أم إلى الأسفل, وأكتب العشرة التي يقرب إليها كما في الحالة الأولى:

| | | | | | | |
|----|-----|----------|----|----|------------|--------|
| 50 | إلى | إلى اسفل | 50 | 20 | إلى الأعلى | إلى 25 |
| | إلى | | 77 | | إلى | 26 |
| | إلى | | 84 | | إلى | 32 |
| | إلى | | 86 | | إلى | 47 |



الاحد 2019 /10 /24

منهاجي
متعة التعليم الهادف



مدارس السرعة
S.A.S

واجب صفي

أحدد هل يقرب العدد إلى الاعلى أم إلى الأسفل, وأكتب العشرة التي يقرب إليها كما في الحالة الأولى:

| | | | | | | |
|----|-----|----------|----|----|------------|--------|
| 50 | إلى | إلى اسفل | 50 | 20 | إلى الأعلى | إلى 25 |
| | إلى | | 77 | | إلى | 26 |
| | إلى | | 84 | | إلى | 32 |
| | إلى | | 86 | | إلى | 47 |



الاحد 2019 /10 /24

منهاجي
متعة التعليم الهادف



واجب بيتي



عين الاعداد الواقعة بين (30 و 40) ثم أحوظ ال 10 التي يقرب إليها العدد 35 :

عين الاعداد الواقعة بين (60 , 70) ثم أحوظ ال 10 التي يقرب إليها العدد 62 :

عين الاعداد الواقعة بين (80 و 90) ثم أحوظ ال 10 التي يقرب إليها العدد 87 :



الاحد 2019 /10 /24

منهاجي
متعة التعليم الهادف



واجب بيتي



عين الاعداد الواقعة بين (30 و 40) ثم أحوظ ال 10 التي يقرب إليها العدد 35 :

عين الاعداد الواقعة بين (60 , 70) ثم أحوظ ال 10 التي يقرب إليها العدد 62 :

عين الاعداد الواقعة بين (80 و 90) ثم أحوظ ال 10 التي يقرب إليها العدد 87 :



الاثنين 28 / 10 / 2019

منهاجي



واجب بيتي



وزع الاعداد التالية على خانة الاعداد الزوجية وخانة الاعداد الفردية ثم قرب العدد إلى اقرب 10 كما بالمثل التالي:
(24, 25, 26, 27 , 28 , 29 , 30 , 37 , 40, 42, 45, 49,)
متعة التعليم الهادف

| إلى اقرب 10 | الاعداد الفردية | إلى اقرب 10 | الاعداد الزوجية |
|-------------|-----------------|-------------|-----------------|
| 30 | 25 | 20 | 24 |
| | | | |
| | | | |
| | | | |
| | | | |
| | | | |
| | | | |



الاثنين 25 / 10 / 2019

منهاجي



واجب بيتي



وزع الاعداد التالية على خانة الاعداد الزوجية وخانة الاعداد الفردية ثم قرب العدد إلى اقرب 10 كما بالمثل التالي:
(24, 25, 26, 27 , 28 , 29 , 30 , 37 , 40, 42, 45, 49,)
متعة التعليم الهادف


| إلى اقرب 10 | الاعداد الفردية | إلى اقرب 10 | الاعداد الزوجية |
|-------------|-----------------|-------------|-----------------|
| 30 | 25 | 20 | 24 |
| | | | |
| | | | |
| | | | |
| | | | |
| | | | |
| | | | |



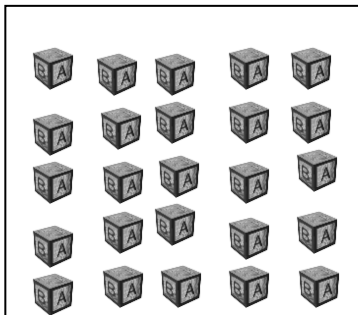


واجب صفي الاثنين 7 / 11 / 2019


اعد اثنيات واحوط كل مجموعة: اعد خمسات واحوط كل مجموعة: اعد عشرات واحوط كل مجموعة:



مجموعات



مجموعات



مجموعات




الاثنين 7 / 11 / 2019

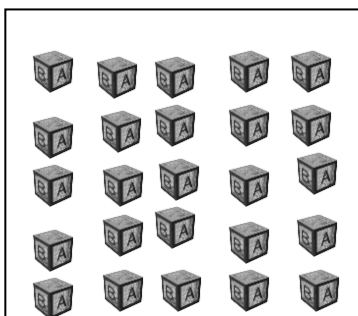


واجب صفي


اعد عشرات واحوط كل مجموعة: اعد خمسات واحوط كل مجموعة: اعد اثنيات واحوط كل مجموعة:



مجموعات



مجموعات



مجموعات





الاربعاء 9 / 11 / 2019

واجب بيتي



ستون = عشرات 6

سبعون 70

ثمانون عشرات 8

تسعون 90 عشرات



اَضْعُ العَدَدَ المُنَاسِبَ بِالمَكَانِ المُنَاسِبِ كَمَا بِالمِثَالِ:

عَشْرَاتُ ضَعِّعْ اَلْـ 4 سِبِّ فِي : 8 = 48

عَشْرَاتُ وَّ اَحَادُ = 38

عَشْرَاتُ وَّ اَحَادُ = 21

عَشْرَاتُ وَّ اَحَادُ = 19

ت وَّ اَحَادُ = 56



الاربعاء 9 / 11 / 2019

واجب بيتي



ستون = عشرات 6

سبعون 70

ثمانون عشرات 8

تسعون 90 عشرات



اَضْعُ العَدَدَ المُنَاسِبَ بِالمَكَانِ المُنَاسِبِ كَمَا بِالمِثَالِ:

عَشْرَاتُ ضَعِّعْ اَلْـ 4 سِبِّ فِي : 8 = 48

عَشْرَاتُ وَّ اَحَادُ = 38

عَشْرَاتُ وَّ اَحَادُ = 21

عَشْرَاتُ وَّ اَحَادُ = 19

عَشْرَاتُ وَّ اَحَادُ = 56



الثلاثاء 8 / 11 / 2019



واجب صفي



أكتب قيمة العدد الذي تحته خط كما بالمثل :

5 5

17 2 7 12

3 9

4 8 425 8

8 2

3 3

6 1 70

9 5

7 2

9 0 56



الثلاثاء 8 / 11 / 2019



واجب صفي



أكتب قيمة العدد الذي تحته خط كما بالمثل :

5 5

17 2 7 12

3 9

4 8 425 8

8 2

3 3

6 1 70

9 5

7 2

9 0 56

الأحد 10 / 11 / 2019



منهاجي
متعة التعليم الهادف



واجب صفي

أكتب عددا اكبر بواحد :1

20 3034

أكتب عددا اكبر باثنين : 2

40 3736

أكتب عددا اكبر بخمسة : 5

10 5060

الأحد 10 / 11 / 2019



منهاجي
متعة التعليم الهادف



واجب صفي

أكتب عددا اكبر بواحد :1

20 3034

أكتب عددا اكبر باثنين : 2

40 3736

أكتب عددا اكبر بخمسة : 5

10 5060



الأحد 10 / 11 / 2019



واجب صفي

فكر:

من هو العدد الاكبر : اكبر من 5 بواحد أم أكبر من 5 باثنين:

اكبر من 5 بخمسة أم أكبر من 5 بعشرة:

من هو العدد الأصغر: اصغر من 20 بواحد أم أصغر من 20 باثنين:

اصغر من 30 بخمسة أم اصغر من 30 بعشرة



الأحد 10 / 11 / 2019



واجب صفي

فكر:

من هو العدد الاكبر : اكبر من 5 بواحد أم أكبر من 5 باثنين:

اكبر من 5 بخمسة أم أكبر من 5 بعشرة:

من هو العدد الأصغر: اصغر من 20 بواحد أم أصغر من 20 باثنين:

اصغر من 30 بخمسة أم اصغر من 30 بعشرة



2019 / 11 / 13 الاربعاء



واجب بيتي

رتب الاعداد التالية تصاعديا:

25, 46, 76, 82, 20, 11,

| | | | | | |
|--|--|--|--|--|--|
| | | | | | |
|--|--|--|--|--|--|

رتب الاعداد التالية تصاعديا:

60, 61, 70, 37, 16

| | | | | |
|--|--|--|--|--|
| | | | | |
|--|--|--|--|--|



2019 / 11 / 13 الاربعاء



واجب بيتي

رتب الاعداد التالية تصاعديا:

25, 46, 76, 82, 20, 11,

| | | | | | |
|--|--|--|--|--|--|
| | | | | | |
|--|--|--|--|--|--|

رتب الاعداد التالية تصاعديا:

60, 61, 70, 37, 16

| | | | | |
|--|--|--|--|--|
| | | | | |
|--|--|--|--|--|



الاربعاء 13 / 11 / 2019



واجب صفي



رتب الاعداد التالية تنازليا
90 , 43, 15, 85, 71 63,

| | | | | | |
|--|--|--|--|--|--|
| | | | | | |
|--|--|--|--|--|--|

رتب الاعداد التالية تنازليا
74, 58 ,92, 32, 52

| | | | | |
|--|--|--|--|--|
| | | | | |
|--|--|--|--|--|



الثلاثاء 12 / 11 / 2019



واجب صفي



رتب الاعداد التالية تنازليا
90 , 43, 15, 85, 71 63,

| | | | | | |
|--|--|--|--|--|--|
| | | | | | |
|--|--|--|--|--|--|

رتب الاعداد التالية تنازليا
74, 58 ,92, 32, 52

| | | | | |
|--|--|--|--|--|
| | | | | |
|--|--|--|--|--|

منهاجي
متعة التعليم القادف



منهاجي
متعة التعليم القادف

