

تم تحميل وتوفير المادة من

موقع كتبي

المدرسية اونلاين



[www.ktbbby.com](http://www.ktbbby.com)

موقع كتبي يعرض لكم الكتب الدراسية الطبعة الجديدة  
وحلولها، توزيع مناهج، تحضير، أوراق عمل، عروض  
بوربوينت، نماذج إختبارات بشكل مباشر PDF

\*جميع الحقوق محفوظة للقائمين على العمل\*

بسم الله الرحمن الرحيم

الصفحة/ الثالث الإبتدائي .

المادة/ علوم .

التاريخ/.....

الموضوع/ عناصر الطقس

الحصة/.....

الاسم/.....

\*\*\*\*\*

أكمل

الغلاف الجوي هو .....

الطقس هو .....


درجة الحرارة هي ... ..

الهطول هو .....


الرياح هي .....

توقيع ولي الأمر :

.....



لم يتقن



اتقن

توقيع المعلم:

.....

بسم الله الرحمن الرحيم

الصفحة/الثالث الإبتدائي .

المادة/علوم .

التاريخ/.....

الموضوع/ تقنيات الطقس

العدة/.....

الاسم/.....

\*\*\*\*\*

: تخير الإجابة الصحيحة مما بين القوسين فيما يأتي :

1- ..... هي غيوم رقيقة وناعمة ذات لون أبيض تتكون على ارتفاعات كبيرة فوق سطح الأرض .

الغيوم الركامية

الغيوم الريشية

الغيوم الطبقيّة

2- ..... هي غيوم قريبة من سطح الأرض وتبدو كطبقات من الغيوم مستوية ، وتغطي أكبر جزء من السماء كما يبدو لونها رماديا أو ابيض .

الغيوم الركامية

الغيوم الريشية

الغيوم الطبقيّة

3- ..... هي غيوم بيضاء منتفحة مع قيعان مسطحة ويمكنني رؤيتها عندما يكون الطقس لطيفا .


الغيوم الركامية

الغيوم الريشية

الغيوم الطبقيّة

توقيع ولي الأمر :

.....



لم يتقن



اتقن

توقيع المعلم:

.....

بسم الله الرحمن الرحيم

الصفحة/الفاصل الإبتدائي .

المادة/علم .

التاريخ/.....

الموضوع / دورة الماء

الحصة/.....

الاسم/.....

\*\*\*\*\*

: تخير الإجابة الصحيحة مما بين القوسين فيما ياتي :

1- ..... هو غيوم طبقيه تتشكل بالقرب من سطح الأرض ويتكون من نقاط صغيرة من الماء .

التكثف

التبخر

الضباب

2- ..... هو تحول السائل الى غاز فالماء فى الحالة الغازية يسمى بخار ماء .

التكثف

التبخر

الضباب

3- اذا تحول الغاز الى سائل يسمى .....


التكثف

التبخر


الضباب

توقيع ولي الأمر :

.....



لم يتقن



اتقن

توقيع المعلم:

.....

بسم الله الرحمن الرحيم

المادة/الموضوع .

الصفحة/العدد الإجمالي .

التاريخ/.....

الموضوع : المناخ وفصول السنة

الحصة/.....

الاسم/.....

\*\*\*\*\*

أكمل كلا مما يأتي :

المناخ

هو

: فصول السنة أربعة هي :

1-.....


2-.....

3-.....


4-.....

توقيع ولي الأمر :

.....



لم يتقن



اتقن

توقيع المعلم:

.....

بسم الله الرحمن الرحيم

الصفحة/التاريخ الإبتدائي .

المادة/علوم

التاريخ/.....

الموضوع / المادة وقياسها

الحصة/.....

الاسم/.....

\*\*\*\*\*

أكمل كلا مما يأتي :

الكتلة

هي

المادة

هي

الحجم

هو

توقيع ولي الأمر :

.....



لم يتقن



اتقن

توقيع المعلم:

.....

بسم الله الرحمن الرحيم

الصفحة/الثالثة الإبتدائي .

المادة/علوم

التاريخ/.....

الموضوع / المواد الصلبة والسائلة والغازية

الحصة/.....

الاسم/.....

\*\*\*\*\*

: أكتب كلمة ( صح ) أو ( خطأ ) أمام العبارات التالية :

1- يتغير حجم المادة الصلبة وشكلها عند نقلها من إناء الى آخر.


3- الغاز مادة شكلها غير ثابت وحجمها غير ثابت .

3- السائل : له حجم ثابت وشكل غير ثابت .

4- لا تتحول المادة من حالة الى أخرى .

توقيع ولي الأمر :

.....



لم يتقن



اتقن

توقيع المعلم:

.....

بسم الله الرحمن الرحيم

الصفحة / الثالث الإبتدائي .

المادة / علوم

التاريخ / .....

الموضوع / التغيرات الفيزيائية

المدة / .....

الاسم / .....

\*\*\*\*\*

أكمل


التغير الفيزيائي هو .....

المحلول يتكون من .....


التغير الكيميائي هو .....

المخلوط هو .....

توقيع ولي الأمر : .....



لم يتقن



اتقن

توقيع المعلم : .....



بسم الله الرحمن الرحيم

الصفحة/الثالثة الإبتدائي .

المادة/علوم .

التاريخ/.....

الموضوع / الموقع والحركة

الحصة/.....

الاسم/.....

\*\*\*\*\*

تخير الإجابة الصحيحة مما بين القوسين فيما يأتي :

1-..... هو مكان الجسم مقارنة بمكان جسم آخر وباستعمال كلمات منها : فوق ، يمين ، غرب ، جنوب .

الموقع

الحركة

المسافة

3-..... وصف حركة الجسم إذا كانت سريعة أم بطيئة .

السرعة

المسافة

الحركة

3-..... هي مقدار البعد بين جسمين أو مكانين .


المسافة

السرعة


الحركة

توقيع ولي الأمر :

.....



لم يتقن



اتقن

توقيع المعلم:

.....

بسم الله الرحمن الرحيم

الصفحة/الثالث الإبتدائي .

المادة/علوم

التاريخ/.....

الموضوع / القوى

الحصة/.....

الاسم/.....

\*\*\*\*\*

أكمل كلا مما يأتي :

القوة

هي

الجاذبية

هي

الإحتكاك

هو

توقيع ولي الأمر :

.....



لم يتقن



اتقن

توقيع المعلم:

.....

بسم الله الرحمن الرحيم

الصفحة/الثالثة الإبتدائي .

المادة/علوم

التاريخ/.....

الموضوع / الصوت

الطبعة/.....

الاسم/.....

\*\*\*\*\*

أكتب كلمة ( صح ) أو ( خطأ ) أمام العبارات التالية :

1- الصوت شكل من أشكال الطاقة ينتج عن اهتزاز الأجسام .


2- لا ينتقل الصوت عبر الغازات والسوائل والمواد الصلبة.

س : كيف أحافظ على أذني ؟


.....  
.....  
.....  
.....  
.....

توقيع ولي الأمر :

.....



لم يتقن



اتقن

توقيع المعلم:

.....

بسم الله الرحمن الرحيم

الصفحة/الثالث الإبتدائي .

المادة / علوم

التاريخ/.....

الموضوع / الضوء

الحصة/.....

الاسم/.....

عرفى كلام من :

انكسار الضوء

الضوء


هو

هو


المنشور

هو

توقيع ولي الأمر :



لم يتقن



اتقن

توقيع المعلم:

.....