



↓ تم تحميل ملف المادة من مكتبة طلابنا
زورونا على الموقع

www.tlabna.net

مكتبه طلابنا تقدم لكم كل ما يحتاج المعلم والمعلمه والطلبة , الطبعات الجديده للكتب والحلول ونماذج الاختبارات والتحاثير وشروحات الدروس بصيغة الورد والبي دي اف وكذلك عروض البوربوينت.



مجموعة أبو الجوهرة التعليمية

تجميعات الفترة الأولى من عام ١٤٤٠ هـ

قناة القدرة المعرفية

قروب حل أسئلة اختبار القدرة المعرفية

استفسارات القدرة المعرفية

مجموعة أبو الجوهرة التعليمية

@almroane

القدرة اللفظية

يحتوي على ١٨ سؤال

إداريون
إداريات

➤ ماهو مرادف كلمة زعزع ؟

مرادفها : هز

➤ ماهو مرادف كلمة بالي ؟

مرادفها : عتيق

➤ ماهو مرادف كلمة موائمة ؟

مرادفها : موافقة

القدرة المعرفية

➤ ماهو مرادف كلمة باسقات ؟

(أ) منخفضات

(ب) قصيرات

مجموعة: أبو الجوهرة



مجموعة أبو الجوهرة التعليمية

(ج) طويلات

(د) مستويات

ما هو مرادف كلمة محض؟

الإجابة: خالص

مرادف ركون؟

أ) اعتماد

ب) مساعدة

ج) ركوع

د) استعداد

ما هو ضد كلمة وصب؟

ضد كلمة وصب (العافية، والصحة، والراحة)

مرادف كلمة وصب (التعب، والجهد، والإعياء)

ما هو ضد كلمة حصيف؟

ضد كلمة حصيف (أحمق، غبي)

مرادف كلمة حصيف (الذكي، الحكيم)

القدرة المعرفية

مجموعة: أبو الجوهرة



مجموعة أبو الجوهرة التعليمية

ما هو ضد كلمة بخس؟

ضد كلمة بخس : (ثمن، وقدر، وعدل، وزاد)



ما هو ضد كلمة مقت؟

- أ (حنين)
- ب (كره)
- ج (حب)
- د (مجد)



معنى كلمة (حكمة)؟

الإجابة: الظلام الشديد

القدرة المعرفية

ما هو عكس كلمة التنظير؟

مجموعة: أبو الجوهرة

- أ (التطبيق)
- ب (التعميق)
- ج (التحليل)
- د (التخطيط)



مجموعة أبو الجوهرة التعليمية

✚ يجب أن ينظر المدير إلى الإدارة كوحدة وألا تحجبه رؤية عن رؤية

- أ) متوازنة - الأصول - الفروع
- ب) متكاملة - الجزئيات - الكليات
- ج) مستقلة- السلبيات- الايجابيات
- د) موضوعية- النجاحات - الإخفاق

✚ عندما تتوافر المناسبة في العمل ؛ تزيد للموظفين ، و استبقانهم

- أ) الخدمات - موافقة - درجة
- ب) الأموال - حركة - يقل
- ج) الراحة - كفاءة - سرعة
- د) الحوافز - الإنتاجية - فرص

✚ إذا أردت الإقناع فبين لمحاورك أنك قد ، معه فيما ، لأنه سيصبح أكثر للإقرار بوجهة نظرك...

- ١- تتفق - يطرح - ميلا
- ٢- تتناغم - يرفض- استعداداً
- ٣- تختلف - يذكر- جنوحا
- ٤- تتباين - يدعي - قبولا



مجموعة أبو الجوهرة التعليمية



✚ دقيقة واحدة تقضيها في توفر عليك ساعات في

- أ) العمل - التخطيط
- ب) التدبير- التفكير
- ج) المراقبة- الترتيب
- د) التخطيط - التنفيذ

✚ أحياناً لا بد أن يكون الثناء لتشجيع أصحابها و الحث على على الإنجازات التي تستحق

- الافتداء-المدح -سزياً (أ)
- الوثوق-الثناء -جماعياً (ب)
- الاحتذاء-الإطراء -علنياً (ج)
- الافتخار-الملاحظة-فردياً

✚ لا بسوء الحظ ، فلا يوجد من غير جهد ، فلا تتوهم أن سوء الحظ لك

- أ) تتمسك - انجاز - عذر
- ب) تتعلق -تقدم - مخرج
- ج) تتعلل - تفوق - عائق
- د) تعتذر - أرتقاء - معين

القدرة المعرفية

مجموعة: أبو الجوهرة



مجموعة أبو الجوهرة التعليمية

القدرة الكمية

يحتوي على ١٦ سؤال

شركة لا أحد يصير فيها مدير إلا بعد ١٥ سنة من الخبرة في الشركة، عمر توظف قبل مديره بستنين؛ لذا أي الخيارات التالية صحيحة ؟

- أ) عمر مؤهل أن يكون مدير
- ب) عمر يستحق راتب ١٥ الف
- ج) عمر يستحق راتب تقاعد
- د) عمر خبرته أكثر من ١٥ عام

خسر تاجر في السنة الاولى ربع رأس المال ، كم نسبة الربح اللازمة في السنة الثانية ليستعيد رأس ماله؟

- أ) الخمس
- ب) الربع
- ج) الثلث
- د) النصف

مصنع ينتج كل يوم ونصف سيارة، فكم ينتج من سيارة خلال ٣٠ يوماً ؟

- أ- ١٠ سيارات
- ب- ١٥ سيارة
- ج- ٢٠ سيارة
- د- ٢٥ سيارة

غرفه مساحتها ٨٤ م^٢ ، إذا سطل دهان واحد يكفي ٢٤ م^٢ ؛ فكم نحتاج من سطل دهان ؟

- أ- ٣ سطل



مجموعة أبو الجوهرة التعليمية

ب- ٥ سطول

ج- ٤ سطول

د- ٣,٥ سطول

✚ زجاجة عصير وزنها ١٥٠٠ جرام، بعد إفراغها من نصف العصير؛ أصبحت بوزن ٩٠٠ جرام؛ فكم وزن الزجاجاة من جرام؟

٣٠٠

٤٠٠

٥٠٠

٦٠٠ (د)

✚ إذا كان سعر الدقيقة في المكاملة ٣٠ هللة، وكلمت ١٥٠ دقيقة، فكم يكون المبلغ من ريال؟

٣٠ (أ)

٤٠ (ب)

٤٥ (ج)

٥٠ (د)

✚ شخص صرف من راتبه الثلث، وتبقى ١٠٠٠ ريال، فكم مجموع الراتب؟

١٣٠٠ (أ)

١٥٠٠ (ب)

١٧٠٠ (ج)

١٩٠٠ (د)

✚ الدولار الامريكي إذا كان يساوي بالريال ٣,٧٥ ريالاً، ولديك ٢٠٠ دولار فكم تساوي بالريال؟

الإجابة: ٧٥٠ ريال

مجموعة: أبو الجوهرة



مجموعة أبو الجوهرة التعليمية

✚ آلة تعمل يومياً ساعتين ونصف الساعة، إذا كان عمرها الافتراضي ٢٥٠٠ ساعة ؛ فكم يوماً تنتهي هذه الآلة ؟



- ٢٠٠
- ٥٠٠ (ب)
- ٧٥٠ (ج)
- ١٠٠٠ (د)

✚ مالععد المناسب لإكمال هذه المتتابعة

١، ٦، ١٦، ٣٦، س

- ٤٦ (أ)
- ٦٠ (ب)
- ٧٦ (ج)
- ٨٠ (د)

✚ ماهو الرقم المناسب لإكمال هذه المتتابعة ؟

..... ١٠، ١٥، ٢٥، ٣٠،

- ٣٥ (أ)
- ٤٠ (ب)
- ٤٥ (ج)
- ٥٠ (د)

القدرة المعرفية

✚ يزيد طول فواز عن طول أخته فاطمة ٢٠ سم، إذا كان مجموع طولهما يساوي ٣١٠ سم، فكم طول فواز بالسنتيمتر ؟



مجموعة: أبو الجوهرة

أ) ١٤٥



مجموعة أبو الجوهرة التعليمية

ب) ١٥٥

ج) ١٦٥

د) ١٩٠



✚ أقلعت رحلة من الرياض، في الساعة ٤ بتوقيت الرياض، ووصلت الساعة ٦ بتوقيت لندن، إذا علمت أن فرق الوقت بين الرياض ولندن ٣ ساعات؛ فكم تستغرق الرحلة؟

أ) ٣ ساعات

ب) ٤ ساعات

ج) ٥ ساعات

د) ٦ ساعات

✚ الصف الأول يوجد فيه ١٢ مقعد، والصف الثاني يزيد عن الأول عن كل ٤ مقاعد مقعد؛ فكم عدد مقاعد الصف الثاني؟

أ) ١٢

ب) ١٣

ج) ١٤

د) ١٥

مجموعة: أبو الجوهرة



مجموعة أبو الجوهرة التعليمية

. توظف خالد وعمره ٢٢ سنة ، التقاعد النظامي في الشركة عند بلوغ السن ٦٠ سنة ، تقاعد خالد وعمره ٦٠ سنة ، اذا اكمل ٤٠ سنة عمل يستحق راتب تقاعد كامل .

أ- اكمل خالد ٤٠ سنة خدمة في الشركة

ب- خالد يستحق راتب كامل

ج- تقاعد خالد وعمره ٦٠ سنة

محمد اصغر من ثامر وثامر اكبر من احمد وثامر نصف عمر بندر

ب- احمد اكبر من بندر

أ- بندر أكبر من احمد

د- محمد أكبر من احمد

ج- ثامر اصغر من بندر

القدرة المعرفية

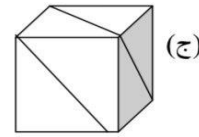
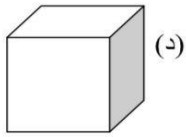
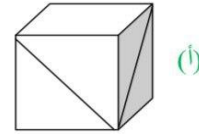
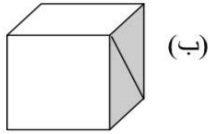
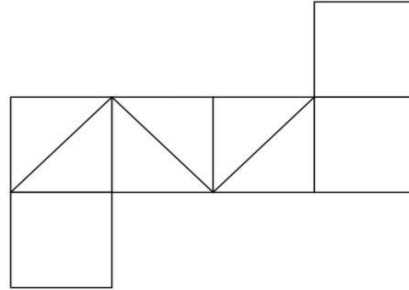
مجموعة: أبو الجوهرة



مجموعة أبو الجوهرة التعليمية

القدرة الإستدلالية

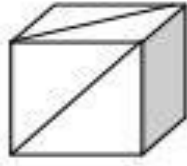
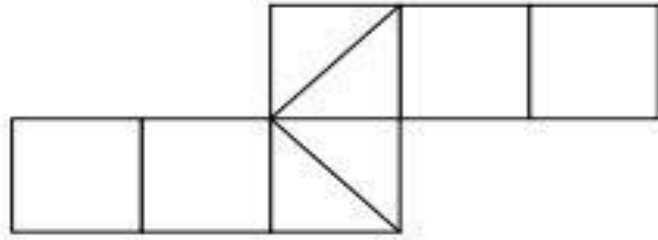
يحتوي على ٣ أسئلة



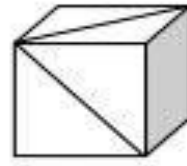
القدرة المعرفية

مجموعة: أبو الجوهرة

مجموعة أبو الجوهرة التعليمية




(ب)



(ا)


: ماهو الشكل المماثل



(د)



(ج)



(ب)



(ا)



مجموعة أبو الجوهرة التعليمية



س١/ ماهو مرادف كلمة زعزع ؟

زعزع معناها : **هز**

س٢/ ماهو مرادف كلمة بالي ؟

معناها : **عتيق**

س٣/ ماهو مرادف كلمة موائمة ؟

مرادفها : **موافقة**

س٤/ اذا أردت الإقناع فبين لمحاورك أنك قد ، معه فيما ، لأنه سيصبح أكثر للإقرار بوجهة نظرك...

١- **تتنفق** - يطرح - **مبلاً** ✓

٢- **تتناغم** - يرفض- استعداداً

٣- **تختلف** - يذكر- جنوحا

٤- **تتباين** - يدعي - قبولا

س٥/ مصنع ينتج كل يوم ونصف سيارة، فكم ينتج من سيارة خلال ٣٠ يوماً ؟

أ- ١٠ سيارات

ب- ١٥ سيارة

ج- **٢٠ سيارة** ✓

د- ٢٥ سيارة

القدرة المعرفية

س٦/ ماهو ضد كلمة وصب ؟

ضد كلمة وصب، العافية، والصحة، والراحة ومرادفها، التعب، والجهد، والإعياء ...



مجموعة: أبو الجوهرة



مجموعة أبو الجوهرة التعليمية

س٧/ غرفة مساحتها ٨٤ م^٢ ، إذا سطل دهان واحد يكفي ٢٤ م^٢؛ فكم نحتاج من سطل دهان ؟

أ- ٣ سطل

ب- ٥ سطل

ج- ٤ سطل

د- ٣,٥ سطل

س٨/ ما هو ضد كلمة حصيد ؟

الإجابة: أحقق، وغبي

ومرادفها : الذكي، والحكيم

س٩/ ماهو مرادف كلمة باسقات ؟

أ) منخفضات

ب) قصيرات

ج) طويلات

د) مستويات

س١٠/ زجاجة عصير وزنها ١٥٠٠ جرام، بعد إفراغها من نصف العصير ؛ أصبحت بوزن ٩٠٠ جرام ؛ فكم وزن الزجاجة من جرام ؟

أ) ٣٠٠

ب) ٤٠٠

مجموعة: أبو الجوهرة



مجموعة أبو الجوهرة التعليمية

ج) ٥٠٠

د) ٦٠٠

س١١/ يجب أن ينظر المدير إلى الإدارة كوحدة وألا تحجبه رؤية عن رؤية

أ) متوازنة - الأصول - الفروع

ب) متكاملة - الجزئيات - الكليات

ج) مستقلة- السلبيات- الايجابيات

د) موضوعية- النجاحات - الإخفاق

س١٢/ عندما تتوافر المناسبة في العمل ؛ تزيد للموظفين ، و استبقائهم.

أ) الخدمات - موافقة - درجة

ب) الأموال - حركة - يقل

ج) الراحة - كفاءة - سرعة

د) الحوافز - الإنتاجية - فرص

س١٣/ لا بسوء الحظ ، فلا يوجد من غير جهد ، فلا تتوهم أن سوء الحظ لك.

أ) تتمسك - انجاز - عذر

ب) تتعلق -تقدم - مخرج

ج) تتعلل - تفوق -عائق

د) تعتذر - ارتقاء -معين

مجموعة: أبو الجوهرة



مجموعة أبو الجوهرة التعليمية

س١٤/ شركة لا أحد يصير فيها مدير إلا بعد ١٥ سنة من الخبرة في الشركة، عمر توظف قبل مديره بسنتين؛ لذا أي الخيارات التالية صحيحة؟

(أ) عمر مؤهل أن يكون مدير

(ب) عمر يستحق راتب ١٥ الف

(ج) عمر يستحق راتب تقاعد

(د) عمر خبرته أكثر من ١٥ عام

س١٥/ خسر تاجر في السنة الاولى ربع رأس المال ، كم نسبة الربح اللازمة في السنة الثانية ليستعيد رأس ماله؟

(أ) الخمس

(ب) الربع

(ج) الثلث:

(د) النصف

س١٦/ إذا كان سعر الدقيقة في المكالمة ٣٠ هللة، وكلمت ١٥٠ دقيقة، فكم يكون المبلغ من ريال؟

(أ) ٣٠

(ب) ٤٠

(ج) ٤٥

(د) ٥٠

القدرة المعرفية

مجموعة: أبو الجوهرة



مجموعة أبو الجوهرة التعليمية

س١٧/ شخص صرف من راتبه الثلث، وتبقى ١٠٠٠ ريال، فكم مجموع الراتب ؟

(أ) ١٣٠٠

(ب) ١٥٠٠ ✓

(ج) ١٧٠٠

(د) ١٩٠٠

س١٨/ الدولار الامريكي إذا كان يساوي بالريال ٣,٧٥ ريالاً، ولديك ٢٠٠ دولار فكم تساوي بالريال ؟

الإجابة: ٧٥٠ ريال ✓

س١٩/ آلة تعمل يوماً ساعتين ونصف الساعة، إذا كان عمرها الافتراضي ٢٥٠٠ ساعة ؛ فكم يوماً وتنتهي هذه الآلة ؟

(أ) ٢٠٠

(ب) ٥٠٠

(ج) ٧٥٠

(د) ١٠٠٠ ✓

س٢٠/ ماعدد المناسب لإكمال هذه المتتابعة:

١، ٦، ١٦، ٣٦، س

مجموعة: أبو الجوهرة

(أ) ٤٦



مجموعة أبو الجوهرة التعليمية

ب) ٦٠

ج) ٧٦ ✓

د) ٨٠

س٨/ سعر المكالمة ريال لكل ٣٠ ثانية ، اذا كلمت ١٥٠ دقيقة كم السعر بالريال؟

ج ٤٥ / ٨ ✓

س١١/ الساعة الان ٣:١٠ ص ، كم ستكون الساعة بعد ٥٤ ساعة و ٢٣ دقيقة ؟

ج ٩:٣٣ / ١١ ص ✓

س١٢/ ضبطت ساعة على (٦ ص) وكانت تتأخر ٢٠ دقيقة كل ساعة، فأين يشير العقرب اذا كانت الساعة (٦ م) ؟

ج ٢ / ١٢ م ✓

س٩/ مصنع ينتج سيارة كل يوم ونصف ، كم ينتج المصنع بعد ٣٠ يوم؟

ج ٢٠ / ٩ ✓

٩- إذا أردت الإقناع فبين لمحاورك أنك قد ، معه فيما ، لأنه سيصبح أكثر للإقرار بوجهة نظرك

القدرة المعرفية

مجموعة: أبو الجوهرة

١- تنفق - يطرح - ميلاً ✓

٢- تتناغم - يرفض- استعداداً

٣- تختلف - يذكر- جنوباً



مجموعة أبو الجوهرة التعليمية

٤- تتباين - يدعي - قبولا



مرادف كلمة زحزح = حرك

وجت 60 لتر تتعباء ب100 علبة بعضها من لتر
والبعض من نص؟ كم علبه تتعباء من لتر 22:57

٨٠ علبة نص لتر = ٤٠ لتر

٢٠ علبة لتر واحد = ٢٠ لتر

بكذا عندنا ١٠٠ علبة فيها ٦٠ لتر

س٤/ إذا أردت الإقناع فبين لمحاورك أنك قد ، معه فيما ، لأنه سيصبح أكثر
..... للإقرار بوجهة نظرك...

١- تنفق - يطرح - ميلاً ✓

٢- تتناغم - يرفض- استعداداً

٣- تختلف - يذكر- جنوحا

٤- تتباين - يدعي - قبولا

القدرة المعرفية

مجموعة: أبو الجوهرة



مجموعة أبو الجوهرة التعليمية



.... ١٠،١٠،٨،١٨،١٥،٢٦

الاجابات

٢٣

٢٤

٢٠

١٦

هذا السؤال حله بطريقتين

اذا ابدايه باليسار زياده ونقصان

اذا ابدايه باليمين و نقصان وزياده

بيطلع الحل ٢٤

القدرة المعرفية

ضد وصب

راحة

داء

دنف:

ضنى

مجموعة: أبو الجوهرة



مجموعة أبو الجوهرة التعليمية

تقدم الخدمات الواجبة والضرورية لأفراد المجتمع، وتلتزم بمساواة المواطنين أمام هذه الخدمات دون تمييز. إدارة الأعمال: تتميز عن الإدارة العامة بروح التنافس الحادة، حيث إن الهدف الرئيسي لإدارة الأعمال تحقيق أقصى ربح مادي ممكن من خلال إدارة المشاريع الخاصة، إلا أنها مشاريع أصغر من مشاريع الإدارة العامة، كما أن عدد موظفيها أقل من موظفي الإدارة العامة. مستويات الإدارة العليا: تتمثل في المدير العام أو رئيس مجلس الإدارة. الإدارة الوسطى: تتمثل بمدراء الأقسام. الإدارة التنفيذية: تعرف أيضاً بالإدارة التشغيلية والتي تتمثل بالمشرفين بشكل مباشر على تنفيذ الأعمال، وتطبيق السياسات على أرض الواقع.

1: تعرف الإدارة بأنها :

- أ- متنوعة
- ب- متخصصة
- ج- مهنية
- د- شاملة

2: الإدارة فن عندما تتعامل مع :

- أ- الآلات
- ب- الأفراد
- ج- الأنظمة والقوانين
- د- الأرقام و الاحصائيات

3: الفرق بين الادارة العليا والادارة الوسطى :

- أ- الادارة الوسطى ترفض المقترحات لانها لا تتماثل مع رأيها
- ب- الادارة الوسطى لا تتوافق مع السلطة التشريعية العليا
- ج- الادارة العليا تختص بعملية ترجمة الاهداف والسياسات العامة المحددة
- د- تمثل الادارة العليا القاعدة الاساسية للمتخصصين والخبراء في كل المشاريع

4: توجه الادارة التقليدية الى :

- أ- التعامل المباشر
- ب- التعامل الالكتروني



مجموعة أبو الجوهرة التعليمية



القدرة المعرفية

مجموعة: أبو الجوهرة



مجموعة أبو الجوهرة التعليمية



القدرة المعرفية

مجموعة: أبو الجوهرة



مجموعة أبو الجوهرة التعليمية


تفسير البيانات

مدرسة	مدرسة	مدرسة	مدرسة	المادة	
٤	٣	٢	١		
٨٠	٨١	٧٧	٨٣	قبلي	حاسب
٩١	٩٢	٨٨	٩٤	بعدي	
٧٧	٧٦	٧٤	٧٥	قبلي	علوم
٩٢	٩١	٨٩	٩٠	بعدي	
٨٦	٧٠	٧٣	٨٦	قبلي	احياء
٩٤	٨٧	٩٠	٩٥	بعدي	
٨٧	٧٥	٧٠	٨١	قبلي	رياضيات
٩٥	٨٠	٨٨	٩٣	بعدي	



مجموعة أبو الجوهرة التعليمية

تعليمات: في كل سؤال من الأسئلة العشرة التالية هناك سلسلة من الأشكال وهناك شكل ذو علاقة بها مفقود. وتحت كل سلسلة أربعة خيارات واحد منها فقط يكمل السلسلة بصورة صحيحة. المطلوب منك أن تختار الشكل الذي يكمل السلسلة بصورة صحيحة.



القدرة المعرفية

مجموعة: أبو الجوهرة



مجموعة أبو الجوهرة التعليمية



القدرة المعرفية

مجموعة: أبو الجوهرة



مجموعة أبو الجوهرة التعليمية

الاختبار التحضيري للقدرة المعرفية العامة (تقييم-1) من اكااديمية اديوميتر Edumeter - نسخة 1

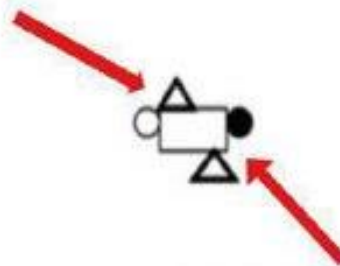
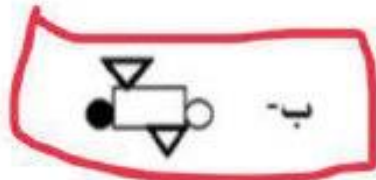
إظهار بيانات الطالب إظهار التعليمات

تغيير اتجاه الصفحة

درجة السؤال: 1

رقم السؤال: 26 من 28

تعليمات: يتكون هذا الجزء في كل سؤال هناك شكل بسيط في الأعلى و تحته أربعة أشكال تمثل الخيارات للإجابة. من بين الخيارات الأربعة اختر الشكل الذي يتماثل مع الشكل الأعلى.



نفس الشكل الأول لكن مقلوب

ولاحظوا المسافات بين الدوائر



مجموعة أبو الجوهرة التعليمية

عبارة عن جمل فيها بعض الكلمات المفقودة
وتحتها اربعة بدائل (خيارات). اختر البديل الذي
يتضمن الكلمات الناقصة حسب ترتيب فقدانها من
الجملة. أكمل الفراغات

عندما تتوافر المناسبة في العمل. تزيد
..... الموظفين و استبقائهم

الخدمات , موافقة , درجة

الاموال , حركة , يقل

الراحة , كفاءة , سرعة.

الحوافز , إنتاجية , فرص

إداريات

القدرة المعرفية

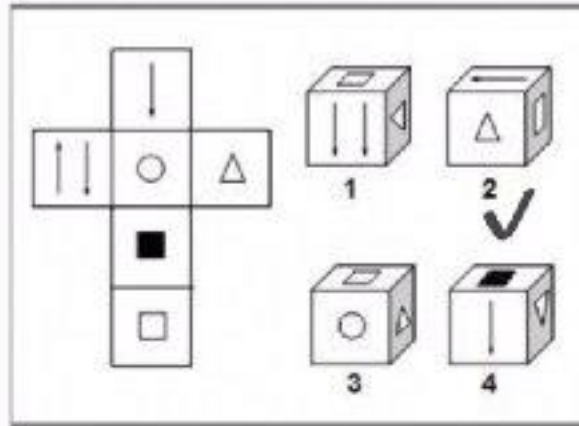
مجموعة: أبو الجوهرة 

مجموعة أبو الجوهرة التعليمية

أهم استراتيجيات حل الأشكال والمكعبات

٣- يعتمد حل الأشكال والمكعبات

في الغالب على قدرة الشخص على تخيل الشكل



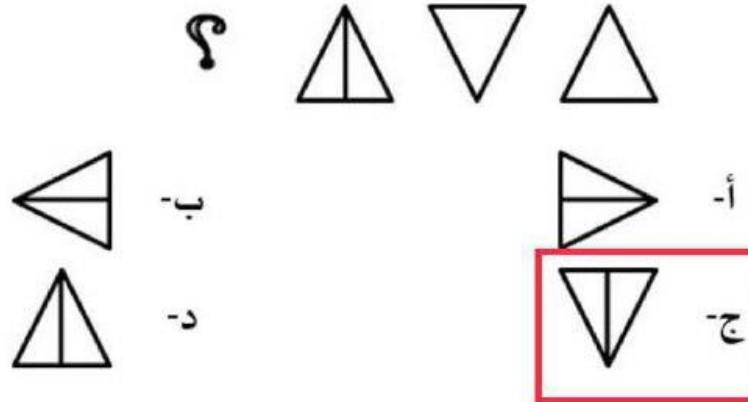
إداريات

القدرة المعرفية

مجموعة: أبو الجوهرة

مجموعة أبو الجوهرة التعليمية

تعليمات: في كل سؤال من الأسئلة العشرة التالية هناك سلسلة من الأشكال وهناك شكل ذو علاقة بها مفقود. وتحت كل سلسلة أربعة خيارات واحد منها فقط يكمل السلسلة بصورة صحيحة. المطلوب منك أن تختار الشكل الذي يكمل السلسلة بصورة صحيحة.



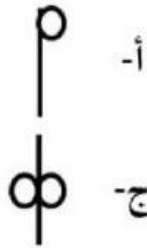
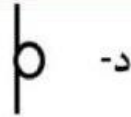
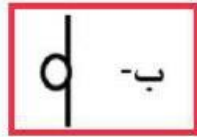
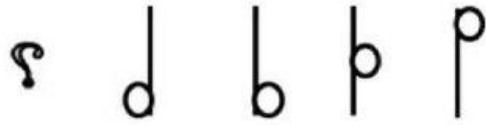
القدرة المعرفية

مجموعة: أبو الجوهرة



مجموعة أبو الجوهرة التعليمية

تعليمات: في كل سؤال من الأسئلة العشرة التالية هناك سلسلة من الأشكال وهناك شكل ذو علاقة بها مفقود. وتحت كل سلسلة أربعة خيارات واحد منها فقط يكمل السلسلة بصورة صحيحة. المطلوب منك أن تختار الشكل الذي يكمل السلسلة بصورة صحيحة.

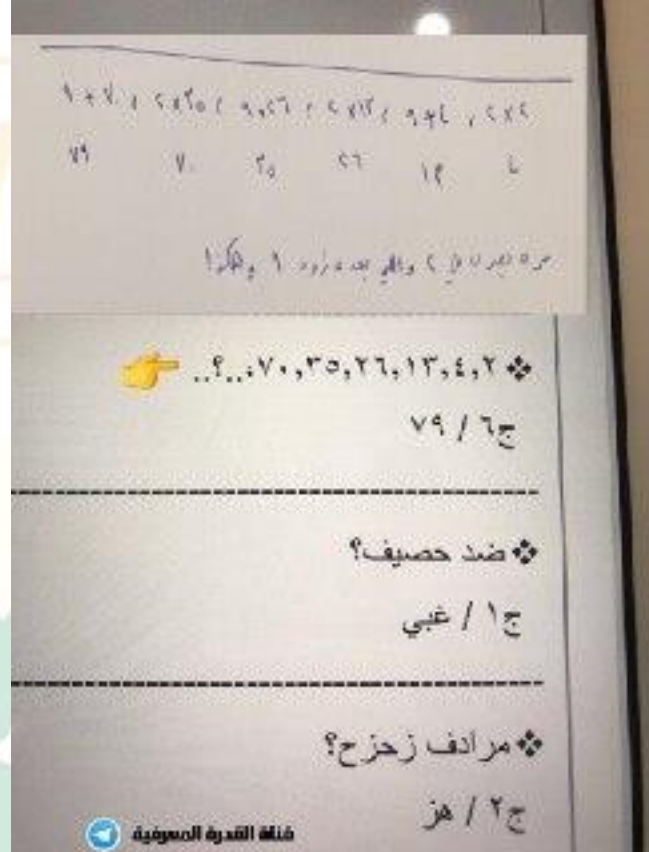


القدرة المعرفية

مجموعة: أبو الجوهرة



مجموعة أبو الجوهرة التعليمية



القدرة المعرفية

مجموعة: أبو الجوهرة

مجموعة أبو الجوهرة التعليمية

من الثانية؟

أ- 10

ب- 11

ج- 12

د- 13

5: مصنع ينتج كل يوم ونصف سيارة، فكم ينتج من سيارة خلال 30 يوماً؟

أ- 10 سيارات

ب- 15 سيارة

ج- 20 سيارة

د- 25 سيارة

6: غرفه مساحتها 84 م² ، إذا سطل دهان واحد يكفي 24 م²؛ فكم نحتاج سطل؟

أ- 3 سطل

ب- 5

ج- 4 سطل

10 - 5 = 5

10

5

5

1

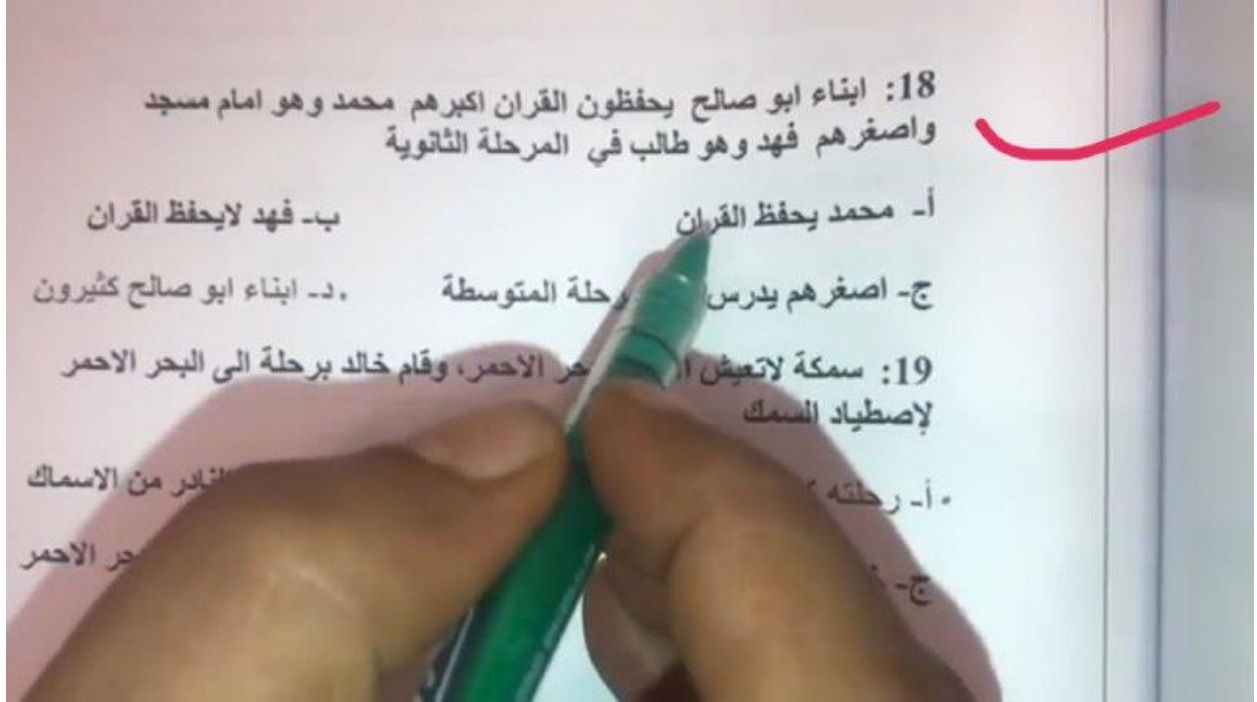
إداريات

القدرة المعرفية

مجموعة: أبو الجوهرة



مجموعة أبو الجوهرة التعليمية


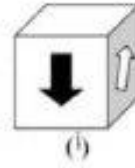
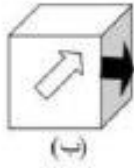
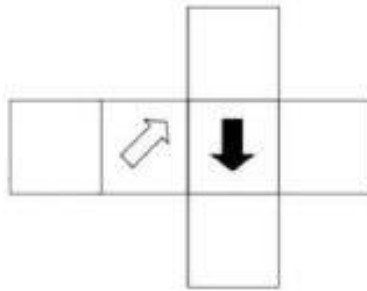


إداريات
إداريين

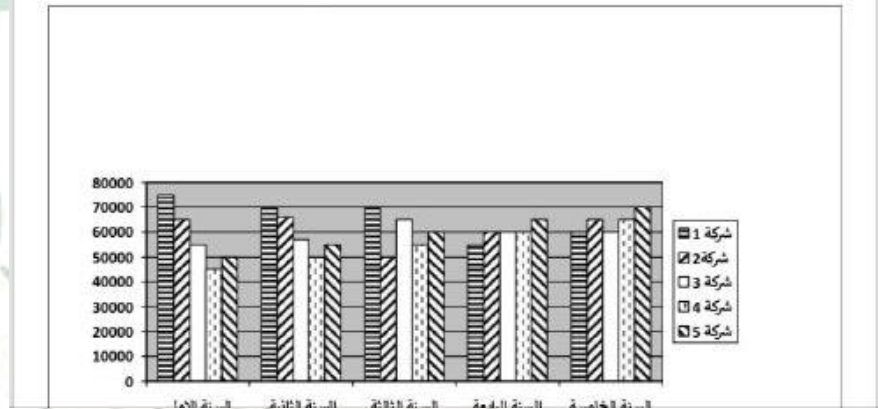
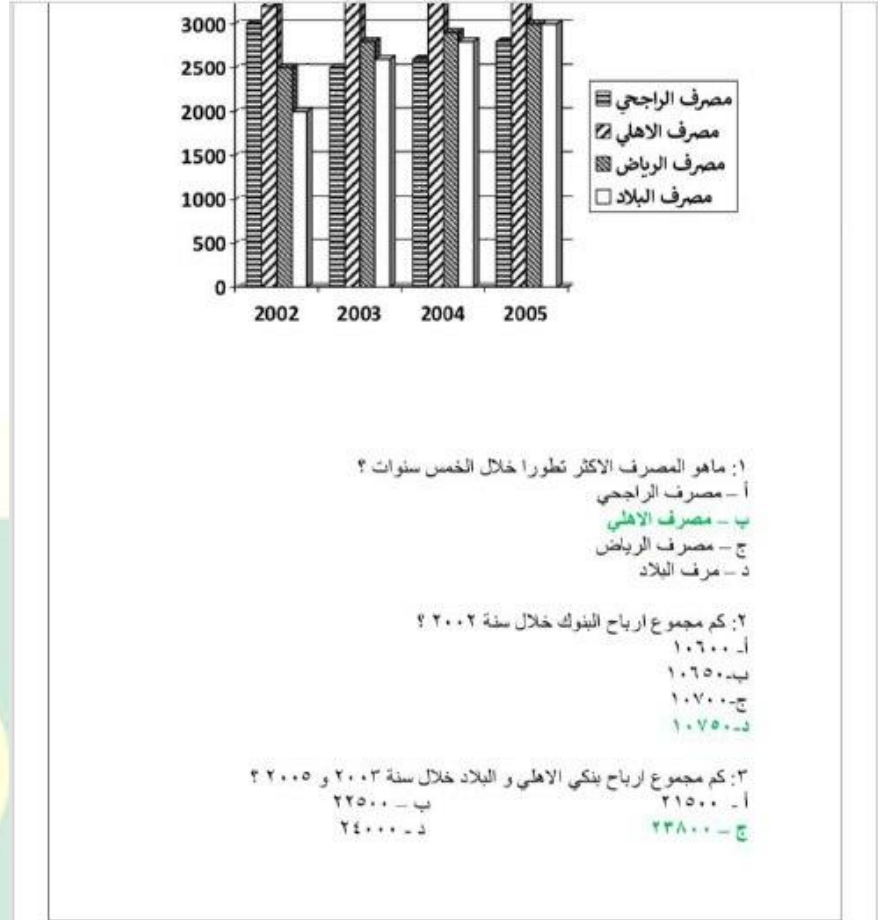
القدرة المعرفية

مجموعة: أبو الجوهرة

مجموعة أبو الجوهرة التعليمية



مجموعة أبو الجوهرة التعليمية

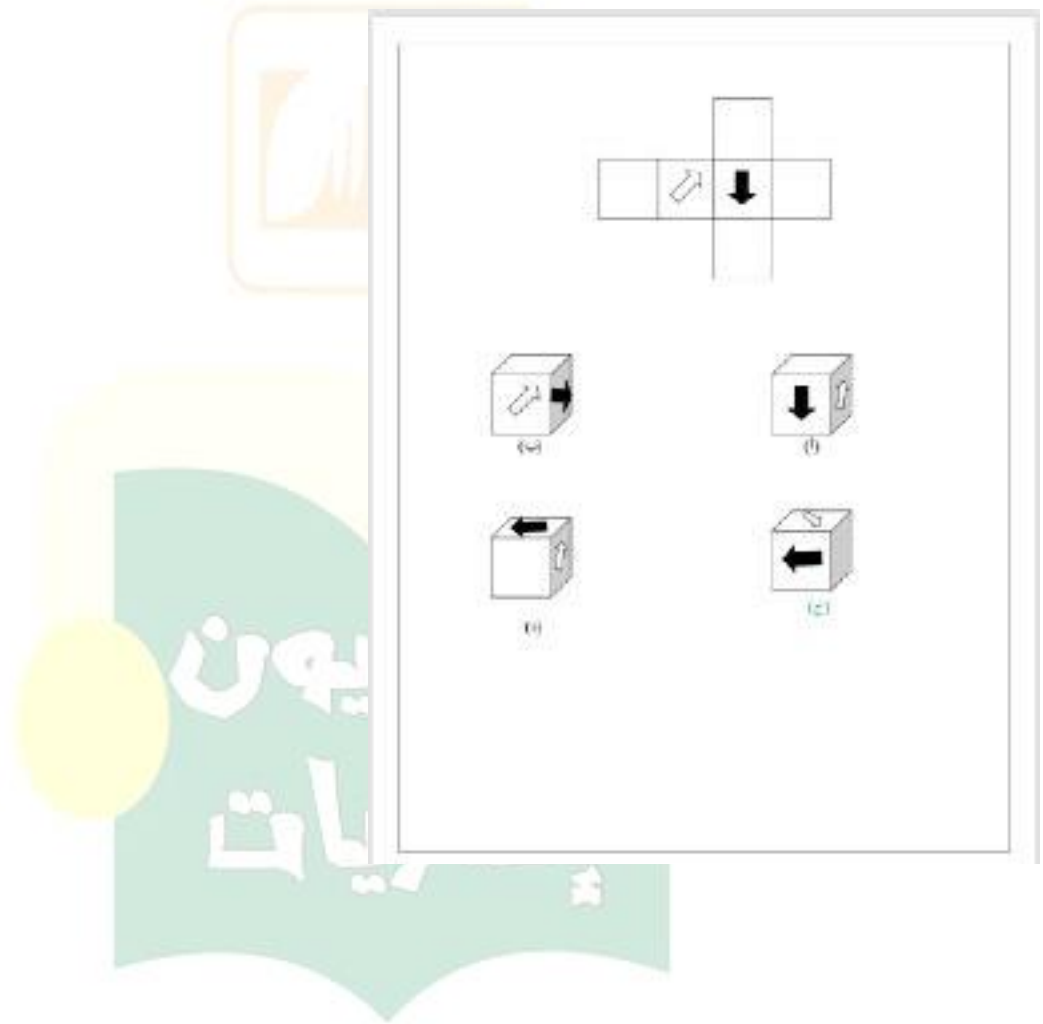


فئة





مجموعة أبو الجوهرة التعليمية




القدرة المعرفية

مجموعة: أبو الجوهرة

مجموعة أبو الجوهرة التعليمية

٣: ماهو الشكل المماثل



(د)



(ج)



(ب)



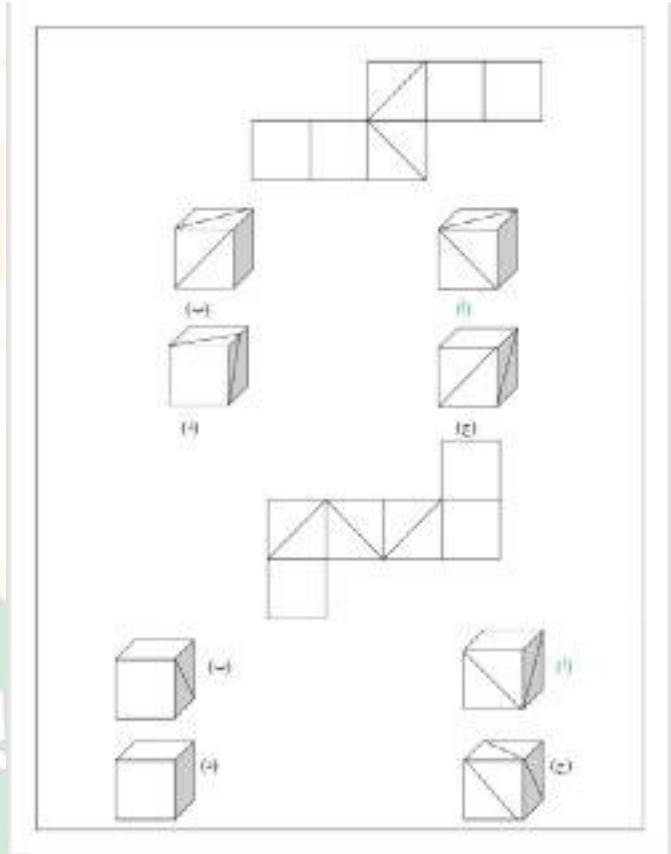
(أ)

إداريات

القدرة المعرفية

مجموعة: أبو الجوهرة

مجموعة أبو الجوهرة التعليمية



١٨: أبناء ابو صالح يحفظون القرآن اكبرهم محمد وهو امام مسجد
واصغرهم فهد وهو طالب في المرحلة الثانوية

ب- فهد لا يحفظ القرآن

أ- محمد يحفظ القرآن

د- أبناء ابو صالح كثيرون

ج- اصغرهم يدرس في المرحلة المتوسطة



مجموعة أبو الجوهرة التعليمية

المرحلة السادسة		المرحلة السابعة		المرحلة
نساء	رجال	نساء	رجال	البنات
2400	2000	1000	2000	1433
2500	3500	1100	2400	1434
2000	2500	1200	2000	1435
1600	1800	800	1500	1436
1400	1600	1100	1700	1437
1200	1100	800	1000	1438

١- في أي سنة كانت نسبة التوظيف أكثر ؟

أ - 1433
ب - 1434
ج - 1435

٢- كم عدد الموظفات من المراكز السابعة والسادسة خلال سنة 1436 ؟

أ - 2350
ب - 2400
ج - 2500

٣- كم عدد الموظفين من المرحلة السادسة خلال سنوات 1438، 1437، 1436 ؟

أ - 1000
ب - 1100
ج - 1200

٤- كم عدد الموظفين والموظفات من المراكز السابعة والسادسة خلال سنة 1435 ؟

أ - 7500
ب - 7600
ج - 7700

القدرة المعرفية

مجموعة: أبو الجوهرة



مجموعة أبو الجوهرة التعليمية

١٢ : توظف خالد وعمره ٢٢ سنة ، التقاعد النظامي في الشركة عند بلوغ السن ٦٠ سنة ، تقاعد خالد وعمره ٦٠ سنة ، إذا اكمل ٤٠ سنة عمل يستحق راتب تقاعد كامل .

أ- اكمل خالد ٤٠ سنة خدمة في الشركة

ب- خالد يستحق راتب كامل

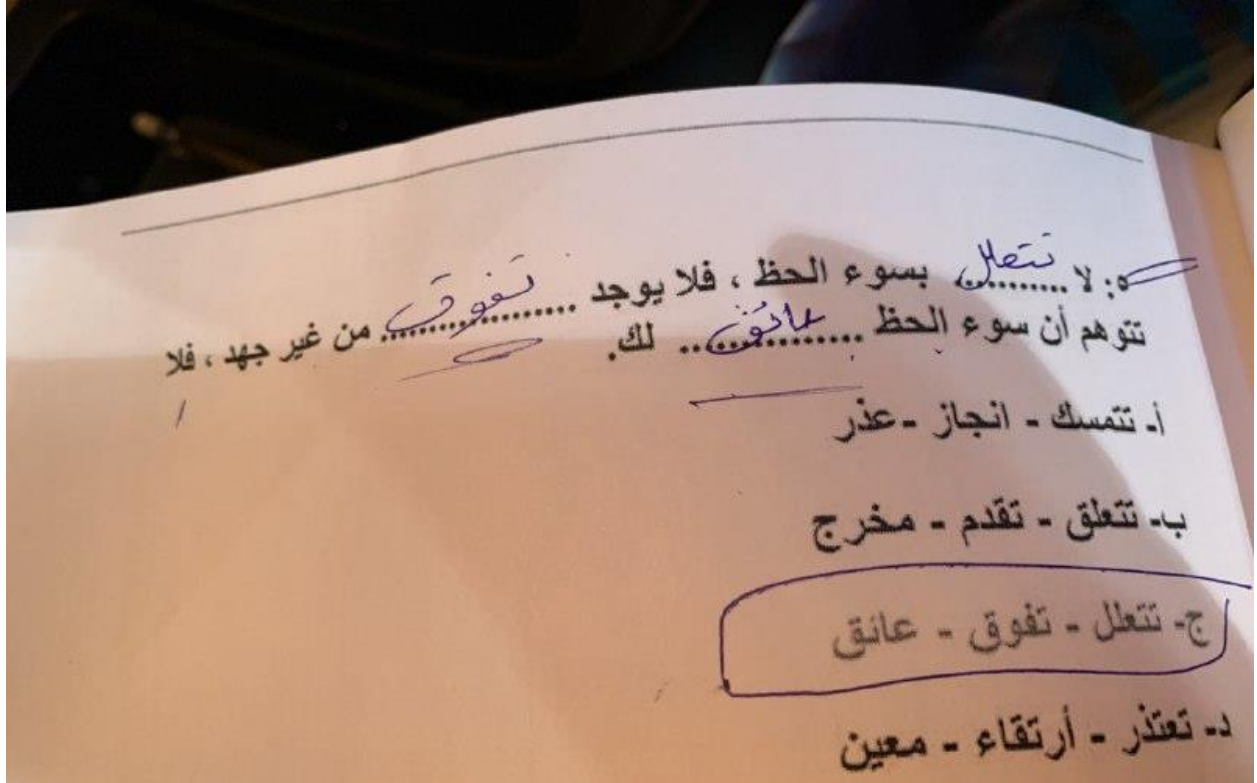
ج- تقاعد خالد وعمره ٦٠ سنة

د- تقاعد خالد بناءً على رغبته

إداريون
إداريات
القدرة المعرفية

مجموعة: أبو الجوهرة

مجموعة أبو الجوهرة التعليمية



٢٢ : اربعة اخوه طبيب ومعلم ومهندس وطيار ، خالد وفيصل توأمان، اذا كان الطيار اطول من الجميع والمهندس اقصرهم ، وظيفة فيصل مهندس وكان مهند اطول من عبدالله،وظيفة عبدالله طبيب ، فما وظيفة خالد؟

ب - طبيب

أ - مهند

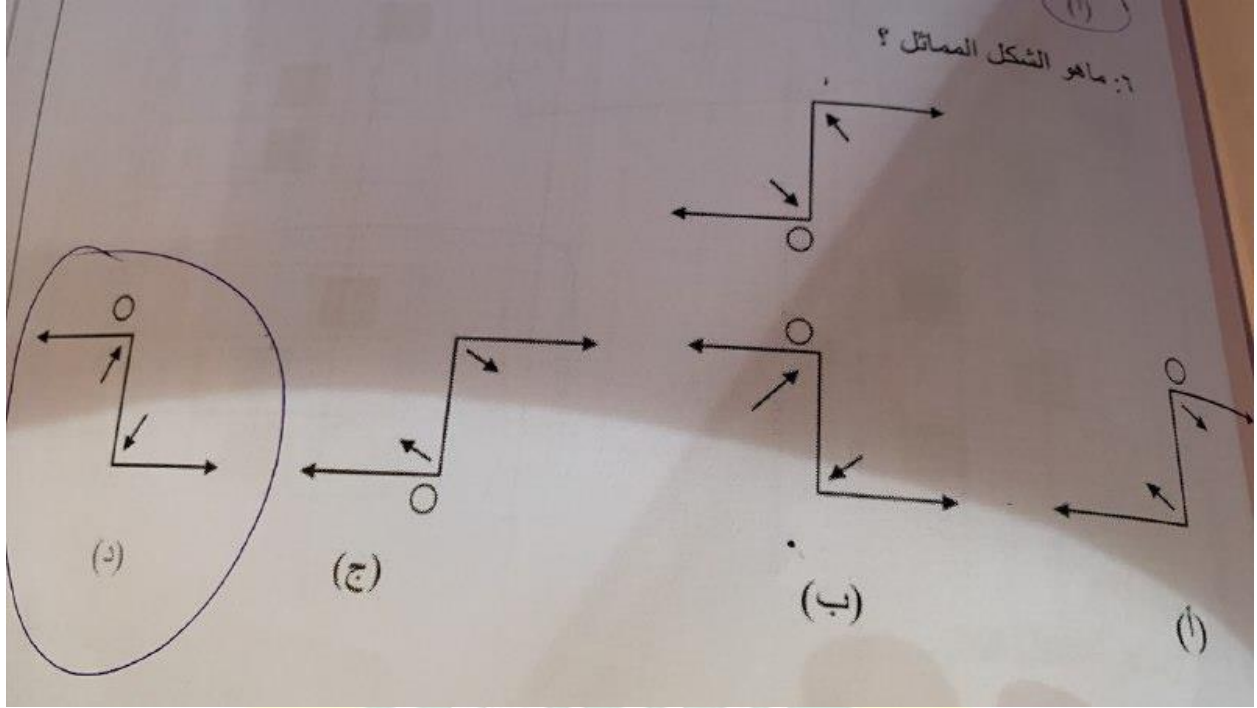
د - معلم

ج - طيار

القدرة المعرفية

مجموعة: أبو الجوهرة

مجموعة أبو الجوهرة التعليمية



إداريون
إداريات

القدرة المعرفية

مجموعة: أبو الجوهرة



مجموعة أبو الجوهرة التعليمية

١: شخص يبيع تفاحتين بسعر ٣ برتقالات اذا اراد ان يستبدل ١٠ تفاحات ببرتقال كم يصبح عدد البرتقال ؟

أ- ١٠

ب- ١٢

د- ٢٠

ج- ١٥

٢: معلمة لديها ٥١ لعبة، قسمتها بالتساوي بين طلابها ؛ فكم عدد الطلاب ؟

ب- ٧

أ- ٥

د- ١٧

ج- ١٠



مجموعة: أبو الجوهرة



مجموعة أبو الجوهرة التعليمية

سلاسل الأرقام

(١) ١٠، ١٥، ٢٥، ٣٠،

ب- ٤٠

أ- ٣٥

د- ٥٠

ج- ٤٥

(٢) ١، ١، ٢، ٣، ٥،

ب- ٨

أ- ٦

د- ١٢

ج- ١٠

(٣) ١٩، ١٧، ٢٢، ٢٠،

ب- ٢٣

أ- ٢٢

د- ٢٥

ج- ٢٤

(٤) ١، ١، ٢، ٦،، ١٢٠

ب- ٢٠

أ- ٢٤

د- ١٢

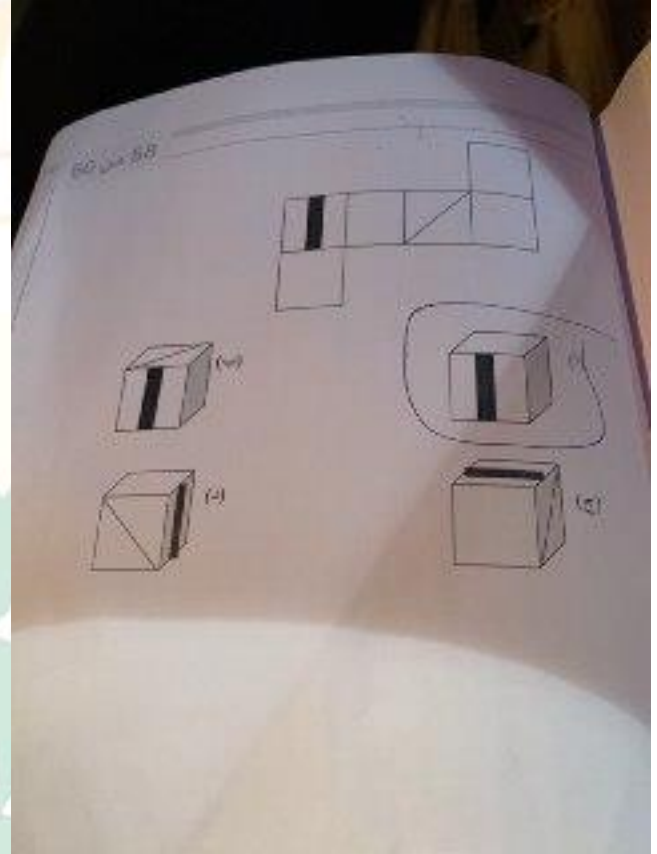
ج- ١٦

القدرة المعرفية

مجموعة: أبو الجوهرة



مجموعة أبو الجوهرة التعليمية



القدرة المعرفية

مجموعة: أبو الجوهرة



مجموعة أبو الجوهرة التعليمية

٢٠ : مسابقة وظيفية تقدم عليها كل من احمد ومحمد وفراس وعلي و بدر ، احمد قبل فراس ، وعلي بعد محمد ، وفراس بعد علي، وبدر قبل احمد .من فاز بالوظيفة ؟

ب- بدر

أ- فراس

د- محمد

ج- علي

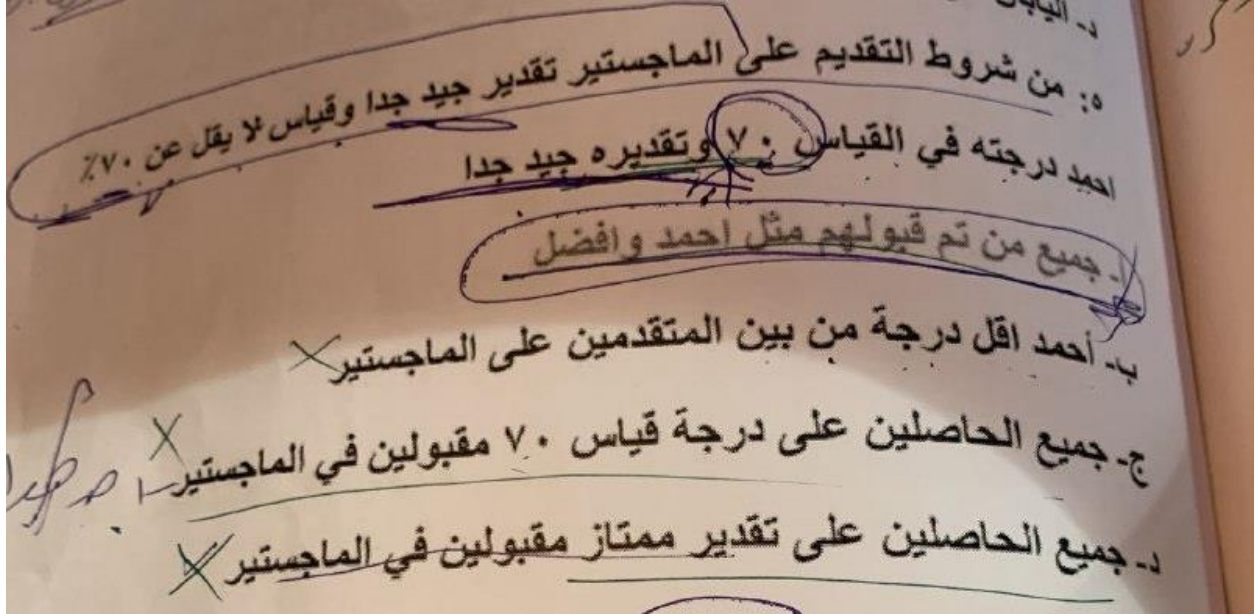


القدرة المعرفية

مجموعة: أبو الجوهرة



مجموعة أبو الجوهرة التعليمية



هـ: من شروط التقديم على الماجستير تقدير جيد جدا وقياس لا يقل عن ٧٠٪

احمد درجته في القياس ٧٠ وتقديره جيد جدا

أ- جميع من تم قبولهم مثل احمد وافضل

ب- احمد اقل درجة من بين المتقدمين على الماجستير

ج- جميع الحاصلين على درجة قياس ٧٠ مقبولين في الماجستير

د- جميع الحاصلين على تقدير ممتاز مقبولين في الماجستير

العدرة المعرفية

مجموعة: أبو الجوهرة

مجموعة أبو الجوهرة التعليمية

جزء كبير من تردى الأوضاع الاجتماعية لبعض الأسر نشأ نتيجة لسوء إدارة مواردها المالية وشؤونها الاقتصادية.

العديد من الأسر أقحمت نفسها في قروض استهلاكية وتردت أوضاعها الاقتصادية إلى مستويات غير قابلة للاستمرار. وأصبح لزاماً عليها تغيير أنماطها الاستهلاكية وبذل جهد أكبر لتصحيح أوضاعها الاقتصادية والاهتمام أكثر بالتخطيط المالي لمواردها الاقتصادية.

أدت الأخطاء الاقتصادية والإصرار على تكرارها. عند بعض الأسر إلى خلق أزمات مالية ساهمت في تدهور الحياة الاجتماعية.

سلوك معظم الأسر يحتاج إعادة صياغة لاسيما ما يتعلق بالاستهلاك وتنظيم الوقت. والعديد من الأسر بحاجة لطماء الاجتماع أكثر من حاجتها لعلماء الاقتصاد لسد الفجوة بين القيم التي تؤمن بها والقيم التي تطبقها في حياتها.

أحد أهم مؤشرات سلبية القوضى الاستهلاكية يتمثل في ارتفاع حجم إنفاق الأسرة في بداية الشهر مقارنةً بنهايته

البرمجة الاقتصادية لميزانية الأسرة وأسس التخطيط المالي:

- أسس التخطيط المالي الجيد ينطلق من إدراك حاجة الأسرة للتغيير لاسيما الأسر التي تردت أوضاعها الاقتصادية إلى مستويات غير قابلة للاستمرار.

- البرمجة الاقتصادية لميزانية الأسرة إحدى أهم الوسائل المساعدة على تصحيح الخلل الذي تعاني منه معظم الأسر من الطبقة المتوسطة

١: السبب في ان الأسر الفقيرة تعاني أكثر من غيرها ؟

- أ- كثرت التضخم المالي
ب- غلاء المعيشة
ج- ارتفاع المعيشة بسبب الانحار
د- القروض البنكيه الميسره

٢: اختر الاجابة الصحيحة :

- أ- العلاقة بين الاوضاع المادية و الاجتماعية علاقة تعاضد
ب- العلاقة بين الاوضاع المادية و الاجتماعية علاقة تضاد
ج- العلاقة بين الاوضاع المادية و الاجتماعية علاقة تضامن
د- العلاقة بين الاوضاع المادية و الاجتماعية علاقة طردية

٣: الترشيح في الاتفاق يكون بـ :



مجموعة أبو الجوهرة التعليمية

٣: اشترطت مدرسة لطلاب الابتدائي سن ست سنوات واستثنت من عمره خمس سنوات و ٩ شهور وطلاب الروضة اعمارهم خمس سنوات وست شهور

أ- طلاب الروضة يدخلون الابتدائي بدون شرط

ب- استثنى من عمره خمس سنوات و ١٠ شهور دخول الابتدائي

ج- ست سنين و ١٠ شهور يقبل بدون شروط

د- خمس سنوات وست شهور يقبل بدون شروط

٩: مهندس فيصل و عمار و فهد و نواف يسكنون في ٣ مناطق بالمملكة العربية السعودية. وعمار لايسكن في نفس المنطقة التي يسكن فيها فيصل و نواف يسكنون في منطقة واحدة، و فهد لايسكن في نفس المنطقة التي يسكن فيها نواف، و مهندس لايسكن مع فيصل في منطقة واحدة، فأي العبارات صحيحة؟

أ- فهد يسكن مع فيصل في منطقة واحدة

ب- فهد لايسكن مع عمار في منطقة واحدة

ج- فهد و مهندس يسكنون مع عمار في منطقة واحدة

د- عمار لايسكن مع نواف في منطقة واحدة



مجموعة أبو الجوهرة التعليمية

عد الإدارة من أهم النشاطات الإسمائية التي تمارس داخل المجتمعات، حيث لها تأثير كبير على نواحي الحياة المختلفة نظراً لإرتباطها المباشر بالشؤون الاقتصادية، والقضايا الاجتماعية، والسياسية، فالإدارة هي الجهة المسؤولة التي تعمل على جمع الموارد الاقتصادية وتوظيفها من أجل إشباع حاجات الفرد والجماعات في هذه المجتمعات، حيث تتطور المجتمعات وتتقدم بالاعتماد على الإدارة، ولهذا تعتمد الدول عليها من أجل توفير الرخاء لمواطنيها، وتعتبر الإدارة الناجحة أساس نجاح منظومة المجتمع وتفوقها. تعريف الإدارة تعرف الإدارة بأنها عملية تحقيق الأهداف الموضوعة من خلال استغلال الموارد والعناصر المتاحة، حسب منهج مُحدد، وضمن بيئة محددة، كما تعرف بأنها عملية التخطيط والتنظيم، والرقابة، والتنسيق، والتوجيه المطبقة على الموارد المالية والبشرية، من أجل تحقيق أفضل النتائج، بقلل التكاليف، وأفضل الطرق وأقصرها، والإدارة هي فرع من فروع العلوم الاجتماعية. أنواع الإدارة الإدارة العامة: تتميز بأنها تعمل خلال الظروف الاحتكارية بعدد كبير من الموظفين، حيث تقدم خدمات عامة ضخمة لا تكون غايتها الربح، وإنما تقدم الخدمات الواجبة والضرورية للأفراد المجتمع، وتلتزم بمساواة المواطنين أمام هذه الخدمات تون تمييز. إدارة الأعمال: تتميز عن الإدارة العامة بروح التنافس الحادة، حيث إنّ الهدف الرئيسي لإدارة الأعمال تحقيق أقصى ربح مادي ممكن من خلال إدارة المشاريع الخاصة، إلا أنها مشاريع أصغر من مشاريع الإدارة العامة، كما أنّ عدد موظفيها أقل من موظفي الإدارة العامة. مستويات الإدارة الإدارة العليا: تتمثل في المدير العام أو رئيس مجلس الإدارة. الإدارة الوسطى: تتمثل بمدراء الأقسام. الإدارة التنفيذية: تعرف أيضاً بالإدارة التشغيلية والتي تتمثل بالمشرفين بشكل مباشر على تنفيذ الأعمال، وتطبيق السياسات على أرض الواقع.

١: تعرف الإدارة بأنها :

- أ- متنوعة
- ب- متخصصة
- ج- مهنية
- د- شاملة

٢: الإدارة فن عندما تتعامل مع :

- أ- الآلات
- ب- الأفراد
- ج- الانظمة والقوانين
- د- الأرقام و الاحصائيات

٣: الفرق بين الإدارة العليا والإدارة الوسطى :

- أ- الإدارة الوسطى ترفض المقترحات لأنها لا تتمثل مع رأيها
- ب- الإدارة الوسطى لا تتوافق مع السلطة التشريعية العليا



مجموعة أبو الجوهرة التعليمية

٣: اشترطت مدرسه لطلاب الابتدائي سن ست سنوات واستثنت من عمره خمس سنوات و٩ شهور وطلاب الروضة اعمارهم خمس سنوات وست شهور

أ- طلاب الروضة يدخلون الابتدائي بدون شرط

ب- استثنى من عمره خمس سنوات و ١٠ شهور دخول الابتدائي

ج- ست سنين و ١٠ شهور يقبل بدون شروط

د- خمس سنوات وست شهور يقبل بدون شروط

❖ الساعة الان ٣:١٠ ص ، كم ستكون الساعة بعد ٥٤ ساعة و ٢٣ دقيقة ؟

ج ٩:٣٣ / ١١ ص

❖ سعر المكالمة ريال لكل ٣٠ ثانية ، اذا كلمت ١٥٠ دقيقة كم السعر بالريال؟

ج ٤٥ / ٨

القدرة المعرفية

مجموعة: أبو الجوهرة



مجموعة أبو الجوهرة التعليمية

٩: مهند و فيصل و عمار و فهد و نواف يسكنون في ٣ مناطق بالمملكة العربية السعودية. وعمار لايسكن في نفس المنطقة التي يسكن فيها فيصل ، و فيصل و نواف يسكنون في منطقة واحدة، و فهد لايسكن في نفس المنطقة التي يسكن فيها نواف، و مهند لايسكن مع فيصل في منطقة واحدة، فأى العبارات صحيحة؟

أ- فهد يسكن مع فيصل في منطقة واحدة

ب- فهد لايسكن مع عمار في منطقة واحدة

ج- فهد و مهند يسكنون مع عمار في منطقة واحدة

د- عمار لايسكن مع نواف في منطقة واحدة

إداريات
إداريات
القدرة المعرفية

مجموعة: أبو الجوهرة



مجموعة أبو الجوهرة التعليمية

24 من 60

٢: الإدارة فن عندما تتعامل مع :

- أ- الآلات
ب- الأفراد
ج- الأنظمة والقوانين
د- الأرقام و الاحصائيات

٣: الفرق بين الإدارة العليا والإدارة الوسطى :

- أ- الإدارة الوسطى ترفض المقترحات لأنها لا تتماشى مع رؤيتها
ب- الإدارة الوسطى لا تتوافق مع السلطة التشريعية العليا
ج- الإدارة العليا تختص بعملية ترجمة الأهداف والسياسات العامة المحددة
د- تمثل الإدارة العليا القاعدة الأساسية للمتخصصين الخبراء في كل المشاريع

٤: توجه الإدارة التقليدية إلى :

- أ- التعامل المباشر
ب- التعامل الإلكتروني
ج- التعامل عن طريق وسيط
د- التعامل عن بعد

٥: القرارات التي تتخذ تكون عن طريق :

- أ- الإدارة العليا
ب- الإدارة الوسطى
ج- الإدارة العليا و الوسطى
د- الإدارة العليا و المباشرة

٦: أهداف الرقابة :

- أ- تطوير الأداء الوظيفي
ب- مراقبة سلوكيات الموظفين
ج- متابعة الأداء الوظيفي
د- معاقبة الموظفين الغير منضبطين

معرفة





مجموعة أبو الجوهرة التعليمية

معنى كلمة

رحب = الواسع

قناة القدرة المعرفية: /أحمد العواجي
إذا كان واحد يغير زيت سيارته كل 4500 كلم
فكم يعبئها مره اذا مشى 94500؟؟؟ طبعا انا
جوابي 3 بس ماكان من الخيارات الخيارات
فوق العشره كلها ماعرفت حله للأسف 23:10

تغير زيت السيارة كل ٤٥٠٠ مرة

نزيد صفر على ٤٥٠٠ تصير ١٠ مرات

مرة ١ = ٤٥٠٠ كيلو

١٠ مرات = ٤٥٠٠٠

٢٠ مرة = ٩٠٠٠٠ (نديل ٤٥٠٠٠)

الحين وصلنا ٩٠ ألف كيلو وغيرنا ٢٠ مرة

نغيره مرة وحدة زيادة وتصير ٩٤٥٠٠

القدرة المعرفية

مجموعة: أبو الجوهرة

الجواب : ٢١ مرة



مجموعة أبو الجوهرة التعليمية

س12/ضبطت ساعة على (6 ص) وكانت تتأخر
20 دقيقة كل ساعة، فأين يشير العقرب اذا
كانت الساعة (6 م) ؟
ج12 / 2 م

قناة القدرة المعرفية: أ/محمد العواجي

الساعة كانت 6 صباحا ومشكلتها إنها تتأخر 20 دقيقة كل ساعة (يعني ثلث ساعة)

فإذا وصلت الساعة 6 مساء هي يعني إنها تحركت 12 ساعة

لكن لأنها تتأخر ثلث ساعة بكل ساعة ، فهي تتأخر ثلث الوقت كامل اللي هو (12) ساعة

لذلك ننقص ثلث الوقت كامل 12 ساعة

ثلث 12 ساعة = 4 ساعات

فإذا كانت الساعة 6 مساء بتكون بالساعة المتأخرة 2 مساء

القدرة المعرفية

مجموعة: أبو الجوهرة



مجموعة أبو الجوهرة التعليمية

١٢ : توظف خالد وعمره ٢٢ سنة ، التقاعد النظامي في الشركة عند بلوغ السن ٦٠ سنة ، تقاعد خالد وعمره ٦٠ سنة ، إذا اكمل ٤٠ سنة عمل يستحق راتب تقاعد كامل . قناة القدرة المعرفية: أ/محمد العواجي

أ- اكمل خالد ٤٠ سنة خدمة في الشركة

ب- خالد يستحق راتب كامل

ج- تقاعد خالد وعمره ٦٠ سنة

د- تقاعد خالد بناءً على رغبته

س٣٦ / ثلاثة اشخاص اشتركوا في مشروع

الأول دفع ٢٠٠٠

الثاني دفع ٣٠٠٠

الثالث دفع ٥٠٠٠

وربحوا ٥٠٠٠٠

فكم حصة الأول والثالث معاً؟

ج / الأول $2000 = 20\%$

الثاني $3000 = 30\%$

الثالث $5000 = 50\%$

٥٠ ألف $\times 0.2 = 10$ آلاف

٥٠ ألف $\times 0.3 = 15$ آلاف

٥٠ ألف $\times 0.5 = 25$ آلاف

نجمع الاول والثالث $25000 + 10000 = 35000$ (الجواب ٣٥٠٠٠)



مجموعة أبو الجوهرة التعليمية

شارع طوله ١٠ كم ويحيطون فيه اعمدة اناره بحيث يكون بين كل عمود والآخر ٢٠٠ متر كم عمود اناره في الشارع



الحل

١٠٠٠ م كيلو

هو طالب ١٠ كيلو

١٠٠٠٠ م

$٥٠ = ٢٠٠ / ١٠٠٠٠$

لدى احمد تفاحتين و اراد ان يستبدل كل تفاحتين ب ثلاث برتقالات.

كم يصبح لديه برتقالات اذا اراد استبدال ١٠ تفاحات ؟



الحل

٢ تفاحتين ب ٣ برتقالات

١٠ تفاحات = ١٥ برتقالات

ضرب طرفين بوسطين

٢/٣٠

١٥

القدرة المعرفية

مجموعة: أبو الجوهرة



مجموعة أبو الجوهرة التعليمية

محمد صاحب مكتب عقارات وباع ارض بقيمة ٢٥٠٠٠٠٠ علما بان نصيبهم م كل عمليه بيع ٢,٥٪ من قيمة الصفقة فكم نصيب محمد من عمليه البيع؟!

٥٠٠٠٠-ا

٥٢٥٠٠-ب

٦٠٠٠٠-ج

٦٢٥٠٠-د ✓

الحل

٢٥٠٠٠٠٠ * ٢,٥

تقسيم ١٠٠

٦٢٥٠ ✓

القدرة المعرفية

مجموعة: أبو الجوهرة



مجموعة أبو الجوهرة التعليمية

٢١: محمد يمتلك وحدتين سكنية الأولى مأجره بمبلغ ٣٠ الف في السنة والثانية بمبلغ ٢٥ الف في السنة ، كم المبلغ الاجمالي بعد سنتين ونصف اذا افترضنا انه يأخذ الاجار كل ٦ اشهر ؟

ب- ١٣٧٠٠٠

أ- ١٣٦٥٠٠

د- ١٣٨٠٠٠

ج- ١٣٧٥٠٠

محمد يمتلك وحدتين سكنية الاولى مأجره بمبلغ ٣٠ الف في السنة والثانية ٢٥ الف في السنة كم المبلغ الإجمالي بعد سنتين ونصف اذا افترضنا انه يأخذ الاجار كل ست اشهر
!؟

ا- ١٣٧٠٠٠

ب- ١٣٨٠٠٠

ج- ١٣٦٥٠٠

د- ١٣٧٥٠٠ ✓

الحل

نحسب مجموع الاجار خلال سنه عشان نطلع منها السنتين والنصف

$٣٠ + ٢٥ = ٥٥$ الف حق سنه واحده

$٥٥ / ٢ = ٢٧٥٠٠$ حق نص سنه

$٥٥ * ٢ = ١١٠٠٠٠$ حق سنتين

نجمع الان

سنتين + نصف سنه

$١١٠٠٠٠ + ٢٧٥٠٠ = ١٣٧٥٠٠$ ريال

القدرة المعرفية

مجموعة: أبو الجوهرة



مجموعة أبو الجوهرة التعليمية



مصنع حاسب ينتج كل يومين ونصف ٢٠ جهاز فكم ينتج في ٣٠ يوم

٢٠٠

٢٤٠

٣٠٠

٣٥٠

٢,٥ ٢٠ جهاز

٣٠ كم جهاز ؟

ضرب طرفين بوسطين

٢٠ * ٣٠

تقسيم ٢,٥

٢٤٠

او حل اخر يومين ونص ويومين ونص = ٥ ايام

٣٠ تقسيم ٦=٥

في ٥ ايام يصنع ٤٠

٢٤٠ = ٦ * ٤٠

القدرة المعرفية

مجموعة: أبو الجوهرة



مجموعة أبو الجوهرة التعليمية

السؤال رقم 37

خمسين يوم كم فيها اسبوع ؟

- سبعة اسابيع فقط
- سبعة اسابيع ويوم واحد
- سبعة اسابيع ويومان
- سبعة اسابيع و ثلاثة ايام

كم أسبوع في ٥٠ يوم ؟

٧ اسابيع

٧ اسابيع ويوم

او سبع اسابيع ويومين

او سبع اسابيع وثلاث ايام

القدرة المعرفية



مجموعة: أبو الجوهرة ٧=٥٠/٧

الجواب = ٧ أسابيع.



مجموعة أبو الجوهرة التعليمية

#القدرة_المعرفية

#القدره_المعرفيه

فيه سؤال جا ..

مغسله تغسل السيارات الكبيره ب ٢٥

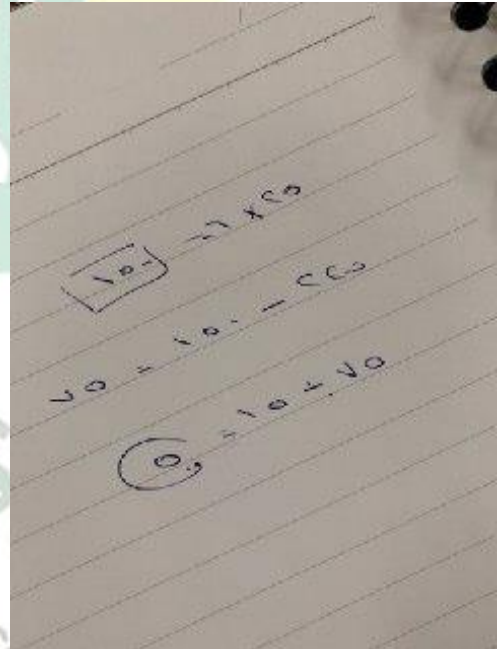
والصغيرة ب ١٥

غسلت المغسله في ذلك اليوم ٦ سيارات كبيره وكان

ربحها ٢٢٥

كم عدد السيارات الصغيره التي تم غسلها؟

الحل



القدرة المعرفية

مجموعة: أبو الجوهرة



مجموعة أبو الجوهرة التعليمية



إذا كان سعر المكالمة ٣٠ هللة للدقيقة وكلمت ١٥٠ دقيقة كم يكون المبلغ

٣٠ ريال

٤٠ ريال

٤٥ ريال ✓

طريقة الحل

نحلها بطريقة ذهنية بسيطة

دقيقة ١ = ٣٠ هللة

وهو يبغى ١٥٠ دقيقة.

إذا كانت دقيقة ١ = ٣٠ هللة

فإن ١٠٠ دقيقة = ٣٠٠٠ هللة

و ٥٠ دقيقة = ١٥٠٠ هللة

نجمع ١٠٠ + ٥٠ = ١٥٠ دقيقة

ونجمع ٣٠٠٠ + ١٥٠٠ = ٤٥٠٠ هللة

أحول ٤٥٠٠ هللة لريالات (بس أشيل صفرين)

تصير ٤٥ ريال

القدرة المعرفية

مجموعة: أبو الجوهرة



مجموعة أبو الجوهرة التعليمية

غرفة مساحتها ٨٤ م^٢ اذا سطل دهان واحد يكفي ٢ م^٢ فكم نحتاج سطل دهان!؟

٣-١

٤-ب

ج-٣,٥ ✓

د-٤,٥

الحل

الحل $3,5 = 24 / 84$

او بالتدرج المنتظم

سطل ٢٤

سطلين ٤٨

٣ سطل ٧٢

٣,٥ هنا الجواب لانه قريب ٨٤

٤ سطل ٩٦

س/ منزل أحمد هو الثالث من طرف الشارع، ومنزل خالد هو الخامس من الطرف الآخر، وبين منزل أحمد وخالد ستة منازل.

فكم مجموع المنازل؟

الحل/

١٤ = ٦ + ٥ + ٣

القدرة المعرفية

مجموعة: أبو الجوهرة



مجموعة أبو الجوهرة التعليمية



شمعتين طول كل وحده ٣٠ سم

مصنوعتين من مادتين مختلفتين الاولى تحترق ٣ مرات ع الثانيه
اذا الاولى احترقت النصف كم احترقت من الثانيه!؟

٥ ✓

١٥

١٠

٢٠

عندك شمعه طولها ٣٠ سم

احترق نصها يعني ١٥ سم

وهذي تحترق ٣ مرات اسرع

يعني ٣/١٥

=٥

احمد ساعته متاخره ٢٤ ع العلم الساعه الان ٩:٤٠ ص بعد ٣ ايام كم يتكون الساعه!؟

الوقت ماراح يتغير

الساعه ٩

لكن الدقيقه نطرحها

١٦=٢٤-٤٠

٩:١٦ ص ✓

القدرة المعرفية


مجموعة: أبو الجوهرة



مجموعة أبو الجوهرة التعليمية



الحل

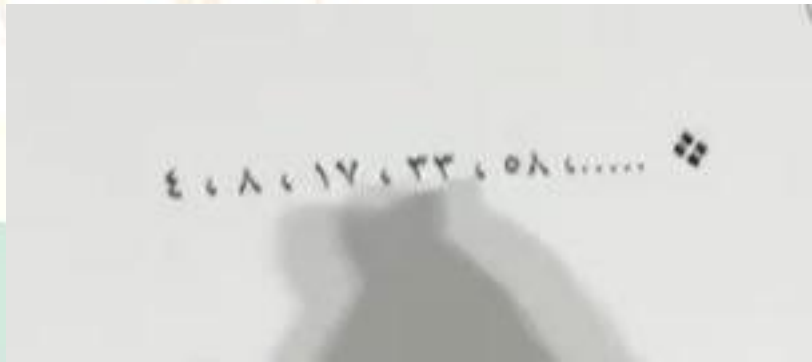


القدرة المعرفية

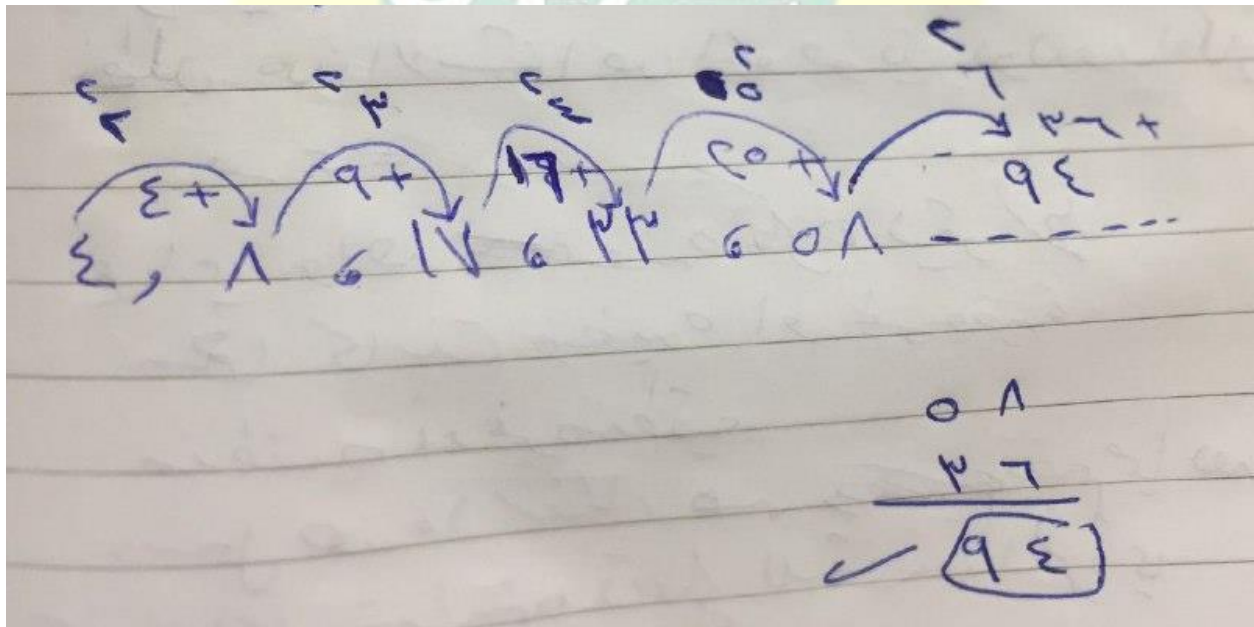
مجموعة: أبو الجوهرة



مجموعة أبو الجوهرة التعليمية



الحل





مجموعة أبو الجوهرة التعليمية



شخص صرف من راتبه الثلث، وتبقى ١٠٠٠ ريال، فكم مجموع الراتب ؟

(أ) ١٣٠٠

(ب) ١٥٠٠ ✓

(ج) ١٧٠٠

(د) ١٩٠٠

ثلث الراتب = صرفه

يعني بقى معه ثلثين = ١٠٠٠

يعني كل ثلث ب ٥٠٠ ريال

إذا ثلاثة اثلث = ٣ * ٥٠٠

= ١٥٠٠

٦- يجب أن تكون الأهداف الاستراتيجية لجهة العمل وقابلة ، لأجل تسهيل عملية

١- مثالية - للتطبيق - التنظيم

٢- محورية - للتحويل - الدعم

٣- مرنة - للتنفيذ- التخطيط

٤- واقعية - للقياس - الرقابة ✓

مجموعة: أبو الجوهرة



مجموعة أبو الجوهرة التعليمية



معاني الكلمات وضدها لعام ١٤٤٠هـ

ضد الجذب / الخصب

معنى الجذب / القحط

معنى وثام / وفاق

مرادف بالي / عتيق _ رث

ضد البالي / جديد _ قشيب

مرادف زحزح / هز

مرادف موائمة / موافقة

مرادف محض / خالص

القدرة المعرفية

مجموعة: أبو الجوهرة





مجموعة أبو الجوهرة التعليمية



مرادف رحب / واسع _ فسيح

ضد وصب / راحه

متسلسله

.....١،١،٢،٣،٥

الجواب / ٨ بعد رقم خمسه

يجمع كل عدد مع اللي قبله



متسلسله

.....٢،٤،١٣،٢٦،٣٥،٧٠

الجواب / ٢٩

معلمة لديها ٥١ لعبة، قسمتها بالتساوي بين طلابها ؛ فكم عدد الطلاب ؟

أ. ٥ طالب

ب. ٧ طالب

ج. ١٠ طالب

د. ١٧ طالب

القدرة المعرفية

الحل هو التجريب بالاختيارات

فعندما نجرب $١٧ \div ٣ = ٥١$



نخمن عدد نضربه في ١٧ ويكون الناتج ٥١
مجموعة: أبو الجوهرة



مجموعة أبو الجوهرة التعليمية



السعادة - النهاية ▲

الحزن - البداية

الفرح - الاستهلال

الضحك - الفناء

السؤال رقم ٥٧

يتعلم الحكيم من اخطاء و يتعلم غيره من اخطاء و من لا يتعلم من هذين الشئئين ان يتعلم

نفسه ، الحكيم ، محال

نفسه، نفسه، محال

غيره، الحكيم، صعب

غيره، نفسه، صعب ▲

السؤال رقم ٥٨

لا بسوء الحظ ، فلا يوجد من غير جهد ، فلا تتوهم أن سوء الحظ لك

تتمسك - انجاز - عذر

تتعلق - تقدم - مخرج

تتعلل - تفوق - عائق ▲

تعتذر - ارتقاء - معين

السؤال رقم ٥٩

مجموعة: أبو الجوهرة



مجموعة أبو الجوهرة التعليمية

يجب أن ينظر المدير إلى الإدارة كوحدة وألا تحجبه رؤية عن رؤية.....

متوازنة - الأصول - الفروع

متكاملة - الجزئيات - الكليات ▲

مستقلة - السلبيات - الايجابيات

موضوعية - النجاحات - الإخفاقات

السؤال رقم ٦٠

خير لك أن تكون سلحفاة في طريق خير من أن تكون غزال في طريق.....

الطريق الصحيح - الطريق الخطأ ▲

الطريق المستقيم - الطريق المنحني

الطريق واضح - الطريق المشوه

الطريق السريع - الطريق البطيء

السؤال رقم ٦١

أحيانا لابد ان يكون الثناء على الإنجازات التي تستحق لتشجيع أصحابها والحث على
بهم

سريا - المدح - الاقتداء

جماعيا- الثناء - الوثوق

علنيا - الإطراء - الاحتذاء ▲

فرديا - الملاحظة- الافتخار

القدرة المعرفية

مجموعة: أبو الجوهرة



مجموعة أبو الجوهرة التعليمية

السؤال رقم ٦٢

إذا كنت تؤمن بأن أمامك فحتماً ستجد دوماً من أكثر المواقف.....

مبادرات - تخوفاً - سهولة

امتيازات- مهرباً- انجازاً

نجاحات - تردد - رهبة

خيارات- مخرجاً -صعوبة

السؤال رقم ٦٣

من فوائد التنظيم ، ان الاعمال يتم توزيعها بشكل وعملي ، ويقلل من في الاختصاصات ويحدد العلاقات بين افراد المنظمة

انسائيي - الازدواجية

علمي - التعقيد

بسيط - التعدد

مدروس - التكديس

السؤال رقم ٦٤

قد يرى بعضهم التسامح لكن ثوق أن التسامح يحتاج قوة أكبر من.....

انكسار- الانتقام

محمدة - البطش

انتصار - الغضب

انهزام - الصفح

القدرة المعرفية

مجموعة: أبو الجوهرة

السؤال رقم ٦٥



مجموعة أبو الجوهرة التعليمية

الوقت هو الاحداث ثم وهو مصدر وهو حق متساوي بين.....



المتابعه - عدل - الجميع

المتلاحقة - متغير - الناس

المتوازيه - ثبات - المخلوقات

الجارية - توازن - البشر

السؤال رقم ٧٣

خالد عمره ١٥ سنة ومن شروط الحصول على بطاقة الاحوال أن يكون العمر ١٥ سنة ، ولديه أخ حاصل على بطاقة الاحوال.

اخو خالد الأكبر لديه بطاقة احوال

اخو خالد الأصغر ليس لديه بطاقة احوال

اخوة خالد لديهم بطاقة أحوال

اخوة خالد لايملكون بطاقة احوال

السؤال رقم ٧٤

محمد يملك مليون واخوه فراس يملك ربع المليون ، وطلال الاكبر منه يملك اكثر من فراس فأى العبارات التاليه صحيحه

يملك محمد اكثر من طلال وفراس

مجموع مايملكون مليون واكثر من نصف المليون

مجموع مايملكون أقل من مليون ونصف

مجموع مايملكون يساوي مليون ونصف

مجموعة: أبو الجوهرة



مجموعة أبو الجوهرة التعليمية

السؤال رقم ٧٥

اشترطت مدرسه لطلاب الابتدائي سن ست سنوات واستثنت من عمره خمس سنوات و٩ شهور وطلاب الروضة اعمارهم خمس سنوات وست شهور

طلاب الروضة يدخلون الابتدائي بدون شرط

استثنى من عمره خمس سنوات و ١٠ شهور دخول الابتدائي

ست سنين و ١٠ شهور يقبل بدون شروط

خمس سنوات وست شهور يقبل بدون شروط

السؤال رقم ٧٦

اليابان تقع شرق الفلبين والفلبين تقع شرق الصين و الصين تقع غرب الفلبين

اليابان غرب الكرة الارضية

اليابان شرق الصين

اليابان تقع في اقصى الغرب

اليابان تقع غرب الصين

أقلعت رحلة من الرياض في الساعة ٤ بتوقيت الرياض ووصلت ٦ بتوقيت لندن اذا علمت أن فرق الوقت بين الرياض ولندن ٣ ساعات كم تستغرق الرحلة ؟

ج/ ٥ ساعات

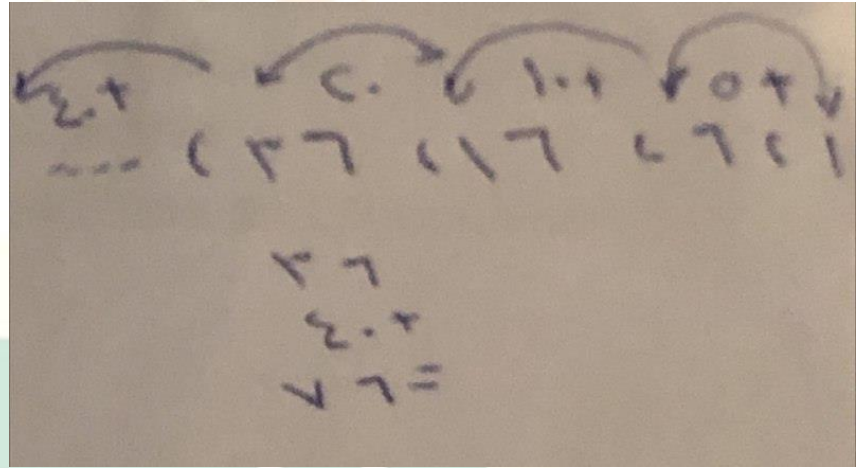
الدولار الامريكي اذا كان يساوي بالريال ٣,٧٥ وعندك ٢٠٠ دولار فكم تساوي بالريال؟

ج/ ٧٥٠ ريال

مجموعة: أبو الجوهرة



مجموعة أبو الجوهرة التعليمية



س٢٠ / ماعدد المناسب لإكمال هذه المتتابعة:

١، ٦، ١٦، ٣٦، س

(أ) ٤٦

(ب) ٦٠

(ج) ٧٦ ✓

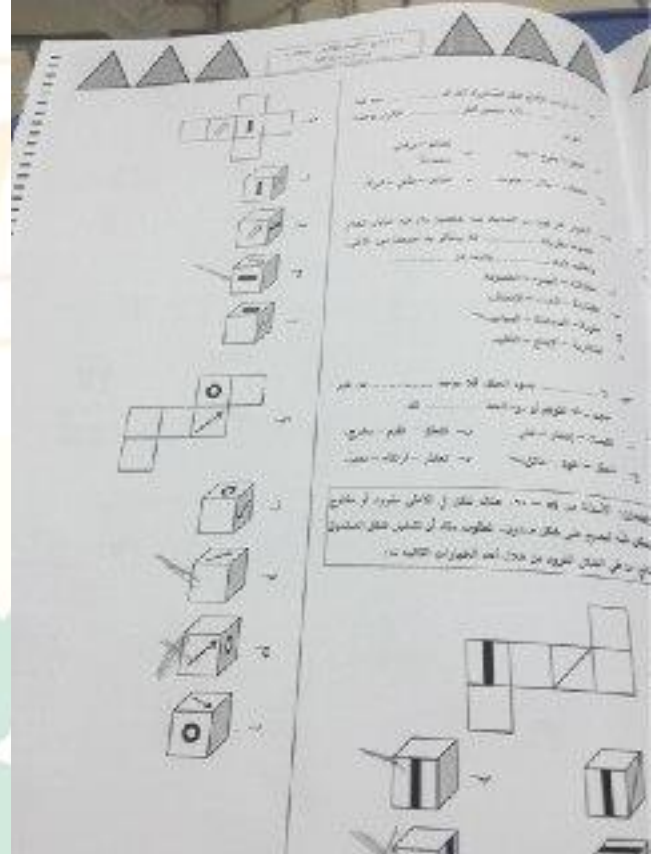
(د) ٨٠

القدرة المعرفية

مجموعة: أبو الجوهرة



مجموعة أبو الجوهرة التعليمية

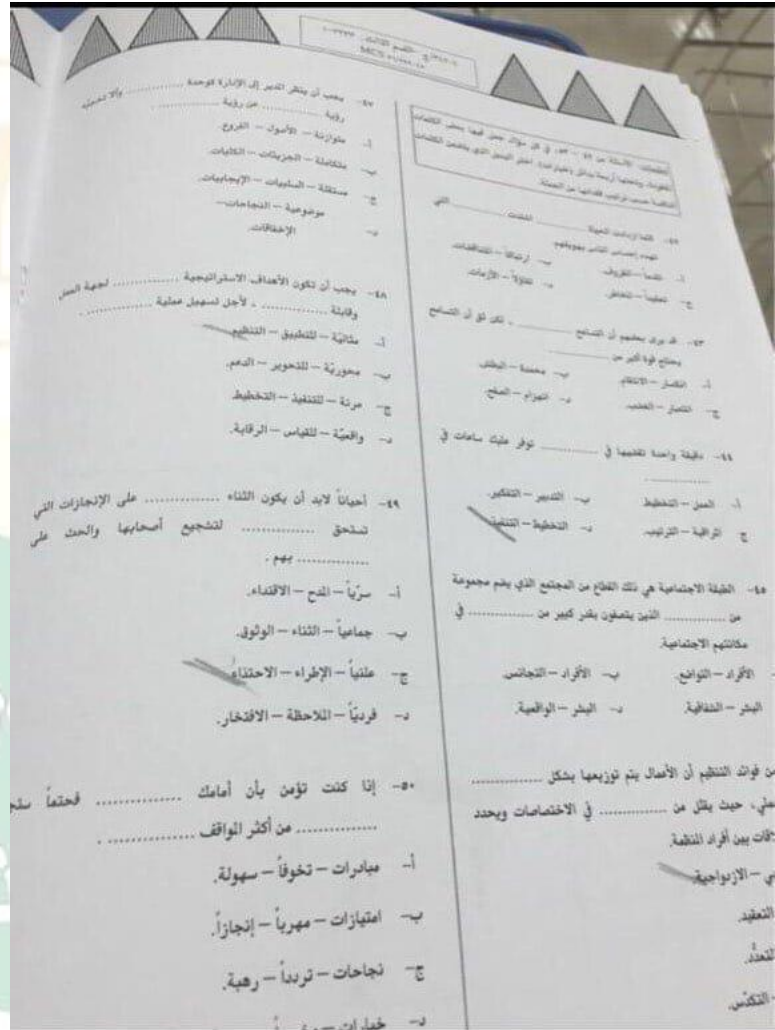


القدرة المعرفية

مجموعة: أبو الجوهرة



مجموعة أبو الجوهرة التعليمية

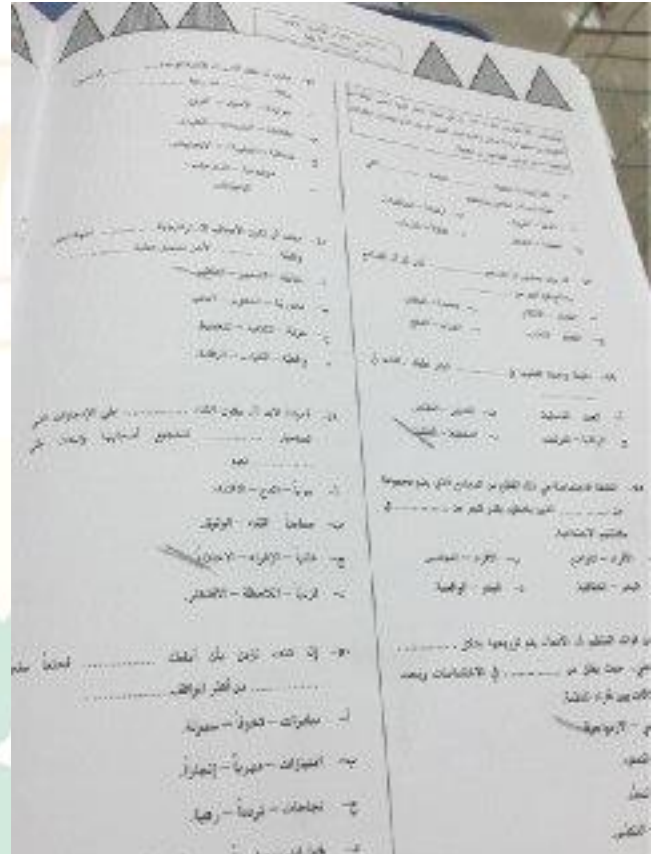


القدرة المعرفية

مجموعة: أبو الجوهرة



مجموعة أبو الجوهرة التعليمية

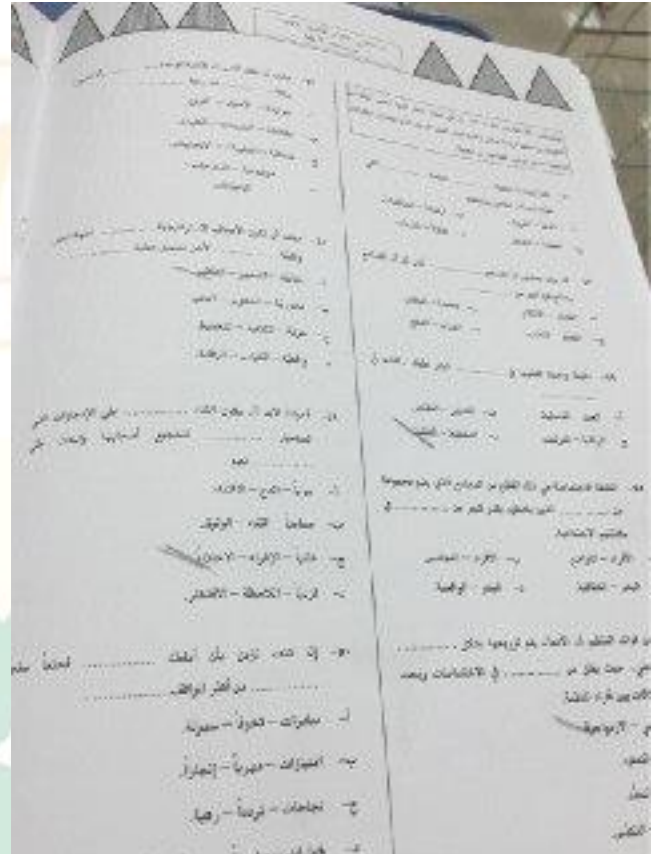


القدرة المعرفية

مجموعة: أبو الجوهرة



مجموعة أبو الجوهرة التعليمية




القدرة المعرفية

مجموعة: أبو الجوهرة



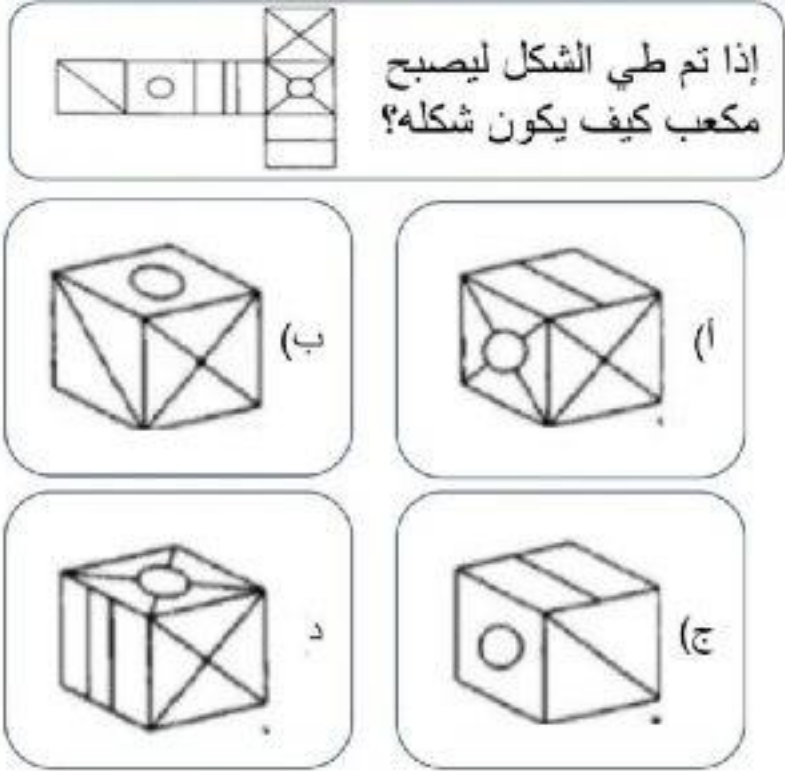
مجموعة أبو الجوهرة التعليمية



القدرة المعرفية

مجموعة: أبو الجوهرة

مجموعة أبو الجوهرة التعليمية



٢: محمد يملك مليون واخوه فراس يملك ربع المليون ،وظلال الاكبر منه يملك اكثر من فراس فأي العبارات التاليه صحيحة :

أ- يملك محمد اكثر من طلال وفراس

ب- مجموع مايملكون مليون واكثر من نصف المليون

ج- مجموع مايملكون أقل من مليون ونصف

د- مجموع مايملكون يساوي مليون ونصف



مجموعة أبو الجوهرة التعليمية

٥: من شروط التقديم على الماجستير تقدير جيد جدا وقياس لا يقل عن ٧٠٪.

احمد درجته في القياس ٧٠ وتقديره جيد جدا

أ- جميع من تم قبولهم مثل احمد وافضل

ب- أحمد اقل درجة من بين المتقدمين على الماجستير

ج- جميع الحاصلين على درجة قياس ٧٠ مقبولين في الماجستير

د- جميع الحاصلين على تقدير ممتاز مقبولين في الماجستير

(٢) ١، ١، ٢، ٣، ٥،

أ- ٦ ب- ٨

ج- ١٠ د- ١٢

سلاسل الأرقام

(١) ١٠، ١٥، ٢٥، ٣٠،

أ- ٣٥ ب- ٤٠

ج- ٤٥ د- ٥٠

القدرة المعرفية

مجموعة: أبو الجوهرة



مجموعة أبو الجوهرة التعليمية

(١٦) ١، ٤، ١٣، ٤٠،

ب- ١٣٢

أ- ١٢١

د- ١٤٢

ج- ١٤١

٣: يزيد طول فواز عن طول اخته فاطمه ٢٠ سم، اذا كان مجموع طولهما يساوي ٣١٠ سم . فكم طول فواز بالسنتيمتر ؟

ب- ١٥٥

أ- ١٤٥

د- ١٩٠

ج- ١٦٥

(١٠) ١،، ٧، ٢١، ٢٤، ٧٢

ب- ٤

أ- ٣

د- ٦

ج- ٥

القدرة المعرفية


مجموعة: أبو الجوهرة



مجموعة أبو الجوهرة التعليمية

جدول القبلي والبعدي مهم جاء في كل ايام اختبارات القدرة المعرفية

اضغط على الصورة لشرح



١٢ : اذا كانت شركة توزع ارباح سنويه بنسبة ١٢,٥ % من رأس المال فبعد كم سنه تتساوى الارباح مع رأس المال ؟

ب- بعد ٧ سنوات

أ- بعد ٦ سنوات

د- بعد ٩ سنوات

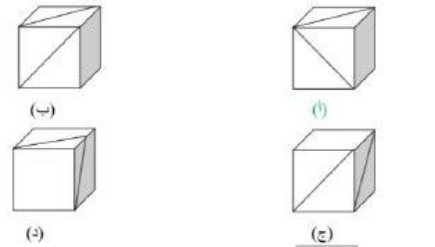
ج- بعد ٨ سنوات



القدرة المعرفية

مجموعة: أبو الجوهرة

مجموعة أبو الجوهرة التعليمية

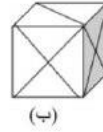
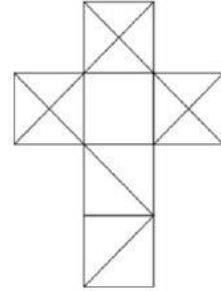


القدرة المعرفية

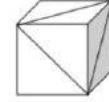
مجموعة: أبو الجوهرة




مجموعة أبو الجوهرة التعليمية



(أ)



(ب)



(ج)



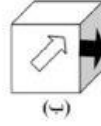
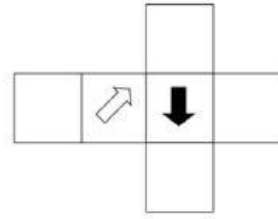
(د)

القدرة المعرفية

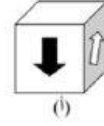
مجموعة: أبو الجوهرة



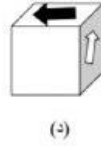
مجموعة أبو الجوهرة التعليمية



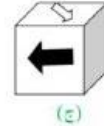
(a)



(b)



(c)



(d)



مجموعة أبو الجوهرة التعليمية

موظف اخترع طريقه تقلل من مصاريف الانتاج ريال واحد وكافئوه ب ١٠٠ الف ريال على اختراعه ، كم يحتاج المصنع يوم عشان يسدد هال ١٠٠ الف .. علما انه يبيع ١٠٠٠ سلعه يوميا ؟

الخيارات اللي اذكرها

١٠٠٠ ولا ١٠٠ ولا ٩٠

الحل

نطلع انتاجيته اليوميه كانت ١٠٠٠

عشان نطلع عدد الايام نقسم الكل على ١٠٠٠

اذا ١٠٠٠/١٠٠٠٠٠

تروح الاصفار مع بعض يبقى ١/١٠٠

اذا ١٠٠ يوم

شركة لا أحد يصير فيها مدير إلا بعد ١٥ سنة من الخبرة في الشركة، عمر توظف قبل مديره بستتين؛ لذا أي الخيارات التالية صحيحة ؟

(أ) عمر مؤهل أن يكون مدير

(ب) عمر يستحق راتب ١٥ الف

(ج) عمر يستحق راتب تقاعد

(د) عمر خبرته أكثر من ١٥ عام

مرادف محض = خالص
القدرة المعرفية

ضد هواده = عجله

مرادف يحييف = يميل

ضد بخس = نفيس

مجموعة: أبو الجوهرة



مجموعة أبو الجوهرة التعليمية

مرادف بخس = قتل او قليل او رخيص

مرادف راج = انتشر ✓

مرادف ارتياب = خوف او شك

ضد ارتاب = وثوق

ضد لمم = كبيرة ✓



س/ شاحنتان انطلقتا من مكان واحد وباتجاه واحد . الاولى سرعتها 100 كلم لكل ساعة والثانية سرعتها 80 كلم لكل ساعة .. كم المسافة بينهما بعد 4 ساعات؟

ج/ ٨٠ كلم

المال صديقك اذا و عدوك اذا.....

أ- ادخرته - ابليته

ب- اجمعته

ج- استخدمته - خدمته ✓

د- بعدته - قربته

القدرة المعرفية

مجموعة: أبو الجوهرة



مجموعة أبو الجوهرة التعليمية

خسر تاجر في السنة الاولى ربع رأس المال ، كم نسبة الربح اللازمه في السنة الثانية ليستعيد رأس ماله؟

أ- الربع

ب- الثلث

ج- النصف

د- الثلثين

نفترض إن معاي ٨٠ ريال وخسرت الربع يعني ٢٠ ريال

صار معاي ٦٠ ريال فقط ولازم أكسب ٢٠ ريال

ال ٢٠ كم تمثل بالنسبة لل ٦٠ ريال ؟

تمثل الثلث

س١٠ / زجاجة عصير وزنها ١٥٠٠ جرام، بعد إفراغها من نصف العصير ؛ أصبحت بوزن ٩٠٠ جرام ؛ فكم وزن الزجاجة من جرام ؟

أ) ٣٠٠

ب) ٤٠٠

ج) ٥٠٠

د) ٦٠٠

القدرة المعرفية

مجموعة: أبو الجوهرة



مجموعة أبو الجوهرة التعليمية

حركات الجسد مهمه في مقابله الترشيح ، علماً بأن اصحاب العمل يوظفون المؤهلون ..العلاقه بينهم ؟

نتيجة وسبب

اجمال بعد تفصيل

توضيح وتفسير

تفصيل بعد اجمال ✓

جميع حضور الحفل أطباء، وجميع الأطباء متزوجين..

أ. جميع الحضور متزوجين

ب. لا يوجد حاضر غير متزوج

ج. جميع الحضور أطباء

د. الأطباء متزوجين ✓

س : جميع الطلاب يتكلمون الفصحى

كل الذين يتكلمون الفصحى شعراء

والخيارات

جميع الشعراء يتكلمون الفصحى ✓

جميع الطلاب شعراء

جميع الشعراء طلاب

جميع الطلاب يتحدثون الفصحى

مجموعة: أبو الجوهرة





مجموعة أبو الجوهرة التعليمية

س٢٢ / يزيد طول فواز عن طول أخته فاطمة ٢٠ سم، إذا كان مجموع طولهما يساوي ٣١٠ سم، فكم طول فواز بالسنتيمتر ؟

(أ) ١٤٥

(ب) ١٥٥

(ج) ١٦٥ ✓

(د) ١٩٠

السؤال/

٣٠٠ صفحة بالكثير قصة قصيرة

٣٠١ صفحة عالأقل قصة

٥٠٠ صفحة عالأقل رواية

ال ٤٠٠ صفحة تعتبر:

أ- قصة قصيرة

ب- قصة ✓

ج- رواية

د- لا تصنف

القدرة المعرفية

مجموعة: أبو الجوهرة



مجموعة أبو الجوهرة التعليمية

يزيد طول فواز عن طول اخته فاطمه ٢٠سم، اذا كان مجموع طولهما
يساوي ٣١٠سم . فكم طول فواز بالسنتيمتر ؟

١٥٥

١٦٠

١٦٥

١٧٠

طريقة الحل

نطرح من مجموع طولهما ٢٠ لكي نحصل على مجموع الطول بالتساوي بينهم

$$٢٩٠ = ٣١٠ - ٢٠$$

بعدها نقسم ناتج حاصل الطرح على ٢ لكي نحصل على طول كل واحد منهم

$$١٤٥ = ٢ / ٢٩٠$$

اذا طول كل منهما ١٤٥ ، ونزيد ٢٠ على ١٤٥ لكي نحصل على طول فواز

$$١٦٥ = ٢٠ + ١٤٥$$

القدرة المعرفية

مجموعة: أبو الجوهرة



مجموعة أبو الجوهرة التعليمية



مامعنى (مامرادف) كلمة:

(البراض):

- الجراد

- القليل ✓

- البَرَد

- الاكل النيء

من هو (البخ)::

- الرجل الشريف ✓

- معلم الصبية القرآن

- العامل الأجير

- الطبيب

(هذا ماءً بجيس):

معنى بجيس:

- عذب

- متجمد

- سائل ✓

- نجس

القدرة المعرفية

مجموعة: أبو الجوهرة





مجموعة أبو الجوهرة التعليمية



ما هو ضد كلمة (مَقَّت):

- نقض

- بازك ✓ أو ابتهج

- ساوى

- قفز

ما معنى كلمة (إكعاء):

- مرضى

- جنباء ✓

- خبثاء

- أحياء

ماهو (الالتكاد):

- الازعاج

- التستر

- التبرج

- الملازمة ✓

ما مضاد كلمة (باخ):

القدرة المعرفية

مجموعة: أبو الجوهرة





مجموعة أبو الجوهرة التعليمية

رجع =

مرض =

ازدهر او انتعش

تريّث =



لو كانت ٨ أعمدة والمسافة بين كل عامود و عامود ٢٠ متر كم تكون المسافة؟

الحل :

٨ أعمدة - عامود واحد = ٧ أعمدة

٧ ضرب ٢٠ متر = ١٤٠ متر

لو جاء السؤال بالعكس

يقول مثلاً عندي ١٤٠ متر وبين كل عامود و عامود ٢٠ متر كم عدد الأعمدة؟؟؟؟

الحل:

١٤٠ تقسيم ٢٠ = ٧ أعمدة + عامود واحد = ٨ أعمدة

س :

١٤، ١٠، ٨، ١٨، ١٥، ٢٦

الاجابات

٢٣

٢٤

٢٢

١٦

القدرة المعرفية

مجموعة: أبو الجوهرة



مجموعة أبو الجوهرة التعليمية



#مرادف حلكه ؟

"إشْتَدَّتْ حُلْكَةُ اللَّيْلِ": اشْتَدَّتْ ظلمته

مرادف

#مرادف محض ؟

خالص

ولبِنٌ مَحْضٌ: خالِصٌ لم يخالطه ماءً،

#مرادف ريبة ؟

شك

[الرَّيْبَةُ]:[الشك، قال الله تعالى: {رَيْبَةً فِي قُلُوبِهِمْ}.

#ضد تأليب؟

تأليب الناس ، أي تحريض الناس

تأليب يعني تحريض وضدها تهدئه

#ضد أفل ؟ **ظهر**

أَفَلَ النَّجْمُ: غاب واستتر {فَلَمَّا أَفَلَ قَالَ لَا أُحِبُّ الْأَفْلِينَ}

افل يعني غاب وضدها ظهر

#ضد وصب ؟

"وَصَبَّ الْجِسْمُ": تَعَبُهُ، فُتُوْرُهُ. وصب يعني تعب شديد

وضدها راحه

القدرة المعرفية



مجموعة: أبو الجوهرة



مجموعة أبو الجوهرة التعليمية



#دمائة < لطافة أو جزالة

#إملاق < افتقار أو حرمان

#النظير < المساوي والمثيل

#السحت < الفحج

#استعداد < تجهز أو تاهب

دقيقة واحدة تقضيها في توفر عليك ساعات في



أ- العمل - التخطيط

ب- التدبير - التفكير

ج- المراقبة- الترتيب

د- التخطيط- التنفيذ ✓

اهداف الرقابة :

تطوير الاداء الوظيفي

مراقبة سلوكيات الموظفين ✓

س٣٥ / إذا أردت الإقناع فبين لمحاورك أنك قد ، معه فيما ، لأنه سيصبح أكثر للإقرار بوجهة نظرك

القدرة المعرفية



مجموعة: أبو الجوهرة

أ) تتفق - يطرح - ميلاً ✓

ب) تتناغم - يرفض- استعداداً

ج) تختلف - يذكر- جنوحاً



مجموعة أبو الجوهرة التعليمية

د) تتباين - يدعي - قبولا



س٣٦/ دقيقة واحدة تقضيها في توفر عليك ساعات في

- أ) العمل - التخطيط
- ب) التدبير - التفكير
- ج) المراقبة- الترتيب
- د) التخطيط- التنفيذ

القدرة المعرفية

مجموعة: أبو الجوهرة



مجموعة أبو الجوهرة التعليمية

٧: خير لك أن تكون سلحفاة في طريق خير من أن تكون غزال في طريق

أ- طريق الصحيح - طريق الخطأ

٨: أحيانا لابد ان يكون الشاء على الإجازات التي تستحق لتشجيع أصحابها والحث على

أ- سرىا - المدح - الاقتداء
ب- جماعيا- الشاء - الوثوق
ج- علنيا - الإطراء - الاحتذاء
د- فرديا - الملاحظة- الافتخار

من اختبار تجميعات ١٤٤٠

٩: إذا كنت تؤمن بأن أمامك فحتماً ستجد دوما من أكثر المواقف

أ- مبادرات - تخوفا - سهولة
ب- امتيازات- مهريا- انجازا
ج- نجاحات - تردد - رهبة
د- خيارات- مخرجا -صعوبة

١: من فوائد التنظيم ، ان الاعمال يتم توزيعها بشكل وعملي ، ويقلل من

أ- انسابي - الازدواجية
ب- علمي - التعقيد
ج- بسيط - التعدد

س: خزان ماء سعته ٧٢ م مكعب اس ٣ اذا كان محمد خزان سيارته يسعى ١٨ م مكعب اس ٣ ومحمد يعيبه ب ٩٠ ريال كم يعيب الخزان

الحل/

هنا اقسم ٧٢ على ١٨ = ٤

بعدها اضرب ٤ في ٩٠ = ٣٦٠

مجموعة: أبو الجوهرة



مجموعة أبو الجوهرة التعليمية

❖ طابعتين واربع شاشات
إذا سعر الطابعة نصف سعر الشاشة
والمبلغ كله ٤٠٠٠١
كم سعر الطابعة
الجواب ٤٠٠

طريقة الحل

هي تكون سعر الطابعة نص سعر الشاشة

يعني الثنتين يساويون سعر شاشة وحدة

يعني ٤٠٠٠ تقسمونها على ٥ يطلع ٨٠٠

واذن الطابعتين بسعر ٨٠٠

والوحده بـ ٤٠٠

س: اختبار خالد بعد اسبوعين واستمر اسبوعين واختبار محمد قبله باسبوع واختبار فيصل بعده باسبوع السؤال هنا كم عددا لاسبوع يخلصون اختبارهم ؟

الخيار

٣ أسابيع ✓

٤ اسابيع

٦ اسابيع

٥ أسابيع

القدرة المعرفية

مجموعة: أبو الجوهرة



مجموعة أبو الجوهرة التعليمية



٤٣- ٦٠ الى ٠ اللتر بريال

ومن ٦٠ الى ٩٠ لتر بأربعة ريال

واستهلك ٧٢ لتر

فكم نحتاج لتسديد فاتورة الماء؟

الإجابة: ١٠٨

الحل

$$٦٠ = ١ * ٦٠$$

$$= ٦٠ - ٧٢$$

$$١٢$$

$$٤٨ = ٤ * ١٢$$

$$= ٦٠ + ٤٨$$

$$١٠٨ \text{ نحتاج } \checkmark$$

القدرة المعرفية

مجموعة: أبو الجوهرة



مجموعة أبو الجوهرة التعليمية



س: عدد السيارات الحمراء ١٠

ومجموع السيارات ٤٠

البيضا ٢٤

السودا ٦

كم نسبة الحمراء الى مجموع السيارات

٤٠ %

٢٥ % ✓

٣ %

٦٠ %

الحل

اجمالي السيارات ٤٠

اذن $10/40 * 100 = 25\%$

٢٥% =

الحقائب تصنع من الجلد والمواد البلاستيكية

المواد البلاستيكية مواد بترولية و الجلد يؤخذ من جلود الحيوانات

جميع الحقائب من الجلد

جميع الحقائب من البلاستيك

الحقائب من المواد البترليه

الحقائب مصنوعة من المواد البترولية و الجلد ✓

القدرة المعرفية

مجموعة: أبو الجوهرة



مجموعة أبو الجوهرة التعليمية

راتب مؤيد أكثر من راتب يزيد وراتب فراس يقل عن راتب يزيد

راتب مؤيد أكبر من راتب فراس

راتب فراس أكثر من راتب يزيد

س: يستحق الموظف الجديد اجازة بعد ٦ اشهر من تعيينه وعدد اجازة الموظفين ٣٦ يوم

الموظف الجديد لا يأخذ اجازة

الموظف الجديد يأخذ اجازة من بداية (العام)

الموظف القديم يحصل ع اجازة في اي وقت

يستحق الموظف اجازة اكثر من ٣٦ يوم

س: من يعتقد اني فليتهم اني

أسأت اليه. اعتذرت اليه

س: لديه ٣ اشروطه وكل شريط فيه ١٢ مكعب

وهو يحتاج مكعب ونص عشان يولع حطب كامل!

عاد كم مره يولع بالشريط هذا !؟

الحل

$$٣٦=٣*١٢$$

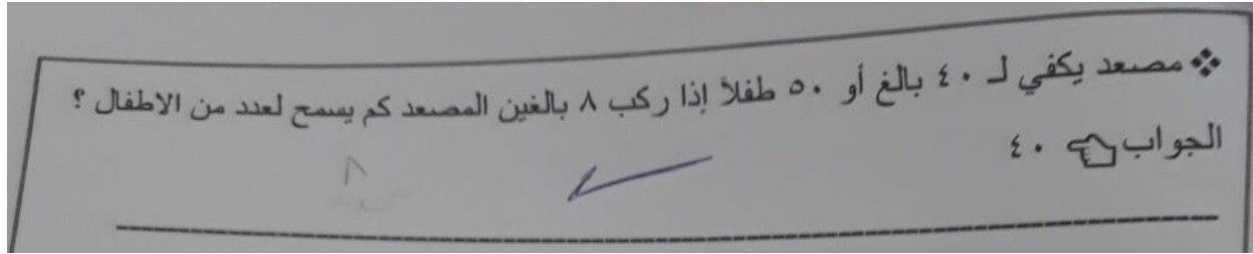
$$٢٤=٣٦/١,٥$$

القدرة المعرفية

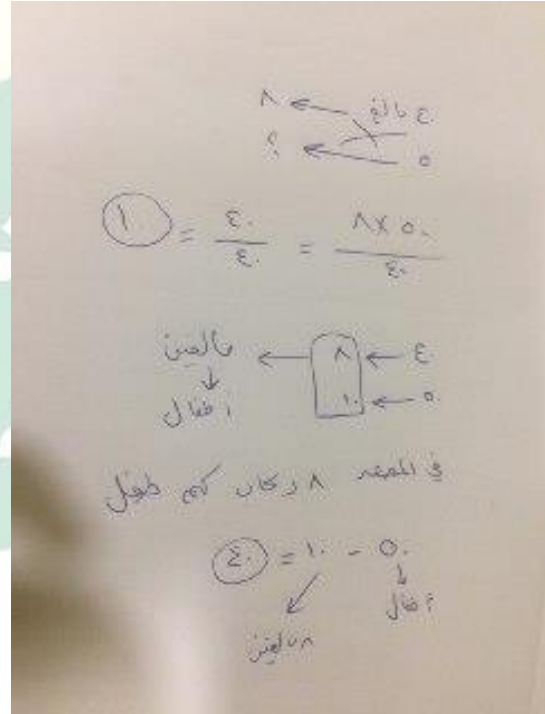
مجموعة: أبو الجوهرة



مجموعة أبو الجوهرة التعليمية



طريقة الحل



القدرة المعرفية

مجموعة: أبو الجوهرة



مجموعة أبو الجوهرة التعليمية

❖ الدولار الأمريكي اذا كان يساوي بالريال ٣,٧٥ وعندك ٢٠٠ دولار كم تطلع بالريال
الجواب ٧٥٠

طريقة الحل

$$٧٥٠ = ٢٠٠ * ٣,٧٥$$

س: اله تشتغل ٦ ساعات ولكل ساعه تطبع ٣٠٠ كم تطبع في اليومين!؟

الحل

$$٣٦٠٠ = ٣٠٠ * ١٢$$

القدرة المعرفية

مجموعة: أبو الجوهرة



مجموعة أبو الجوهرة التعليمية

حفظ إلغاء

أدخل عنوانا

بطولة شارك فيها فريق أ ، ب ، ج ، د
لعبت جميع الفرق 3 مباريات
الفريق ج فاز مبارتين ، الفريق ب تعادل في
جميع مبارياته ؟

الفريق (أ) اخر الترتيب

الفريق (ب) فاز بالبطولة

الفريق (ج) لم يخسر في البطولة ✓

الفريق (د)

س: برج المملكة أطول من برج الفيصلية و برج العنود أطول من برج العنود أقصر من برج الكهرباء

برج المملكة أطول البروج ✓

برج العنود أقصر البروج

برج الكهرباء أطول من برج الفيصلية اعتقد مو اكيد الخيار الرابع نسيته

س: احدى الدول بتفتح مدرسه خاصه ومن النظام كل طفل لازم له مساحه ١,٥ . اذا الفصول ٣٠ ومساحه كل فصل ١٠ كم
طفل يكفي للمدرسه ؟

تضرب $10 \times 30 = 300$ المساحه

وتقسم ٣٠٠ على ١,٥ يطلع ٢٠٠ مجموعة: أبو الجوهرة



مجموعة أبو الجوهرة التعليمية

محلول في وعائين متساويين الوعاء الاول يخلص بعد دقيقتين والثاني بعد ٤ دقائق

بعد مرور اربع دقائق كم بقي من المحلول

٢/١ ٣/١

٦/١ ٤/١

✓ ٢/١

❖ اقلعت رحله من الرياض في الساعة ٤ بتوقيت الرياض ووصلت ٦ بتوقيت لندن اذا علمت ان فرق الوقت بين الرياض ولندن ٣ ساعات كم تستغرق الرحلة
الجواب ٥ ساعات

س: جهاز كان ب ٦٠٠٠ صار عليه تخفيض ١٠ %
وبعد السعر الجديد صار عليه تخفيض ٢٠ % كم سعر الجهاز حالياً ؟

الحل :

الجواب : تخصم الـ ٢٠% من ٦٠٠٠ يكون السعر ٤٨٠٠

بعدها تخصم ١٠% من الـ ٤٨٠٠

الجواب ٤٣٢٠ ريال ✓

القدرة المعرفية

مجموعة: أبو الجوهرة



مجموعة أبو الجوهرة التعليمية

إذا كان نصف مايملكه محمد ٣٠٠٠ فكم يساوي ربع ثلث مايملكه محمد؟!

٢٥٠-ا

٧٥٠-ب

ج-٥٠٠ ✓

١٠٠-د

الحل

إذا كان نصف مايملك ٣٠٠٠

فكل مايملك ٦٠٠٠

نحسب الثلث ومن ثم الربع

$$٢٠٠٠ = \frac{٣}{٦٠٠٠}$$

$$= \frac{٤}{٢٠٠٠}$$

٥٠٠ ✓

س/ وصف طيبب اقراص لاحمد حبتين صباحا و حبة مساء والعلبة فيها ٣٠ حبة فقد منها ٣ حبات كم يوم تكفي العلبة؟

الحل:

$$٢٧ = ٣ - ٣٠$$

يستخدم ٣ حبات باليوم يعني $٣/٢٧ = ٩$ ايام ✓

س/ مع احمد 70 ريال يزيد عن مثلي ما مع خالد ب30 ريال كم مع خالد

الحل:

$$٤٠ = ٣٠ - ٧٠$$

٢٠ = ٢/٤٠ ✓

المعرفية



أبو الجوهرة



مجموعة أبو الجوهرة التعليمية

س٥٢: ثلاثة اصدقاء يذهبون الى الحديقة بشكل دوري:

الاول يذهب مرة كل ٤ أيام

الثاني يذهب مرة كل ٦ أيام

الثالث يذهب مرة كل ١٦ يوم

في أي يوم سيلتقي الثلاثة بالحديقة ؟

أ- ٢٤

ب- ٢٦

ج- ٤٨

د- ٦٤

طريقة الحل

٢×٢

٣×٢

٨×٢

العامل المشترك ٢

٤٨=٨×٣×٢

س: كاليفورنيا هي الولاية التي يعيش معظم سكانها في المدن الحضارية ؟

الحل أ _ كاليفورنيا هي الولاية التي يعيش جزء بسيط من سكانها في المناطق الزراعية

س2 : اذا كان ربح احدى الشركات 12,5% من رأس المال وكانت الارباح توزع سنويا ، فبعد كم سنة يكون مجموع الارباح مساويا لرأس المال

أ- 6

ب- 7

ج- 8

د- 9

12.5 / 100 = 8 سنوات

الجواب : ج

المعرفية

أبو الجوهرة

مجموعة أبو الجوهرة التعليمية

س: كتاب ١٢٠ صفحة قرأ منه نصفه وبعدين قرأ الثلثين كم باقي صفحه من الكتاب لم يقرأه؟

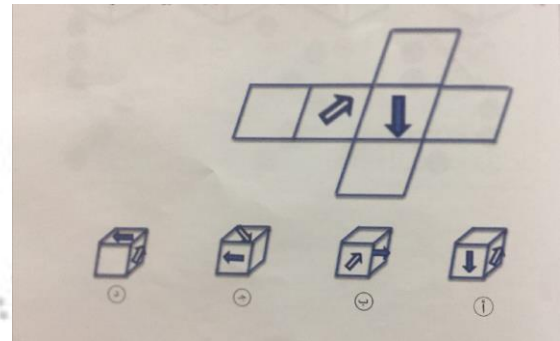
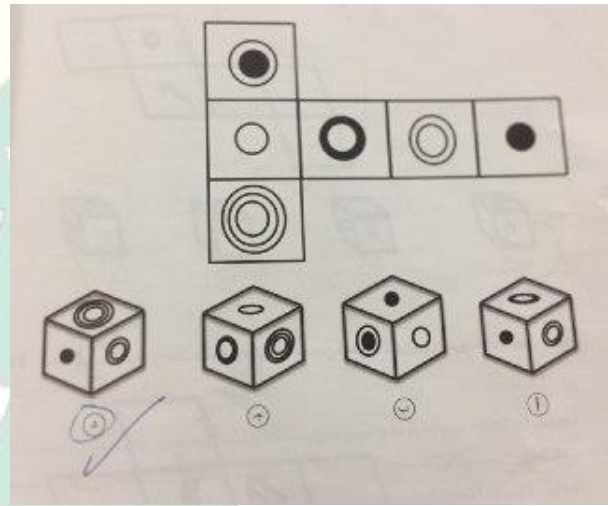
الحل:

اول شيء نجيب النصف ١٢٠ نصفها = ٦٠ صفحة

الان نوجد الثلثين منها. ،

٦٠ قسمة ٣ = ٢٠ ضرب ٢ = ٤٠ صفحه

الاجابة بتكون ٢٠ صفحه باقية عليه لم يقرأها



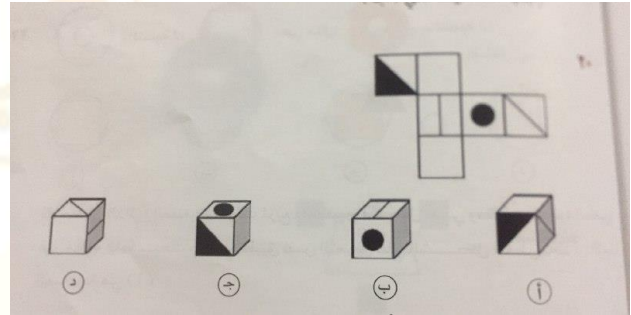
المعرفية

أبو الجوهرة



مجموعة أبو الجوهرة التعليمية

الجواب : (ج) ✓



الجواب : (أ) ✓

سؤال: نسبة الطلاب الناجحين ٩٠٪

وعدد الرسوب ٧٥ طالب

كم عدد الطلاب الناجحين؟

الحل

$$٧٥ * ٩٠$$

تقسيم ١٠

٦٧٥ ✓

القدرة المعرفية

س: اذا تكلمت فانك قد المحاور ولاكن لا تستطيع برأيك



مجموعة: أبو الجوهرة

بانفعال، تسكت، إقناعه ✓



مجموعة أبو الجوهرة التعليمية



س: اقلعت رحله من الرياض في الساعة ٤ بتوقيت الرياض ووصلت ٦ بتوقيت لندن إذا علمت أن فرق الوقت بين الرياض ولندن ٣ ساعات كم تستغرق الرحلة

-٨ ساعات

-ساعتين

-٥ ساعات ✓

-ساعة ونص

طريقة الحل:

إذا كانت الساعة ٤ بالرياض والفارق بين المدينتين تكون الساعة ١ في لندن

وهي وصلت لندن الساعة ٦

* فيكون عدد ساعات الرحلة ٥ ساعات

القدرة المعرفية

مجموعة: أبو الجوهرة



مجموعة أبو الجوهرة التعليمية

عد الإدارة من أهم النشاطات الإنسانية التي تمارس داخل المجتمعات، حيث لها تأثير كبير على نواحي الحياة المختلفة نظراً لارتباطها المباشر بالشؤون الاقتصادية، والقضايا الاجتماعية، والسياسية، فالإدارة هي الجهة المسؤولة التي تعمل على جمع الموارد الاقتصادية وتوظيفها من أجل إشباع حاجات الفرد والجماعات في هذه المجتمعات، حيث تتطور المجتمعات وتتقدم بالاعتماد على الإدارة، ولهذا تعتمد الدول عليها من أجل توفير الرخاء لمواطنيها، وتعتبر الإدارة الناجحة أساس نجاح منظومة المجتمع وتطورها. تعريف الإدارة تعرف الإدارة بأنها عملية تحقيق الأهداف الموضوعية من خلال استغلال الموارد والعناصر المتاحة، حسب منهج مُحدد، وضمن بيئة محددة، كما تعرف بأنها عملية التخطيط والتنظيم، والرقابة، والتنسيق، والتوجيه المطبقة على الموارد المالية والبشرية، من أجل تحقيق أفضل النتائج، بأقل التكاليف، وأفضل الطرق وأقصرها، والإدارة هي فرع من فروع العلوم الاجتماعية. أنواع الإدارة العامة: تتميز بأنها تعمل خلال الظروف الاحتكارية بعدد كبير من الموظفين، حيث تقدم خدمات عامة ضخمة لا تكون غايتها الربح، وإنما تقدم الخدمات الواجبة والضرورية لأفراد المجتمع، وتلتزم بمساواة المواطنين أمام هذه الخدمات دون تمييز. إدارة الأعمال: تتميز عن الإدارة العامة بروح التنافس الحادة، حيث إنّ الهدف الرئيسي لإدارة الأعمال تحقيق أقصى ربح مادي ممكن من خلال إدارة المشاريع الخاصة، إلا أنها مشاريع أصغر من مشاريع الإدارة العامة، كما أنّ عدد موظفيها أقل من موظفي الإدارة العامة. مستويات الإدارة العامة: تتمثل في المدير العام أو رئيس مجلس الإدارة. الإدارة الوسطى: تتمثل بمدراء الأقسام. الإدارة التنفيذية: تعرف أيضاً بالإدارة التشغيلية والتي تتمثل بالمشرفين بشكل مباشر على تنفيذ الأعمال، وتطبيق السياسات على أرض الواقع.

س: تعرف الإدارة بأنها:

أ- متنوعة

ب- متخصصة

ج- مهنية

د- شاملة ✓

س: الإدارة فن عندما تتعامل مع:

أ- الآلات

ب- الأفراد ✓

ج- الانظمة والقوانين

د- الأرقام و الاحصائيات

القدرة المعرفية

مجموعة: أبو الجوهرة



مجموعة أبو الجوهرة التعليمية

س : الفرق بين الادارة العليا والادارة الوسطى:

- أ-الادارة الوسطى ترفض المقترحات لانها لا تتماثل مع رأيها
- ب- الادارة الوسطى لا تتوافق مع السلطة التشريعية العليا
- ج- الادارة العليا تختص بعملية ترجمة الاهداف والسياسات العامة المحددة
- د- تمثل الادارة العليا القاعدة الاساسية للمتخصصين والخبراء في كل المشاريع

س: توجه الادارة التقليدية الى:

- أ- التعامل عن بعد
 - ب- التعامل الالكتروني
 - ج-التعامل عن طريق وسيط
 - د-التعامل المباشر
- اهداف الرقابة:
- أ-مراقبة سلوكيات الموظفين
 - ب- تطوير الاداء الوظيفي
 - ج- متابعة الاداء الوظيفي
 - د- معاقبة الموظفين الغير منضبطين

القدرة المعرفية

مجموعة: أبو الجوهرة



مجموعة أبو الجوهرة التعليمية



س: , ٢٠....., ٢٢, ١٧, ١٩

٢٢ - ٢٣ - ٢٤ - ٢٥ ✓

الحل ٢٥

الجواب : ٢٥

١٩ نقص ٢ صار ١٧

ثم زاد ٥ صار ٢٢

ثم نقص ٢ صار ٢٠

ثم زاد ٥ صار ٢٥

مره نقص ٢

ومره نزيد ٥

س: , ٣٠....., ٢٥, ١٥, ١٠

٣٥

٤٠ ✓

٤٥

٥٠

الحل ٤٠

مره نزود ٥

ومره نزود ١٠

القدرة المعرفية

مجموعة: أبو الجوهرة



مجموعة أبو الجوهرة التعليمية



س: ١, ١, ٢, ٣, ٥.....

٦

٨

١٠

١٢

الحل ٨

٨ نجمع الحد الاول مع الثانية والثانية مع الثالثة والثالث مع الرابع

$$٢ = ١ + ١$$

$$٥ = ٣ + ٢$$

$$٨ = ٥ + ٣$$

س: ...، ٩٩، ٨٨، ٧٧

١٠٨

١٠٩

١١٠

١١١

تحليل الإجابة

العلاقة ثابتة

١١+ في كل مره

القدرة المعرفية

مجموعة: أبو الجوهرة



مجموعة أبو الجوهرة التعليمية



١, ١, ٢, ٦, ..., ١٢٠

✓ ٢٤

٢٠

١٦

١٢

الحل ٢٤

العلاقة ضرب

نضرب الخانة الاولى في ١

والثاني في ٢

والثالث في ٣

والرابعه في ٤

$$٢ = ١ + ١$$

$$٦ = ٣ * ٢$$

$$٢٤ = ٤ * ٦$$

$$١٢٠ = ٥ * ٢٤$$

القدرة المعرفية

مجموعة: أبو الجوهرة



مجموعة أبو الجوهرة التعليمية



س: , ٩, ١٦, ٢٥, ٣٦.....

٤٦

٤٧

٤٨

٤٩

تحليل الإجابة

العلاقة أسيه بالأس

٣ اس ٢

٤ اس ٢

٥ اس ٢

٦ اس ٢

٧ اس ٢

س: .., ١٠٠, ٤٠٠, ١٢٠٠, ٢٤٠٠

١٠

٢٠

٤٠

٦٠

الحل

القدرة المعرفية

مجموعة أبو الجوهرة التعليمية

$$\begin{aligned} 100 &= 1 \div 100 \\ 400 &= 2 \div 100 \\ 1000 &= 4 \div 100 \\ 4000 &= 8 \div 100 \end{aligned}$$



مجموعة أبو الجوهرة التعليمية



2 = 2400 ، 1200 ، 400 ، 100 ، ...
5 = 2400 ، 1200 ، 400 ، 100 ، ...
9 = 2400 ، 1200 ، 400 ، 100 ، ...
20 = 2400 ، 1200 ، 400 ، 100 ، ...

10
20
40
60

س: ... ٢٥ ١٦ ٩ ٤ ١

٣٤

٣٥

٣٦

٣٧

تحليل الإجابة

بالاس

١*١=١

٤=٢*٢

٩=٣*٣

١٦=٤*٤

٢٥=٥*٥

٣٦=٦*٦

القدرة المعرفية

مجموعة: أبو الجوهرة



مجموعة أبو الجوهرة التعليمية



س:، ٣، ٤، ٦، ٩، ١٣

٠

١

٢

٣

تحليل الإجابة:

العلاقة

$$٩ - ٤ = ١٣$$

$$٦ - ٣ = ٩$$

$$٤ - ٢ = ٦$$

$$٣ = ١ - ٤$$

$$٣ = ١ - ٣$$

س٤٠ / الصف الأول يوجد فيه ١٢ مقعد، والصف الثاني يزيد عن الأول عن كل ٤ مقاعد مقعد؛ فكم عدد مقاعد الصف الثاني؟

(أ) ١٢

(ب) ١٣

(ج) ١٤

(د) ١٥

القدرة المعرفية

مجموعة: أبو الجوهرة



مجموعة أبو الجوهرة التعليمية



س: نسبة الناجحين ٩٠٪ ونسبة الراسبين ١٠٪ إذا علمت أن عدد الراسبين ٧٥ فكم عدد الناجحين؟

الحل:

$$٧٥ = ١٠\%$$

نجمعها الين نوصل ٩٠%

$$٧٥ + ٧٥ + ٧٥ + ٧٥ + ٧٥ + ٧٥ + ٧٥ + ٧٥ + ٧٥$$

$$٩ \times ٧٥$$

الناتج هو ٦٧٥

س ١٩ / آلة تعمل يومياً ساعتين ونصف الساعة، إذا كان عمرها الافتراضي ٢٥٠٠ ساعة ؛ فكم يوماً وتنتهي هذه الآلة؟

(أ) ٢٠٠

(ب) ٥٠٠

(ج) ٧٥٠

(د) ١٠٠٠

س ٢٠ / ما عدد المناسب لإكمال هذه المتتابعة:

١، ٦، ١٦، ٣٦، س

القدرة المعرفية

(أ) ٤٦

(ب) ٦٠

(ج) ٧٦

(د) ٨٠

مجموعة: أبو الجوهرة



مجموعة أبو الجوهرة التعليمية

١٩: الصف الاول يوجد فيه ١٢ مقعد والصف الثاني يزيد عن الاول عن كل ٤ مقاعد مقعد فكم عدد مقاعد الصف الثاني ؟

ب- ١٣

أ- ١٢

د- ١٥

ج- ١٤

١٦: مبنى مدرسي يحتوي على ٢٦ قاعة و ٢٠ فصل للطلاب و ثلاث قاعات للإداريين و قاعتين للمعلمين و قاعة واحدة للحاسب الآلي

أ- الحاسب الآلي لا توجد له قاعة

ب- مساحه الفصول كبيرة تتسع للطلاب

ج- توجد قاعة فارغة

د- فصول الطلاب كثيرة

١٧: ابراهيم وعادل و عماد و خالد ، عماد توام خالد ، ابراهيم اكبر الاشقاء ، خالد أصغرهم ، عادل أصغر من محمد و أكبر من خالد ، وفهد اصغر خالد ، من الأصغر؟

ب- عادل

أ- خالد

د- عماد

ج- فهد



مجموعة أبو الجوهرة التعليمية



#####

•سمكة لاتعيش الا في البحر الاحمر، وقام خالد برحلة الى البحر الاحمر لإصطياد السمك

1- رحلته كانت في البحر الاحمر

2- يصيد هذا النوع النادر من الاسماك

3- خالد يسكن في جده

4- رحلة غوص لاستكشاف البحر الاحمر

س٤٣/ ماهو ضد كلمة مقت ؟

(أ) حنين

(ب) كره

(ج) حب

(د) مجد

القدرة المعرفية

مجموعة: أبو الجوهرة



مجموعة أبو الجوهرة التعليمية



س: محمد يعمل في شركة عقارات راتبه ٦٠٠٠ ريال
ويأخذ عموله ٠,٠٠٨ ع كل صفقة وباع لشخص ارض بقيمة ٢١٠٠٠٠ كم مجموع دخله في هذا الشهر!؟

٧٠٠٠-ا

٧٦٨٠-ب ✓

٧٨٠٠-ج

٧٨٨٠-د

الحل

$$١٦٨٠ = ١٠٠٠ / ٨ * ٢١٠٠٠٠$$

$$٧٦٨٠ = ١٦٨٠ + ٦٠٠٠$$

س: مرادف حلكة / ظلمة

مرادف توخى / يتجرى

ضد بالي / جديد

ضد كظم / اظهر

س: نفق طوله ٣٠٠ وقطار طوله ٢٠٠ اذا دخل مقدمه القطار نصف النفق كم عربه تبقى خارج النفق

الجواب يدخل ١٥٠ ويصير الباقي خارج ٥٠
مجموعة: أبو الجوهرة



مجموعة أبو الجوهرة التعليمية



يتعلم الحكيم من اخطاء و يتعلم غيره من اخطاء و من ال يتعلم من هالشيين ان يتعلم .

أ- نفسه ، الحكيم ، صعب

ب- نفسه، نفسه، محال

ج- غيره، نفسه، محال:

د- غيره، الحكيم، صعب

شارع طوله ١٠ متر وبين كل متر زرع شتلتين من الأشجار.. كم شجرة تزرع؟

١٠

٢٠

١٢

٢٢

القدرة المعرفية

مجموعة: أبو الجوهرة



مجموعة أبو الجوهرة التعليمية



معلمة لديها ٥١ لعبة قسمتها بالتساوي فكم عدد الطلاب

✓ ١٧

red_circle: الصف الأول يوجد فيه ١٢ مقعد والصف الثاني يزيد ع الأول عن كل اربع مقاعد مقعد فكم عدد مقاعد الصف الثاني

✓ ١٥

٣٤ حلاوة لو تقسمت بالتساوي على ١٢ طالب كم يبقى منها؟

✓ ١٠

الموظف هو التي يرتكز عليها بناء ثروة الوطن وهو اليد التي عجلة العمل؟
القاعده-تثبيت

✓ الدعامة-تدبير

السؤال اللي موظف يحصل على كل معامله أ ١٠٠ ريال ومعاملة ب ٦٠ ريال اذا مجموع ما حصل عليه ٤٨٠ ريال كم عدد ما انجزه من معامله أ الخيارات على ما اظن؟

١

٢

✓ ٣

٤

القدرة المعرفية

س: المقاعد في الصف الأول ١٢ و الثاني يزيد عن كل ٤ مقاعد مقعد واحد، كم عدد مقاعد الصف الثاني؟

مجموعة: أبو الجوهرة

✓ الحل ١٥



مجموعة أبو الجوهرة التعليمية

ما هو الشكل التالي ؟



تعرف الإدارة بأنها:

أ- متنوعة

ب- متخصصة

ج- مهنية

د- شاملة

!! خادمه راتبها الشهري ٣٠٠ فزاد ليصبح ١٢٠٠ ريال كم نسبة الزيادة

الجواب / ٣٠٠%

طريقة الحل

راتبها قالك ٣٠٠ ريال

! وراح يصير ١٢٠٠ صح

يعني ٣٠٠ اللي عندها هي ١٠٠% بالاصل كانت

زودنا عليه ٣٠٠+٣٠٠+٣٠٠ من اللي عندها ثلاث مرات صاروا ١٢٠٠

يعني زودنا ٣٠٠%

س: ٣ عطور اشتراها رجل بقيمة ٧٠٠ ريال وهذا المبلغ مقسم على العطور بالتساوي

اذا خصم البائع من العطر الاول نص المبلغ ومن الثاني ربع المبلغ كم يكون قيمة العطر الاول ؟

الجواب ٤٠٠

مجموعة: أبو الجوهرة



مجموعة أبو الجوهرة التعليمية



ضد رث / جديد

مرادف توخى / تحرى

مرادف قسر / اكراه

ضد رث / جديد

ضد مقطب / بشوش

مرادف حلكة / ظلمة

مرادف ركون / اعتماد

ضد تبجيل / تحقير

القدرة المعرفية

مجموعة: أبو الجوهرة



مجموعة أبو الجوهرة التعليمية

عامل ينجز ٢٥% من العمل في ٨ ساعات كم يحتاجون من عامل لانجاز العمل في ٤ ساعات؟

٢٥% تمثل عامل واحد

لانجاز ١٠٠% يحتاج ٤ عمال

يعني يحتاج ٤ عمال عشان ينجزه في ٨ ساعات

المطلوب نصف الوقت وهو ٤ ساعات

اذا ٤ ساعات ضعف ٤

اذا يحتاج ٨ عمال

لانجاز العمل

العلاقة هنا عكسية كلما قل الوقت زاد عدد العمال

الجواب ٨

س: اللي موظف يحصل على كل معاملة أ ١٠٠ ريال ومعاملة ب ٦٠ ريال اذا مجموع ما حصل عليه ٤٨٠ ريال كم عدد ما انجزه من معاملته؟

القدرة المعرفية

مجموعة: أبو الجوهرة

- ١
- ٢
- ٣
- ٤



مجموعة أبو الجوهرة التعليمية

طريقة الحل تجربة الخيارات

نحرب ال ٦٠ لوفرضنا انه سوى ٣

$$١٨٠ = ٣ * ٦٠ \text{ ب}$$

$$٣٠٠ = ١٨٠ - ٤٨٠$$

$$١٠٠ \text{ يعني } ٣ \text{ أ} \quad \checkmark$$



س: ان الله يهلك الانسان فايظهر له ويخفي له

نجاته _ هلاكه

س: ابراهيم وعادل وعماد وخالد ، عماد توام خالد ، ابراهيم اكبر الاشقاء ، خالد أصغرهم ، عادل أصغر من محمد و أكبر من خالد ، وفهد اصغر خالد ، من الأصغر؟

١- خالد

٢- عادل

٣- فهد

٤- عماد

س: قد يرى بعضهم التسامح، لكن ثق أن التسامح يحتاج قوة أكبر من

١- انكسار- الانتقام

٢- محمده- البطش

٣- انتصار- الغضب

٤- انهزام- الصفح

القدرة المعرفية



س: الحياة الدنيا عطتي ربما أنت جالس

الخيارات



مجموعة أبو الجوهرة التعليمية

حرّها ، الشمس-١

٢- ظهرها-بالعكس ✓



س: خالد عمره ١٥ سنة ومن شروط الحصول على بطاقة الاحوال أن يكون العمر ١٥ سنة

أ- اخو خالد الأكبر لديه بطاقة احوال: ✓

ب- اخو خالد الأصغر لديه بطاقة احوال

ج-اخوة خالد لديهم بطاقة أحوال

د- اخوة خالد لايملكون بطاقة أحوال

س: جميع الحضور مدعوين للحفلة ، خالد حضر الحفله ، حمد لم يحضر •

أ- خالد مدعو للحفله ✓

ب- حمد لا يريد الحضور

ج- حمد لم يدعى للحفله

د- خالد لم يدعى للحفله

القدرة المعرفية

مجموعة: أبو الجوهرة



مجموعة أبو الجوهرة التعليمية

س: شركة لا يتم تعيين المدير فيها الا بعد ١٥ سنة من الخبرة في الشركة،

عمر توظف قبل مديره بسنتين . أي العبارات التالية صحيحة؟

أ- عمر يستحق أن يكون مدير

ب- عمر يستحق راتب ١٥ ألف ريال

ج- عمر يستحق راتب تقاعد

د- عمر خبرته اكثر من ١٥ سنة

س: مهند و فيصل و عمار و فهد و نواف يسكنون في ٣ مناطق بالمملكة

العربية السعودية. و عمار لا يسكن في نفس المنطقة التي يسكن فيها فيصل ، و فيصل و نواف يسكنون في منطقة واحدة، و فهد لا يسكن في نفس المنطقة التي يسكن فيها نواف، و مهند لا يسكن مع فيصل في منطقة واحدة، فأى العبارات

صحيحة؟

أ- فهد يسكن مع فيصل في منطقة واحدة

ب- فهد لا يسكن مع عمار في منطقة واحدة

ج- فهد و مهند يسكنون مع عمار في منطقة واحدة

د- عمار لا يسكن مع نواف في منطقة واحدة

س: توظف خالد و عمره ٢٢ سنة، التقاعد النظامي في الشركة بعد مرور ٦٠ سنة خدمة، تقاعد خالد و عمره ٦٠ سنة، اذا اكمل ٤٠ سنة عمل يستحق راتب تقاعد كامل

أ- اكمل خالد ٤٠ سنة خدمة في الشركة

ب- خالد يستحق راتب كامل

ج- تقاعد خالد و عمره ٦٠ سنة

د- تقاعد خالد بناءً على رغبته



مجموعة أبو الجوهرة التعليمية

س: مكتبه فيها عمودين أ و ب ، العمود أ مسجل جميع عناوين الكتب في برنامج البحث ، والمكتب ب مسجلة جزء من عناوية الكتب ، خالد اشترى كتاب عنوانه مسجل في برنامج البحث ، ومشاري اشترى كتاب عنوانه غير مسجل في برنامج البحث

١-مشاري اشترى من العمود ب ✓

٢-خالد اشترى من العمود ب

٣-خالد ومشاري اشتروا من العمود أ

٤-خالد ومشاري اشتروا من العمود ب

س: ابناء ابو صالح يحفظون القران اكبرهم محمد وهو امام مسجد واصغرهم فهد وهو طالب في المرحلة الثانوية

١-محمد يحفظ القران ✓

٢-فهد لا يحفظ القران

٣-اصغرهم يدرس في المرحلة المتوسطة

٤- ابناء ابو صالح كثيرون

س: سمكة لاتعيش الا في البحر الاحمر، وقام خالد برحلة الى البحر الاحمر لإصطياد السمك

١-رحلته كانت في البحر الاحمر ✓

٢-يصيد هذا النوع النادر من الاسماك

٣-خالد يسكن في جده

٤- رحلة غوص لاستكشاف البحر الاحمر

س: مسابقة وظيفية تقدم عليها كل من احمد ومحمد وفراس وعلي و بدر ، احمد قبل فراس ، وعلي بعد محمد ، وفراس بعد علي، وبدر قبل احمد .من فاز بالوظيفة ؟

١-فراس



مجموعة أبو الجوهرة التعليمية

٢- بدر ✓

٣- علي

٤- محمد



• من شروط التقديم على الماجستير تقدير جيد جدا وقياس لا يقل عن ٧٠٪ احمد درجته في القياس ٧٠ وتقديره جيد جدا

١- جميع من تم قبولهم مثل احمد وفضل ✓

٢- احمد اقل درجة من بين المتقدمين على الماجستير

٣- جميع الحاصلين على درجة قياس ٧٠ مقبولين في الماجستير

٤- جميع الحاصلين على تقدير ممتاز مقبولين في الماجستير

س: كرمت مدرسة جميع المتفوقين خلال السنة الدراسية و جميع المدعوين متفوقين ، وكان فهد ضمن المدعوين للتكريم وخالد يدرس مع فهد

١- فهد من المتفوقين ✓

٢- خالد من المتفوقين

٣- فهد وخالد من المتفوقين

٤- خالد ضمن المدعوين

القدرة المعرفية

س: ذهب مجموعه الى السودان للصيد ، علما ان الغزلان بالمحمية . أي العبارات صحيحة

١- لم يصطادوا غزالا



مجموعة أبو الجوهرة التعليمية

٢ -اصطادو غزالا

٣ -لم يصطادو شيئا

٤-اصطادوا شيئا

س: محمد اصغر من ثامر وثامر اكبر من احمد وثامر نصف عمر بندر

١- بندر أكبر من احمد

٢- احمد اكبر من بندر

٣- ثامر اصغر من بندر

٤- محمد أكبر من احمد

٢س: اي من الخيارات التالية خاطئة بشأن مكافحة النقابات العمالية انتهاك

حقوق الموظف عن بعد ؟

أ-جوب متابة حالته النفسية

ب-الحرص على متابعة الإنجاز

ج-الاهتمام بوقت الرسائل الالكترونية د- التقيد بوقت العمل (من اسئلة يوم الجمعة ع قطعة الادارة)

اكمل الجمل

القدرة المعرفية

مجموعة: أبو الجوهرة



مجموعة أبو الجوهرة التعليمية

٢٩- الحرية تشغل مساحة كبيرة من ... الانساني لان لها علاقة بمتطلبات الحياة

أ- الصراع _ قوية

ب- التفكير - بسيطه

ج - الفكر _ قريبة

د - ... _ ضعيفة





مجموعة أبو الجوهرة التعليمية

١١- لولا السرور في ساعة الميلاد ما كان البكاء في ساعة الموت ولولا الأمل بدوام ما كان الجزع من الفقر ولولا فرحة التلاقي ، ما كانت ترحة

(أ) الحياة - الاشتياق

(ب) الحال - العذاب

(ج) الغنى - الفراق

(د) الصحة - الموت

١٤- حدثت على الناس تطورات في مجال وأصبحت ذات كفاءة عالية سرعة الصوت في قطعها المسافات وتقريب المسافات بين أقطار الارض ومراعاتها اسباب السلامة للارواح التي تحملها

أ- النقل - تفوق

ب- الاتصال - تجاوزت

القدرة المعرفية

مجموعة: أبو الجوهرة



مجموعة أبو الجوهرة التعليمية

٣٩- تبدو الشمس كالنار ، وتبدو السماء كالبحر الأطراف

أ/ المتوهجة - المترامي

ب / المتوهجة - القريب

ج / المشتعلة - الصافي

٢١٤

كما أن الحلم من سمات الصبور فإن من سمات.....

الحزم - الجاد

الطالب - الاجتهاد

التهور - الحكيم

الأناة - الحاسد

الحل : د

الحزم - الجاد

٢٠٠

التلفاز وسيلة مؤثرة ، لكن صرف الوقت الطويل أمام شاشته الصغيرة من أعظم

دعائية - استعداداته

تطويرية - مساهماته

ترفيهية - إنجازاته

إعلامية - سلبياته

الحل : أ

إعلامية - سلبياته



مجموعة أبو الجوهرة التعليمية

٧٤- ٧٩ ، ٧٥ ، ٢٥ ، ٢١ ، ٧ ، ١٠

أ- ٢

ب- ٤

ت- ٣

ث- ٥

..... لاتجبر الطفل علىانما تكسبه

الاحترام - الحب

لا تجبر الطفل على الاحترام انما تكسبه بالحب ✓

س: يعرف الوقت بأنه مجموعة أحداث..... من الماضي للحاضر فالمستقبل ومن خصائصه أنه مورد يملكه

أ/ متقابلة _ نقيس _ القليلون

ب/متتابعة _ عادل _ الجميع ✓

ج/متوازنة _ خاص _ المقصرون

د/متباينة _ متغير _ المبدعون

س: أي من الخيارات التالية خاطئة بشأن مكافحة النقابات العمالية انتهاك

حقوق الموظف عن بعد ؟

أ-وجوب متابة حالته النفسية

ب-الحرص على متابعة الإنجاز ✓

ج-الاهتمام بوقت الرسائل الالكترونية

د- التقيد بوقت العمل

القدرة المعرفية

مجموعة: أبو الجوهرة



مجموعة أبو الجوهرة التعليمية

س: الطبقة الاجتماعية هي ذلك القطاع من المجتمع الذي يضم مجموعة من الذين يتصفون بقدر كبير من

أ- الأفراد- التواضع

ب- الافراد - التجانس

ج- البشر – الشفافية

د- البشر – الواقعية

س: ١١ - إذا كنت تومن بأن أمامك فحتماً ستجد دوماً من أكثر المواقف.

١ -مبادرات – تخوفاً – سهولة

٢ -امتيازات- مهربا- انجازا

٣ -نجاحات – تردد – رهبة

٤ - خيارات- مخرجاً- صعوبة

س/ ماهو ضد كلمة كسد ؟

ج/ ضد كلمة كسد هو : **راج، وانتشر**

القدرة المعرفية

س: ٣ برتقالات تعمل نصف كاس وانت عندك ٤٨ برتقاله كم كاسه تصنع منها؟؟

مجموعة: أبو الجوهرة

الحل

٤٨ تقسيم ٦ كاس كامل = ٨



مجموعة أبو الجوهرة التعليمية

س: باع رجل سياره بـ ٤٥٠٠٠ بخساره ١٠% فيكم ريال اشترها؟

٥٠٠٠٠

٤٩٥٠٠

٤٥٥٠٠

٤٥١٠٠

س: عمليه المستقبل لست عمليه سهله لان الغد الملامح

١/ استطلاع _ غامض

٢/ رفض _ باهت.

٣/ معرفه _ ثرى.

٤/ قبول _ قوي.

تم بحمد لله انتهاء من جميع اختبار القدرة المعرفية الفترة الأولى لعام ١٤٤٠ هـ

هذا العمل لوجه لله تعالى وصدقة عن جميع المشرفين والمشرفات في مجموعة أبو الجوهرة التعليمية

شكرا لجميع المشرفين

لا تنسوننا من صالح دعائكم

للاستفسارات والملاحظات

@almroane

القدرة المعرفية

<tg://join/?invite=C°i°RRe¹wQImQ-°mozBJyw>



مجموعة: أبو الجوهرة