

## معلومات تحصيليه في مادة الفيزياء

١. من خصائص المغناطيس ( إذا قُطع المغناطيس من أي منطقة فيه فانه يتكون له قطبان ولا يمكن أن يكون له قطب منفرد ) ..

٢. التدفق المغناطيسي يتناسب طردياً مع شدة المجال المغناطيسي....

٣. في التوصيل على التوالي التيار الكهربائي للدائرة سوف يقل بزيادة عدد المقاومات..

٤. في التوصيل على التوالي المقاومة المكافئة تساوي مجموع المقاومات في الدائرة ..

٥. الأميتر يوصل في الدائرة على التوالي والفولتميتر يوصل على التوازي ..

٦. يسمى المكثف حسب نوع المادة العازلة بين لوحية ..

٧. في الدائرة الكهربائية الموصلة على التوالي : ينخفض قيمة التيار عند اضافة مصابيح جديدة ، تصبح المصابيح باهته أكثر عند إضافة مصابيح جديده تظفي جميع المصابيح عند نزع إحداها ،

٨. وحدة قياس التدفق المغناطيسي هو الويبر ...

٩. وحده قياس شدة المجال المغناطيس هي التسلا ...

١٠. تحول نيوترون الى بروتون ينتج عنه ( إشعاع بيتا السالب)....

١١. المجال المغناطيسي هو الحيز الذي تظهر فيه آثار القوة المغناطيسية ..

---

١٢. للتحويل من سلسيوس الى كلفن (درجة كلفن = الدرجة المئوية + ٢٧٣) ..

---

١٣. الزخم والدفع كليهما كمية متجهة أي تحدد بمقدار واتجاه ..

---

١٤. قوة الاحتكاك مهمة بين الجسم والسطح الأملس ..

---

١٥. في التوصيل على التوالي الجهد الكهربائي يتجزأ وفي التوصيل على التوازي الجهد لا يتجزأ ..

---

١٦. شغل القوة العمودية يساوي صفراً ..

---

١٧. توصل الأجهزة في المنازل على التوازي بسبب تقليل المقاومة المكافئة وعندما ينقطع التيار عن احد الأجهزة لا ينقطع الباقي ..

---

١٨. عند ثبات جهد المصدر وزيادة عدد المقاومات في التوصيل على التوالي فإن : ١- المقاومة المكافئة تزداد ٢- التيار الكهربائي يقل ..

---

١٩. عند ثبات جهد المصدر وزيادة عدد المقاومات في التوصيل على التوازي فإن : ١- المقاومة المكافئة تقل ، ٢- التيار الكهربائي يزداد ..

---

٢٠. في التوصيل على التوازي يتفرع التيار الكهربائي إلى أكثر من مسار ..

---

٢١. القوة الكهربائية أكبر بكثير من قوة الجذب ..

---

٢٢. من خصائص شحنة الاختبار أنها شحنة نقطية ( صغيرة ) ونوعها موجب ..

---

٢٣. الموصلات فائقة التوصيل مقاومتها للتيار تساوي صفر أي لا يكون هناك هدر للتيار ويمكن الحصول عليها عند درجة حراره (الصفر المطلق)..

---

٢٤. المجال الكهربائي المنتظم هو المجال ثابت المقدار والاتجاه ..

---

٢٥. في تجربة قطرة الزيت لمليكان كان هدف التجربة حساب شحنة الإلكترون ..

---

٢٦. العلاقة بين المقاومة و درجة الحرارة علاقة طردية إذا زاد احدهما يزداد الآخر ..

---

٢٧. وحده قياس سعة المكثف ( الفاراد). والتيار ( امبير)- والجهد ( الفولت )- والمقاومة ( أوم ) ..

---

٢٨. سعة المكثف تعتمد على الأبعاد الهندسية للمكثف ...

---

٢٩. استنتج أوم ان العلاقة بين الجهد الكهربائي وبين التيار علاقة طردية خطية ..

---

٣٠. الأميتر يوصل في الدائرة على التوالي والفولتميتر يوصل على التوازي ..

---

٣١. يتكون النيوترون من كوارك واحد علوي u واثنين من الكواركات السفلية d ورمز النيوترون حسب نموذج الكوارك هو (udd) مهمه جداً

٣٢. يتكون البروتون من اثنين من الكواركات العلوية u وكوارك واحد سفلي d ورمز البروتون حسب نموذج الكوارك هو (P=uud) مهمه جداً

---

٣٣. اذا تحركت موجة ميكانيكية بالسرعة نفسها فإن معدل نقلها للطاقة يتناسب طردياً مع ( مربع السعة) ..

---

٣٤. كلمة ليزر تعني تضخيم الضوء بالانبعاث المثار للإشعاع ..

---

٣٥. عداد جايجر من الكواشف النووية على الإشعاعات ( ويكشف عن الجسيمات المشحونة وأشعة جاما) ..

---

٣٦. معجل السنكروترون ( هو مسار دائري تستخدم فيه المغناط لضبط المسار وتسارع الجسيمات) ...

---

٣٧. تحول نيوترون الى بروتون ينتج عنه ( إشعاع بيتا السالب) ..

---

٣٨. الجسيم الذي ينبعث مع جسيمات بيتا يسمى ب (ضديد النيوتريو ) وهو جسيم متعادل غير مشحون ..

---

٣٩. ضدديد الإلكترون هو ( البوزترون) ويسمى الإلكترون الموجب ..

---

٤٠. عملية الاندماج النووي: من اشهر أماكن حدوثها في الشمس وتكون السلسلة بين ( بروتون- بروتون) ..

---

٥٠. محطة الطاقة النووية : تعني بتحويل الطاقة الحرارية الناتجة من التفاعلات النووية الى طاقة كهربائية ..

٥١. التفاعل الانشطاري يسمى بالتفاعل المتسلسل ..

---

٥٢. إشعاعات جاما : هي عبارة عن إشعاعات كهرومغناطيسية ليس لها شحنة ولا كتلة ( فوتونات ) ومداها في الهواء طويل جداً ، وطاقاتها عالية ..

---

٥٣. جسيمات بيتا : جسيمات غير مشحونة وتخترق مسافات طويلة في الهواء تمتد الى (3m) ...

---

٥٤. جسيمات ألفا: هي عبارة عن نواة ذرة الهيليوم وشحنتها موجبة وثقيلة ومداها قصير في الهواء

---

٥٥. تعتمد طاقة الربط النووية على عدد النيكليونات ، وكلما اقترب عدد النيكليونات من نواة الحديد كانت أكثر ترابطاً واستقراراً ..

---

٥٦. للحصول على شبة موصل من النوع P نستخدم ذرة شائبة ثلاثية التكافؤ مثل ( الجاليوم Ga والألومنيوم Al ) ..

---

٥٧. المهبط يتصل بالقطب السالب لذلك شحنته سالبة أما المصعد فيتصل بالقطب الموجب ..

---

٥٨. عندما ينتقل الالكترون من مستوى طاقة اعلى الى مستوى طاقة أدنى فإنه ينبعث منه فوتون بطاقة تساوي فرق الطاقة بين هذين المستويين ..

---

٥٩. تسمى البروتونات والنيوترونات بإسم ( النيوكلونات ) ..

---

٦٠. تتكون النواة من بروتونات موجبة الشحنة ، ونيوترونات غير مشحونة..

---

٦١. توصيل أشباه الموصلات من النوع P يزداد بتوافر اكبر عدد من الفجوات ( المستقبلة) ..

---

٦١. الشوائب هي ذرات مانحة او مستقبلة للإلكترونات تضاف الى أشباه الموصلات النقية ..

---

٦٢. الجرمانيوم (Ge) اكثر موصلية من السيلكون عند اي درجة حرارة..

---

٦٣. السيلكون (Si) عند درجة الصفر المطلق تكون : ١- حزمة التكافؤ مملوءة كلياً  
بالإلكترونات ٢- حزمة التوصيل فارغة تماماً ..

---

٦٤. تم تسمية نموذج بور بنموذج الكواكب ويعتمد على ان ( الالكترونات تدور في مدارات ثابتة حول النواة) ..

---

٦٥. عند عودة الذرة من حالة الإثارة إلى حالة الاستقرار تبعث الذرة ضوء ..

---

٦٦. نصف قطر المدار الاول يسمى بنصف قطر بور ويساوي  $(3.5 \times 10^{-11} \text{m})$  ... وبوحدة النانو متر يساوي ( 0.053 nm ) ..

---

٦٧. من شروط تحرر الالكترونات من سطح المعدن ( ان يكون تردد الفوتون الساقط اكبر من اويساوي تردد العتبة ) ..

---

٦٨. العلاقة البيانية بين طاقة حركة الإلكترونات مع تردد الفوتونات الساقطة (أثبتت صحة نظرية التأثير الكهروضوئي وتفسير اينشتاين لها )

---

٦٩. اقتران الشغل ( مقدار الطاقة اللازمة لتحرير الإلكترون الأضعف ارتباطاً في الذرة) ..

---

٧٠. يرتبط تردد العتبة مع التأثير الكهروضوئي على انه اقل تردد للإشعاع الساقط اللازم لتحرير إلكترونات من الذرة ..

---

٧١. في المرآة المقعرة الصورة لا تتكون اذا تم وضع الجسم في البؤرة ..

٧٢. يتم وضع الجسم في المرآة المقعرة بحيث يكون صورة مصغرة ، ( خلف مركز التكور ) ..

٧٣. فولتية تيار مستمر ( DC ) لا تولد موجات كهرومغناطيسية ، بل فولتية التيار المتردد هي التي تولد ( AC ) ..

٧٤. عندما يتحرك جسيم في مسار دائري فإن القوة المغناطيسية تكون دائماً عمودية على السرعة المتجهه وموجهة نحو مركز المسار الدائري ..

٧٥. خاصية للبلورات تسبب لها انحناء او تشوه وتولد اهتزازات كهربائية عند تطبيق فرق جهد عليها ( هي الكهرباء الإجهادية ) ..

٧٦. يمكن تحديد اتجاه المجال المغناطيسي بالنسبة لاتجاه سريان التيار الاصطلاحي في التيار المستقيم باستخدام قاعدة اليد اليمنى ..

٧٧. استخدام ضوء أحادي اللون ينتج عنه نمط تداخل واضح على الشاشة ، بينما استخدام الضوء الأبيض يسبب ظهور أهداب ملونة ..

٧٨. استنتج نيوتن ان الضوء الأبيض مركب من عدة الوان أطلق عليها اسم ( الطيف ) ..

٧٩. لحساب قوة العدسة (  $P=1/f$  ) ووحدته قياسها هي الديوبتر ..

٨٠. في المنظار الفلكي يتم استخدام عدسات لالونية للتخلص من الزوغان اللوني ..

٨١. ( يزداد الإنتروبي عند إضافة حرارة الى الجسم ، وينقص عند نزع حرارة من الجسم ) ..

---

٨٢. تطبيقات عملية على مبدأ برنولي : ١- المازج في محرك البنزين ٢- مرذاذ العطر ٣- مرش الطلاء ..

---

٨٣. يطفو الجسم عندما : ١- كثافة المائع اكبر من كثافة الجسم ٢- قوة الطفو اكبر من وزن الجسم ..

---

٨٤. مبدأ أرخميدس : ( الجسم المغمور في مائع تؤثر فيه قوة رأسية إلى أعلى تساوي وزن المائع المزاح ) ..

---

٨٥. ضغط الموائع يعتمد على : ١- كثافة المائع ٢- عمق المائع ٣- تسارع الجاذبية ..

---

٨٦. مبدأ باسكال : التغيير في الضغط عند اي نقطة في السائل المحصور ( الساكن ) ينتقل إلى جميع نقاط السائل بالتساوي ..

---

٨٧. عملية تحول البخار الى سائل عند تبريده تسمى ب ( التكاثف ) ..

---

٨٨. من أمثلة التوتر السطحي : ١- سير بعوضة على سطح الماء ٢- قطرات الندى على خيوط العنكبوت ..

---

٨٩. الموائع : هي مواد سائلة او غازية تتدفق في المواد وليس لها شكل محدد ..

---

٩٠. من خصائص الحالة السائلة : الكتلة ثابتة ، الشكل ليس محدد تأخذ شكل الإناء الذي يحويها ..

---

٩١. من خصائص الحالة الصلبة : الكتلة ثابتة ، الشكل محدد ، الذرات موزعة بانتظام ..



القدرة هي المعدل الزمني لبذل الشغل ... العلاقة الرياضية :  $P=W/t$  -1 بمعلومية الشغل  
والزمن -2  $P= FV$  بمعلومية السرعة ..

---

٩٢. كفاءة الآلة الحقيقية اقل من 100% ، وكفاءة الآلة المثالية تساوي 100%...

---

٩٣. تتولد في الملف الثانوي للمحول قوة دافعة كهربائية متغيرة بتأثير ( الحث المتبادل ) ...

---

٩٥. تستخدم المحولات في رفع أو خفض الجهد الكهربائي المتناوب ( المتردد ) ... فقط المتردد ..

---

٩٦. الحث الذاتي ( حث قوة دافعة كهربائية في سلك يتدفق فيه تيار متغير ) ..

---

٩٧. ( الميزان الحساس ) يستخدم قانون لنز لإيقاف التذبذبات عند وضع جسم في كفته ..

---

٩٨. التيار الفعال والجهد الفعال يتم استعمالهم لوصف التيار المتناوب ( المتردد ) ، والجهد المتناوب

---

٩٩. المولد الكهربائي ( يقوم بتحويل الطاقة الميكانيكية إلى طاقة كهربائية ) ..

---

١٠٠. الميكروفون من التطبيقات البسيطة على القوة الدافعة الكهربائية الحثية ...

---

١٠١. العلاقة الرياضية هامه للقوة الدافعة الكهربائية :  $EMF=BLv$  عندما يتحرك السلك عمودياً على المجال المغناطيسي ..

---

١٠٢. القوة الدافعة الكهربائية (EMF): تعمل على تدفق التيار من الجهد الأقل الى الجهد الأعلى ..

١٠٣. يتولد تيار كهربائي في سلك عندما يكون متحركاً عمودياً على المجال المغناطيسي ..

١٠٤. الحث الكهرومغناطيسي هو (توليد تيار كهربائي عن طريق حركة سلك خلال مجال مغناطيسي)

١٠٥. اكتشف مايكل فاراداي والعالم هنري كل على حده ان ( المجال المغناطيسي يولد تياراً كهربائياً عند تحريك سلك داخل مجال مغناطيسي )

١٠٦. المجال المغناطيسي هو ( الحيز الذي يظهر فيه اثر المغناطيس على برادة الحديد ، أو المنطقة المحيطة بالمغناطيس ) ..

١٠٧. المغناط الدائمة يتم تصنيعها من ( سبيكة حديد تحوي خليط من الألومنيوم والنيكل والكوبالت ) ..

١٠٨. قاطع التفريغ الأرضي الخاطئ : (جهاز يحوي على دائرة إلكترونية تستشعر الفروقات البسيطة في التيار الناتجة عن مسار إضافي للتيار )

١٠٩. دائرة القصر ( هي دائرة مقاومتها صغيرة جداً مما يجعل التيار كبير جداً ) ..

١١٠. أدوات السلامة مثل : ( قطعة المنصهر ، قواطع الدوائر الكهربائية ، قاطع التفريغ الخاطئ ، دائرة القصر ) ..

١١١. الطاقة الكهربائية تتحول من شكل الى آخر نتيجة الهبوط في جهد الجهاز المستخدم ..

---

١١٢. مهم جداً : حساب تكاليف الاستخدام ( تكاليف الاستخدام = الطاقة X الثمن ) .. الطاقة بوحدة (KWh) ..

---

١١٣. مهم جداً ، الكيلو واط ساعة ( KWh ) : وحدة تستخدمها شركات الكهرباء لقياس الطاقة الكهربائية المستهلكة وتساوي ١٠٠٠ واط في الساعة ..

---

١١٤. طريقة التقليل من القدرة الضائعة : ١- تقليل التيار ورفع الجهد ٢- تقليل المقاومة : عن طريق: أسلاك موصليتها كبيرة و قطرها كبير ..

---

١١٥. القدرة الضائعة في أسلاك التوصيل ( معدل الطاقة الحرارية المتولدة في أسلاك التوصيل عند مرور تيار كهربائي فيها ) ..

---

١١٦. يصعب تحريك جسم كتلته كبيرة لأن الكتلة الكبيرة يكون قصورها الذاتي كبير ...

---

١١٧. قانون نيوتن الأول يعبر عن القصور الذاتي ويعرف باسم القصور الذاتي..

---

١١٨. المكثف الكهربائي عبارة عن ( موصلين مشحونين بشحنتين متساويتين في المقدار ومختلفتين في النوع يفصل بينهما مادة عازلة ) ..

---

١١٩. وحدة قياس السعة الكهربائية هي ( الفاراد ) ..

---

١٢٠. وظيفة المكثفات ( تخزين الشحنات الكهربائية ) ...

---

١٢١. من مميزات شحنة الاختبار ان : ١- مقدارها صغير جداً ٢- نوعها ( موجب ) ..

---

١٢٢. المجال الكهربائي كمية متجهة ..

١٢٣. اتجاه المجال الكهربائي ١- اتجاه السهم يكون الى الخارج اذا كانت الشحنة ( موجبة ) ٢- اتجاه السهم يكون الى الداخل الشحنة ( سالبة )

١٢٤. المجال الكهربائي ( هو المجال المحيط بأي جسم مشحون ، حيث يولد قوة كهربائية يمكنها ان تعمل شغلاً يؤدي الى نقل طاقة ) ..

١٢٥. الارض عبارة عن نظام مغلق ، ولكن ليست نظام معزول لانها تتأثر بقوى خارجية ومنها ( الجاذبية ) ..

١٢٦. جهد الإيقاف او القطع في الدائرة يكون عنده التيار يساوي صفراً ..

١٢٧. ورقتا الكشاف الكهربائي متلامستان عندما يكون الكشاف متعادلاً كهربائياً ..

١٢٨. الكشاف الكهربائي هو جهاز هام جداً ويتم استخدامه ل: ١- الكشف عن الشحنات الكهربائية ٢ - تحديد نوع الشحنة التي يحملها الجسم..

١٢٩. المواد الموصلة مثل ( النحاس ، الألمنيوم ، البلازما ) وهو غاز متأين بدرجة كبيرة ) ..

١٣٠. العالم رذرفورد بين ان هناك جسماً مركزياً يحمل شحنة موجبة وتتركز فيه كتلة الذرة تم تسميتها ب ( نواة الذرة ) ..

١٣١. هي قوة ينتج عنها انجذاب قصاصات الورق الى المسطرة البلاستيكية بعد دلکها هي قوة الجذب الكهربائي ..

١٣٢. من امثلتها ظاهرة البرق ، فرقعة الملابس عند نزعها ، انجذاب الشعر نحو المشط في يوم جاف

١٣٣. الكهرباء الساكنة : (هي الكهرباء التي تعني وتهتم بدراسة الشحنات الكهربائية التي تتجمع وتحتجز في مكان واحد ) الكهروسكونية..

١٣٤. المحول المثالي هو المحول الذي تكون فيه القدرة الداخلة تساوي القدرة الخارجة ..

١٣٥. التدفق المغناطيسي يتناسب طردياً مع شدة المجال المغناطيسي..

١٣٦. العلاقة بين التردد والزمن الدوري .. كلا منهما مقلوب الآخر ...  $f=1/T$

١٣٧. العلاقة الرياضية لحساب طاقة الذرة المهتزة ... (  $E=nhf$  ) حيث n رقم كمي صحيح ، و h ثابت بلانك ، f تردد اهتزاز الذرة ..

١٣٨. فرضية بلانك ( طاقة الإلكترونات المهتزة كممة وقيمتها غير متصلة وتتناسب برقم كمي صحيح مع التردد) ..

١٣٩. وحدة قياس ثابت بلانك ...  $J/HZ$  أو  $J.s$  أو  $N.m.s$ ..

١١٤. الاشعاع المنبعث من الأجسام المتوهجة عبارة عن ( الاشعة تحت الحمراء - الاشعة فوق البنفسجية - الضوء المرئي ) ..

١٤١. من خصائص الاشعة السينية أنها ذات تردد كبير ... وطول موجي صغير ..

١٤٢. طول الهوائي يتناسب طردياً مع طول الموجة ويتم حساب طول الهوائي المناسب لطول الموجة عن طريق ( طول الهوائي = الطول الموجي على 2 )

---

١٤٣. تحمل الموجات الكهرومغناطيسية معها الطاقة والمعلومات ..

---

١٤٤. في الموجات الكهرومغناطيسية مركبتا المجال المغناطيسي والمجال الكهربائي متعامدتان ..

---

١٤٥. الموجات الكهرومغناطيسية تنتج من مسارعة الإلكترونات ...

---

١٤٦. تمكن من قياس كتلة الإلكترون بطريقة غير مباشرة هو العالم تومسون ...

---

١٤٧. حاصل ضرب الطول الموجي في التردد لأي موجة كهرومغناطيسية يساوي مقدراً ثابتاً وهو سرعة الضوء (  $c = \text{الطول الموجي} \times \text{التردد}$  )

---

١٤٨. مكتشف الحث الكهرومغناطيسي هما العالمان مايكل فارادي ، و هنري ..

---

١٤٩. تنتشر الموجات الكهرومغناطيسية في الفراغ بسرعة الضوء ..

---

١٥٠. العلاقة بين القوة المؤثرة في النابض ومقدار استطالة النابض علاقة طردية خطية ..

---

١٥١. الذي اكتشف شحنة الإلكترون هو العالم ميليكان ، والذي اكتشف كتلة الإلكترون هو العالم تومسون ..

---

١٥٢. وحدة شدة المجال المغناطيسي هي التسلا (T) او (N/A.m) او (N.s/C.m) ..

---

١٥٣. مبدأ برنولي (الضغط يقل عندما تزداد السرعة) ومن تطبيقاته قوة الرفع في الطائرات وفي المرذاذ ..

---

١٥٤. مبدأ باسكال إذا سُلط ضغط إضافي عمودي على سائل محصور ، فإن هذا الضغط ينتقل إلى جميع أجزاء السائل وفي جميع الاتجاهات بالتساوي..

---

١٥٥. القوة المؤثرة في جسيم مشحون موضوع في مجال مغناطيسي ( $F=qvB$ ) حيث  $q$  شحنه الجسيم و  $v$  سرعته و  $B$  شدة المجال المغناطيسي..

---

١.١٥٦ أمبير = 1 كولوم / 1 ثانية ..

---

١٥٧. في التوصيل على التوالي التيار الكهربائي للدائرة سوف يقل بزيادة عدد المقاومات..

---

١٥٨. في التوصيل على التوالي المقاومة المكافئة تساوي مجموع المقاومات في الدائرة ..

---

١٥٩. هناك نوعان رئيسيان للمحولات الكهربائية الأول هو المحول الرافع (step up) والثاني المحول الخافض (step down)

---

٢٠٠. ولا يمكن للمحولات الكهربائية أن تعمل إلا مع إمرار التيار الكهربائي المتردد كما هو معروف بـ AC ..

---

٢٠١. عندما تكون الإعداد كبيره راح يكون هناك اختصارات لكي تسهل العملية الحسابية اذا كان العملية ضرب اجمع الأسس ، وقسمة اطرح الأسس..

---

٢٠٢. تتركب المحولات من ١- ملف ابتدائي ٢- ملف ثانوي ٣- قلب من الحديد ..

---

٢٠٣. المحولات الكهربائية وظيفتها رفع او خفض قيمه الجهد ..

---

٢٠٤. العالم اورستد اكتشف ان التيار الكهربائي يولد مجالاً مغناطيسياً والعالم فارادي اكتشف ان المجال المغناطيسي يولد تياراً كهربائي ..

---

٢٠٥. جهاز الجلفانومتر نوع من الأميتر يستخدم لقياس شدات التيار الصغيرة التي تصل إلى ١ نانو أمبير..

---

٢٠٦. شدة المجال المتولدة في الملف تتناسب طردياً مع مقدار التيار وعدد اللفات ..

---

٢٠٧. التدفق المغناطيسي يتناسب طردياً مع شدة المجال المغناطيسي..

---

٢٠٨. من خصائص المغناطيس ( إذا قُطع المغناطيس من أي منطقة فيه فإنه يتكون له قطبان ولا يمكن أن يكون له قطب منفرد )..

---

٢٠٩. وحدة قياس التدفق المغناطيسي هو الويبر ..

---

٢١٠. وحده قياس شدة المجال المغناطيس هي التسلا ..

---

٢١١. المجال المغناطيسي هو الحيز الذي تظهر فيه آثار القوة المغناطيسية ..

---

٢١٢. تصنع المغناطيسات من الحديد والكوبلت والنيكل ..

---

٢١٣. المغناطيس عباره عن ثنائي الأقطاب ..

---

٢١٤. عند مرور تيار كهربائي داخل سلك نحاسي فإنه سوف يتولد حول هذا السلك مجالاً مغناطيسياً ..

---



٢١٥. في المغناطيس الأقطاب المتشابهة تتنافر والأقطاب المختلفة تتجاذب ..

---

٢١٦. المنصهر الكهربائي قطعة فلزية صغيرة تنصهر عندما يمر فيها تيار كبير ... ولا يمكن إعادة تشغيلها بل لابد من إستبدالها..

---

٢١٧. الأميتر مقاومته صغيرة والفولتميتر مقاومته كبيرة ..

---

٢١٨. الزخم والدفع كليهما كمية متجهة أي تحدد بمقدار واتجاه ..

---

٢١٩. في التوصيل على التوالي الجهد الكهربائي يتجزأ وفي التوصيل على التوازي الجهد لا يتجزأ ..

---

٢٢٠. توصل الأجهزة في المنازل على التوازي بسبب تقليل المقاومة المكافئة وعندما ينقطع التيار عن احد الأجهزة لا ينقطع الباقي ..

---

٢٢١. عند ثبات جهد المصدر وزيادة عدد المقاومات في التوصيل على التوالي فإن : ١-المقاومة المكافئة تزداد ٢-التيار الكهربائي يقل ..

---

٢٢٢. في التوصيل على التوازي يتفرع التيار الكهربائي إلى أكثر من مسار ..

---

٢٢٣. من خصائص شحنة الاختبار أنها شحنة نقطية ( صغيرة ) ونوعها موجب ..

---

٢٢٤. الموصلات فائقة التوصيل مقاومتها للتيار تساوي صفر أي لا يكون هناك هدر للتيار ويمكن الحصول عليها عند درجة حراره (الصفر المطلق) ..

---

٢٢٥. المجال الكهربائي المنتظم هو المجال ثابت المقدار والاتجاه ..

---

٢٢٦. استنتج أوم ان العلاقة بين الجهد الكهربائي وبين التيار علاقة طردية خطية ..

---

٢٢٧. الأميتر يوصل في الدائرة على التوالي والفولتميتر يوصل على التوازي ..

---

٢٢٨. في التوصيل على التوالي التيار الكهربائي للدائرة سوف يقل بزيادة عدد المقاومات ..

---

٢٢٩. الفرق بين النظام المعزول والنظام المغلق ؟

المعزول : هو نظام الذي تكون محصلة القوى الخارجية عليه تساوي صفر ..

المغلق : هو نظام الذي لا يكتسب كتله ولا يفقدها ، مثال : الارض عباره عن نظام مغلق ، ولك ليس نظام معزول ..

---

٢٣٠. حزمة التكافؤ في العوازل مملوءة وحزمة التوصيل فارغة وتمتد طاقة الفجوة لبعض العوازل الجيدة الى  $10\text{ ev}$  ..

---

٢٣١. العلاقة بين الموصلية والمقاوميه كلاهما مقلوب الآخر ، وكلما قلت موصلية المادة زادت مقاومتها ..

---

٢٣٢. معلومة تعني ان الجرمانيوم اكثر موصلية من السيلكون عند اي درجة حرارة فجوة الطاقة الجرمانيوم اقل من فجوة الطاقة للسيليكون... لذلك الجرمانيوم أكثر موصلية ..

---

٢٣٣. كلا النموذجين الجسيمي والموجي يلزمان لتفسير سلوك الضوء ... ( للضوء طبيعة مزدوجة موجية وجسيمية ) ..

---

٢٣٤. المحول المثالي ( هو الذي لا يضيع أو يبديد اي جزء من القدرة ، كفاءته  $100\%$  ، لا يوجد محول مثالي بسبب الطاقة المفقودة دائماً على شكل حرارة ..

---

٢٣٥. اتجاه القوة دائماً عمودياً على كل من اتجاه سرعة الجسيم واتجاه المجال المغناطيسي ..

---

٢٣٦. يمكن حساب القوة المؤثرة على جسيم موضوع في مجال مغناطيسي عن طريق العلاقة التالية :  $( F=qvB )$  ..

---

٢٣٧. في المحرك الكهربائي القوة الكلية المؤثرة في الملف تتناسب طردياً مع ( عدد اللفات والتيار ، وشدة المجال المغناطيسي ، طول السلك ..

---

٢٣٨. مكبرات الصوت ( إحدى التطبيقات العملية على القوة المؤثرة في سلك يحمل تياراً كهربائياً يمر في مجال مغناطيسي ) ..

---

٢٣٩. عند مرور تيارين في نفس الاتجاه في سلكين متوازيين فإنه ينشأ بينهما قوة تجاذب ، وإذا كان التياران متعاكسين ينشأ قوة تنافر ...

---

٢٤٠. عند وضع سلك يحمل تياراً في مجال مغناطيسي فإنه يتأثر بقوة عمودية على اتجاه كل من المجال والسلك ..

٢٤١. الملف اللولبي يعتمد على المادة المصنوع منها قلب الملف ..

٢٤٢. الأشعاع المنبعث من الأجسام المتوهجة عبارة عن ( الأشعة تحت الحمراء - الأشعة فوق البنفسجية - الضوء المرئي ) ..

---

٢٤٣. الاتزان الانتقالي تكون فيه محصلة القوى المؤثرة على الجسم تساوي صفر، وفي الاتزان الدوراني تكون محصلة العزوم تساوي صفر ..

---

٢٤٤. عند سقوط أشعة متوازية على مرآة فإنها تتجمع بعد انعكاسها في نقطة واحدة تسمى بالبؤرة ( F ) ..

٢٤٥. تنتقل جميع الأمواج الكهرومغناطيسية في الفراغ بنفس السرعة ومقدارها ٣٠٠ مليون متر لكل ثانية تقريبا وتعادل سرعة الضوء في الفراغ ..

٢٤٦. لحساب معامل الانكسار لأي وسط نستخدم هذه العلاقة ( $n=c/v$ ) حيث  $c$  سرعة الضوء في الفراغ ، و  $v$  سرعة الضوء في المادة ، و  $n$  المعامل .. و  $n$  دائماً أكبر من الواحد.

٢٤٧. المجال المغناطيسي كمية فيزيائية تنشأ حول المغناط وحول التيارات الكهربائية ، تمكنها من التأثير على المواد المغناطيسية ..

٢٤٨. من خصائص خطوط المجال الكهربائي أنها لا تتقاطع وتبدأ من الشحنة الموجبة وتنتهي إلى الشحنة السالبة ..

٢٤٩. التيار المستمر (DC) ثابت مع الزمن أما التيار المتردد (AC) متغير مع الزمن ..

٢٥٠. جسيمات ألفا: هي عبارة عن نواة ذرة الهيليوم وشحنتها موجبة وثقيلة ومداهها قصير في الهواء

٢٥١. المهبط يتصل بالقطب السالب لذلك شحنته سالبة أما المصعد فيتصل بالقطب الموجب ..

٢٥٢. عندما ينتقل الإلكترون من مستوى طاقة أعلى إلى مستوى طاقة أدنى فإنه ينبعث منه فوتون بطاقة تساوي فرق الطاقة بين هذين المستويين ..

٢٥٣. تم تسمية نموذج بور بنموذج الكواكب ويعتمد على ان ( الإلكترونات تدور في مدارات ثابتة حول النواة) ...

٢٥٤. تتسارع سيارة من السكون بتسارع مقداره ( $2.5m/s^2$ ) احسب سرعة السيارة بعد زمن قدره (10s) من بداية الحركة؟؟؟

الحل : من قانون الحركة (  $v_2=v_1+at$  ) السرعة الابتدائية  $v_1$  تساوي صفر الحركة من السكون يصبح الحل  $v_2= at$  اذا الإجابة تصبح 25 m/s

٢٥٥. اذا كانت السرعة الخطية لدولاب سيارة 40 m/s ونصف قطر الدولاب 40 cm احسب السرعة الزاوية للدولاب؟؟؟

الحل : من قانون (  $v=r w$  ) ومنه السرعة الزاوية تساوي (  $w=v/r$  ) ، وتحويل نصف القطر الى m بالقسمة على 100 يصبح الحل هو (100 rad/s) ..

٢٥٦. موصلية المواد .... بنقصان فجوة الطاقة بين حزم التوصيل وحزم التكافؤ : أ- تقل ب- ثابتة ج- صفر د- تزداد؟؟

الحل : الموصلية تزداد بنقصان الفجوة الممنوعة ( فجوة الطاقة ) بين حزم التكافؤ وحزم التوصيل ..

٢٥٧. اي من المواد التالية ليس من أشباه الموصلات : أ- السيلكون ب- الجرمانيوم ج- الصوديوم؟؟

الحل : ( الصوديوم) ..

٢٥٨. من خصائص ضوء الليزر ١- أحادي اللون ب- مترابط ج- موجة بدقة عالية د- مركز جداً؟؟

الحل : جميعها من خصائص الليزر..

٢٥٩. تستخدم في إضاءة مصابيح الشوارع وإطفائها آلياً أ- التأثير الضوئي ب- التأثير الهوائي ج- التأثير الكيميائي د- التأثير الكهروضوئي؟؟

الحل : ( التأثير الكهروضوئي ) ومن التطبيقات العملية على الظاهرة ( الألواح الشمسية ، فاتحات أبواب مواقف السيارات ) ..

٣٠٠. أقل تردد للإشعاع يكفي لتحرير إلكترون من سطح المعدن الساقط عليه أ- تردد الاهتزاز  
ب-التردد المطلق ج- تردد بلانك د- تردد العتبة؟؟

الحل : ( تردد العتبة ) ، ويتغير تردد العتبة بتغير نوع الفلز وهو من الصفات الفيزيائية المميزة  
للمواد عن بعضها ..

٣٠١. يتغير مستوى الطاقة لذرة عندما تمتص وتبعث طاقة ، اي الخيارات لا يمكن ان يمثل  
مستوى طاقة الذرة:أ- 2 hf ب-hf ج- 4 hf د- 0.5 hf ؟؟

الحل : (0.5 hf) .. مستوى طاقة الذرة لا يمكن تمثيله إلا بأعداد صحيحة .

٣٠٢. قدرة الموجات الكهرومغناطيسية تتناسب طردياً مع درجة حرارة الجسم الساخن بوحدة  
الكلفن مرفوعة للقوة : أ-الثانية ب- الرابعة ..؟؟

الحل : الرابعة ..

٣٠٣. القدرة الكلية المنبعثة من جسم ساخن تزداد بزيادة : أ- درجة اللزوجة ب- الكثافة ج-  
درجة الحرارة د- الكتلة ...؟؟

الحل : ( درجة الحرارة ) ..

٣٠٤. موجات كهرومغناطيسية طاقتها عالية وترددها عالي وطولها الموجي قصير : أ- موجات  
الصوت ب- موجات الراديو د- الأشعة السينية ...

الحل : ( الأشعة السينية ) ..

٣٠٥. المجالات الكهربائية والمغناطيسية المنتشرة معاً في الفضاء هي أ\_ موجات سماوية ب\_  
موجات صوتية ج- موجات فضائية د- موجات كهرومغناطيسية ؟

الحل : ( موجات كهرومغناطيسية ) ..

٣٠٦. فصل عينة من اليورانيوم الى النظائر المكونة لها احد تطبيقات : أ- أنبوب أشعة المهبط  
ب- مولد فان دي جراف ج- مطياف الكتلة؟؟  
الحل : احد تطبيقات ( مطياف الكتلة ) ..

---

٣٠٧. أشكال مختلفة للذرة لها نفس الخصائص الكيميائية لكنها مختلفة في الكتلة : أ- النظائر ب-  
البروتونات ج- الأيونات د- الالكترونات . ؟  
الحل : ( النظائر ) ..

---

٣٠٨. مطياف الكتلة يستخدم في قياس : أ - كتلة الأيونات ب- فرق الجهد ج- شدة التيار د- كتلة  
المادة ... ؟  
الحل : في حساب ( كتلة الأيون ) ..

---

٣٠٩. في أنبوب أشعة المهبط عند تساوي القوة الكهربائية والقوة المغناطيسية تسير الالكترونات  
بسرعة : أ-  $V=BE$  ب-  $V=B/E$  ج-  $V=E/B$  د-  $V=Be$  .. ؟  
الحل : هي يمكن ايجاد سرعة الالكترونات عن طريق العلاقة التالية (  $V=E/B$  ) ..

---

٣١٠. تنتج الموجات الكهرومغناطيسية عن : أ- مسارعة الذرة ب- مسارعة الالكترونات ج-  
مسارعة النواة د- مسارعة البروتونات ... ؟  
الحل : ب ( تنتج الموجات الكهرومغناطيسية عن طريق مسارعة الالكترونات ) ..

---

٣١١. يستخدم في نقل القدر وتغيير الجهد : أ- المولد ب- المحول ج- الاميتر د- الجلفانوميتر ...  
؟؟  
الحل : ( المحول ) ، وينقسم الى محول رافع وخافض ، ولا يعمل إلا مع التيار المتناوب ( المتردد ) AC ..

---

٣١٢. من تطبيقات قانون لنز : أ- الاميتر ب- الميكروفون ج- الميزان الحساس د- الجلفانوميتر  
؟؟

الحل : ( الميزان الحساس )..

---

٣١٣. يحول الطاقة الحركية ( الميكانيكية ) الى طاقة كهربائية : أ- الفولتميتر ب- الاميتر ج-  
المولد الكهربائي د- المحرك الكهربائي ... ؟

الحل : ( المولد الكهربائي )..

---

٣١٤. من تطبيقات القوة الدافعة الكهربائية الحثية : أ- الفولتميتر ب- المكثف ج- الميكروفون د-  
الاميتر ... ؟

الحل : ( الميكروفون ) ..

---

٣١٥. لتحديد اتجاه التيار المتولد في سلك نتيجة حركته في مجال مغناطيسي تستخدم قاعدة اليد  
اليمنى: أ- الاولى ب- الرابعة ج- الثانية .. ؟

الحل : ( الرابعة )..

---

٣١٦. يستخدم لتحويل الطاقة الكهربائية الى طاقة حركية دورانية : أ- المولد الكهربائي ب-  
المحرك الكهربائي ج- الازدواج الحراري ... ؟

الحل : ( المحرك الكهربائي )..

---

٣١٧. من التطبيقات المهمة على دوائر التوالي : أ- قانون لنز ب- قانون أوم ج- مجزئ التيار  
د- مجزئ الجهد ... ؟

الحل : ( مجزئ الجهد ) ..

---

٣١٨. عبارة عن تدفق الجسيمات المشحونة : أ- فرق الجهد ب- التيار الكهربائي ج- المقاومة د-  
الجهد الكهربائي؟

الحل : ( التيار الكهربائي )..



٣١٩. عندما يكون فرق الجهد بين نقطتين او اكثر يساوي صفرأ تسمى هذه النقاط .....؟  
الحل : تسمى ب ( سطح تساوي الجهد ) ..

٣٢٠. النسبة بين الشغل اللازم لتحريك شحنة ومقدار تلك الشحنة : أ- شدة التيار ب- فرق الجهد الكهربائي ج- المقاومة الكهربائي د- السعة ؟  
الحل : ( فرق الجهد الكهربائي ) ..

٣٢١. القوة المؤثرة في شحنة اختبار موجبة مقسوماً على مقدارها: أ- شدة التيار ب- شدة المجال الكهربائي ج- الجهد الكهربائي د- السعة ...؟  
الحل : ( شدة المجال الكهربائي ) ..

٣٢٢. اي مما يلي لا يعد تطبيقاً على القوى الكهرو سكونيه : أ- طلاء السيارات ب- تجميع السناج من المداخل ج- تفريغ السفن د- آلات التصوير . ؟  
الحل : ( تفريغ السفن ) ..

٣٢٣. الشحنة الأساسية هي مقدار شحنة : أ- ١٥ كولوم ب- النيوترون ج- الكولوم د- الإلكترون ... ؟

الحل : ( الشحنة الأساسية هي مقدار شحنة الإلكترون او البروتون ) ..

- أي مما يأتي شحنة في الطبيعة :

أ-  $3.2 \times 10^{-19}$  ب-  $2 \times 10^{-19}$  ج-  $3.5 \times 10^{-19}$

ابحث في الخيارات عن العدد الذي يقبل القسمة على  $(e=1.6 \times 10^{-19})$  وينتج عن القسمة عدد صحيح هنا الأجابة (أ).

٣٢٤. عملية توصيل جسم بالأرض للتخلص من الشحنات الزائدة : أ- التوصيل ب- التفريغ ج- التأريض د- الحث ... ؟

الحل : عملية ( التأريض ) ..

٣٢٥. يستخدم في تحديد نوع شحنة الجسم : أ- الاميتر ب- مولد فان دي جراف ج- الكشاف الكهربائي د- المكثف ... ؟

الحل : ( ج الكشاف الكهربائي ) ..

٣٢٦. تسمى عملية شحن جسم متعادل عن طريق ملامسته بجسم آخر مشحون ب: أ- التفريغ ب- التأريض ج- الحث د- التوصيل ... ؟

الحل : تسمى هذا العملية ( الشحن بالتوصيل ) ..

٣٢٧. يقاس الطول الموجي للضوء بواسطة : أ- العدسات ب- المنظار ج- المجهر د- محزوز الحيود؟

الحل : بواسطة ( محزوز الحيود ) ..

٣٢٨. اين يجب وضع الجسم بحيث تكون المرآة المقعرة صورة مصغرة: أ- بين البؤرة ومركز التكور ب- بين البؤرة والمرآة ج- خلف مركز التكور .. ؟

الحل : لكي تكون الصورة مصغرة يجب وضع الجسم ( خلف مركز التكور ) ..

٣٢٩. تكون المرآة المحدبة دائماً صورة : أ- وهمية معتدلة مصغرة ب- حقيقية معتدلة مكبرة ج- وهمية مقلوبة مصغرة د- حقيقية مقلوبة مصغرة. ؟

الحل : ( وهمية معتدلة ومصغرة ) كالصور التي تعطى المرايا الجانبية في السيارات ..

٣٣٠. المسافة بين قطب المرآة وبؤرتها : أ- البعد الثانوي ب- البعد الابتدائي ج- البعد البؤري د- نصف قطر التكور ... ؟

الحل : ( البعد البؤري ) ..

---

٣٣١. نقطة تجمع الأشعة بعد انعكاسها عن المرآة: أ- الثقل ب - المركز ج- البؤرة د- المحور ... ؟

الحل : هي ( البؤرة ) ..

---

٣٣٢. من الكواشف الصوتية التي تستقبل موجات الضغط : أ- التلسكوب ب- المجهر ج- مكبر الصوت د- الأذن البشرية ... ؟

الحل : هي ( الأذن البشرية ) من اهم الكواشف الصوتية ..

---

٣٣٣. يقاس مستوى الصوت بوحدة : أ- التسلا ب- الكاندلا ج- الديسبل د- الكلفن ؟

الحل : هي ( الديسبل ) ..

---

٣٣٤. الميكروفون احد الكاشفات الشائعة حيث يحول الصوت الى طاقة ؛ أ- حرارية ب- مغناطيسية ج- كهربائية د- ضوء ... ؟

الحل : هي ( كهربائية ) ..

---

٣٣٥. موجات تحتاج إلى وسط مادي لكي تنتقل : أ- الموجات السماوية ب- الموجات الكهرومغناطيسية ج- موجات الصوت د- موجات الضوء .... ؟

الحل : ( موجات الصوت ) ..

---

٣٣٦. كمية الحرارة اللازمة لرفع درجة حرارة (1Kg) من المادة درجة واحدة : أ- الطاقة ب- الحرارة النوعية ج- الجول د- السعة الحرارية ؟

الحل : (الحرارة النوعية) ..

---

٣٣٧. التغيرات في أنماط الطقس تحدث بسبب ظاهرة : أ- الانكماش الحراري ب - الاشعاع الحراري ج- الحمل الحراري د- التوصيل الحراري .... ؟

الحل : ( الحمل الحراري ) ، وكذلك تسبب الاضطرابات الجوية ..

---

٣٣٨. يتم الوصول الى درجات حرارة منخفضة من خلال: أ- جعل السائل يتجمد ب- تبريد الماء ج- تجميد الماء د- جعل الغاز سائل ... ؟  
الحل : هي ( من خلال جعل الغاز سائل ) ..

---

٣٣٩. نقطة تجمد الماء هي : أ- 373K ب- 10K ج- 273k د- 0k ..... ؟  
الحل : (273K) في النظام الأساسي الكلفن ... اما في السلسيوس يساوي 0 ..

---

٣٤٠. متوسط الطاقة الحركية للجزيئات تعبر عن : أ- كمية الحرارة ب- درجة الحرارة ج- الطاقة الحرارية د - الحرارة النوعية .. ؟  
الحل : ( درجة الحرارة ) ..

---

٣٤١. عند مضاعفة سرعة كرة فإن طاقتها الحركية : أ- تبقى ثابتة ب- تتضاعف مرتين ج- تتضاعف ٨ مرات د - تتضاعف ٤ مرات ... ؟

الحل : تتضاعف ٤ مرات حسب قانون الطاقة الحركية ..  $KE=1/2mv^2$

٣٤٢. التغير في الطاقة الحركية يسمى : أ- الزخم ب- الطاقة ج- كمية الحركة د- الشغل ... ؟  
الحل : الشغل ، حسب نظرية الشغل - الطاقة ..

---

٣٤٣. يكون الزخم محفوظاً في النظام : أ- المعزول فقط ب- المفتوح فقط ج- المغلق والمعزول د- المغلق فقط ... ؟

الحل : ( الزخم محفوظاً في النظام المغلق والمعزول ) ..

---

٣٤٤. يعتبر الزخم من الكميات الفيزيائية : أ- القياسية ب- المتجهة ج- العددية د- الأساسية .... ؟

الحل : الزخم كمية متجهه (يحدد بمقدار واتجاه ) ..

٣٤٥. حاصل ضرب كتلة الجسم في سرعته المتجهه : أ- القدرة ب- الدفع ج- التسارع د - الزخم ..؟

الحل : الزخم ..

٣٤٦. نقطة على الجسم تتحرك بالطريقة نفسها التي يتحرك بها الجسيم النقطي : أ- محور الدوران ب- العزم ج- مركز الكتلة د- نقطة الازدواج ؟

الحل : مركز الكتلة ..

٣٤٧. إذا كانت القوة العمودية تساوي (20N) ومعامل الاحتكاك الحركي يساوي (0.1) احسب قوة الاحتكاك الحركي؟؟

الحل : تعويض مباشر القوة العمودية في معامل الاحتكاك الحركي للسطح الإجابة هنا (2N) ..

٣٤٨. ممانعة الجسم لأي تغير في حالة من السكون او الحركة : أ- القوة المحصلة ب - الازاحة ج- القصور الذاتي د- قانون نيوتن الثاني ..؟

الحل : ( القصور الذاتي ) ..

٣٤٩. الميزان داخل المصعد يقرأ الوزن الحقيقي عندما يكون المصعد أ- متزناً ب- متسارع للأعلى ج- متسارع للأسفل د -جميع الإجابات صحيحة ؟

الحل : أ ( القراءة الصحيحة عندما يكون المصعد متزناً) ..

٣٥٠. تعتبر اقدم محطة إذاعة في الولايات المتحدة هي محطة (KDKA) وهي تعمل عند تردد يبلغ 1.02 في عشره اس6 ماهو الطول الموجي لها؟؟؟

الحل : يحسب هذا المثال عن طريق ( الطول الموجي يساوي سرعة الضوء في الفراغ مقسومة على تردد الموجة).. ←الطول الموجي= $(3 \times 10^8 / 1.02 \times 10^6) = 294m$ .

٣٥١. إذا بذلت قوة مقدارها مقدارها F وازيحت بمقدار d لتنتج شغل مقداره W اذا تضاعفت الازاحه وبقي الشغل ثابت فكم مقدار F ؟

الحل : F/2 .

٣٥٢. شخص كتلته على الارض 100 كم كتلته على سطح القمر ؟

الحل : الكتلة على سطح القمر نفسها على سطح الارض لا تتغير..

٣٥٣. للحصول على شبه موصل من النوع (n) نضيف لشبة الموصل ذرة شائبة : أ- ثلاثية التكافؤ ب- رباعية التكافؤ ج- خماسية التكافؤ ... ؟.

الحل : نستخدم ذرة خماسية التكافؤ ... مثل ( الزرنيخ As و الفسفور P) ..

٣٥٤. لو اصطدم عصفور في سيارة ثابتة هل الزخم قبل الاصدام للعصفور اكبر ام السيارة ؟

الحل : بما ان السيارة ثابتة ، إذًا هنا زخم العصفور اكبر بسبب ان الزخم يعتمد على عاملين هما ( السرعة والكتلة ) والسيارة ثابتة (  $v=0$  ) زخمها 0 ..

٣٥٥. عند تسخين الغاز مع بقاء الضغط ماذا يحدث ؟

الحل : يزداد حجم الغاز بارتفاع درجة الحرارة ... حسب قانون شارل ... لاحظ عند تبريد الغاز مع ثبات الضغط ينقص الحجم ، اما عند التسخين وعند ضغط ثابت يزداد حجم الغاز ..

٣٥٦. اذا كانت السرعة الزاوية للجسم هي 5 فكم تكون تردد حركته؟؟

الحل : التردد هنا يساوي = السرعة الزاوية مقسومة على 2 باي .. اي  $(2.5\pi)$

٣٥٨. اتجاه التيار الحثي يعاكس التغير في المجال المغناطيسي الذي يسبب ذلك التيار الحثي هذا نص قانون؟ ١- هنري ٢- اورستد ٣- فارادي ٤- لنز ؟

الحل : قانون لنز ..

٣٥٩. مرآة كروية تكبيرها 3 وضع امامها جسم طوله 10cm ما طول صورة الجسم بcm؟  
60 , 10 , 20 , 30 , ؟

الحل : ( 30 )  $m = h_i/h$  ← بضرب وسطين بطرفين تصبح (  $h_i = 10 \times 3 = 30\text{cm}$  ) الصورة مكبره .

٣٦٠. هل حركة السلك بموازه المجال المغناطيسي تولد تيار ؟

الحل : حسب أورستد ، اذا مر تيار كهربائي في سلك فانه سوف يتولد حول هذا السلك مجال مغناطيسي ..

٣٦١. احسب تسارع سيارة اذا تغيرت سرعتها من 50 m/s الى 100 m/s خلال زمن 20s  
؟؟؟

الحل : (  $a = \frac{v_2 - v_1}{t}$  ) إذا الإجابة هي  $2.5 \text{ m/s}^2$  ..

٣٦٢. احسب طاقة فوتون تردد  $1 \times 10^{15} \text{ Hz}$  علما بأن ثابت بلانك يساوي (  $h = 6.63 \times 10^{-34} \text{ J.s}$  )  
؟؟

الحل : تعويض مباشر (  $E = hf$  ) الإجابة  $6.6 \times 10^{-19} \text{ J}$   
وللتحويل الى ev نقسم الناتج على شحنة الإلكترون يصبح الناتج تقريباً 4ev ..

٣٦٣. إذا كان زخم دراجة هوائية  $250 \text{ kg.m/s}$  وكانت كتلتها 50kg احسب سرعتها ؟؟؟  
الحل : من قانون الزخم (  $P = mv$  ) اذا السرعة تساوي (  $v = P/m$  ) اذا الإجابة هي ( 5m/s ) ..

٣٦٣. القوى التي تحافظ على بقاء النيوكلونات في النواة تسمى : أ- قوة تنافر ب- القوى النووية الضعيفة ج- القوى النووية القوية ... ؟

الحل : ( القوة النووية القوية ) ونوعها قوة تجاذب ..

٣٦٤. سلسلة الأطياف المرئية في ذرة الهيدروجين : أ- بالمر ب- ليمان ج- باشن د- هوند.. ؟

الحل : سلسلة ( بالمر ) ، وتتبعث منها الخطوط الأربعة المرئية في طيف الهيدروجين ( الأحمر- الأخضر - الأزرق - البنفسجي )..

٣٦٥. يستخدم في نقل القدرة وتغيير الجهد : أ- المولد ب- المحول ج- الاميتر د- الجلفانوميتر ... ؟

الحل : ( المحول ) ، وينقسم الى محول رافع وخافض ، ولا يعمل إلا مع التيار المتناوب ( المتردد ) AC

٣٦٦. عند استخدام القاعدة الثالثة لليد اليمنى لإلكترون يتحرك عمودي على مجال مغناطيسي يشير الإبهام لاتجاه ???

الحل : يشير الإبهام في قاعدة اليد اليمنى الثالثة الى ( اتجاه التيار ) ..

٣٦٧. يتولد الهدب المركزي المضيء عندما تكون (m) تساوي : أ- صفر. ب-1. ج- 2. د- 3..... ؟

الحل : تكون رتبة الهدب المضيء (m) تساوي صفر اذا كانت للهدبة المركزية ..

٣٦٨. تكون العدسة المقعرة دائماً صورة: أ- حقيقية معتدلة مصغرة ب- وهمية معتدلة مكبرة ج- وهمية معتدلة مصغرة د- وهمية مقلوبة مصغرة.. ؟

الحل : ( وهمية معتدلة مصغرة ) - العدسة المقعرة مثل المرآة المحدبة ..

٣٦٩. تستعمل موازين كافندش الحديثة لقياس : أ- قوة التنافر بين الاجسام ب- كتلة الاجسام ج- قوة المجال د- قوة الجذب بين الاجسام .. ؟

الحل : د ( قوة الجذب بين الاجسام ) ..



٣٧٠. مرآه كان تكبير الجسم 3cm وبعد الجسم 10cm اوجد بعد الصورة ؟

الحل : 30 cm ، لكن التكبير ليس له وحده قياس ..

٣٧١. دقة القياس تساوي : أ- نصف اكبر تدريج ب- ربع أصغر تدريج ج- نصف أصغر تدريج د- أصغر تدريج .... ؟

الحل : ج... نصف أصغر تدريج ..

٣٧٢. يكون العزم اكبر مايمكن في حالة كانت الزاوية بين القوة ونصف قطر الدوران تساوي ؟.....

الحل : تسعين درجة ..

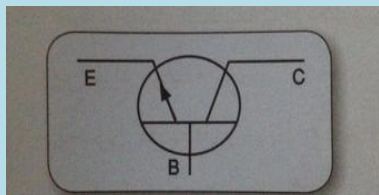
٣٧٣. تبث إذاعة القرآن الكريم على تردد قدره  $(1 \times 10^5 \text{ Hz})$  ، احسب الطول الموجي لهذا التردد علما بأن سرعة الموجة  $(3 \times 10^8 \text{ m/s})$  ؟؟

الحل :

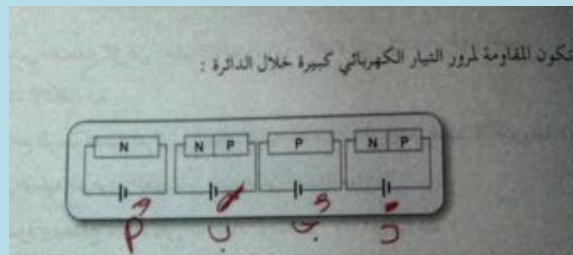
$$\lambda = \frac{c}{f} = \frac{3 \times 10^8}{1 \times 10^5} = 3 \times 10^3 \text{ m}$$

٣٧٤. الترانستور في الشكل المقابل من النوع ؟؟؟

الاجابه : هي من النوع nPn ..



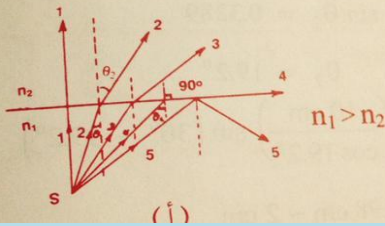
٣٧٥. سؤال ؟



الحل : د- ب كلاهما نفس التوصيل .... في حالة التوصيل العكسي اي عندما يتم توصيل القطب السالب ( المهبط ) مع البلورة P والقطب الموجب ( المصعد ) مع البلورة n ..

٣٧٧. اي مما يلي يمثل الزاوية الحرجة الشعاع رقم كم؟؟؟

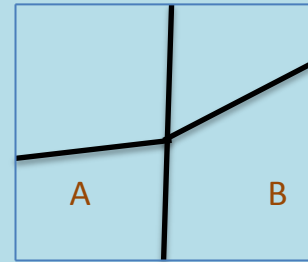
الحل : الشعاع رقم ٤



٣٧٨. أي المادتين لها معامل انكسار اكبر ؟

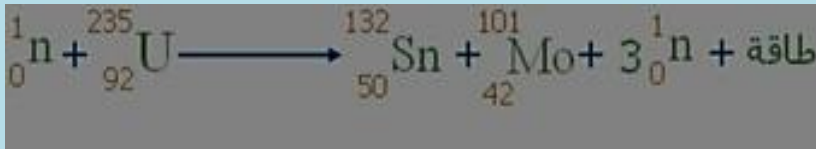
الحل :

لان B :



٣٧٩. التفاعل الذي تحدث فيه عملية الانشطار النووي تسمى ( التفاعل المتسلسل ) مثل هذه

المعادله :



تعتمد طاقة الربط النووية على عدد النيكلونات ، وكلما اقترب عدد النيكلونات من نواة الحديد كانت أكثر ترابطاً واستقراراً ..

٣٨٠. كم من الوقت يلزم لبطارية جهده 12v لتنتج طاقة مقدارها 600 J في دائرة كهربائية

يمر بها تيار مقداره 0.5 A؟؟؟

الحل :

الحل :

$$V = 12 \text{ Vol } t$$

$$E = 600 \text{ J}$$

$$I = 0.5 \text{ A}$$

$$t = ??$$


---

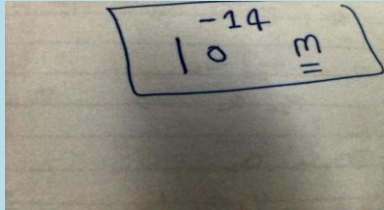
الحل :

$$E = P t$$

$$E = (I V) t$$

$$t = \frac{E}{I V} = \frac{600}{(0.5) \times (12)}$$

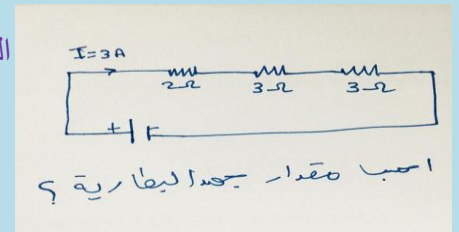
$$t = \frac{600}{6} = 100 \text{ Sec}$$



٣٨١. نصف قطر النواة ، حسب قياسات رذرفورد :

٣٨٢. سؤال؟

الحل



المعطيات :-  
 $I = 3A$   
 $R_1 = 2\Omega$   
 $R_2 = 3\Omega$   
 $R_3 = 3\Omega$   
 $V = ??$   
 ا) الجهد في التوصيل على التوالي يتجزأ  
 و التيار ثابت

اكد! - لوجود الجهد عند كل مقاومة :-  
 $V_1 = I R_1 = (3) \times (2) = 6 \text{ فولت}$   
 $V_2 = I R_2 = (3) \times (3) = 9 \text{ فولت}$   
 $V_3 = I R_3 = (3) \times (3) = 9 \text{ فولت}$   
 - مقدار جهد البطارية :-  
 $V = V_1 + V_2 + V_3$   
 $V = 24 \text{ فولت}$  فهو المقاطع

٣٨٣. سؤال هام على موضوع عمر النصف ؟ عمر النصف لنظير النبتونيوم ( ${}^{239}_{92}NP$ ) هو

( 2 يوم) فإذا أنتجت عينه كتلتها (4 g) من النبتونيوم يوم الاثنين فما الكتل التي ستبقى منه يوم الثلاثاء من الاسبوع التالي ؟ الحل :

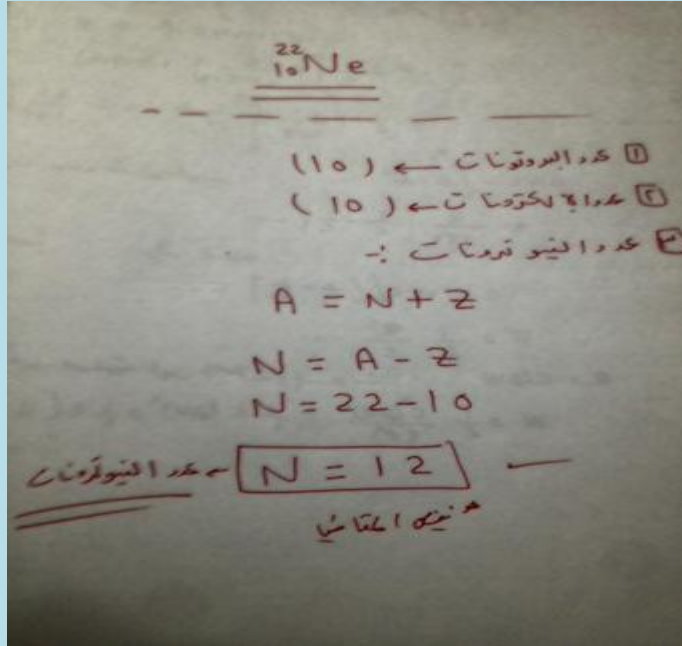
المعطيات :-  
 عمر النصف = 2 يوم  
 الفترة الزمنية = 7 أيام  
 كتلة النبتونيوم الأصلية = 4 g  
 المطلوب :-  
 كتلة النبتونيوم المتبقية

اكد :-  
 $t = \frac{\text{الفترة الزمنية}}{\text{عمر النصف}} = \frac{7}{2} = 3.5$   
 $t = 4$   
 الكتلة المتبقية = كتلة النبتونيوم  $\times (\frac{1}{2})^t$   
 $4 \times (\frac{1}{2})^4 = 4 \times (\frac{1}{16})$   
 $\frac{4}{16} =$  الكتلة المتبقية  
 الكتلة المتبقية = 0.25 g

٣٨٤. القوى التي تحافظ على بقاء النيوكليونات في النواة تسمى : أ- قوة تنافر ب- القوى النووية الضعيفة ج- القوى النووية القوية..

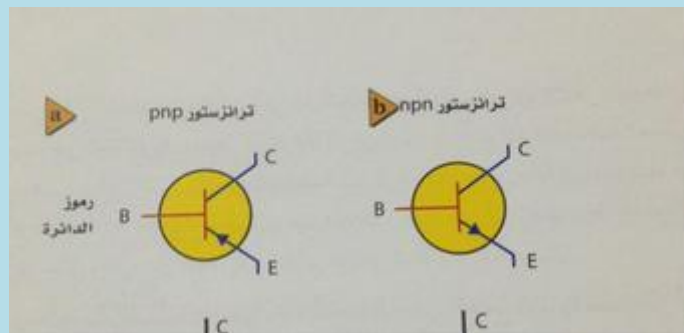
الحل : ( القوة النووية القوية ) ونوعها قوة تجاذب...

٣٨٥. احسب عدد البروتونات والنيوترونات والإلكترونات في نواة ذرة النيون؟؟



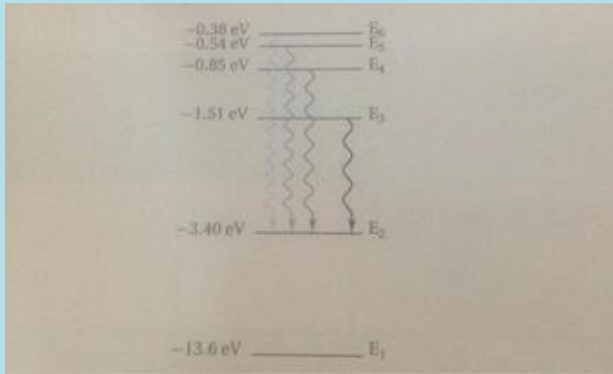
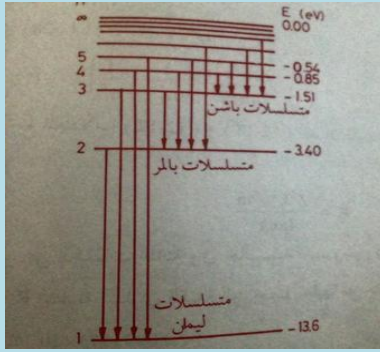
تتكون النواة من بروتونات موجبة الشحنة ، ونيوترونات غير مشحونة..

٣٨٦. انواع الترانزستورات : ١- npn ب- pnp كما هو موضح بالرسم :



الفرق بينهما في اتجاه السهم ..

٣٨٧ ليمان اشعة فوق بنفسجية ، بالمر ضوء مرئي ( أربعة ألوان من طيف ذرة الهيدروجين ) ،  
باشن اشعة تحت حمراء ...

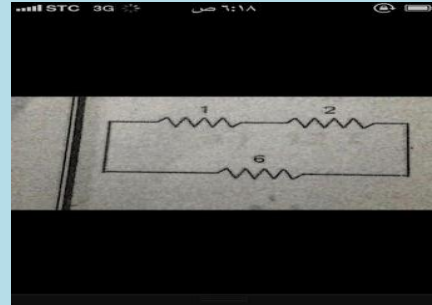


٣٨٨. أجب عن السؤال التالي

الحل :

أي تحول مسؤول عن انبعاث ضوء بأكبر تردد؟  
 E<sub>6</sub> إلى E<sub>3</sub> (C)      E<sub>3</sub> إلى E<sub>2</sub> (A)  
 E<sub>6</sub> إلى E<sub>2</sub> (D)      E<sub>2</sub> إلى E<sub>3</sub> (B)

٣٨٩. احسب المقاومه المكافئه في هذه الدائرة؟؟

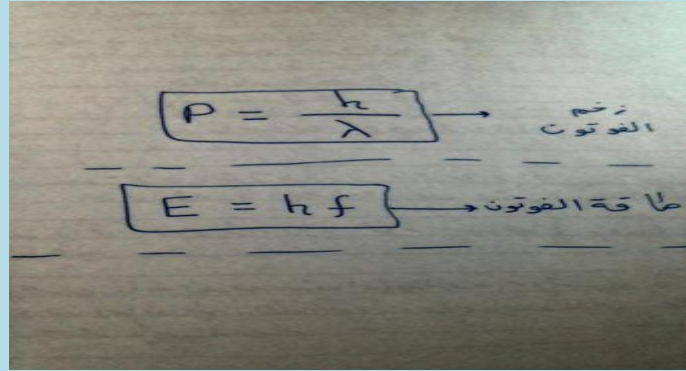


الحل : الدائرة موصولة على التوالي ( لان التيار المار في جميع المقاومات واحد اذا الإجابة  
مجموع هذه المقاومات ..

٣٩٠. تسير الفوتونات بسرعة الضوء ورغم انه ليس لها كتلة إلا ان لها .....؟؟؟

لها ( طاقة وزخم ) وهذه هي العلاقات الرياضية التي تحكمها :

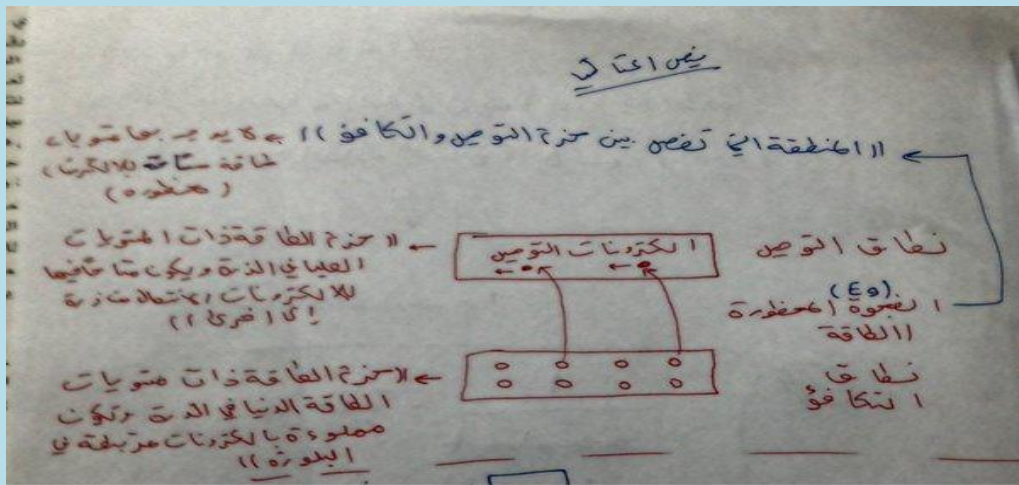




من غير الممكن قياس زخم جسيم وتحديد موقعة بدقة في الوقت نفسه هذا مبدأ هيزنبرغ ، اعتماداً على تشتت كومبتون ..

٣٩١. حزم الطاقة ذات المستويات الطاقة الدنيا في الذرة تسمى : أ- حزم التوصيل ب- فجوة الطاقة ج- المنطقة الممنوعة د- حزم التكافؤ..

الحل : (حزم التكافؤ) وهذا رسم توضيحي لحزم الطاقة أتمنى ان يكون واضح .



٣٩٢. تمر حزمة من ذرات ليثيوم أحادية التأين خلال مجال مغناطيسي شدته  $2 \times 10^8$  T متعامد مع مجال كهربائي مقدار  $6 \times 10^2$  N/C أوجد سرعة الذرات ؟؟

الحل :

هامشاً :-  
عند القصة نخرج الأساس :-  
 $2 - (-3) = 5$

$$v = \frac{E}{B}$$

$$v = \frac{(6 \times 10^2)}{3 (2 \times 10^8)}$$

$$\therefore v = 3 \times 10^5 \text{ m/s}$$

٣٩٣. محول عدد لفات ملفه الابتدائي 200 لفة وعدد لفات ملفه الثانوي 1000 لفة إذا وصل بجهد متناوب فعال مقدار 100V احسب الجهد الثانوي؟؟

الحل :

$$\frac{N_p}{N_s} = \frac{V_p}{V_s}$$

$$\frac{200}{1000} = \frac{100}{V_s}$$

$$V_s = \frac{100 \times 1000}{200} = 500 \text{ Volt}$$

٣٩٤. يتحرك إلكترون عمودي على مجال مغناطيسي شدته (1T) بسرعة ( $1 \times 10^3 \text{ m/s}$ ) احسب مقدار القوة المؤثرة عليه ؟

الحل :

$$F = qvB$$

$$F = (1.6 \times 10^{-19}) \times (1 \times 10^3) \times (1)$$

$$F = 1.6 \times 10^{-16} \text{ N}$$

٣٩٥. في الشكل الجهد (V=9v) ، علماً بأن ( $R_1=2$ ) و ( $R_2=7$ ) احسب فرق الجهد بين طرفي المقاومة ( $R_1$ )؟؟

أولاً نص المقاومة المكافئة (الدائرة موصلة على التوالي) :-

$$R_{eq} = R_1 + R_2 = 2 + 7 = 9 \Omega$$

$$I = \frac{V}{R} = \frac{9}{9} = 1 \text{ A}$$

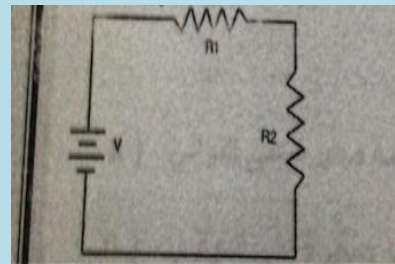
الجهد ضد المقاومة ( $R_1$ )

$$V_1 = I R_1$$

$$V_1 = (1) \times (2)$$

$$V_1 = 2 \text{ Volt}$$

الحل :



٣٩٦. شدة المجال الكهربائي بين لوحين ( $6000 \text{ N/c}$ ) والمسافة بينهما ( $0.05 \text{ m}$ ) احسب فرق الجهد؟؟

الحل :

المعطيات :-

$$E = 6000 \text{ N/C}$$

$$d = 0.05 \text{ m}$$

$$\Delta V = Ed$$

$$\Delta V = (6000) \times (0.05)$$

$$\Delta V = 300 \text{ Volt}$$

٣٩٧. وحدة قياس شدة المجال الكهربائي هي : أ- N ب- J ج- C/N د- N/c ..... ؟

$$E = \frac{F}{q_0}$$

$$E = N/C$$

٣٩٨

الحل :

(١) العدد الكلي  ${}_{28}^{60}\text{Ni}$

شدة البروتونات = ٢٨ إلكترونات = ٢٨  
 شدة النيوترونات  $(N = A - Z)$   
 $N = 60 - 28$   
 $N = 32$  (A) الإجابة هي (A)

(٢)  ${}_{82}^{212}\text{Pb} \rightarrow {}_{83}^{212}\text{Bi} + e^- + \bar{\nu}$

العدد الكلي كما هو  $(Z + 1)$   
 والعدد الذري زاد واحد  $(Z + 1)$   
 هذا  $(\alpha)$  اضمحلال بيتا الإجابة هي (B)

(٣) أ لفا (العدد الكلي متغير بمقدار ٤)  
 والعدد الذري بمقدار ٢  
 الإجابة هي  $({}_{82}^{206}\text{Pb}) \leftarrow (A)$

في نظير النيكل  ${}_{28}^{60}\text{Ni}$  ؟

البروتونات	النيوترونات	الإلكترونات
28	32	28
32	28	28
28	32	32
28	28	32

2. ما الذي يحدث في التفاعلات التالية؟  
 ${}_{82}^{212}\text{Pb} \rightarrow {}_{83}^{212}\text{Bi} + e^- + \bar{\nu}$

(A) اضمحلال ألفا (B) اضمحلال بيتا (C) اضمحلال جاما (D) فقد بروتون

3. ما الناتج عندما يخضع البولونيوم-210  ${}_{84}^{210}\text{Po}$  لاضمحلال ألفا؟

(A)  ${}_{82}^{206}\text{Pb}$  (B)  ${}_{82}^{208}\text{Pb}$  (C)  ${}_{85}^{210}\text{Pb}$  (D)  ${}_{80}^{210}\text{Pb}$

٣٩٩. تفصل مسافة مقدارها (0.4m) بين شحنتين متماثلتين مقدار كل منهما  $(5 \times 10^{-8})$

احسب القوة الكهربائية المتبادلة بينهما ؟

$$F = k \frac{q_1 q_2}{r^2}$$

$$F = (9 \times 10^9) \times \frac{(2 \times 10^{-8}) \times (2 \times 10^{-8})}{(0.4)^2}$$

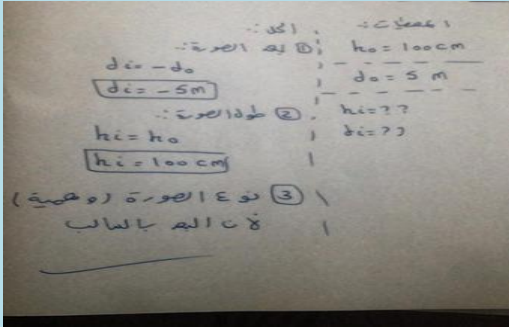
$$F = 22.5 \text{ N}$$

الم



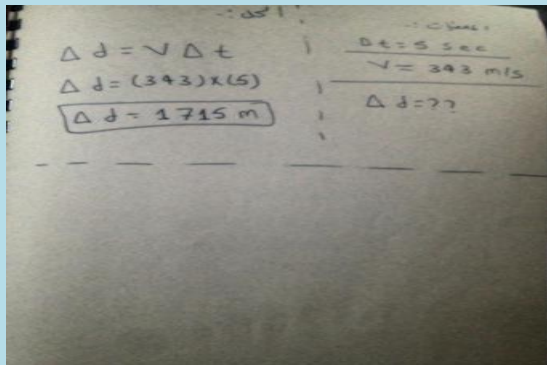
الحل :

٤٠٠. شخص طوله 100cm يقف على بعد 5m من مرآة مستوية وينظر الى صورته ، احسب بعد الصورة وطولها ونوعها ؟



الحل :

٤٠١. إذا سمعت صوت إطلاق قذيفة من مدفع بعيد (5s) من رؤيتك للوميض ، احسب بعد المدفع عنك ( علماً بأن سرعة الصوت في الهواء 343m/s)؟



الحل :

٤٠٢. القناة السمعية في الأذن أنبوب مغلق طوله (3cm) ، اوجد القيمة التقريبية لأقل تردد رنين ؟

الحل :

$$L = \frac{3}{100} = 0.03\text{m}$$

$$V = 343\text{ m/s}$$

$$F_1 = v \sqrt{4L} = \frac{343}{4 \times 0.03} = 2885\text{ HZ}$$

٤٠٣. إذا علمت ان سرعة الصوت عند درجة الصفر المئوي هي (331m/s) فإن سرعة الصوت عند درجة 20 درجة مئوية ؟؟؟؟

الحل :

$$\begin{aligned} v_{(20)} &= (331 + 0.6T) \\ &= (331 + (0.6 \times 20)) \\ \text{ن} \quad &\boxed{v_{(20)} = 343 \text{ m/s}} \end{aligned}$$

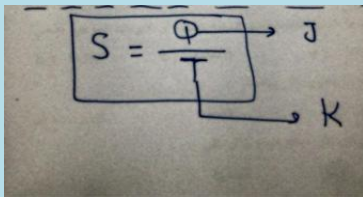
٤٠٤. استطال نابض مسافة (0.1m) عندما علق بنهايته (30N) احسب ثابت الصلابة لهذا النابض ؟؟؟؟

الحل :  $F = -KX$

$$K = \frac{F}{X} = \frac{30}{0.1} = 300 \text{ N/m}$$

٤٠٥. وحدة قياس الانتروبي: أ- K/J ب- J.K ج- J/K د- N ..... ؟.

الحل (J/K) :



٤٠٦. التغير في الطاقة الحرارية لجسم يساوي مقدار الحرارة المضافة إلى الجسم مطروحاً منه الشغل الذي يبذله الجسم ماهو هذا القانون ؟؟؟؟

القانون الأول للديناميكا الحرارية وهذه صيغته الرياضية  $\Delta U = Q - W$

٤٠٧ . مامقدار الطاقة اللازمة لرفع صندوق كتلته (2Kg) من الأرض إلى رف ارتفاعه (5m) فوق سطح الأرض ؟؟؟؟

الحل :  $PE=mgh$

$$=(2) \times (9.8) \times (5) = 98 \text{ J}$$

٤٠٨ . مركبة مكونة من آلتين بسيطتين الفائدة الميكانيكية للأولى 10 والثانية 2 احسب الفائدة الميكانيكية للاله المركبة ؟؟؟؟

الحل :  $MA= MA1 \times MA2$

$$MA=(10) \times (2)$$

$$MA= 20$$

٤٠٩ . يرفع محرك كهربائي مصعد مسافة (10m) خلال (5s) بتأثير قوة مقدارها (1000N) احسب القدرة التي ينتجها المحرك بوحدة (KW)؟؟

الحل :

Handwritten solution for problem 409:

$$P = \frac{W}{t} = \frac{Fd}{t} = \frac{(1000) \times (10)}{5}$$

$$P = 2000 \text{ واط}$$

وللتحويل إلى (KW) نقسم على (1000)

$$\therefore P = \frac{2000}{1000} = 2 \text{ KW}$$

٤١٠ . إذا كان زخم دراجة (2000Kg.m/s) وسرعتها (10m/s) فإن كتلتها تساوي ؟

الحل :

Handwritten solution for problem 410:

$$P = 2000 \text{ Kg} \cdot \text{m/s}$$

$$v = 10 \text{ m/s}$$

$$m = ?$$

الحل :-

$$P = mv$$

$$\therefore m = \frac{P}{v} = \frac{2000}{10}$$

$$\therefore m = 200 \text{ Kg} = 2 \times 10^2 \text{ Kg}$$

٤١١. اثر احمد بقوة عمودية مقدارها (20N) في باب الفصل وعلى بعد (80cm) من محور دورانه احسب العزم الذي اثر به احمد في الباب؟؟

الحل :

المعطيات :-  
 $F = 20 \text{ N}$   
 $L = \frac{80 \text{ cm}}{100} = 0.8 \text{ m}$   
 العزم  
 $\tau = FL$   
 $\tau = (20) \times (0.8)$   
 $\tau = 16 \text{ N}\cdot\text{m}$

٤١٢. عدد الدورات الكاملة التي يدورها الجسم في الثانية الواحدة : أ- التردد الزاوي ب- الراديان ج- التسارع الخطي د - التسارع الزاوي ؟

الحل : التردد الزاوي ، والعلاقة الرياضية لحساب التردد الزاوي هي :

التردد الزاوي (rad/s)  
 $f = \frac{\omega}{2\pi}$

٤١٣. إذا كان التسارع الخطي لسيارة (2 m/s) والتسارع الزاوي لها (4 m/s) احسب نصف قطر السيارة؟؟

الحل :

المعطيات :-  
 $a = 2 \text{ m/s}^2$   
 $\alpha = 4 \text{ m/s}^2$   
 $r = ??$   
 الحل :-  
 $a = r\alpha$   
 $\therefore r = \frac{a}{\alpha}$   
 $r = \frac{2}{4} = 0.5 \text{ m}$   
 - العلاقات التي تربط الحركة الخطية بالحركة الدورانية :-  
 1)  $v = r\omega$   
 2)  $\tau = r\omega$   
 3)  $a = r\alpha$

٤١٤. إذا كان قطر إطار سيارتك (1.5m) وتتحرك بسرعة (3m/s) احسب السرعة الزاوية للإطار بوحدة rad/s؟؟؟؟

الحل :

المعطيات :-  
 القطر  
 $2r = 1.5m$   
 $r = \frac{1.5}{2} = 0.75m$   
 $v = 3m/s$   
 $\omega = ??$   
 الحل :-  
 $v = r\omega$   
 $\omega = \frac{v}{r}$   
 $\omega = \frac{3}{0.75}$   
 $\omega = 4 \text{ rad/s}$

٤١٥. جسمان متساويان في الكتلة قوة التجاذب بينهما تساوي : أ-  $Gm^2/r^2$  ب-  $Gm^2$  ج-  $GM/r$  د-  $Gr/m$  ... ؟

الحل : أ


$F = G \frac{m_1 m_2}{r^2}$   
 وفي حالة تساوي الكتلة :-  
 $F_G = G \frac{m^2}{r^2}$

٤١٦. يسير جسم في مسار دائري نصف قطره (2m) تسارعة المركزي (8m/s^2) احسب سرعته الخطية؟

الحل :

$a_c = \frac{v^2}{r}$   
 $v^2 = a_c r$   
 $v = \sqrt{8 \times 2}$   
 $v = \sqrt{16}$   
 $v = 4 \text{ m/s}$

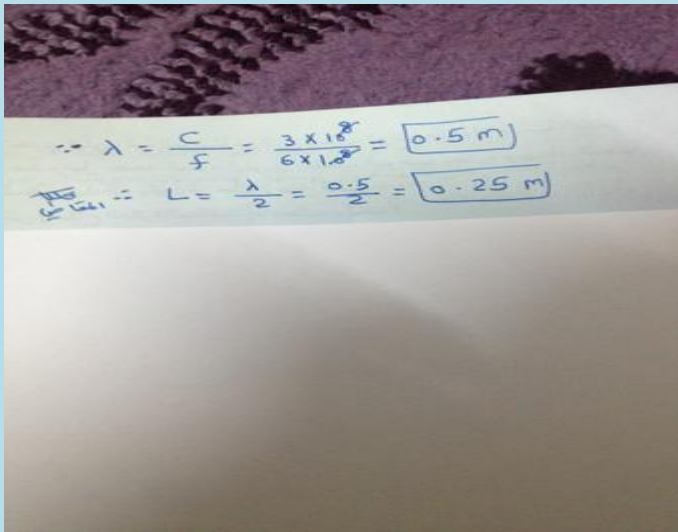
٤١٧ . مامقدار الطاقة الحركية للإلكترون المتحرر؟؟



الرسم يوضح طاقة الفوتون الساقط ،  
 وطاقة ارتباط الإلكترون بسطح المعدن ،  
 ومنها نستطيع حساب الطاقة الحركية  
 للإلكترون المتحرر ...  
 طاقة الفوتون الساقط -


الطاقة اللازمة لتحرير الإلكترون من المعدن

٤١٨ . موجة كهرومغناطيسية ترددها ( 6 في عشرة اس 8 هيرتز ) ، احسب طول الهوائي اللازم لاستقبالها بفاعلية ؟



الحل :

٤١٩ . اذا كان طول الهوائي ربع متر فإن طول الموجة التي يستقبلها يبلغ؟؟؟



الحل : نصف

٤٢٠. أي العبارات التالية صحيحة ؟ (١) الغازات الباردة تبعث الأطوال الموجبة نفسها التي تبعثها عندما تثار . (٢) الغازات الباردة تؤين الأطوال الموجبة عندما تثار . (٣) الغازات الباردة تمتص الأطوال الموجبة التي تبعثها عندما تثار ؟

الحل : الغازات الباردة ومنها الهيدروجين تعمل على التأين في حالة الإثارة الإجابة الأقرب هي ب..

Handwritten derivation of the unit of work (Joule):

$$W = F \cdot d$$

$$= N \cdot m$$

$$= kg \cdot \frac{m}{s^2} \cdot m$$

$$W = kg \cdot \frac{m^2}{s^2}$$

الشغل

٤٢١. ماهي وحدة قياس الشغل اذا كان :  $w = ma \times d$   
الحل :

٤٢٢. عند اصطدام جسمان واحد كانت سرعته عاليه والثاني أقل سرعه والتحموا فما محصلة سرعتهما ؟

أ: اقل من الابطأ.

ب: اسرع من الجسمين

ج: بين سرعة الجسمين

الحل : عند الالتحام كتله السيارتان أصبحت واحدة وعند الالتحام ( الالتصاق ) السرعة راح تقل ( الإجابة أ.. )

٤٢٣. شكل المجال المغناطيسي ؟

أ: خطوط مستقيمه

ب: حلقات مفتوحه

ج: حلقات مغلقه

الحل : حلقات مغلقة ..




٤٢٤. كم عدد القوة المؤثرة على الكرة ؟

أ: صفر

ب: واحد

ج: اثنتان

الحل : قوتان ..



٤٢٥. اذا كان  $t=0.5$  و  $f=200\text{hz}$  و  $d=100\text{m}$  فاوجد لمدا ؟

الحل :

$$\lambda = \frac{v}{f}$$

$$v = \frac{d}{t} = \frac{100}{0.5} = 200 \text{ m/s}$$

$$\therefore \lambda = \frac{200}{200} = 1 \text{ m}$$

في هذه المعادلات

المعطيات :-  
 $t = 0.5 \text{ sec}$   
 $f = 200 \text{ Hz}$   
 $d = 100 \text{ m}$   
 $\lambda = ??$

٤٢٦. في نواة النيتروجين  ${}_{14}^7\text{N}$

أ: 14 من البروتونات

ب: 7 من البروتونات و 7 من النيوترونات

ج: 14 من النيوترونات

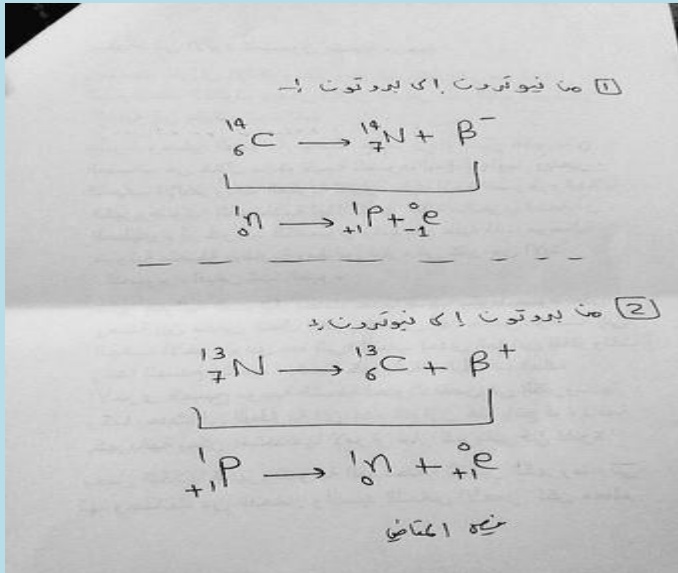
د: 14 من البروتونات و 7 من الالكترونات

الحل : ب

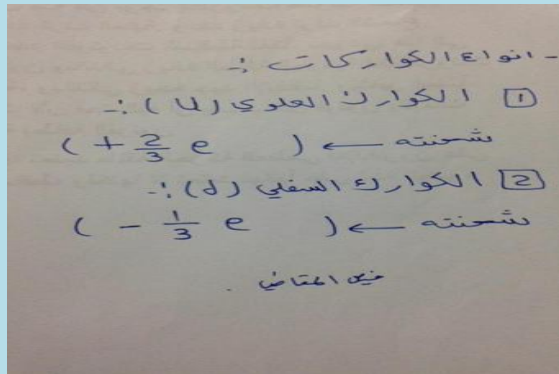


٤٢٧. شرح لما يتحول البروتون الى نوترون ماهو الجسيم الي بينطلق ... او العكس من نوترون الى بروتون مع معادلة ؟

عند تحول النيوترون في النواة الى بروتون ينتج ( جسيم بيتا السالب عند تحول البروتون الى نيوترون ينتج البوزيترون ) جسيم بيتا الموجب



٤٢٨. انواع الكواركات :



٤٢٩. أي الاتي يمثل خاصية فيزيائية ؟

أ : صدء الحديد .. ب: احتراق قطعة خشب ..

ج: فقدان الفضة بريقها .. د: توصيل النحاس للكهرباء ..

الحل : د هي الأصح ...

٤٣٠. اصغر جزء من العنصر يحمل صفات العنصر ؟؟

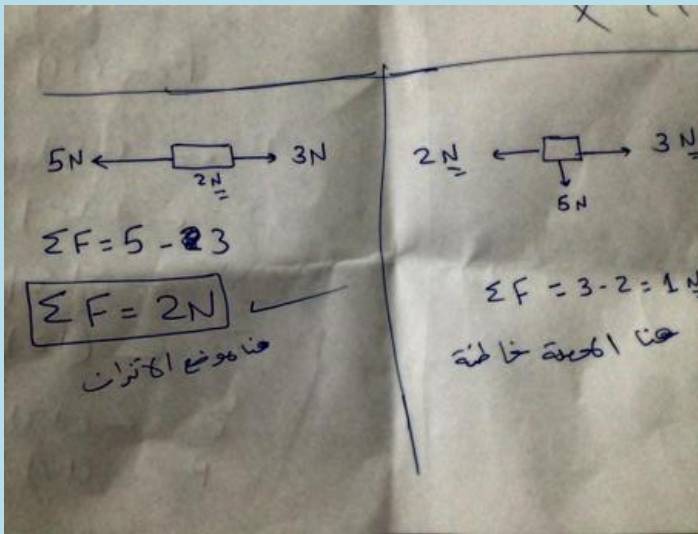
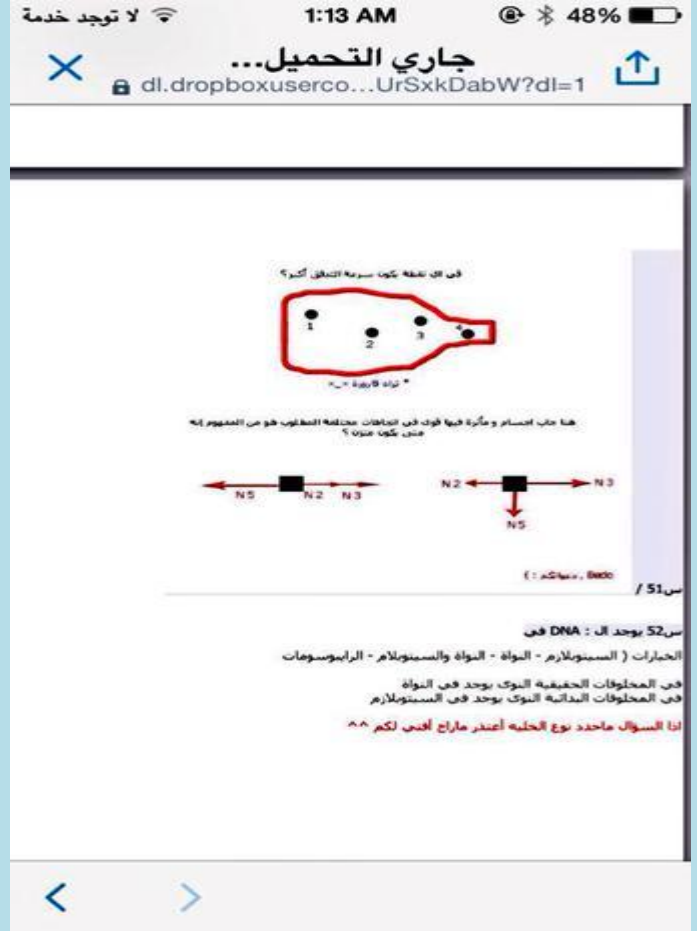
أ : الذرة .. ب: الالكترن ..

ج: البروتون .. د: النيوترون ..

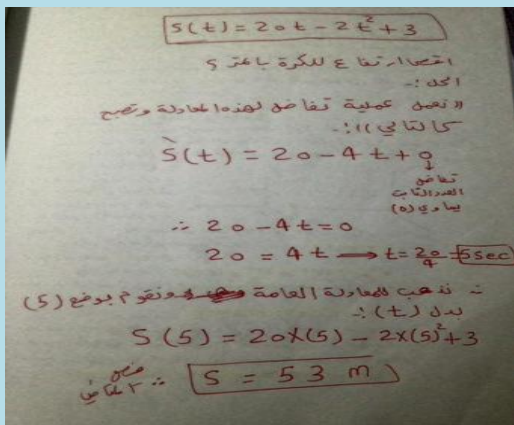
الحل : الذره

٤٣١

الحل : السؤال الأول سرعة التدفق تكون كبيره عند النقطة ٤ ، أما السؤال الثاني حسب ناتج المحصلة يكون موضع الاتزان



٤٣٢ . قذف حارس مرمى الكرة الى اعلى ، اذا كانت المسافه الرأسية التي تقطعها الكرة بالمتري بعد  $t$  ثانية تعطى بالعلاقة :  $s(t) = 20t - 2t^2 + 3$




ما اقصى ارتفاع للكرة بالمتري ؟؟

أ : 153 .. ب : 53

ج : 50 .. د : 5

٤٣٣



الحل : يكون  $700 \text{ N/m}$  ، أولاً التحويل الى  $m$  بالقسمة على  $100$  وتكون  $x=0.08m$  والقانون)  
..  $K=F/X$

٤٣٤ . طلب المعلم من طلابه ايجاد مقدار الشحنة الكهربائية بالكولوم لجسم ما وعندما نظر المعلم الى اجابات الطلاب عرف فوراً ان اجابة واحدة فقط صحيحة وهي :

أ :  $10 \cdot 10^{-19}$  ب :  $5 \cdot 10^{-19}$

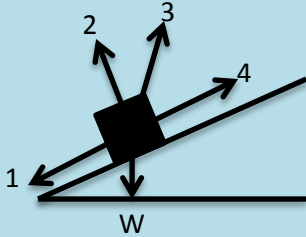
ج :  $4.4 \cdot 10^{-19}$  د :  $3.2 \cdot 10^{-19}$

الحل : مقدار الشحنة تأخذ دائماً مضاعفات العدد ( $1.6 \cdot 10^{-19}$ ) الإجابة (د) ، وهذا استنتاج العالم ميليكان ..



الحل : النقطة  $a$  في اتجاه المصعد ( الأنود ) الموجب ، والنقطة  $b$  لي اتجاه المهبط ( الكاثود ) السالب ..

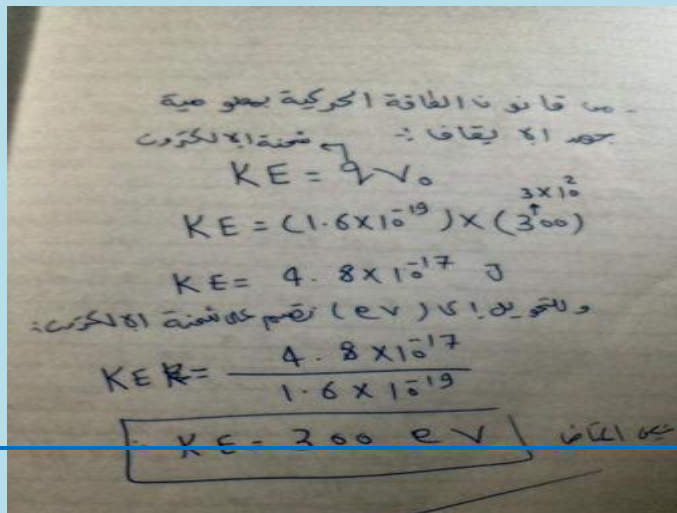
٤٣٦ . ادناه ينزلق جسم وزنه  $w$  على سطح مائل، أي من الاسهم الاربعه تمثل القوة العمودية  $FN$



الحل : ١- قوة الحركة ٢- القوة العمودية ٣- الوزن ٤- قوة الاحتكاك ..

٤٣٧ . اذا كان فرق الجهد يساوي  $300V$  احسب الطاقة الحركية بوحدة  $ev$ ؟؟

الحل :



٤٣٨. أشعة جاما عبارة عن :

أ: فوتونات ذات طاقة عاليه .. ب: جسيمات متفاوتة الشحنة ..

ج: جسيمات موجبه .. د: الكترونات تنبعث من النواة ..

الحل : فوتونات ذات طاقة عالية ..

٤٣٩. مامقدار التردد بوحدته الهرتز عند الرنين الثاني لانبوب مغلق من طرف واحد طولة 15cm معتبرا سرعه الصوت 343 m/s ؟

الحل :

$$f = \frac{v}{\lambda}$$

$$L = 15 \text{ cm} \rightarrow 0.15 \text{ m}$$

$$L = \frac{3\lambda}{4}$$

$$3\lambda = 4L$$

$$\lambda = \frac{4L}{3} = 0.2 \text{ m}$$

$$f = \frac{343}{0.2} = 1715 \text{ Hz}$$

٤٤٠. مقدار العزم الناشئ عن قوه مقدارها 260N تؤثر عموديا على نقطة تبعد عموديا 10cm عن محور الدوران يساوي بوحدته 2600 260 260 0 N.m ؟

الحل : r تم تحويلها الى متر بالقسمة على 100

$$\tau = r F \sin \theta$$

$$\tau = (260) \times (0.1) \times \sin 90^\circ$$

$$\tau = 26 \text{ N} \cdot \text{m}$$

٤٤١. اذ كانت درجة الحرارة على القياس المئوي 50c فإن درجة الحرارة المطلقة المقابلة لها بوحدته الكلفن: ؟

الحل :

$$T_K = T_c + 273$$

$$T_K = 50 + 273$$

$$T_K = 323 \text{ K}$$

٤٤٢. مصباح مكتوب عليه  $W = 5$  فاذا كان فرق الجهد بين طرفيه  $20V$  فان التيار المار فيه ؟ ١-  
 ٠.٠٢٥ ٢-١٠٠ ٣-٠.٢٥ ٤-١٠٠٠ ؟

المعطيات :-  
 $P = 5 \text{ W}$   
 $V = 20 \text{ V}$   
 $I = ??$   
 الحل :-  
 $P = I V$   
 $I = \frac{P}{V} = \frac{5}{20}$   
 $I = 0.25 \text{ A}$

الحل :

٤٤٣. مامعنى طاقة الذرة المهتزة ؟ وماهو الجواب الصحيح

طاقة الذرة المهتزة  
 $E = n h f$   
 عدد كمي صحيح  
 $E = \frac{4}{2} h f$   
 $E = 2 h f$   
 عدد صحيح

أ:  $\frac{4}{2} h f$  .. ب:  $\frac{5}{3} h f$  .. ج:  $\frac{3}{2} h f$  .. د:  $\frac{4}{3} h f$

الحل :

٤٤٤. الموجه الاعلى طاقة مما يلي هي التي لها طول موجي ؟

أ: 666nm .. ب: 666km

ج: 666m .. د: 666mm

الحل : أ - لان الأعلى طاقة اعلى تردد ، اذا الإجابة أقصر طول موجي..

٤٤٥. كم من الوقت يلزم لبطارية جهدها  $12V$  لتنتج طاقة مقدارها  $600J$  في دائرة كهربائية يمر بها تيار مقداره  $0.5A$  ؟؟

المعطيات :-  
 $V = 12 \text{ V}$   
 $E = 600 \text{ J}$   
 $I = 0.5 \text{ A}$   
 $t = ??$   
 الحل :-  
 $E = P t$   
 $E = (I V) t$   
 $t = \frac{E}{I V} = \frac{600}{(0.5) \times (12)}$   
 $t = \frac{600}{6} = 100 \text{ Sec}$

الحل :

---

٤٤٦ . الموصل يعتبر طريقة لنقل الطاقة ، ما سرع طريقة ينتقل بها ؟

أ: غازات .. ب: فراغ .. ج: جوامد .. د: سوائل ..؟؟

الحل : الجوامد ..

---

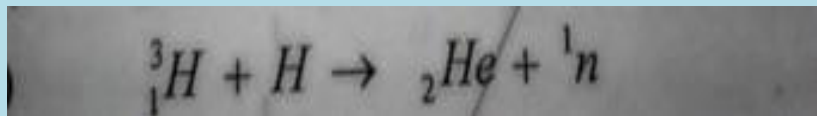
٤٤٧ . مسائل على لعبة الميزان مهمه فيزياء ٢ .

٤٤٨ . يتصادم الإلكترون مع البوزترون فيفني كل منهما الآخر وتطلق اشعة جاما ، ما اقل طاقة لاشعة جاما ؟ الطاقة المكافئة لكتلة الإلكترون (0.51 Mev) ..

الحل : عندما يتصادم البوزترون مع الإلكترون ويفني كل منهما الآخر ، وينتج إشعاعان او ثلاثة من جاما طاقتها لاتقل عن (1.02Mev) ..

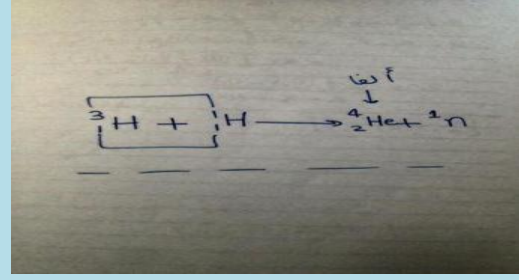
---

٤٤٩ . حل المعادله التاليه :



الحل :





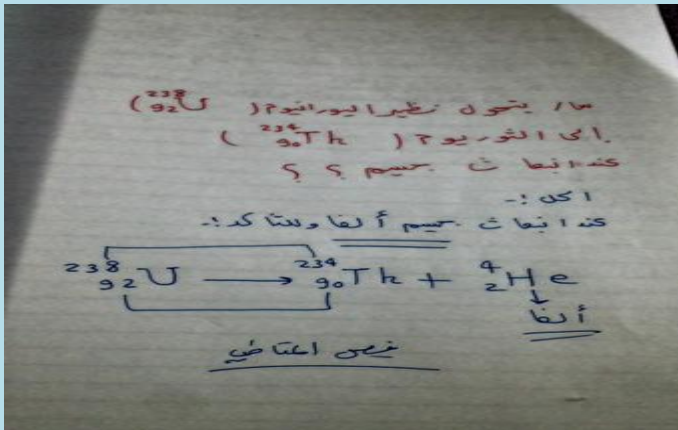
٤٥٠. أي نوم من الاضمحلال لا يغير عدد البروتونات او النيوترونات في النواة؟؟

أ: البوزترون .. ب: بيتا

ج: ألفا .. د: جاما

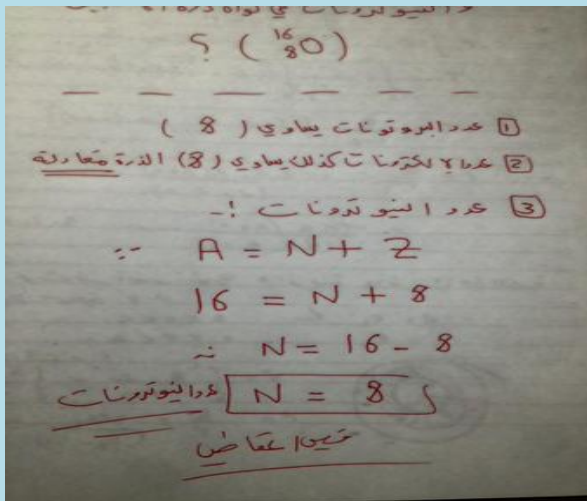
الحل : اضمحلال جاما ( د ) ..

٤٥١.

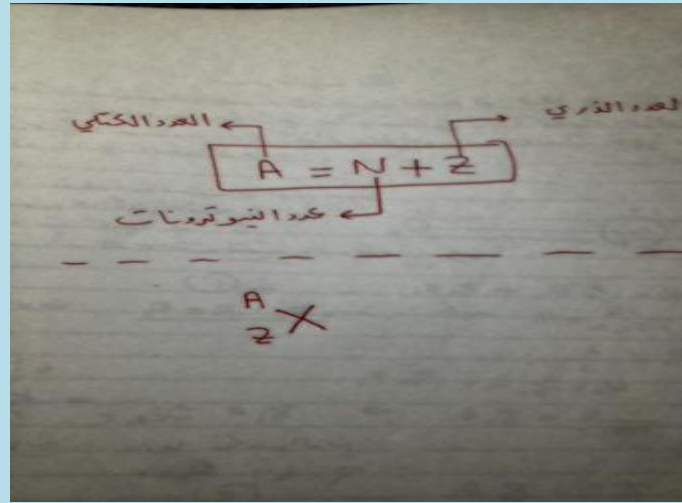


٤٥٢. أحسب عدد البروتونات والالكترونات والنيوترونات في نواة ذرة الاكسجين ( $^{16}_8O$ )؟

الحل :



٤٥٣. معادلة هامة نستطيع منها حساب عدد النيوترونات والإلكترونات والبروتونات:



٤٥٤. ينزلق قرص هوكي كتلته 105g على سطح جليدي فاذا اثار لاعب بقوة ثابتة مقدارها 4.50N في القرص فحركه لمسافه 0.150m في اتجاه القوة نفسها ، فما مقدار الشغل؟؟

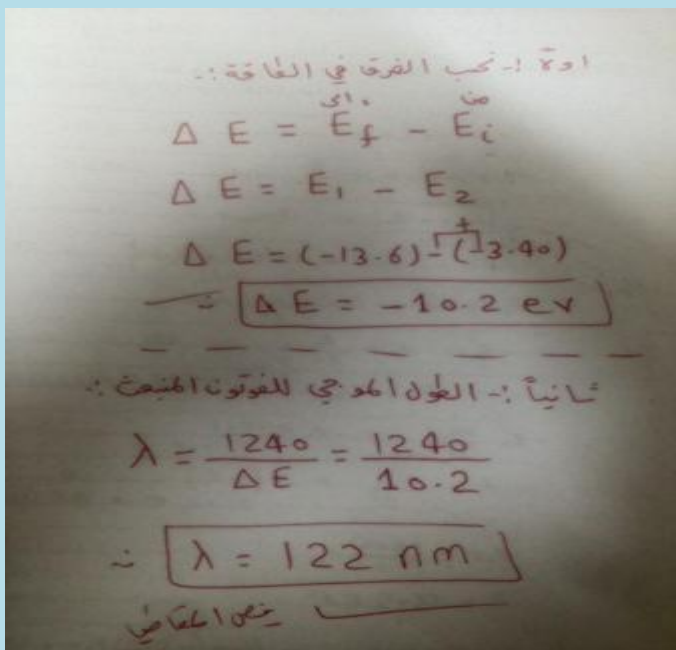
أ: 0.755 .. ب: 0.565

ج: 0.675 .. د: 0.886

الحل: (ج) تعويض مباشر  $W = Fd$  ..

٤٥٥. ينتقل إلكترون ذرة هيدروجين مثارة من مستوى الطاقة الثاني ( $n=2$ ) إلى مستوى الطاقة الأول ( $n=1$ ) احسب الطاقة والطول الموجي للفوتون؟

الحل :





٤٥٦. يسحب مصباح تيار مقداره (0.5 A) عند توصيلة بجهد مقداره (120V) احسب مقاومة المصباح ؟

الحل :

المعطيات :-  
 $I = 0.5 \text{ A}$   
 $V = 120 \text{ V}$   
 $R = ??$   
 الحل :-  
 $R = \frac{V}{I}$   
 $R = 240 \Omega$   
 اوم

٤٥٧. احسب مقدار التيار المار في مصباح قدرته (55w) متصل بمصدر جهد مقداره (110V) ؟

الحل :

المعطيات :-  
 $P = 55 \text{ W}$   
 $V = 110 \text{ V}$   
 $I = ??$   
 الحل :-  
 $P = IV$   
 $I = \frac{P}{V} = \frac{55}{110}$   
 $I = 0.5 \text{ A}$

٤٥٨. تقاس بوحدة ( كولوم/ ثانية ) : أ- فرق الجهد ب- شدة التيار ج- الطاقة د- القدرة ... ؟

الحل : ( شدة التيار الكهربائي )

$I = \frac{Q}{t}$   
 $A = \frac{C}{\text{sec}}$

٤٥٩. تساوي التيار مضروباً في الجهد الكهربائي : أ- مركز الثقل ب- العزم ج- القدرة د- الطاقة ... ؟

الحل : ( القدرة )

$P = IV$   
 القدرة

٤٦٠. قذف حجر افقيا بسرعة  $5\text{m/s}^2$  من سطح بناية ارتفاعه  $78.4\text{m}$  كم يستغرق هذا الحجر للوصول الى اسفل البناية ؟

الحل :

العمليات :-  
 $d_s = d_i + v_i t + \frac{1}{2} a t^2$   
 $78.4 = 0 + \frac{1}{2} \times (9.8) t^2$   
 $78.4 \times \frac{1}{2} \times (9.8) t^2$   
 $(78.4) \times (2) = 9.8 t^2$   
 $t^2 = \frac{156.8}{9.8}$   
 $t^2 = 16$   
 $t = \sqrt{16}$   
 $t = 4 \text{ sec}$

٤٦١. ما عدد الالكترونات المنتقلة من كشاف كهربائي مشحون بشحنه موجبه اذا كان صافي شحنته  $7.5 \times 10^{-11}$  ؟؟

أ:  $7.5 \times 10^{-11}$  الكترون .. ب:  $2.1 \times 10^{-9}$  الكترون

ج:  $1.2 \times 10^8$  الكترون .. د:  $4.7 \times 10^8$  الكترون ..

الحل :  $n = \frac{\text{الشحنه صافي}}{q_c} = \frac{7.5 \times 10^{-11}}{1.6 \times 10^{-19}} = 4.7 \times 10^8$

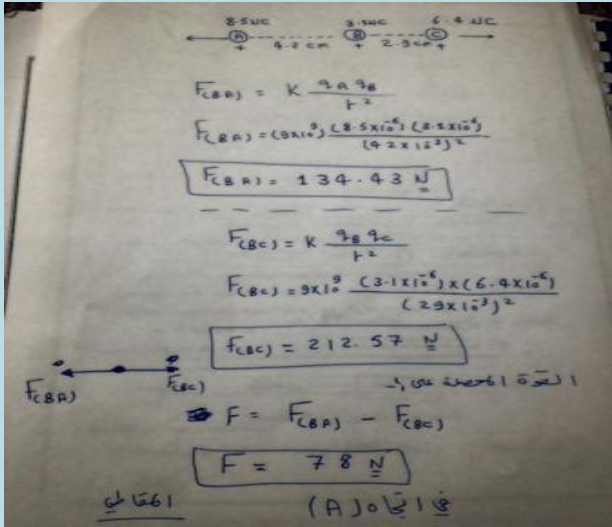
٤٦٢. محول عدد لفات ملفه الابتدائي 200 لفه وعدد لفات ملفه الثانوي 1000 لفه إذا وصل بجهد متناوب فعال مقدار  $100\text{V}$  احسب الجهد الثانوي؟؟

الحل :


العمليات :-  
 $N_p = 200$   
 $N_s = 1000$   
 $V_p = 100 \text{ Volt}$   
 $V_s = ??$

الحل :-  
 $\frac{V_p}{V_s} = \frac{N_p}{N_s}$   
 $V_s = \frac{V_p N_s}{N_p}$   
 $V_s = \frac{(100) \times (1000)}{(200)} = \frac{100000}{200}$   
 $V_s = 500 \text{ Volt}$

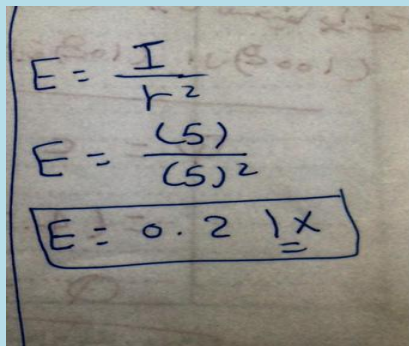
٤٦٣. اذا وضعت ثلاث شحنات A , B , C على خط واحد كما هو موضح ادناه . فما القوة المحصلة على الشحنة B ؟



٤٦٤. شخص طوله 100cm يقف على بعد 5m من مرآة مستوية وينظر الى صورته ، احسب بعد الصورة وطولها ونوعها ؟



٤٦٥. وضع لوح كرتون ابيض على بعد 5 امتار من مصدر ضوئي قوة اضائته 5 كاندلا فاذا علمت ان اللوح كان عموديا على اتجاه سقوط الاشعه فان شدة الاضاءة تساوي ...؟؟



٤٦٦. إذا كان معامل التضخيم لترانزستور 1000 والجهد في دائرة المجمع 250 فولت فان جهد دائرة الباعث تساوي.....؟

الحل :

الحل:

$$\beta = \frac{V_c}{V_e}$$

$$\therefore V_e = \frac{V_c}{\beta} = \frac{250}{1000} = 0.25 \text{ Volt}$$

٤٦٧. إذا كان عمق الماء خلف السد (20m) فما ضغط الماء عند قاعدة السد علماً بأن كثافة الماء (1000Kg/m<sup>3</sup>) بوحدة الباسكال ؟

الحل :

الحل:

$$P = \rho h g$$

$$P = (1000) \times (20) \times (9.8)$$

$$\therefore P = 196000 \text{ Pa}$$

$$P = 196 \times 10^3 \text{ Pa}$$

٤٦٨. معامل التمدد الحجمي يزيد عن معامل التمدد الطولي ب: أ- خمسة أضعاف ب- أربعة أضعاف ج- ثلاثة أضعاف د- الضعف ... ؟

الحل : (ثلاثة أضعاف) حسب العلاقة التالية :

الحل:

$$\beta = 3\alpha$$

٤٦٩. جسمان متساويان في الكتلة قوة التجاذب بينهما تساوي : أ-  $Gm^2/r^2$  ب-  $Gm^2$  ج-  $GM/r$  د-  $Gr/m$  ... ؟

الحل :

الحل:

$$F = G \frac{m_1 m_2}{r^2}$$

وفي حالة تساوي الكتلة :-

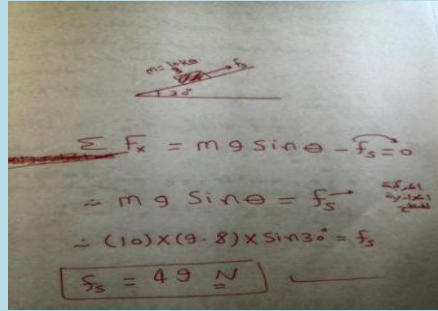
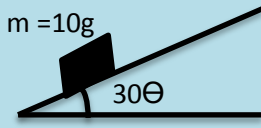
$$F_e = G \frac{m^2}{r^2}$$

٤٧٠. في الشكل المقابل متجه قيمته 5N ما اتجاه الشرق المركبه الرأسية له ؟



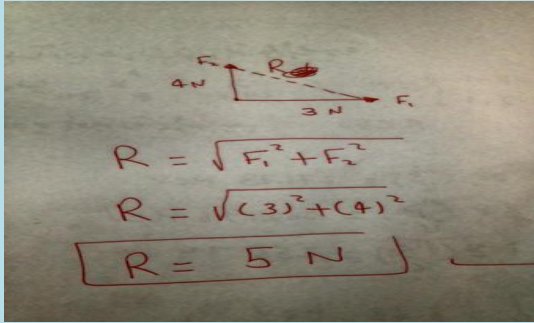
الحل : ليس له مركبه راسيه ، إذا الإجابة صفر ..

٤٧١. في الشكل ادناه اذا كانت الكتله ساكنه على السطح المائل ، فما مقدار مركبه وزنها موازي للسطح ؟



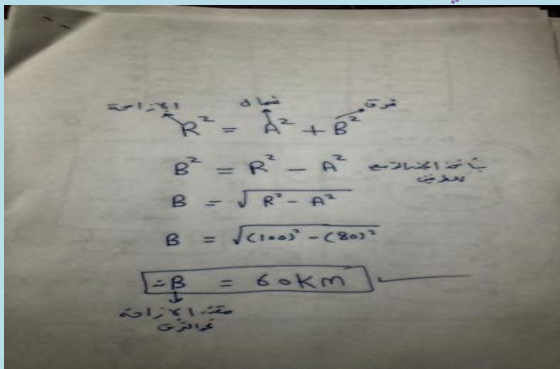
الحل :

٤٧٢. قوتان تؤثران على جسم القوة الاولى (3N) شرقاً والقوة الثانية (4N) شمالاً أوجد القوة المحصلة ؟؟



الحل :

٤٧٣. إذا بدأت الحركة من منزلك فقطعت ( ٨٠ Km ) شمالاً ثم انعطفت شرقاً لتصبح إزاحتك من منزلك ( ١٠٠ Km ) فإن مقدار إزاحتك شرقاً تساوي ؟



الحل :



٤٧٤. يبلغ وزن احمد (98N) احسب كتلته ؟

الحل :

$$F = mg$$

$$\therefore m = \frac{F}{g}$$

$$m = \frac{(98)}{(9.8)}$$

$$\boxed{m = 10 \text{ Kg}}$$

٤٧٥. سرعة الصوت في الهواء عندما تكون درجة الحرارة 20 درجة مئوية وسرعه الصوت في الهواء عند الصفر المئوي 331m/s تساوي .....؟

الحل :

- سرعة الصوت في درجة (20 C) :-

$$v_{(20C)} = (331 + 0.6T)$$

$$= (331 + (0.6 \times 20))$$

$$\boxed{v = 343 \text{ m/s}}$$

٤٧٦. يتحرك جسم على خط مستقيم حسب المعادلة  $x = 10 \cos 5t$  فان سعته الحركة وسرعة الزاوية هما .....؟

الحل : السعة 10 والسرعة الزاوية 5 راديان /ث يعني الجواب أ تبعا لهذه المعادلة :

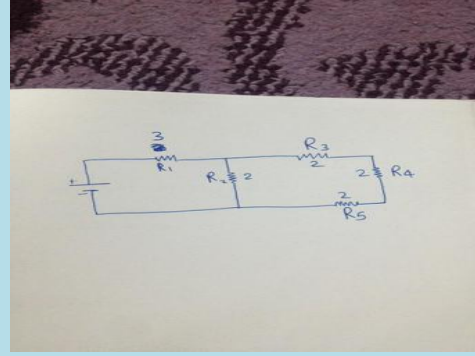
$$x = A \cos(\omega t + \phi)$$

ثابت الطور -  
 له سعة الحركة  
 التردد  
 الزاوي

٤٧٧. احسب المقاومة المكافئة في هذه الدائرة المركبة ؟

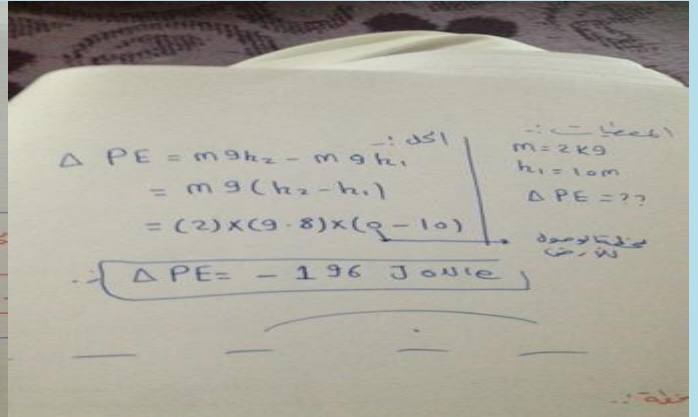
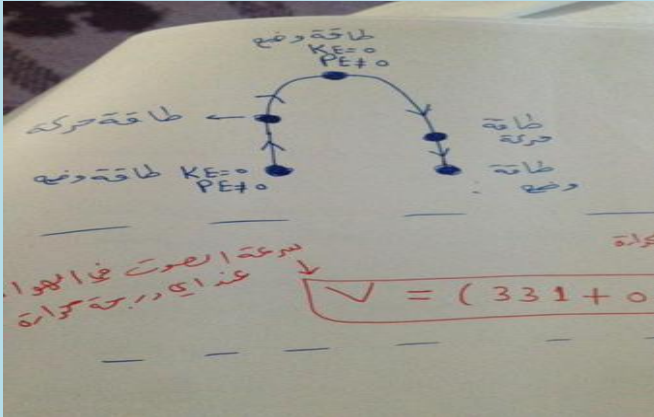
الحل : هذي دائرة مركبة ...

التيار بدا يتفرع عند المقاومة رقم 2 ،  
المقاومة 3 و 4 و 5 متصلة على التوالي  
الجواب : 4.5



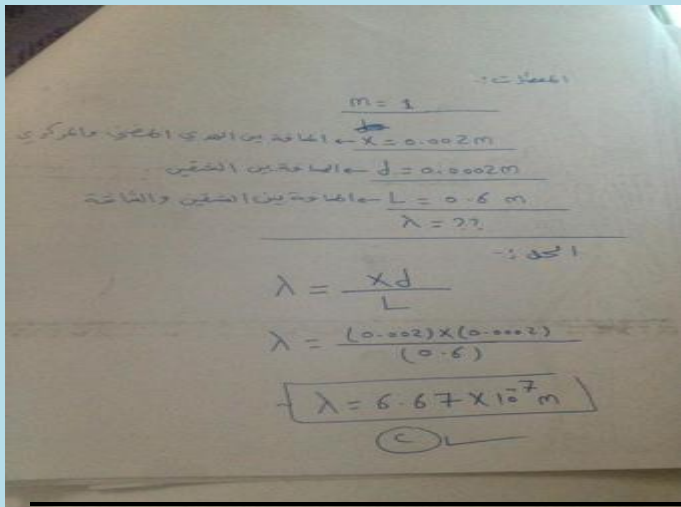
٤٧٨. سقطت قطعة طوب كتلتها 2kg من مدخنة ارتفاعها 10m الى سطح الارض ما مقدار التغير في طاقة وضعها ؟؟

الحل :

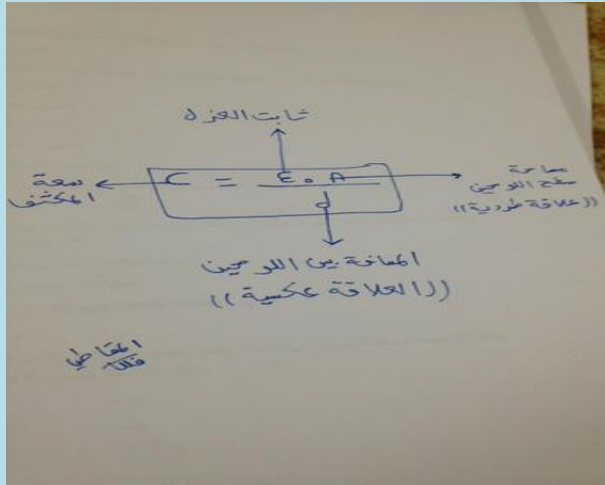


٤٧٩. في تجربة يونج تكون الهدب المضيء ذو الرتبة الاولى على بعد 0.002m من الهدب المركزي المضيء فاذا كان البعد بين الشقين 0.0002m ووضعت شاشع على بعد 0.6m فما الطول الموجي ؟

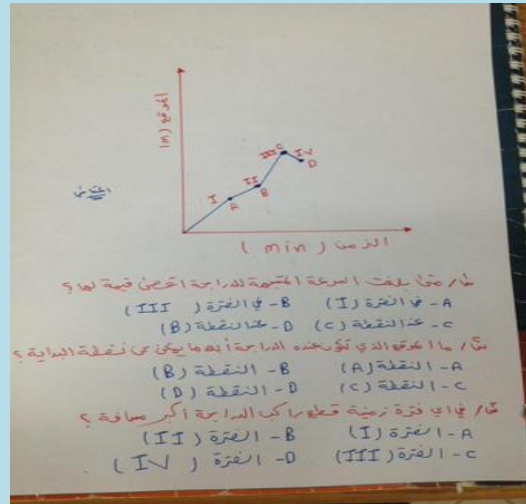
الحل :



٤٨٠. تعتمد السعة الكهربائية في المكثف على الأبعاد الهندسية للمكثف



الحل : 1- (B) , 2- (C) , 3- (A) ..



٤٨٢. استخدم تحليل الوحدات للمعادلة  $(Kx=mg)$  لاستنتاج وحدة ثابت نابض (K)؟

$$Kx = mg$$

$$\therefore K = \frac{mg}{x}$$

$$K = \frac{kg \cdot \frac{m}{s^2}}{m}$$

$$\therefore K = N/m$$



٤٨٣. اذا احتاج الضوء الصادر من الشمس الى 8min للوصول الى الارض فكم تبعد الشمس عن الارض ؟ علما ان سرعه الضوء  $3 \times 10^8$  م/ث

الحل :

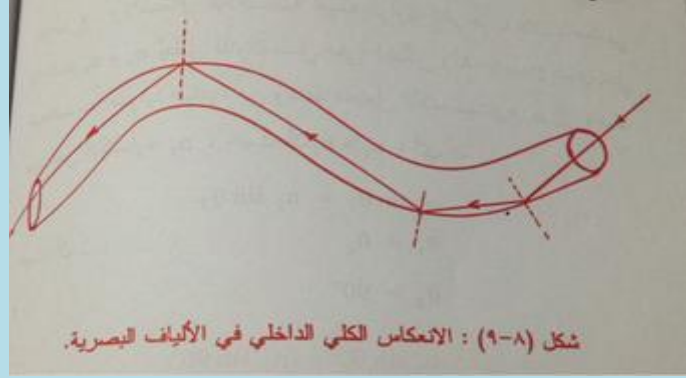
٤٨٤. جسم كتلته 0.82 مربوط في نهايته خيط طوله 2m يتحرك في مسار دائري بقوة مركزية 4N ما السرعة المماسية لهذا الجسم ؟

الحل :

٤٨٥. طريقة حساب طاقة الإلكترون المتحرر في ظاهرة التأثير الكهروضوئي ...

طاقة ارتباط الإلكترون بسطح المعدن تعتمد هنا على تردد العتبة ..

٤٨٦. احد التطبيقات على الانعكاس الكلي الداخلي ( الألياف البصرية )



٤٨٧ . ما طاقة إلكترون بوحدة الجول إذا كانت طاقته (٢.٥) إلكترون فولت ؟؟؟

تم بحمد الله

$$E = (2.5 \text{ eV}) \times (1.6 \times 10^{-19} \text{ J/eV})$$

$$\rightarrow E = 4 \times 10^{-19} \text{ J}$$

١) للتحويل من [ eV ] إلى [ J ] ، نضرب في [  $1.6 \times 10^{-19} \text{ J/eV}$  ]  
 ٢) للتحويل من [ J ] إلى [ eV ] ، نقسم على [  $1.6 \times 10^{-19} \text{ J/eV}$  ]

مهم جداً طريقة التحويل

الحل :

٤٨٨ . في الرسم المقابل الدوران؟ كم يكون مقدار العزم الكلي حول نقطة

الحل :

$$\tau = \tau_1 + \tau_2$$

$$\tau = F_1 r_1 - F_2 r_2$$

$$\tau = (200 \times 1) - (100 \times 1)$$

$$\tau = 100 \text{ N}\cdot\text{m}$$

وهو اتجاه

٤٨٩ . يتحرك قطار بسرعة  $90 \text{ m/s}$  ثم تباطأ بمعدل  $3 \text{ m/s}^2$  حتى توقف لهذا فان المسافه اللازمه حتى تتوقف تماما هي ....؟

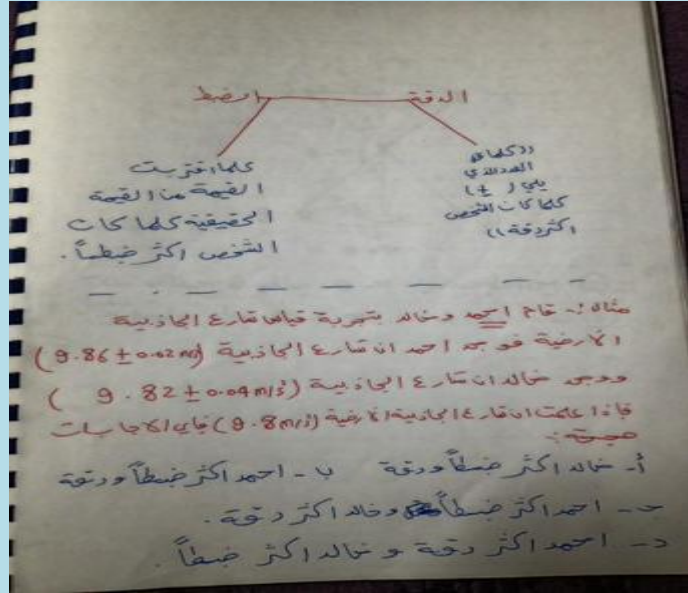
الحل : السرعة الابتدائية ( $90 \text{ m/s}$ ) ، السرعة النهائية (0) ، التسارع ( $-3 \text{ m/s}^2$ ) السالب بسبب عملية التباطؤ تعويض مباشر...

٤٩٠. في التوصيل على التوالي اذا تعطل أحد المصابيح او أحد الاجهزة فإن التيار ينقطع فقط عن الجهاز المتعطل فقط لذلك توصل الاجهزة في المنازل على التوازي ..

٤٩١. سيارتان تسيران باتجاه بعض بنفس السرعة فذت اطلق الاول صوت تردده 450 فكم يصل تردد الثاني علما بان سرعه الصوت 343 ؟

الحل : إذا كان المصدر والكاشف يتحركان بنفس السرعة وفي نفس ولهما نفس الاتجاه ، فإن التردد المسموع يساوي تردد المصدر ..

٤٩٢. اقرأ المعلومات في الأعلى واجب عن السؤال:



الحل : احمد أكثر دقة وخالد أكثر ضبطاً ..

٤٩٣. سلك طوله 1m علق به ثقل مقداره 98N فاذا كان مساحه مقطعه 0.0005m<sup>2</sup> فان الاجهاد يساوي ..؟

الحل :

المعطيات:

$$L = 1m \quad F = 98N \quad A = 0.0005m^2$$

الحل:

$$S = \frac{F}{A} = \frac{98}{0.0005}$$

$$S = 196000 N/m^2$$

$$S = 196 \times 10^3 N/m^2$$

٤٩٤. يراد رفع سيارة وزنها 20000N باستخدام مكبس هيدروليكي فاذا كانت مساحة المقطع الصغير فيه 5cm<sup>2</sup> ومساحة المكبس الكبير 200cm<sup>2</sup> احسب القوة اللازمه لذلك ؟

الحل :

$$\frac{F_1}{A_1} = \frac{F_2}{A_2}$$

$$\therefore F_1 A_2 = F_2 A_1$$

اذ كانت (  $A_2 \gg A_1$  ) فان (  $F_2$  ) تكون اكبر كثيراً من (  $F_1$  )

$$F_1 = \frac{F_2 A_1}{A_2} = \frac{(20000) \times (0.05)}{2}$$

$$F_1 = 500 \text{ N}$$

نفس الخطأ

٤٩٥. سيارة سباق تزداد سرعتها من 4m/s الى 16m/s خلال فترة زمنية مقدارها 4s , احسب التسارع ؟

تعويض مباشر في قانون التسارع.

٤٩٦. مكيف قدرته 2.5 كيلو واط يعمل لمدة 10ساعات يومياً اذا كان سعر الكيلو واط ساعه 5 هللات فان تكلفة المكيف في اليوم الواحد هو ....؟

الحل :

المعطيات :-

$$P = 2.5 \text{ kw}$$

$$t = 10 \text{ h}$$

الشيء = 5 ك.و.ا

تكلفة الاستهلاك = الطاقة (E) × السعر

$$E = Pt = (2.5 \text{ kw}) \times (10 \text{ h})$$

$$E = 25 \text{ kWh}$$

تكلفة الاستهلاك = ( 5 ) × ( 25 kWh )

$$= 125 \text{ هللة}$$

٤٩٧. اذا علمت ان تردد جسم ما 5Hz فكم الزمن الذي يحتاجه حتى يتم 10 دورات ؟

الحل :

عدد اهتزازات (الدورات) / الزمن = التردد  $f$

الزمن =  $\frac{\text{عدد اهتزازات (الدورات)}}{f}$

$\frac{10}{5} = 2$

الزمن = 2 sec

٤٩٨. احسب المقاومة المكافئة لهذه الدائرة

الحل :

المعطى :-  
 $R_1 = 3 \Omega$  ,  $R_2 = 6 \Omega$  ,  $R_3 = 8 \Omega$

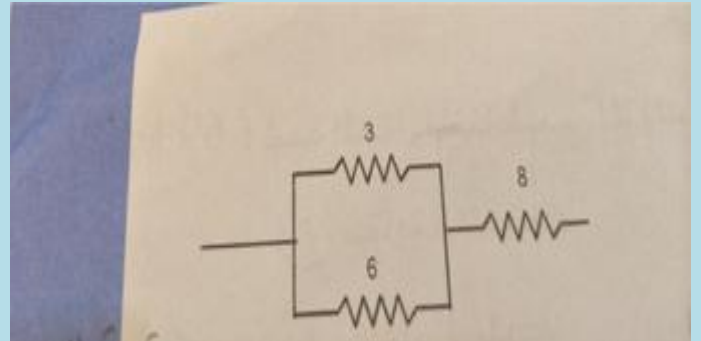
موصولة على التوازي :-  $(R_1 \parallel R_2)$

$R_{(1,2)} = \frac{R_1 \cdot R_2}{R_1 + R_2} = \frac{3 \times 6}{3 + 6} = 2 \Omega$

مع الجهد  $V$  :-  
 $\frac{2 \text{ min}}{R_{(1,2)}} \parallel \frac{8 \text{ min}}{R_3}$

و  $(R_1)$  و  $(R_2)$  موصولة على التوالي :-  
 $R_{eq} = R_{(1,2)} + R_3$

$R_{eq} = 10 \Omega$



٤٩٩. حساب الشغل بيانياً ...

حساب الشغل (W) :-

العلاقة بين  $(F)$  و  $(d)$  علاقة طردية خطية .

المساحة تحت المنحنى تمثل الشغل .

الشغل (W) =  $\frac{1}{2} \times \text{القاعدة} \times \text{الارتفاع}$

$W = \frac{1}{2} \times d \times F$

٥٠٠. تتحرك سيارة بسرعة ابتدائية  $80\text{km/h}$  ثم تزداد سرعتها لتصل إلى  $110\text{km/h}$  بعد ان تقطع مسافة  $500\text{m}$  ماتسارها المتوسط ؟

الحل :

المعطيات :-

$$v_i = 80 \text{ km/h}$$

السرعة الأولى ( m/s )

$$v_i = \frac{80 \times 1000}{60 \times 60} = \frac{80000}{3600} = 22.22 \text{ m/s}$$


---


$$v_f = 110 \text{ km/h}$$

$$v_f = \frac{110 \times 1000}{60 \times 60} = \frac{110000}{3600} = 30.55 \text{ m/s}$$


---


$$d_f = 500 \text{ m}$$

المطلوب :-

$$d_f = \frac{v_f^2 - v_i^2}{2a}$$

$$v_f^2 - v_i^2 = 2ad_f$$

$$a = \frac{v_f^2 - v_i^2}{2d_f}$$

$$a = \frac{(30.55)^2 - (22.22)^2}{2 \times 500} = 0.44 \text{ m/s}^2$$

٥٠١. إذا كان قطر اطاري جرار زراعي  $1.5\text{m}$  وقاد المزارع الجرار بسرعة خطية  $3\text{m/s}$  فما مقدار السرعة الزاوية لكل اطار ؟

الحل :

المعطيات :-

$$2r = 1.5 \text{ m}$$

$$r = \frac{1.5}{2}$$

نصف القطر  $r = 0.75 \text{ m}$

$$v = 3 \text{ m/s}$$

المطلوب :-

$$v = r\omega$$

$$\omega = \frac{v}{r}$$

$$\omega = \frac{3}{0.75}$$

$$\omega = 4 \text{ rad/s}$$

٥٠٢. مقارنة بين الإلكترون والفوتون ..

الفوتون	الإلكترون
له سرعة ثابتة مساوية سرعة الضوء.	له سرعات مختلفة.
له كمية الحركة والنزاع حركته.	له كمية الحركة.
مفرقة عن موجات كهرومغناطيسية غير مشحونة.	حسيم له شحنة سالبة وكتلته $(9.1 \times 10^{-31})$ كجم.
لا يمكن تعجيل الفوتون.	يمكن تعجيل الإلكترون أو تغير سرعته.
لحقى مادته عند التوقف عن الحركة، ويتحول إلى طاقة بجذبهها الجسم الذي أوقف حركته.	يحافظ بكتلته عند التوقف عن الحركة، ولكنه يفقد طاقة حركته.

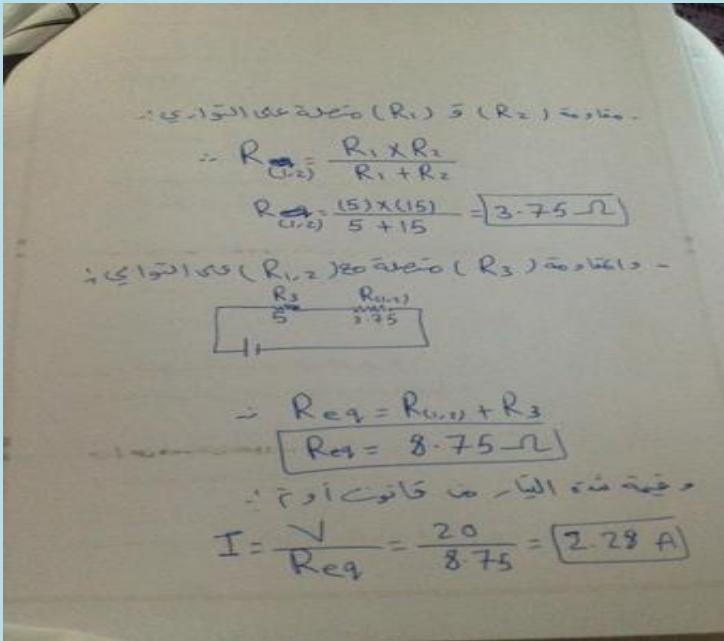


٥٠٣. صفات الصور في المرايا المستوية :

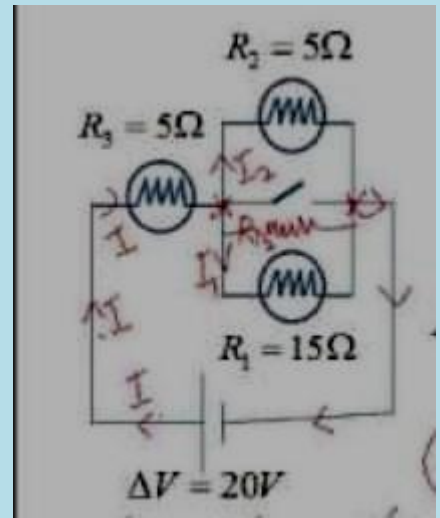
١/ الصورة تظهر خلف المرآة .. ٢/ الصورة معتدلة ..

٣/ بعد الصورة يساوي بعد الجسم .. ٤/ حجم الصورة يساوي حجم الجسم ..

٥٠٤. احسب المقاومة المكافئة في هذه الدائرة ، ومن ثم احسب شدة التيار؟؟



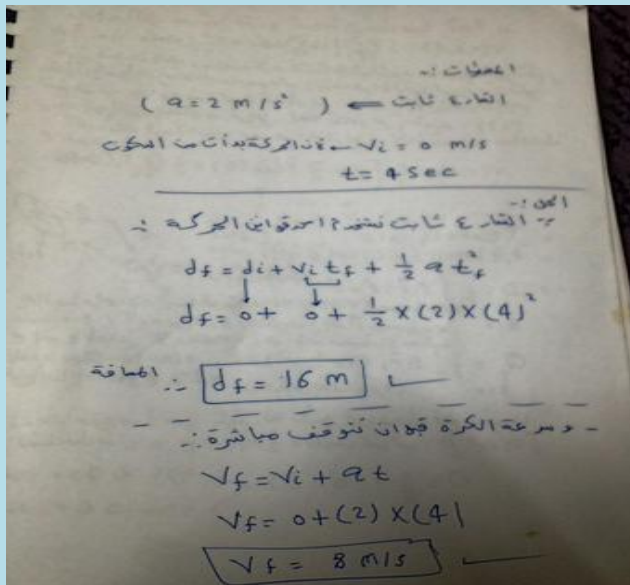
الحل:



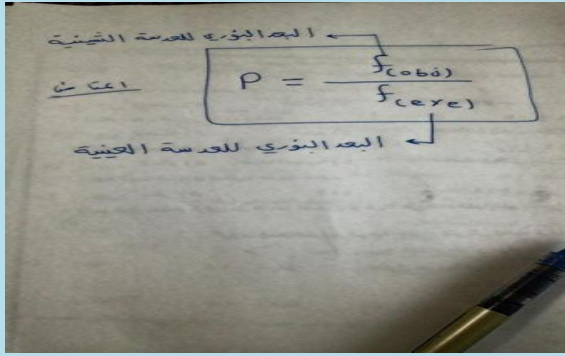
٥٠٥. تتدحرج كرة الى اسفل بتسارع ثابت (2m/s<sup>2</sup>) فاذا بدأت الحركة من السكون

واستغرقت 4s فما المسافة التي قطعها الكرة قبل ان تتوقف ؟

الحل:

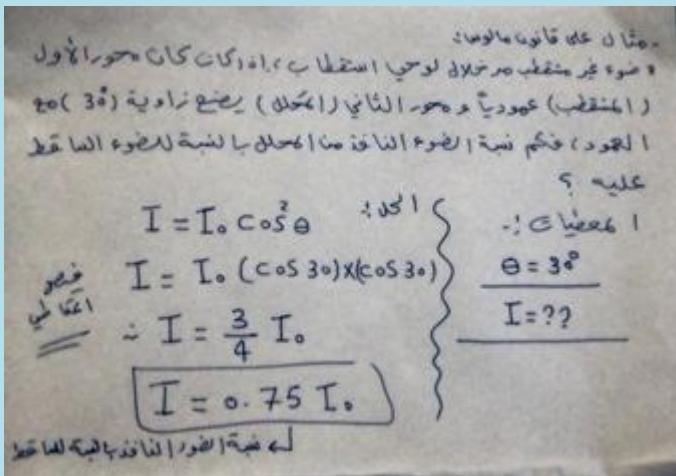
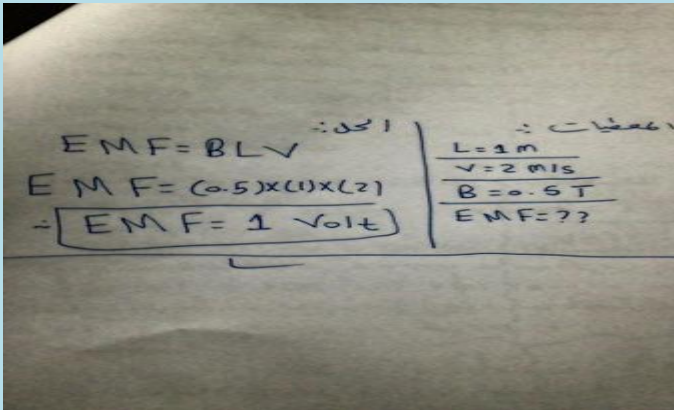


٥٠٦. لحساب قوة تكبير المنظار الفلكي نستخدم القانون التالي :



٥٠٧. سلك مستقيم طوله (1m) يتحرك بسرعة (2m/s) عمودي على مجال مغناطيسي شدته (0.5T) احسب القوة الدافعة الكهربائية الحثية ؟

الحل :



٥٠٨. مثال على قانون مالوس :



٥٠٩. إذا كانت القوة الكهربائية المتبادلة بين جسمين 90N فإذا زادت المسافة بين الجسمين بمقدار ثلاث أمثال البعد الذي كانت عليه سابقا فما مقدار القوة الجديده |؟

الحل :

$$F \propto \frac{1}{r^2}$$

تناسب القوة عكسياً مع  
مع المسافة

القوة الجديدة متناسوي  
( $\frac{1}{9}$ ) القوة الأصلية :-

$$F = 90 \times \frac{1}{(3)^2}$$

الجديدة  $F = 10 \text{ N}$

٥١٠. تمر حزمة من ذرات ليثيوم أحادية التأين خلال مجال مغناطيسي شدته  $2 \times 10^8$  متعامد مع مجال كهربائي مقدار  $6 \times 10^2 \text{ N/C}$  أوجد سرعة الذرات ؟

الحل :

هامش :-  
عند القسمة نخرج  
الأسس -

$$v = \frac{E}{B}$$

$$v = \frac{(6 \times 10^2)}{3 (2 \times 10^8)}$$

$$\therefore v = 3 \times 10^5 \text{ m/s}$$

$2 - (-3) = 5$

٥١١. محطة إذاعة ( FM ) تبث موجاتها بتردد  $(3 \times 10^8 \text{ HZ})$  ، احسب مقدار طول الهوائي اللازم للحصول على افضل استقبال لهذه المحطه ؟

الحل :

المعطيات :-  
 $f = 3 \times 10^8 \text{ Hz}$   
 $c = 3 \times 10^8 \text{ m/s}$   
 $L = ??$

الحل :-  
 $L = \frac{\lambda}{2}$

$\lambda = \frac{c}{f} = \frac{3 \times 10^8}{3 \times 10^8}$   
 $\lambda = 1 \text{ m}$

طول الهوائي :-  
 $L = \frac{1}{2} \text{ m}$   
 $L = 0.5 \text{ m}$

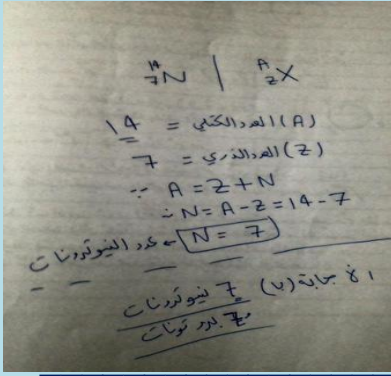
٥١٢. طاقة الذرة المهتزة تساوي حاصل ضرب عدد صحيح في ثابت بلانك في : أ-الطول الموجي للإهتزاز ب- تردد الإهتزاز ج-حرارة الإهتزاز ... ؟

الحل : ( تردد الإهتزاز ) وهذه هي العلاقة الرياضية :

٥١٣. الطاقة الحركية لإلكترون في ظاهرة التأثير الكهروضوئي:

٥١٤.

الحل : D بسبب البعد :

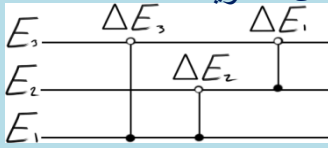


٥١٥. نواة النيتروجين  $N_{11}^{14}$  يوجد فيها ....؟

عنصر النيتروجين العدد الكتلي له ١٤ والذري ٧ هذا هو

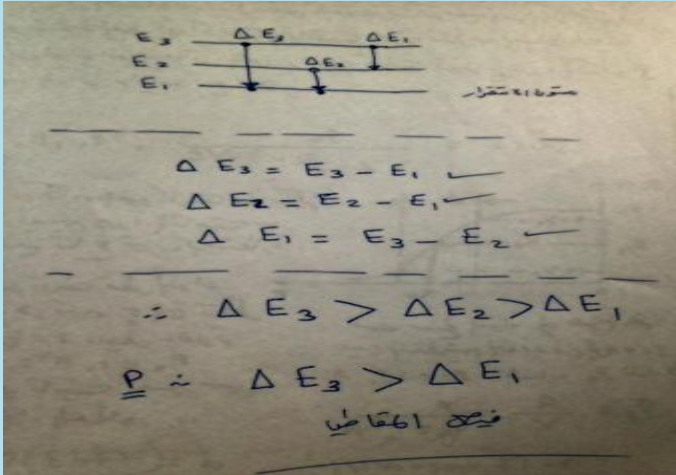
الحل :

٥١٦. في الشكل ادناه عند مقارنة التغير في طاقة الفوتونات  $\Delta E$  من خلال مستويات الطاقة



في ذره الهيدروجين فان ...؟

الحل :



٥١٧. لدى صلاح لعبة اذا حركها تنتج ضوء فأني مما يلي يمكن ان تكون لعبة صلاح؟

أ: مكثف كهربائي .. ب: محرك كهربائي ..

ج: مقاومه كهربائية .. د: مولد كهربائي ..

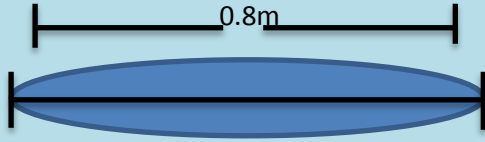
الحل : مولد كهربائي ..

٥١٨. سلك معدني موضوع وسط مجال كهرومغناطيسي ويمر فيه مجال كهربائي يكون اتجاه

القوة المؤثرة في السلك :

أ: يمين الورقة .. ب: يسار الورقة .. ج: عمودي على الورقة وداخل المجال المغناطيسي ..

د: عمودي على الورقة وخارج المجال المغناطيسي ..  
الحل : عمودي والاتجاه يكون داخل المجال المغناطيسي ..




٥١٩. عند اهتزاز الوتر :

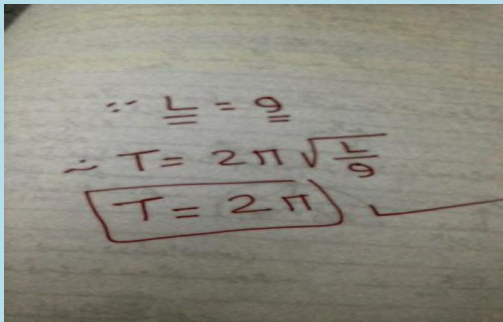
أ: ربع الطول الموجي .. ب: نصف الطول الموجي ..

ج: الطول الموجي نفسه .. د: ضعف الطول الموجي ..

الحل :



٥٢٠. طول خيط بندول بسيط (L) يساوي تسارع الجاذبية (g) فان الزمن الدوري له وحده بوحدته (s) هي ..؟



الحل :

٥٢١. كل شعاع موازي للمجور الرئيس يقع على المرآة المقعرة فانه ينعكس مارا :

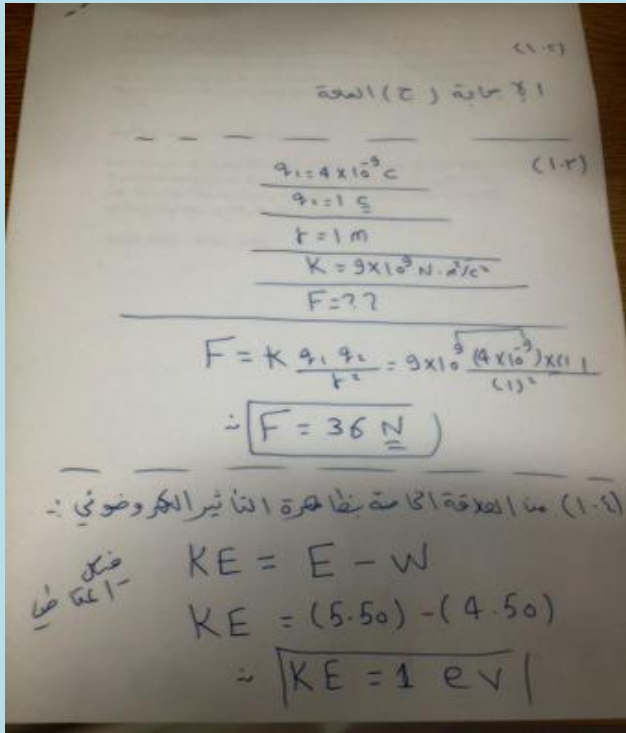
أ: بين مركز التكور والبؤرة .. ب: بين القطب والبؤرة ..

ج: في مركز التكور .. د: في البؤرة ..

الحل : في البؤرة ..

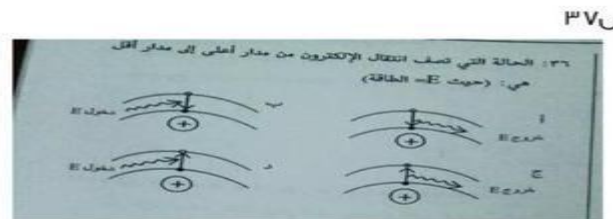

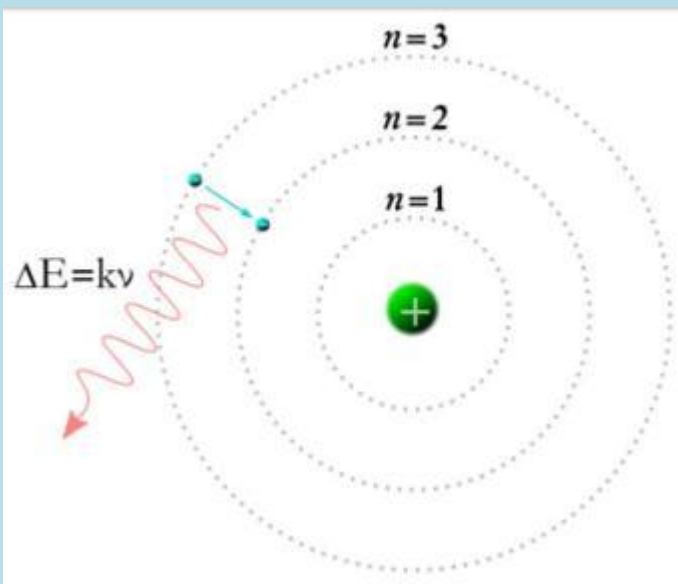
٥٢٢. القوة الكهربائية التي تؤثر بها شحنة مقدارها  $4 \times 10^{-9} \text{ C}$  على شحنة اختبار موجبه مقدارها  $1 \text{ C}$  تبعد عنها بوحدة النيوتن ( $k=9 \times 10^9 \text{ Nm}^2/\text{C}^2$ )

الحل :



٥٢٣

الحل : أ



@Nabeel\_Awad

٥٢٤. إذا كان تيار القاعدة في دائرة الترانزستورات يساوي  $45\mu A$  والتيار الجامع يساوي  $9mA$  ، فما مقدار كسب التيار من القاعده الى الجامع ؟

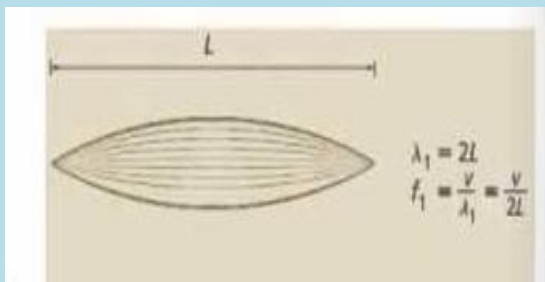
الحل :

(3) المعطيات :-  
 $I_B = 45 \mu A = 45 \times 10^{-6} A$   
 $I_C = 8.5 mA = 8.5 \times 10^{-3} A$   
 كسب التيار =  $\frac{I_C}{I_B} = \frac{8.5 \times 10^{-3}}{45 \times 10^{-6}} = 190$   
 كسب التيار  $\approx 190$  ← (B)

(4) المعطيات :-  
 $I_B = 5 \times 10^{-6} A$   
 كسب التيار = 190  
 كسب التيار =  $\frac{I_C}{I_B}$   
 $I_C = I_B \times \text{كسب التيار}$   
 $I_C = 0.95 \times 10^{-3} A$   
 $I_C \approx 0.95 mA$  ← (B)

٥٢٥. ما هو مقدار الطول الموجي لسلك مهتز ؟

الحل :

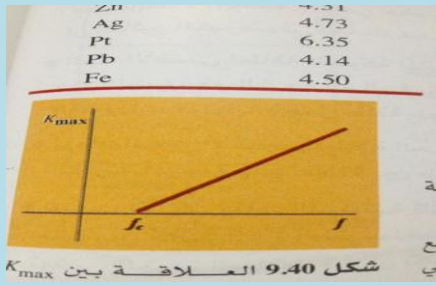


٥٢٦. التصادم المرن هو التصادم الذي لاتفقد فيه الطاقة بل تنتقل مثل تصادم كرات البلياردو...






٥٢٧. الرسم البياني لطاقة حركة الالكترونات مع تردد الفوتون الساقط ( علاقة خطية ) حسب الرسم التالي :



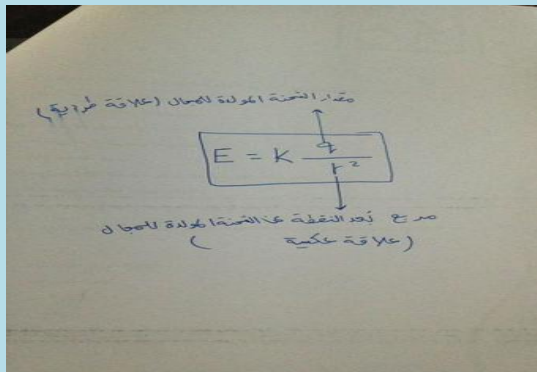
الميل في هذه العلاقة يمثل ثابت بلانك حسب معادلة الخط المستقيم ..

واضح من الرسم انه عند ترددات اقل من تردد العتبة لا تنبعث إلكترونات..

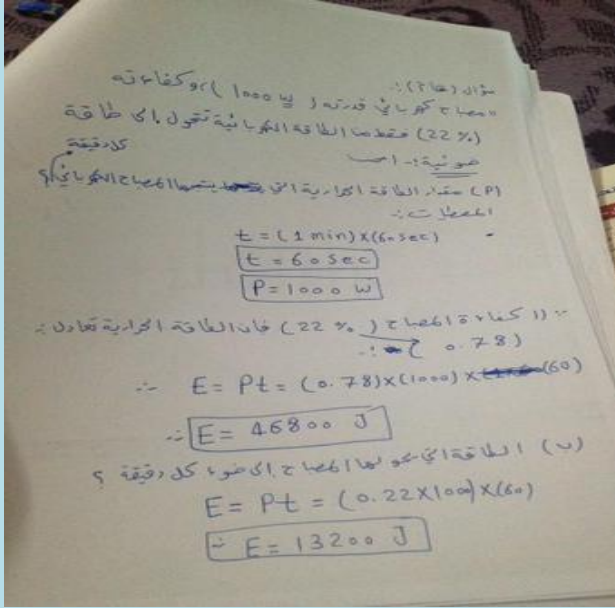
٥٢٨. المعادلة تحسب سرعة الصوت في الهواء عند اي درجة حرارة ..



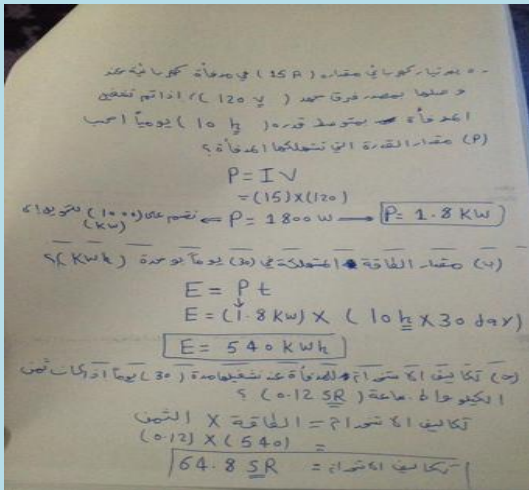
٥٢٩. شدة المجال الكهربائي في نقطة تعتمد على :



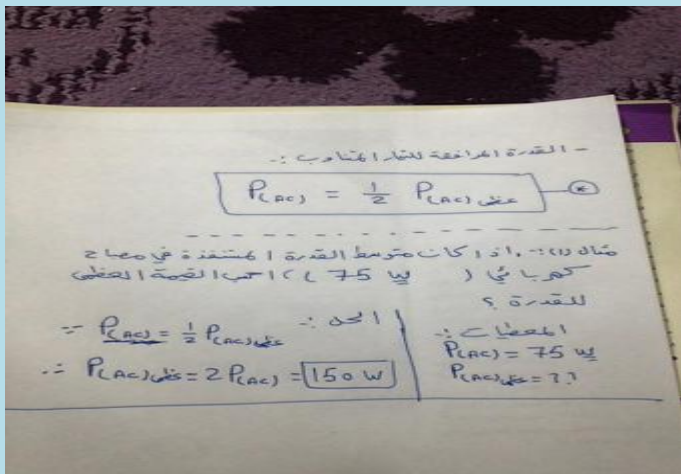
٥٣٠. مسأله رياضيه :



٥٣١. مسأله رياضيه خاصة بحساب تكاليف الاستخدام :

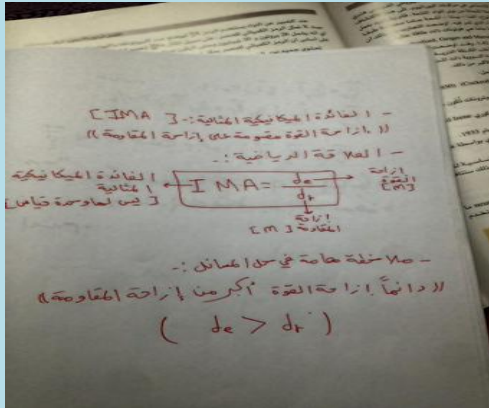


٥٣٢. العلاقة الرياضيه للقدرة المرافقة للتيار المتناوب مع مثال رياضي :

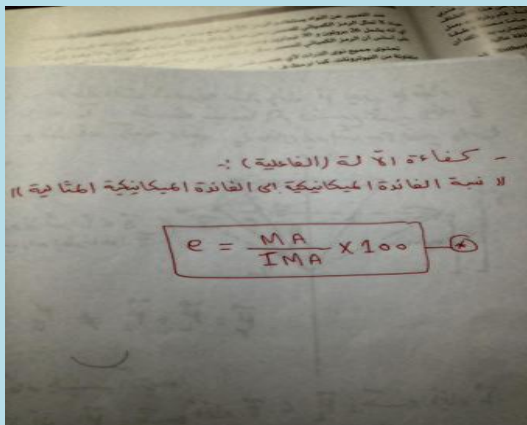




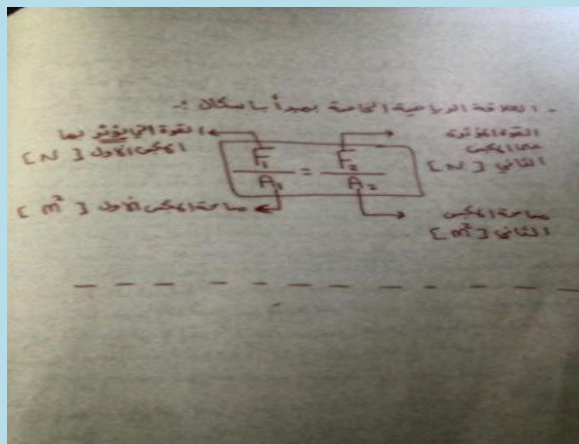
٥٣٣. الفائدة الميكانيكية المثالية :



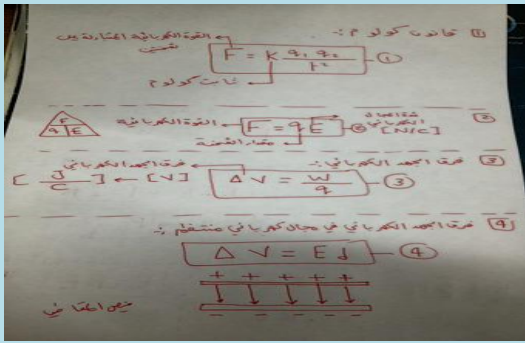
٥٣٤. كفاءة الآلة (الفاعلية):



٥٣٥. العلاقة الرياضية الخاصة بمبدأ باسكال :

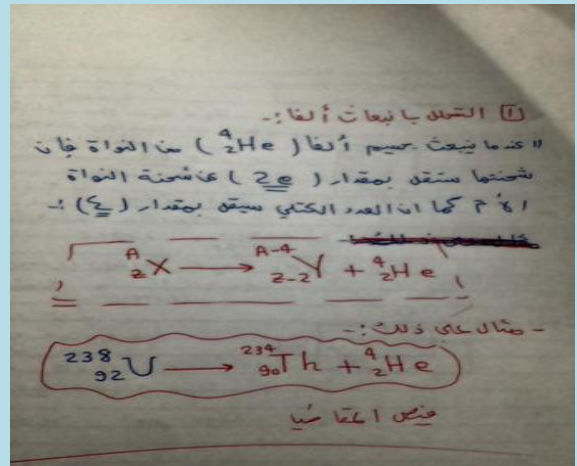
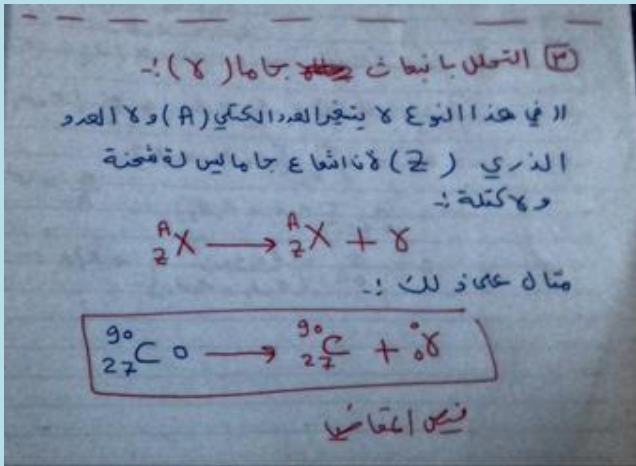


٥٣٦. بعض القوانين الخاصة بالصف ثالث ثانوي الفصل الاول :

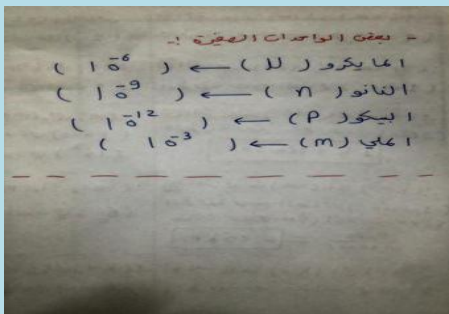


- جاما :


٥٣٧. ألفا :



٥٣٨. بعض الوحدات الصغيرة :



٥٣٩. بعض وحدات القياس وطريقة التحويل :



٥٤٠. إذا تحركت الموجات بالسرعة نفسها فان معدل نقلها للطاقة يتناسب طرديا مع ....؟

أ: سرعتها .. ب: مربع سرعتها .. ج: سعتها .. د: مربع سعتها ..

الحل : مربع سعتها.

٥٤١. الوحدات الأساسية في النظام الدولي لابد من حفظها .

٥٤٢. مصطلحات مهمة في الكهرباء :

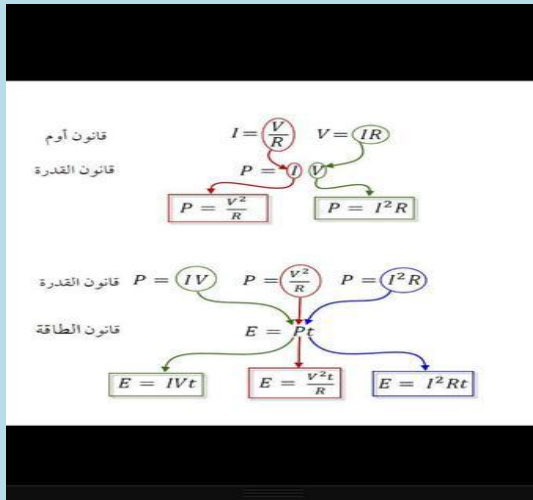
الأجهزة :	الجهاز	استخدامه
الكشاف الكهربائي	الكشف عن الشحنات الكهربائية	الكشف عن الشحنات الكهربائية
مولد فاندي جراف	جهاز يستخدم لتوليد الكهرباء الساكنة ذات القوتية الكبيرة	جهاز يستخدم لتوليد الكهرباء الساكنة ذات القوتية الكبيرة
السعة الكهربائية	تخزين كمية كبيرة من الشحنات الكهربائية	تخزين كمية كبيرة من الشحنات الكهربائية
المكثف الكهربائي	تخزين الشحنات الكهربائية	تخزين الشحنات الكهربائية
الخلية الجلفانية	جهاز يحول الطاقة الكيميائية إلى طاقة كهربائية	جهاز يحول الطاقة الكيميائية إلى طاقة كهربائية
الخلية الشمسية	جهاز يحول الطاقة الضوئية إلى طاقة كهربائية	جهاز يحول الطاقة الضوئية إلى طاقة كهربائية
الدوائر الكهربائية	حلقه مغلقة تسمح بتدفق الشحنات الكهربائية	حلقه مغلقة تسمح بتدفق الشحنات الكهربائية
المقاوم الكهربائي	جهاز ذو مقاومة محددة يتحكم في التيار المار في الدوائر الكهربائية أو في أجزاء منها	جهاز ذو مقاومة محددة يتحكم في التيار المار في الدوائر الكهربائية أو في أجزاء منها
الأميتر	جهاز يستخدم لقياس شدة التيار الكهربائي .	جهاز يستخدم لقياس شدة التيار الكهربائي .
الفولتميتر	جهاز يستخدم لقياس الجهد الكهربائي	جهاز يستخدم لقياس الجهد الكهربائي
الأوميتر	جهاز يستخدم لقياس المقاومة الكهربائية لمقاوم .	جهاز يستخدم لقياس المقاومة الكهربائية لمقاوم .
مجري الجهد	دائرة توال تستخدم لإنتاج مصدر جهد بقيمة المطلوبة من بطارية ذات جهد كبير	دائرة توال تستخدم لإنتاج مصدر جهد بقيمة المطلوبة من بطارية ذات جهد كبير
دائرة مجس مقاوم صوتي	جهاز يستخدم لقياس كمية الضوء . من خلالها يتم كشف فرق الجهد وتحويله إلى قياس للاستضاءة يمكن قراءته .	جهاز يستخدم لقياس كمية الضوء . من خلالها يتم كشف فرق الجهد وتحويله إلى قياس للاستضاءة يمكن قراءته .
الموصلات	مادة مقاومتها = صفر . توصل الكهرباء دون ضياع في الطاقة	مادة مقاومتها = صفر . توصل الكهرباء دون ضياع في الطاقة
فائقة التوصيل	دائرة كهربائية مقاومتها صغيرة جدا تجعل التيار كبيرا جدا	دائرة كهربائية مقاومتها صغيرة جدا تجعل التيار كبيرا جدا
دائرة القصر	مفتاح كهربائي الي يفتح الدائرة الكهربائية عندما يتجاوز مقدار التيار المار فيها القيمة المسموح بها.	مفتاح كهربائي الي يفتح الدائرة الكهربائية عندما يتجاوز مقدار التيار المار فيها القيمة المسموح بها.
قاطع التفريغ الأرضي الخاطئ	جهاز يحوي دائرة إلكترونية تستشعر الفروق البسيطة في التيار . الناجمة عن مسار إضافي للتيار، فيعمل على فتح الدائرة مانعا حدوث الصعقات الكهربائية	جهاز يحوي دائرة إلكترونية تستشعر الفروق البسيطة في التيار . الناجمة عن مسار إضافي للتيار، فيعمل على فتح الدائرة مانعا حدوث الصعقات الكهربائية
الدائرة المركبة	دائرة معقدة تتضمن توصيلات على التوالي والتوازي	دائرة معقدة تتضمن توصيلات على التوالي والتوازي
المنصهر الكهربائي	قطعة صغيرة من فلز تنصهر عندما يمر فيها تيار كبير	قطعة صغيرة من فلز تنصهر عندما يمر فيها تيار كبير
الملف اللولبي " المحث "	الملف الطويل المكون من عدة لفات	الملف الطويل المكون من عدة لفات
الجلفانوميتر	جهاز يستخدم لقياس التيارات الكهربائية الصغيرة جدا	جهاز يستخدم لقياس التيارات الكهربائية الصغيرة جدا
المحرك الكهربائي ( موتور )	جهاز يستعمل لتحويل الطاقة الكهربائية إلى حركية	جهاز يستعمل لتحويل الطاقة الكهربائية إلى حركية
أنبوب الأشعة المهبطية	أنبوب يستخدم لتشكيل صورة على الشاشة	أنبوب يستخدم لتشكيل صورة على الشاشة
المحول الكهربائي	رفع أو خفض الجهد الكهربائي المتراب AC	رفع أو خفض الجهد الكهربائي المتراب AC
المحول ثنائي	المحول الذي لا يغير الجهد الكهربائي من التيار المتردد إلى التيار المتردد	المحول الذي لا يغير الجهد الكهربائي من التيار المتردد إلى التيار المتردد

أي أن كفاءته = 100%

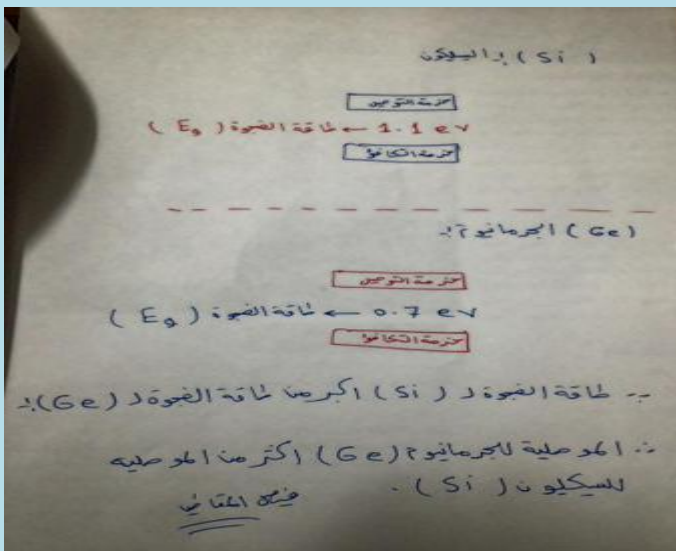
٥٤٤. الفرق بين دوائر التوالي والتوازي ..

46. اكتب نوع الدائرة المستخدمة (توازي أم توازي) فيما يلي:
- التيار متساوي في جميع أجزاء الدائرة الكهربائية. **توازي**
  - المقاومة المكافئة تساوي مجموع المقاومات المفردة. **توازي**
  - المهبط في الجهد عبر كل مقاوم في الدائرة الكهربائية متساوي. **توازي**
  - المهبط في الجهد في الدائرة الكهربائية يتناسب طردياً مع المقاومة. **توازي**
  - إضافة مقاوم إلى الدائرة يُقلل المقاومة المكافئة. **توازي**
  - إضافة مقاوم إلى الدائرة يزيد المقاومة المكافئة. **توازي**
  - إذا أصبح مقدار التيار المار في أحد مقاومات دائرة كهربائية صفراً، ولم يمر تيار في جميع المقاومات الأخرى الموجودة في الدائرة. **توازي**
  - إذا أصبح مقدار التيار المار في أحد مقاومات دائرة كهربائية صفراً، ولم تتغير مقادير التيارات الكهربائية المارة في جميع المقاومات الأخرى الموجودة في الدائرة. **توازي**
  - هذا النوع من التوصيل مناسب لتمديدات الأسلاك في المنزل. **توازي**

٥٤٦ . مهمة جدا



٥٤٧ . الفرق بين موصلية السيلكون والجرمانيوم مع توضيح طاقة الفجوة:







جهد دوائر التوالي والتوازي :-  
 مدار المقاومة المتكافئة تساري جميع المقاومات ؟  
 1- / دائرة التوالي :-  $(R_{eq} = R_1 + R_2 + R_3 + \dots)$   
 2- / التيار متساوي في جميع أجزاء الدائرة الكهربية ؟  
 3- / دائرة التوالي :-  $(I_1 = I_2 = I_3)$   
 4- / الجهد متساوي في جميع أجزاء الدائرة الكهربية ؟  
 5- / دائرة التوازي :-  $(V_1 = V_2 = V_3)$   
 6- / الجهد في الدائرة يتناسب طردياً مع المقاومة ؟  
 7- / في دائرة التوالي :-  
 8- / ما إضافة صفا وصة ، أي الدائرة يقلل المقاومة المتكافئة ؟  
 9- / دائرة التوازي :-  
 10- / إذا زاد أصبح مقدار التيار الخارج في امدا المقاومات يساوي صفر  
 ولم يمر تيار في جميع المقاومات الأخرى في هذه الحالة تسمى  
 الدائرة ؟  
 11- / دائرة توازي :-  
 12- / ما إضافة صفا وصة ، أي الدائرة يزيد المقاومة المتكافئة ؟  
 13- / دائرة التوالي :-  
 14- / ما إضافة صفا وصة ، أي الدائرة يقلل المقاومة المتكافئة ؟  
 15- / دائرة التوازي :-  
 16- / ما إضافة صفا وصة ، أي الدائرة يزيد المقاومة المتكافئة ؟  
 17- / دائرة التوالي :-  
 18- / ما إضافة صفا وصة ، أي الدائرة يقلل المقاومة المتكافئة ؟  
 19- / دائرة التوازي :-  
 20- / ما إضافة صفا وصة ، أي الدائرة يزيد المقاومة المتكافئة ؟

- الجهد الكلي في الدائرة :-  $(V_s)$   
 1- الجهد الكلي في الدائرة الكهربية المتولدة في الملف  
 الكلي يساوي الجهد الكلي في الملف :-  
 2- الجهد الكلي في الدائرة :-  
 3- الجهد الكلي في الدائرة يتناسب طردياً مع الجهد الابتدائي  $(V_s \propto V_p)$   
 4- الجهد الكلي في الدائرة يتناسب طردياً مع الجهد الابتدائي  $(V_s \propto V_p)$   
 5- الجهد الكلي في الدائرة يتناسب طردياً مع الجهد الابتدائي  $(V_s \propto V_p)$   
 6- الجهد الكلي في الدائرة يتناسب طردياً مع الجهد الابتدائي  $(V_s \propto V_p)$   
 7- الجهد الكلي في الدائرة يتناسب طردياً مع الجهد الابتدائي  $(V_s \propto V_p)$   
 8- الجهد الكلي في الدائرة يتناسب طردياً مع الجهد الابتدائي  $(V_s \propto V_p)$   
 9- الجهد الكلي في الدائرة يتناسب طردياً مع الجهد الابتدائي  $(V_s \propto V_p)$   
 10- الجهد الكلي في الدائرة يتناسب طردياً مع الجهد الابتدائي  $(V_s \propto V_p)$   
 11- الجهد الكلي في الدائرة يتناسب طردياً مع الجهد الابتدائي  $(V_s \propto V_p)$   
 12- الجهد الكلي في الدائرة يتناسب طردياً مع الجهد الابتدائي  $(V_s \propto V_p)$   
 13- الجهد الكلي في الدائرة يتناسب طردياً مع الجهد الابتدائي  $(V_s \propto V_p)$   
 14- الجهد الكلي في الدائرة يتناسب طردياً مع الجهد الابتدائي  $(V_s \propto V_p)$   
 15- الجهد الكلي في الدائرة يتناسب طردياً مع الجهد الابتدائي  $(V_s \propto V_p)$   
 16- الجهد الكلي في الدائرة يتناسب طردياً مع الجهد الابتدائي  $(V_s \propto V_p)$   
 17- الجهد الكلي في الدائرة يتناسب طردياً مع الجهد الابتدائي  $(V_s \propto V_p)$   
 18- الجهد الكلي في الدائرة يتناسب طردياً مع الجهد الابتدائي  $(V_s \propto V_p)$   
 19- الجهد الكلي في الدائرة يتناسب طردياً مع الجهد الابتدائي  $(V_s \propto V_p)$   
 20- الجهد الكلي في الدائرة يتناسب طردياً مع الجهد الابتدائي  $(V_s \propto V_p)$

- قيم الزوايا

$\alpha$	0	$\frac{\pi}{6}$	$\frac{\pi}{4}$	$\frac{\pi}{3}$	$\frac{\pi}{2}$	$\pi$	$\frac{3}{2}\pi$	$2\pi$
	$0^\circ$	$30^\circ$	$45^\circ$	$60^\circ$	$90^\circ$	$180^\circ$	$270^\circ$	$360^\circ$
$\sin \alpha$	0	$\frac{1}{2}$	$\frac{\sqrt{2}}{2}$	$\frac{\sqrt{3}}{2}$	1	0	-1	0
$\cos \alpha$	1	$\frac{\sqrt{3}}{2}$	$\frac{\sqrt{2}}{2}$	$\frac{1}{2}$	0	-1	0	1
$\tan \alpha$	0	$\frac{\sqrt{3}}{2}$	1	$\sqrt{3}$	-	0	-	0

٥٥١. الوحدات الأساسية في الفيزياء

جدول 1-1		
الكميات الأساسية ووحدات قياسها في النظام الدولي		
الرمز	الوحدة الأساسية	الكمية الأساسية
m	meter	length الطول
Kg	kilogram	mass الكتلة
s	second	time الزمن
K	Kelvin	temperature درجة الحرارة
mol	mole	amount of substance كمية المادة
A	ampere	electric current التيار الكهربائي
cd	candela	luminous intensity شدة الإضاءة

٥٥٢. في حوض ماء سمكة تتحرك عمودياً وسمكتان يتحركان أفقياً في اتجاه واحد ، أي الاسماك تتعرض الى ضغط اكبر ؟

الحل : سوف اسرد الفكرة في نقاط :

1/ هناك ضغط عند كل نقطه داخل السائل وفي جميع الاتجاهات ..

2/ يزداد الضغط مع ازدياد البعد العمودي عن سطح السائل (العمق) ..

3/ الضغط متساو عند كل النقاط الموجودة على مستوى افقي واحد لذلك قلنا أن السمكه رقم 3 تتعرض لضغط أكبر اعتماداً على فقره 2 ..

---

٥٥٤. المرايا الكروية ( عبارة عن جزء من سطح كرة يكون احد سطحيها الداخلي والخارجي مصقولاً ، وعاكساً للضوء ..

تنقسم المرايا الى قسمين : ١/ المرايا المقعرة (المجمعه) : وهي التي يكون سطحها الداخلي عاكساً ..

٢/ المرايا المحدبة (المفرقة) : وهي التي يكون سطحها الخارجي عاكساً ..

٥٥٥- أي الالوان ينتج هدباً ضوئياً اكبر عرضاً؟ ولماذا؟

أ- الأحمر ب- الأخضر ج- الأزرق د- البنفسجي .

---

[/ksa-teachers.com/qiyas/exams](http://ksa-teachers.com/qiyas/exams)

رابط اختبار تجريبي ... مهم ..

### • في الختام

وبحمد الباري ونعمة منه وفضل ورحمه نضع قطراتنا الأخيرة بعد رحلة كانت جاهده للارتقاء بالعلم فما هذا الإجهاد مقل ولا ندعي فيه الكمال ولكن عذرتنا اننا بذلنا فيه قصارى جهدنا فان اصبنا فذاك مرادنا وان أخطئنا فلنا شرف المحاولة والتعلم ولا نزيد على ما قال عماد الاصفهاني:

رأيت انه لا يكتب انسان كتابا في يومه إلا قال في غده لو غير هذا لكان احسن ولو زيد كذا لكان يستحسن ولو قدم هذا لكان افضل ولو ترك هذا لكان اجمل

وهذا من اعظم العبر وهو دليل على استيلاء النقص على جملة البشر..  
وأخيراً بعد أن تقدمنا باليسير آملين للجميع النجاح والدرجات العالية

لأي سؤال تابعونا على تويتر @fisal555555