

إتقان المفاهيم

22. إذا مشطت شعرك في يوم جاف فسوف يُشحن المشط بشحنة موجبة. هل يمكن أن يبقى شعرك متعادلاً؟ وضح إجابتك.
22. لا. ففوق مفهوم حفظ الشحنة فإن شعرك يجب أن يصبح سالب الشحنة.
23. أعدّ قائمة ببعض المواد العازلة والمواد الموصلة.
23. ستختلف إجابات الطلاب، ولكنها قد تتضمن: العوازل: الهواء الجاف والخشب والبلاستيك والزجاج والملابس والماء المنزوع الأيونات. والموصلات: الفلزات وماء الصنبور وجسمك.
24. ما الخاصية التي تجعل الفلز موصلاً جيداً، والمطاط عازلاً جيداً؟
24. تحتوي الفلزات على إلكترونات حرة، أما المطاط فيحتوي على إلكترونات مرتبطة.
25. **غسالة الملابس** عندما نخرج الجوارب من مجفف الملابس تكون أحياناً ملتصقة بملابس أخرى. لماذا؟
25. شُحنت بالدلك مع الملابس الأخرى، لذا فهي تنجذب إلى الملابس المتعادلة أو التي لها شحنة مخالفة.
26. **الأقراص المدمجة** لماذا يجذب قرص مدمج الغبار إذا مسحته بقطعة قماش نظيفة؟

26. إن عملية ذلك القرص المدمج CD تؤدي إلى شحنه، فيجذب جسيمات متعادلة، كجسيمات الغبار.

27. عملات معدنية مجموع شحنة جميع إلكترونات عملة مصنوعة من النيكل يساوي مئات الآلاف من الكولوم. هل نجبرنا هذا بشيء عن صافي الشحنة على هذه العملة؟ وضح إجابتك.

27. لا، إن صافي الشحنة هو الفرق بين الشحنات الموجبة والسالبة. فيبقى صافي الشحنة على قطعة النقد صفراً.

28. كيف تؤثر المسافة بين شحنتين في القوة المتبادلة بينهما؟ وإذا قلت المسافة و بقي مقدار الشحنتين كما هو فماذا يحدث للقوة؟

28. تناسب القوة الكهربائية عكسياً مع مربع المسافة بين الشحنتين. فعندما تقل المسافة ويبقى مقدار الشحنتين كما هو دون تغيير فإن القوة تزداد بما يتناسب مع مربع المسافة.

29. اشرح كيف يمكنك شحن موصل بشحنة سالبة إذا كان لديك قضيب موجب الشحنة فقط.

29. حرك الموصل بحيث يصبح قريباً من القضيب، ولكن دون أن يلامسه. صل الموصل بالأرض بوجود القضيب المشحون، ثم أزل التآريض قبل إزالة القضيب المشحون. فيكتسب الموصل شحنة سالبة.

تطبيق المفاهيم

30. فيم تختلف شحنة الإلكترون عن شحنة البروتون؟
وفيم تتشابهان؟

30. شحنة البروتون تساوي تمامًا مقدار شحنة

الإلكترون، ولكنها مختلفة عنها في النوع.

31. كيف يمكنك أن تحدّد ما إذا كان جسم ما موصلًا أم لا، باستخدام قضيب مشحون وكشاف كهربائي؟

31. استخدم عازلاً معروفًا لتمسك إحدى نهايتي الجسم بالقرب من الكشاف الكهربائي. المس النهاية الأخرى للجسم بالقضيب المشحون، إذا انفرجت ورقتا الكشاف الكهربائي فإن الجسم يكون موصلًا.

32. قُرب قضيب مشحون إلى مجموعة كرات بلاستيكية صغيرة جدًا، فانجذبت بعض الكرات إلى القضيب، إلا أنها لحظة ملامستها للقضيب اندفعت مبتعدة عنه في اتجاهات مختلفة. وضح ذلك.

32. بدايةً، تنجذب الكرات المتعادلة إلى القضيب المشحون، وعندما تلامس الكرات القضيب تكتسب شحنة مشابهة لشحنته، لذا فإنها تتنافر معه.

33. البرق يحدث البرق عادة عندما تنتقل الشحنات السالبة في الغيوم إلى الأرض. فإذا كان سطح الأرض متعادلاً فما الذي يوفر قوة الجذب المسؤولة عن سحب الإلكترونات نحو الأرض؟

33. الشحنة في الغيمة تتنافر مع الإلكترونات

على الأرض في المنطقة المقابلة لها، مما يؤدي إلى فصل الشحنة، فتصبح شحنة هذه المنطقة القريبة من الغيمة موجبة، مما يؤدي إلى ظهور قوة تجاذب.

34. وضح ما يحدث لورقتي كشاف كهربائي مشحون بشحنة موجبة عند تقريب قضيب مشحون بالشحنات التالية منه، مع مراعاة عدم لمس القضيب للكشاف الكهربائي:

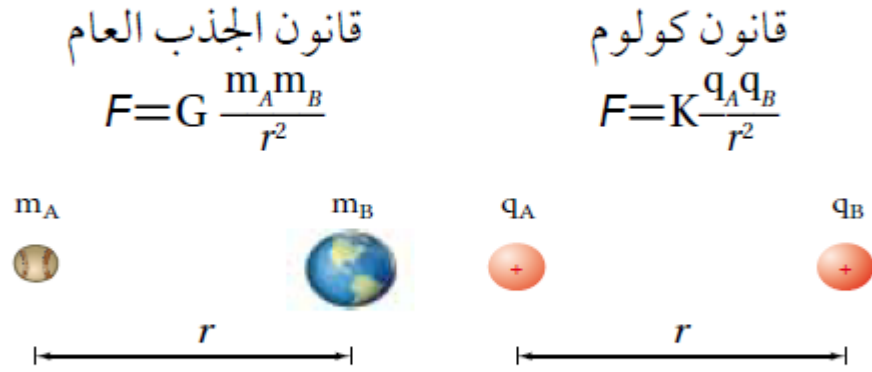
a. شحنة موجبة.

b. شحنة سالبة.

34. a. يزداد انفراج ورقتي الكشاف.

b. يقل انفراج ورقتي الكشاف.

35. يبدو أن قانون كولوم وقانون نيوتن في الجذب العام متشابهان، كما هو موضح في الشكل 1-13. فيم تتشابه القوة الكهربائية وقوة الجاذبية؟ وفيم تختلفان؟



الشكل 1-13 (الرسم ليس وفق مقياس رسم)

35. التشابه: يعتمد التربيع العكسي على المسافة، تتناسب القوة طردياً مع حاصل ضرب كتلتين أو شحنتين. الاختلاف: هناك إشارة واحدة فقط للكتلة لذا فإن قوة الجاذبية دائماً قوة تجاذب، أما الشحنة فلها إشارتان لذا فإن القوة الكهربائية يمكن أن تكون إما قوة تجاذب أو قوة تنافر.

36. قيمة الثابت K في قانون كولوم أكبر كثيرًا من قيمة الثابت G في قانون الجذب العام. علام يدل ذلك؟

36. القوة الكهربائية أكبر كثيرًا.

37. وَصَف هذا الفصل طريقة كولوم لشحن كرتين A و B ، بحيث تكون الشحنة على الكرة B نصف الشحنة على الكرة A تمامًا. اقترح طريقة تطبقها لتصبح شحنة الكرة B مساوية لثلث شحنة الكرة A .

37. بعد شحن الكرتين A و B بشحنتين متساويتين اجعل الكرة B تلامس كرتين أخريين غير مشحونتين ومماثلتين لها في الحجم، وتلامس كل منهما الأخرى. ستتوزع الآن شحنة الكرة B بالتساوي على الكرات الثلاث، بحيث تحمل كل منها ثلث الشحنة الكلية.

38. قاس كولوم انحراف الكرة A عندما كان للكرتين A و B الشحنة نفسها، وتبعد إحداهما عن الأخرى مسافة مقدارها r . ثم جعل شحنة الكرة B تساوي ثلث شحنة الكرة A. كم يجب أن تكون المسافة الجديدة بين الكرتين بحيث تنحرف الكرة A بمقدار مساوٍ لانحرافها السابق؟

38. لنحصل على القوة نفسها بثلث مقدار الشحنة الأصلية يجب تقليل المسافة بين الشحنتين بحيث تكون $d^2 = \frac{1}{3}$ ، أو تساوي 0.58 مرة ضعف المسافة الابتدائية بينها.

39. يؤثر جسمان مشحونان أحدهما في الآخر بقوة مقدارها 0.145 N عندما كانا على بُعد معين أحدهما من الآخر. فإذا قُرب أحدهما إلى الآخر بحيث أصبحت المسافة بينها رُبع المسافة السابقة فما مقدار القوة المؤثرة في كل منهما؟

39. أكبر من القوة الأصلية 16 مرة.

40. القوى الكهربائية بين الشحنات كبيرة جداً عند مقارنتها بقوى الجاذبية بينها، ومع ذلك لا نشعر عادة بالقوى الكهربائية بيننا وبين المحيط من حولنا، إلا أننا نشعر بتأثيرات قوى الجاذبية مع الأرض. فسّر ذلك.

40. قوى الجاذبية قوى جذب فقط. أما القوى الكهربائية فهي إما قوى جذب أو قوى تنافر، وبإمكاننا الشعور فقط بالمجموع المتجهي لها، والذي يكون عادة صغيراً

إتقان حل المسائل

2-1 القوة الكهربائية

41. شحنتان كهربائيتان، q_A و q_B ، تفصل بينهما مسافة r ، ويؤثر كل منهما في الآخر بقوة مقدارها F . حلّل قانون كولوم، وحدد القوة الجديدة التي تنتج تحت الظروف التالية:

- مضاعفة الشحنة q_A مرتين.
- تقليل الشحنتان q_A و q_B إلى النصف.
- مضاعفة r ثلاث مرات.
- تقليل r إلى النصف.
- مضاعفة q_A ثلاث مرات و r مرتين.

2-1 القوة الكهربائية

$$41. \quad \text{a. } 2F \quad \text{b. } \frac{1}{4}F$$

$$\text{c. } \frac{1}{9}F \quad \text{d. } 4F$$

$$\text{e. } \frac{3}{4}F$$

42. البرق إذا نقلت صاعقة برق قوية شحنة مقدارها 25 C إلى الأرض فما عدد الإلكترونات المنقولة؟

$$(-25\text{ C})\left(\frac{1\text{ electron}}{-1.60\times 10^{-19}\text{ C}}\right) = 1.6\times 10^{20}\text{ electrons}$$

43. الذرات إذا كانت المسافة بين إلكترونين في ذرة $1.5\times 10^{-10}\text{ m}$ فما مقدار القوة الكهربائية بينهما؟

$$F = \frac{Kq_Aq_B}{d^2} = \frac{(9.0\times 10^9\text{ N}\cdot\text{m}^2/\text{C}^2)(1.60\times 10^{-19}\text{ C})(1.60\times 10^{-19}\text{ C})}{(1.5\times 10^{-10}\text{ m})^2}$$

$$= 1.0\times 10^{-8}\text{ N, away from each other}$$

44. شحنتان كهربائيتان مقدار كل منهما $2.5\times 10^{-5}\text{ C}$ والمسافة بينهما 15 cm . أوجد القوة التي تؤثر في كل منهما؟

$$F = \frac{Kq_Aq_B}{d^2} = \frac{(9.0\times 10^9\text{ N}\cdot\text{m}^2/\text{C}^2)(2.5\times 10^{-5}\text{ C})(2.5\times 10^{-5}\text{ C})}{(1.5\times 10^{-1}\text{ m})^2}$$

$$= 2.5\times 10^2\text{ N, toward the other charge}$$

45. إذا كانت القوة التي تؤثر في كل من الشحنتين $2.4\times 10^2\text{ N}$ و $+8\times 10^{-5}\text{ C}$ و $+3\times 10^{-5}\text{ C}$ تساوي فاحسب مقدار المسافة بينهما.

$$F = \frac{Kq_Aq_B}{d^2}$$

$$d = \sqrt{\frac{Kq_Aq_B}{F}} = \sqrt{\frac{(9.0\times 10^9\text{ N}\cdot\text{m}^2/\text{C}^2)(8.0\times 10^{-5}\text{ C})(3.0\times 10^{-5}\text{ C})}{2.4\times 10^2\text{ N}}}$$

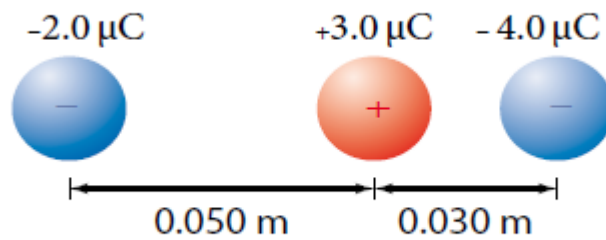
$$= 0.30\text{ m}$$

46. إذا أثرت شحنتان موجبتان متماثلتان كل منهما في الأخرى بقوة تنافر مقدارها $6.4 \times 10^{-9} \text{ N}$ ، عندما كانت إحداهما تبعد عن الأخرى مسافة $3.8 \times 10^{-10} \text{ m}$ فاحسب مقدار شحنة كل منهما.

$$F = \frac{Kq_Aq_B}{d^2} = \frac{Kq^2}{d^2}$$

$$q = \sqrt{\frac{Fd^2}{K}} = \sqrt{\frac{(6.4 \times 10^{-9} \text{ N})(3.8 \times 10^{-10} \text{ m})^2}{9.0 \times 10^9 \text{ N} \cdot \text{m}^2/\text{C}^2}} = 3.2 \times 10^{-19} \text{ C}$$

47. تُسحب شحنة موجبة مقدارها $3.0 \mu\text{C}$ بشحنتين سالبتين، كما هو موضح في الشكل 1-14. فإذا كانت إحدى الشحنتين السالبتين $-2.0 \mu\text{C}$ تبعد مسافة 0.05 m إلى الغرب، وتبعد الشحنة الأخرى $-4.0 \mu\text{C}$ مسافة 0.030 m إلى الشرق فما مقدار واتجاه القوة المحصلة المؤثرة في الشحنة الموجبة؟



الشكل 1-14

$$F_1 = \frac{(9.0 \times 10^9 \text{ N}\cdot\text{m}^2/\text{C}^2)(3.0 \times 10^{-6} \text{ C})(2.0 \times 10^{-6} \text{ C})}{(0.050 \text{ m})^2}$$

$$= 22 \text{ N west}$$

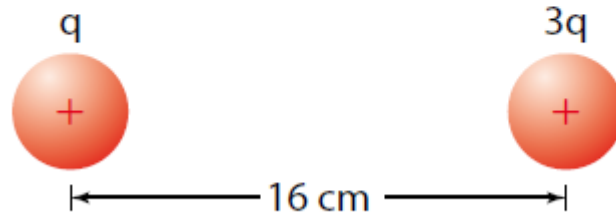
$$F_2 = \frac{(9.0 \times 10^9 \text{ N}\cdot\text{m}^2/\text{C}^2)(3.0 \times 10^{-6} \text{ C})(4.0 \times 10^{-6} \text{ C})}{(0.030 \text{ m})^2}$$

$$= 120 \text{ N east}$$

$$F_{\text{net}} = F_2 + F_1 = (1.2 \times 10^2 \text{ N}) - (2.2 \times 10^1 \text{ N})$$

$$= 98 \text{ N, east}$$

48. يوضح الشكل 1-15 كرتين مشحونتين بشحنتين موجبتين، شحنة إحداهما تساوي ثلاثة أضعاف شحنة الأخرى، والمسافة بين مركزيهما 16 cm. إذا كانت القوة المتبادلة بينهما 0.28 N فما مقدار الشحنة على كل منهما؟



الشكل 1-15

$$F = K \frac{q_A q_B}{d^2} = K \frac{q_A 3q_A}{d^2}$$

$$q_A = \sqrt{\frac{Fd^2}{3K}} = \sqrt{\frac{(0.28 \text{ N})(0.16 \text{ m})^2}{3(9.0 \times 10^9 \text{ N}\cdot\text{m}^2/\text{C}^2)}} = 5.2 \times 10^{-7} \text{ C}$$

$$q_B = 3q_A = 1.5 \times 10^{-6} \text{ C}$$

49. الشحنة على عملة نقدية ما مقدار الشحنة المقيسة بالكولوم للإلكترونات الموجودة في قطعة نقدية مصنوعة من النيكل؟ استخدم الطريقة التالية لتجد الإجابة:

- a.** أوجد عدد الذرات في قطعة النقد إذا كانت كتلة هذه القطعة 5 g، و 75% منها نحاس، أما الـ 25% المتبقية منها فمن النيكل، لذا تكون كتلة كل مول من ذرات العملة 62 g.
- b.** أوجد عدد الإلكترونات في قطعة النقد، علمًا أن متوسط عدد الإلكترونات التي لكل ذرة يساوي 28.75.
- c.** أوجد شحنة الإلكترونات بالكولوم.

$$\text{A coin is } \frac{5 \text{ g}}{62 \text{ g}} = 0.08 \text{ mole.}$$

$$\text{Thus, it has } (0.08)(6.02 \times 10^{23}) = 5 \times 10^{22} \text{ atoms} \quad \text{a.}$$

$$(5 \times 10^{22} \text{ atoms})(28.75 \text{ electrons/atom}) = 1 \times 10^{24} \text{ electrons} \quad \text{b.}$$

$$(1.6 \times 10^{-19} \text{ coulombs/electron})(1 \times 10^{24} \text{ electrons}) = 2 \times 10^5 \text{ coulombs} \quad \text{c.}$$

مراجعة عامة

50. إذا لامست كرة فلزية صغيرة شحنتها $1.2 \times 10^{-5} \text{ C}$ كرة مماثلة متعادلة، ثم وضعت على بعد 0.15 m منها فما القوة الكهربائية بين الكرتين؟

$$F = K \frac{q_A q_B}{d^2} = (9.0 \times 10^9 \text{ N} \cdot \text{m}^2 / \text{C}^2) \frac{(6.0 \times 10^{-6} \text{ C})(6.0 \times 10^{-6} \text{ C})}{(0.15 \text{ m})^2} = 14 \text{ N}$$

51. الذرات ما القوة الكهربائية بين إلكترون وبروتون يبعد أحدهما عن الآخر $5.3 \times 10^{-11} \text{ m}$ ؟ هذه المسافة تساوي نصف القطر التقريبي لذرة الهيدروجين.

$$F = K \frac{q_A q_B}{d^2} = (9.0 \times 10^9 \text{ N}\cdot\text{m}^2/\text{C}^2) \frac{(1.60 \times 10^{-19} \text{ C})(1.60 \times 10^{-19} \text{ C})}{(5.3 \times 10^{-11} \text{ m})^2} = 8.2 \times 10^{-8} \text{ N}$$

52. تؤثر قوة مقدارها 0.36 N في كرة صغيرة شحنتها $2.4 \mu\text{C}$ ، وذلك عند وضعها على بُعد 5.5 cm من مركز كرة ثانية مشحونة بشحنة غير معروفة. ما مقدار شحنة الكرة الثانية؟

$$F = K \frac{q_A q_B}{d^2}$$

$$q_B = \frac{Fd^2}{Kq_A} = \frac{(0.36 \text{ N})(5.5 \times 10^{-2} \text{ m})^2}{(9.0 \times 10^9 \text{ N}\cdot\text{m}^2/\text{C}^2)(2.4 \times 10^{-6} \text{ C})} = 5.0 \times 10^{-8} \text{ C}$$

53. كرتان متماثلتان مشحونتان، المسافة بين مركزيهما 12 cm . فإذا كانت القوة الكهربائية بينها 0.28 N فما شحنة كل كرة؟

$$F = K \frac{q_A q_B}{d^2}, \text{ where } q_A = q_B$$

$$q = \sqrt{\frac{Fd^2}{K}} = \sqrt{\frac{(0.28 \text{ N})(1.2 \times 10^{-1} \text{ m})^2}{(9.0 \times 10^9 \text{ N}\cdot\text{m}^2/\text{C}^2)}} = 6.7 \times 10^{-7} \text{ C}$$

54. في التجربة المستخدم فيها جهاز كولوم، يبعد مركز كرة شحنتها $3.6 \times 10^{-8} \text{ C}$ مسافة 1.4 cm عن مركز كرة ثانية غير معلومة الشحنة. فإذا كانت القوة بين الكرتين $2.7 \times 10^{-2} \text{ N}$ فما شحنة الكرة الثانية؟

$$F = K \frac{q_A q_B}{d^2}$$

$$q_B = \frac{Fd^2}{Kq_A} = \sqrt{\frac{(2.7 \times 10^{-2} \text{ N})(1.4 \times 10^{-2} \text{ m})^2}{(9.0 \times 10^9 \text{ N} \cdot \text{m}^2/\text{C}^2)(3.6 \times 10^{-8} \text{ C})}}$$

$$= 1.6 \times 10^{-8} \text{ C}$$

55. إذا كانت القوة بين بروتون وإلكترون $3.5 \times 10^{-10} \text{ N}$ فما المسافة بين الجسيمين؟

$$F = K \frac{q_A q_B}{d^2}$$

$$d = \sqrt{K \frac{q_A q_B}{F^2}}$$

$$= \sqrt{\frac{(9.0 \times 10^9 \text{ N} \cdot \text{m}^2/\text{C}^2)(1.60 \times 10^{-19} \text{ C})(1.6 \times 10^{-19} \text{ C})}{3.5 \times 10^{-10} \text{ N}}} = 8.1 \times 10^{-10} \text{ m}$$

التفكير الناقد

56. تطبيق المفاهيم احسب نسبة القوة الكهربائية إلى قوة الجاذبية بين الإلكترون والبروتون في ذرة الهيدروجين؟

$$\frac{F_e}{F_g} = \frac{K \frac{q_e q_p}{d^2}}{G \frac{m_e m_p}{d^2}} = \frac{K q_e q_p}{G m_e m_p}$$

$$= \frac{(9.0 \times 10^9 \text{ N} \cdot \text{m}^2/\text{C}^2)(1.60 \times 10^{-19} \text{ C})^2}{(6.67 \times 10^{-11} \text{ N} \cdot \text{m}^2/\text{kg}^2)(9.11 \times 10^{-31} \text{ kg})(1.67 \times 10^{-27} \text{ kg})} = 2.3 \times 10^{39}$$

57. **حلل واستنتج** وضعت الكرة A التي تحمل شحنة مقدارها $+64 \mu\text{C}$ عند نقطة الأصل، ووضعت كرة ثانية B تحمل شحنة مقدارها $-16 \mu\text{C}$ عند النقطة $+1.00 \text{ m}$ على محور x . أجب عن الأسئلة التالية:
a. أين يجب وضع كرة ثالثة C شحنتها $+12 \mu\text{C}$ بحيث تكون القوة المحصلة المؤثرة فيها صفرًا؟

$$F_{AC} = K \frac{q_A q_C}{d_{AC}^2} = K \frac{q_B q_C}{d_{BC}^2} = F_{BC}, \text{ so}$$

$$\frac{q_A}{d_{AC}^2} = \frac{q_B}{d_{BC}^2}, \text{ and } 16d_{AC}^2 = 64d_{BC}^2, \text{ or}$$

$$d_{AC}^2 = 4d_{BC}^2, \text{ so } d_{AC} = 2d_{BC}$$

$+2.00 \text{ m}$ على المحور x

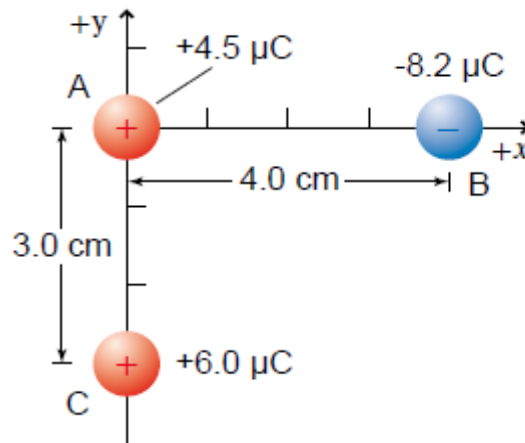
b. إذا كانت شحنة الكرة الثالثة C تساوي $+6 \mu\text{C}$ فأين يجب وضعها على أن تبقى محصلة القوى المؤثرة فيها صفرًا؟

b. الشحنة الثالثة q_c ، تُختصر من المعادلة، لذا فإن مقدارها و نوعها لا يكون مهمًا.

c. إذا كانت شحنة الكرة الثالثة $-12 \mu\text{C}$ ، فأين يجب وضعها على أن تبقى محصلة القوى المؤثرة فيها صفرًا؟

c. كما في الفرع b، يكون مقدار الشحنة الثالثة q_c ونوعها ليس مهمًا أيضًا.

58. وضعت ثلاث كرات مشحونة، كما هو موضح في الشكل 1-16. أوجد القوة المحصلة المؤثرة في الكرة B.



الشكل 1-16

$$F_1 = F_{A \text{ on } B}$$

$$= \frac{Kq_A q_B}{d^2} = \frac{(9.0 \times 10^9 \text{ N}\cdot\text{m}^2/\text{C}^2)(4.5 \times 10^{-6} \text{ C})(-8.2 \times 10^{-6} \text{ C})}{(0.040 \text{ m})^2}$$

$$= -208 \text{ N} = 208 \text{ N, to left}$$

The distance between the other two charges is

$$\sqrt{(0.040 \text{ m})^2 + (0.030 \text{ m})^2} = 0.050 \text{ m}$$

$$\theta_1 = \tan^{-1}\left(\frac{0.030 \text{ m}}{0.040 \text{ m}}\right)$$

= 37° below the negative x-axis, or 217° from the positive x-axis.

$$F_2 = F_{C \text{ on } B}$$

$$= \frac{Kq_C q_B}{d^2} = \frac{(9.0 \times 10^9 \text{ N}\cdot\text{m}^2/\text{C}^2)(8.2 \times 10^{-6} \text{ C})(6.0 \times 10^{-6} \text{ C})}{(0.050 \text{ m})^2}$$

$$= -177 \text{ N} = 177 \text{ N at } 217^\circ \text{ from the positive x-axis } (37^\circ + 180^\circ)$$

The components of F_2 are:

$$F_{2x} = F_2 \cos \theta = (177 \text{ N})(\cos 217^\circ) = -142 \text{ N} = 142 \text{ N to the left}$$

$$F_{2y} = F_2 \sin \theta = (177 \text{ N})(\sin 217^\circ) = -106 \text{ N} = 106 \text{ N down}$$

The components of the net (resultant) force are:

$$F_{\text{net}, x} = -208 \text{ N} - 142 \text{ N} = -350 \text{ N} = 350 \text{ N, to left}$$

$$F_{\text{net}, y} = 106 \text{ N, down}$$

$$F_{\text{net}} = \sqrt{(350 \text{ N})^2 + (106 \text{ N})^2} = 366 \text{ N} = 3.7 \times 10^2 \text{ N}$$

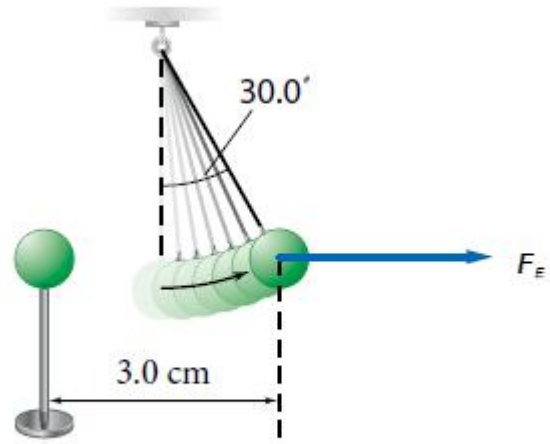
$$\theta_2 = \tan^{-1}\left(\frac{106 \text{ N}}{350 \text{ N}}\right)$$

= 17° below the negative x-axis

$$F_{\text{net}} = 3.7 \times 10^2 \text{ N at } 197^\circ \text{ from the positive x-axis}$$

$F = 3.7 \times 10^2 \text{ N}$ ، في اتجاه يصنع زاوية 197°
بالنسبة لمحور x الموجب.

59. يوضح الشكل 1-17 كرتي بيلسان، كتلة كل منهما 1.0 g ، وشحنتاهما متساويتان، إحداهما معلقة بخيط عازل، والأخرى قريبة منها ومثبتة على حامل عازل، والبعد بين مركزيهما 3.0 cm . فإذا اتزنت الكرة المعلقة عندما شكّل الخيط العازل الذي يحملها زاوية مقدارها 30.0° مع الرأسى فاحسب كلاً مما يأتي:



الشكل 1-17

a. F_g المؤثرة في الكرة المعلقة.

$$F_g = mg = (1.0 \times 10^{-3} \text{ kg})(9.80 \text{ m/s}^2) = 9.8 \times 10^{-3} \text{ N}$$

b. F_E المؤثرة في الكرة المعلقة.

b. F_E

$$\tan 30.0^\circ = \frac{F_E}{F_g}$$

$$\begin{aligned}
 F_E &= mg \tan 30.0^\circ \\
 &= (1.0 \times 10^{-3} \text{ kg})(9.80 \text{ m/s}^2)(\tan 30.0^\circ) \\
 &= 5.7 \times 10^{-3} \text{ N}
 \end{aligned}$$

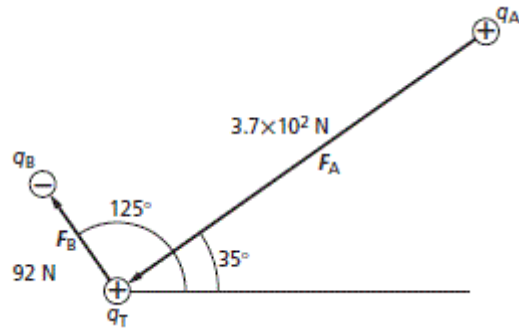
c. الشحنة على كل من الكرتين.

$$\begin{aligned}
 F &= \frac{Kq_A q_B}{d^2} \\
 F &= \frac{Kq^2}{d^2} \\
 q &= \sqrt{\frac{Fd^2}{K}} = \sqrt{\frac{(5.7 \times 10^{-3} \text{ N})(3.0 \times 10^{-2} \text{ m}^2)}{(9.0 \times 10^9 \text{ N} \cdot \text{m}^2/\text{C}^2)}} = 2.4 \times 10^{-8} \text{ C}
 \end{aligned}$$

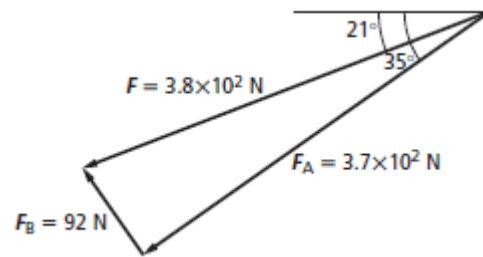
60. وضعت شحنتان نقطيتان ساكنتان q_A و q_B بالقرب من شحنة اختبار موجبة، q_T ، مقدارها $+7.2 \mu\text{C}$. فإذا كانت الشحنة الأولى q_A موجبة وتساوي $3.6 \mu\text{C}$ وتقع على بُعد 2.5 cm من شحنة الاختبار q_T عند زاوية 35° ، وكانت الشحنة q_B سالبة ومقدارها $-6.6 \mu\text{C}$ وتقع على بُعد 6.8 cm من شحنة الاختبار عند زاوية 125° :
 a. فحدّد مقدار كل قوة من القوتين اللتين تؤثران في شحنة الاختبار q_T .

$$\begin{aligned}
 F_A &= \frac{Kq_T q_A}{d^2} = \frac{(9.0 \times 10^9 \text{ N} \cdot \text{m}^2/\text{C}^2)(7.2 \times 10^{-6} \text{ C})(3.6 \times 10^{-6} \text{ C})}{(0.025 \text{ m})^2} \\
 &= 3.7 \times 10^2 \text{ N, away (toward } q_T) \\
 F_B &= \frac{Kq_T q_B}{d^2} = \frac{(9.0 \times 10^9 \text{ N} \cdot \text{m}^2/\text{C}^2)(7.2 \times 10^{-6} \text{ C})(6.6 \times 10^{-6} \text{ C})}{(0.068 \text{ m})^2} \\
 &= 92 \text{ N, toward (away from } q_T)
 \end{aligned}$$

b. ارسم مخطط القوة.



c. حدّد بالرسم القوة المحصلة المؤثرة في شحنة الاختبار q_T .



الكتابة في الفيزياء

61. **تاريخ العلم** ابحث في الأجهزة المختلفة التي كانت تستخدم في القرنين السابع عشر والثامن عشر في دراسة الكهرباء الساكنة. قد تتطرق مثلاً إلى قارورة ليدن وآلة ويمشورست. ناقش كيف تم بناؤهما، ومبدأ عمل كل منهما.

61. **يجب أن تتضمن الإجابات المعلومات التالية:**
 اخترعت قارورة ليدن في منتصف أربعينيات القرن الثامن عشر، وكانت أول مكثف يتم استخدامه. وقد استخدمت خلال القرنين الثامن عشر والتاسع عشر لتخزين الشحنات للكهرباء المتعلقة بالتجارب والعروض. أما آلة ويمشورست فقد استخدمت في القرن التاسع عشر وبداية القرن العشرين لتوليد وتفريغ الشحنات الكهربائية الساكنة. واستُبدل بها مولد فان دي جراف في القرن العشرين.

62. هناك قوى بين جزيئات الماء تؤدي إلى أن يكون الماء أكبر كثافة عندما يكون سائلاً بين 0°C و 4°C مقارنة بحالته عندما يكون صلباً عند 0°C . هذه القوى في طبيعتها ما هي إلا قوى كهروستاتيكية. ابحث في القوى الكهروستاتيكية بين الجزيئات، ومنها قوى فان ديرفال وقوى الاستقطاب، ووصف أثرها في المادة.

62. يجب أن يصف الطلاب التفاعل بين الشحنات الموجبة والسالبة على المستوى الجزيئي. وعليهم أن يلاحظوا أن شدة هذه القوى هي المسؤولة عن الاختلافات في درجتي الانصهار والغليان، وعن خصوصية تمدد الماء بين 0°C و 4°C .