

مكتبة طلابنا  
TLABNA LIBRARY



( )

س ١: أقرئ ثم أجبني:

(دَخَلَ الْمُعَلِّمُ الْفَصْلَ فَشَاهَدَ أُرَاقًا مُبَعَثَةً هُنَا وَهُنَاكَ فَطَلَّبَ مِنْ كُلِّ تَلْمِيذٍ أَنْ يَجْمَعَ مَا حَوْلَهُ،

رَفَضَ سَمِيرٌ أَنْ يُسَاعِدَ أَصْدِقَاءَهُ، فَطَلَّبَ مِنْهُ الْمُعَلِّمُ الْمُسَاعَدَةَ فِي تَنْظِيفِ الْفَصْلِ)

١- استخرجي من الفقرة السابقة:

- كَلِمَةٌ بِهَا (ال) قَمَرِيَّةٌ: .....
- كَلِمَةٌ تَحْوِي تَضْعِيفًا: .....
- كَلِمَةٌ مُنْتَهِيَةٌ بِتَاءٍ مَرْبُوطَةٍ: .....
- كَلِمَةٌ بِهَا تَنْوِينٌ بِالْفَتْحِ: .....
- كَلِمَةٌ بِهَا مَدٌّ بِالْأَلْفِ: ....., مَعَ ذِكْرِ الْحَرْفِ الْمَمْدُودِ: .....

٢- أجبني عن الأسئلة التالية:

- أَيْنَ دَخَلَ الْمُعَلِّمُ؟
- مَاذَا طَلَّبَ الْمُعَلِّمُ مِنَ التَّلَامِيذِ؟
- هَلْ وَافَقَ سَمِيرٌ عَلَى طَلْبِ الْمُعَلِّمِ؟

( )

س ٢: أكملی النشید:

كِتَابُ اللَّهِ ..... وَبِالتَّوْحِيدِ .....

فَفِي قُرْآنِنَا ..... يُضِيءُ ظِلَامَ .....

سِوَى الْقُرْآنِ ..... شَرِيعَتُهُ لَنَا .....

س٣: حوّلي الجُمْلَ الفَعْلِيَّةَ إلى اسْمِيَّةٍ فيما يلي: ( )

- اخْتَرَعَ جَابِرُ بْنُ حَيَّانٍ الْوَرَقَ الْمَقَاوِمَ لِلنَّارِ. ....
- عَاشَ أَبُو بَكْرٍ الرَّازِي فِي بَغْدَادِ. ....
- لَعِبَ الْأَطْفَالُ فِي الْحَدِيقَةِ. ....

س٤: صلي الكلمة في القائمة (أ) بمعناها الصحيح في القائمة (ب): ( )

(أ)	(ب)
حُجَّةُ الطَّبِّ	بَرَغُوا وَأَجَادُوا
التَّشْخِيسُ	ذِكَاةُ
فِطْنَتُهُ	تَعْيِينُ الْمَرَضِ
نَبَغُوا	الطَّبِيبُ الثَّقَّةُ

س٥: اربطي بين الجُمْلِ التَّالِيَةِ باستخدام حُرُوفِ الْعَطْفِ (الواو – الفاء – ثم): ( )

- أَكَلَ الْوَلَدُ الْجُبْنَ ..... الْحَلِيبَ عَلَى الْإِفْطَارِ. (و – ف – ثم)
- لِجَابِرِ بْنِ حَيَّانٍ الْعَدِيدُ مِنَ الْاِخْتِرَاعَاتِ، ..... هُوَ أَوَّلُ مَنْ اسْتَحْضَرَ مَاءَ الذَّهَبِ. (و – ف – ثم)
- أَكَلَ الْكَلْبُ قِطْعَةَ اللَّحْمِ، ..... وَقَفَ أَمَامَ الْغُلَامِ يَهْرُؤُ ذَيْلَهُ. (و – ف – ثم)

س٦: أكملي العبارات التَّالِيَةَ بكلمات مناسبة: ( )

١. الْمُعَلِّمُ: إِنَّ مَنْ يَقُومُ بِتَنْظِيفِ الشَّوَارِعِ لَا نَقُولُ عَنْهُ .....
٢. حَرَجَ الْخَلِيفَةُ عُمَرُ بْنُ الْخَطَّابِ ذَاتَ لَيْلَةٍ وَمَعَهُ .....
٣. فِي عَهْدِ الْخَلِيفَةِ أَبِي بَكْرٍ الصِّدِّيقِ رَضِيَ اللَّهُ عَنْهُ أَصَابَ النَّاسَ ..... وَ .....

( )

س٧: اكتبى ما يلى بخط جميل:


برع الرازي في الطب

.....



( )

س٨: اكتبى ما يملئ عليك.



انتهت الأسئلة مع تمنياتي للجميع بالتوفيق

اختبار الفترة الثالثة

اسم الطالب : ..... المادة : الفقه والسلوك الصف : الثالث الابتدائي

أجيب عن جميع الأسئلة مستعيناً بالله .


السؤال الأول : اختر مما بين القوسين :

( **عبادة - ربي - اليدين - المزاح** )

١ - الدعاء ..... وطاعة لله سبحانه وتعالى .

٢ - أدعو ..... أن يبعد عني الشر .

٣ - من آداب الدعاء رفع ..... عند الدعاء .

٤ - من آداب ..... احترام كبار السن .

السؤال الثاني : رتب الجملة التالية :

هو - الدعاء - العبادة .

.....

السؤال الثالث : ضع علامة ( ✓ ) أو ( × ) :

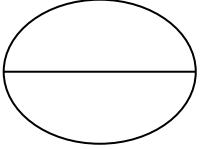
١ - آية الكرسي أعظم آية في القرآن . ( )

٢ - وردت آية الكرسي في سورة الشمس . ( )

٣ - أقتدي بالرسول صلى الله عليه وسلم في مزاحه . ( )

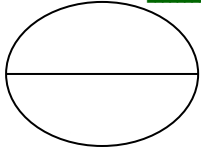
٤ - لا يسن قراءة آية الكرسي بعد الصلاة المكتوبة . ( )

## اختبار الفترة الثالثة



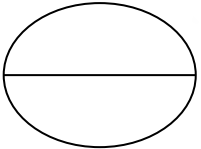
س ١: ضعي علامة (✓) أو (x) أمام العبارات الآتية:

١. تقاس حجوم السوائل باستخدام المخبر المدرج والدورق أو الكأس المدرج. ( )
٢. تقاس كتلة الجسم باستخدام الميزان ذي الكفتين. ( )



س ٢: أكملي العبارات الآتية بما يناسبها:

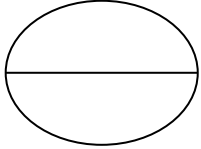
١. الطقس هو .....
٢. العناصر التي تحدد حالة الطقس خلال اليوم هي ----- ، ----- ، ----- .
٣. المناخ هو .....
٤. المادة هي .....
٥. من أدوات قياس طول المادة ----- ، ----- .



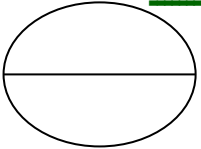
س ٣: انظري إلى الصور الآتية لكل من مدينة أبها على اليمين ومدينة ينبع على اليسار

وصفي الاختلافات في المناخ وسببها:

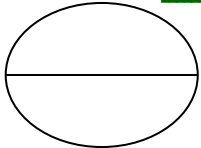




س ٤: انظري إلى الصورة الآتية وصفي حالة الماء:



س ٥: انظري إلى صور الغيوم الآتية وحددي من خلالها الطقس في كل صورة:



س ٦: قارني بين كل مما يأتي:

١. المواد الصلبة والسائلة والغازية من حيث الشكل والحجم.
٢. التغيرات الفيزيائية والتغيرات الكيميائية.

انتهت الأسئلة مع تمنياتي للجميع بالتوفيق

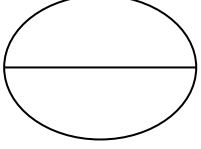
س ١: ضعي علامة (✓) أمام التصرف الحسن:

١. أجلس باحترام أمام معلمتي. ( )
٢. أنشغل عن معلمتي أثناء الدرس. ( )
٣. أحترم العاملة وأقدر جهودها. ( )
٤. أقول للعاملة يا خادمة. ( )

س ٢: اختاري التصرف الصحيح في المواقف التالية بوضع خط تحته:

١. إذا تحدثت معي زميلتي أثناء شرح المعلمة:
- أشير لها بالإنصات إلى شرح المعلمة.
  - أتحدث معها، ولا أنصت لمعلمتي.
  - أخبر صديقتي الأخرى لتتحدث هي معها.
٢. قال رسول الله صلى الله عليه وسلم: "لَيْسَ مِنَّا مَنْ لَمْ يَرْحَمْ صَغِيرَنَا، وَيُوقِّرَ .....!".
- كَبِيرَنَا.
  - صَغِيرَنَا.
  - فَقِيرَنَا.
٣. نقول عند تقديم الطعام للضيف:
- تَفَضَّلْ.
  - فِي أَمَانِ اللَّهِ.
  - مَعَ السَّلَامَةِ.





س ٣: صلي العبارة من المجموعة (أ) بما يناسبها من المجموعة (ب):

(ب)

بسرور وبشاشة

في أماكن التنزه

بأدب

أقول دعاء الخروج

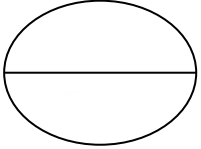
(أ)

أحافظ على الممتلكات العامة


أقابل الضيوف

قبل الخروج للتنزه

أتحدث مع الضيوف



س ٤: اكتب نوع الملوث في الصور التالية:



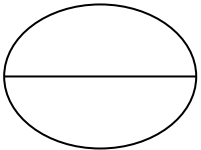
( )



( )



( )



س ٥: اختاري الإجابة الصحيحة فيما يأتي:

١. السمك من مجموعة:

➤ الحليب ومشتقاته.

➤ الفواكه والخضراوات.

➤ اللحوم والبقول.

٢. القرع من مجموعة:

- اللحوم والبقول.
- الحليب ومشتقاته.
- الفواكه والخضراوات.

---

انتهت الأسئلة مع تمنياتي للجميع بالتوفيق

## اختبار الفترة الثالثة

اسم الطالب : ..... المادة : رياضيات الصف : الثالث الابتدائي

أجيب عن جميع الأسئلة مستعينا بالله .

السؤال الأول :

أضع علامة (✓) أمام العبارة الصحيحة وعلامة (x) أمام العبارة الخاطئة :

( ) المقسوم هو ناتج مسألة القسمة

في الجملة العددية  $16 \div 2 = 8$  المقسوم عليه هو 2 ،

( ) وناتج القسمة هو 8

( ٢ ) اختيار من متعدد : حل عبد الرحمن مسألة القسمة  $56 \div 7 = 8$

فأي مسألة استعمل للتحقيق من إجابته ؟

$$8 \times 8 \quad (٢)$$

$$7 + 56 \quad (١)$$

$$56 \div 7 \quad (٤)$$

$$7 + 8 \quad (٣)$$

السؤال الثاني :

اختر الوحدة الأنسب ( ملمترا ، أو سنتمترا ، أو مترا ، أو كيلومترا )  
لقياس كل من الأطوال الآتية

- (١) طول النملة
- (٢) طول السيارة
- (٣) المسافة بين مدينتين
- (٤) طول قلم الرصاص

(٢) ما التقدير الأنسب لطول حافة السبورة : ٣م أم ٣ كلم ؟

السؤال الأول: اختاري الإجابة الصحيحة مما بين الأقواس: ( )

١. عدد أركان الإيمان .....  
(خمسة أركان - ستة أركان - سبعة أركان)
٢. الحج يجب في العمر .....  
(مرة واحدة - مرتان - ثلاث مرات)
٣. الكتاب الذي أنزل على النبي محمد صلى الله عليه وسلم .....  
(القرآن الكريم - الإنجيل - التوراة)
٤. التصديق بالكتب الذي أنزلها الله عز وجل على رسله .....  
(واجب - جائز - مستحب)
٥. أنزل الله تعالى الإنجيل على .....  
(محمد صلى الله عليه وسلم - عيسى عليه السلام - موسى عليه السلام)

السؤال الثاني: أجبني بـ (نعم) أو (لا): ( )

١. الركن الأول من أركان الإيمان هو الإيمان بالرسول. ( )
٢. الإيمان بالميزان والصراط من الإيمان بالملائكة. ( )
٣. الإيمان بعيسى ومحمد إبراهيم من الإيمان بالرسول. ( )
٤. أنزل الله تعالى التوراة على موسى عليه السلام. ( )
٥. معنى الإحسان أن تعبد الله كأنك تراه، فإن لم تكن تراه فإنه يراك. ( )

السؤال الثالث: أكمل ما يأتي: ( )

١. معنى الإيمان بالرسول ..... بجميع الرسل عليهم السلام.
٢. الرسل الكرام عليهم السلام كثيرون منهم ..... و ..... و .....
٣. الرسل جميعهم يدعون إلى ..... الله وحده لا ..... له.
٤. أول الرسل هو ..... عليه السلام.
٥. خاتم الرسل هو ..... صلى الله عليه وسلم.
٦. معنى الإيمان بالله أفراد الله تعالى بـ ..... و ..... والأسماء والصفات.

( )

السؤال الرابع: ضعي دائرة حول الإجابة الصحيحة:

الإيمان بالله تعالى هو الركن:

- الأول من أركان الإيمان.
- الثاني من أركان الإيمان.
- الثالث من أركان الإيمان.

الإيمان بالملائكة هو الركن:

- الثاني من أركان الإيمان.
- الثالث من أركان الإيمان.
- الرابع من أركان الإيمان.

أحسن الولد في صلاته لأنه يعلم أن الله:

- يسمعه.
- يراه.
- لا يراه.

انتهت الأسئلة مع تمنياتي للجميع بالتوفيق