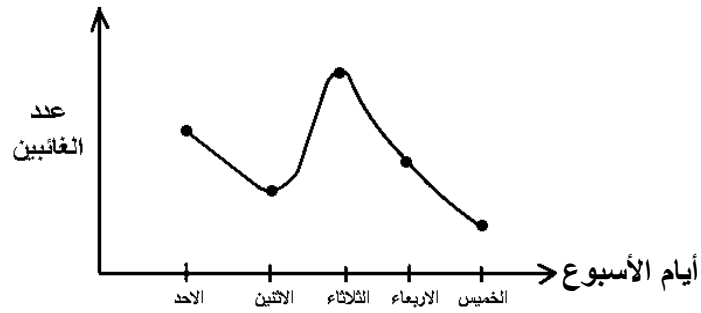


١- يبين الشكل التالي عدد التلاميذ الغائبين في فصل دراسي خلال أسبوع. في أي يوم من أيام الأسبوع كانت أكبر نسبة لحضور التلاميذ؟



(أ) الأحد.

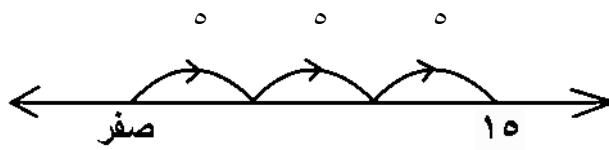
(ب) الخميس.

(ج) الأربعاء.

(د) الاثنين.

[٠٠٠٦٦٦٥]

٢- يمكن أن يستخدم خط الأعداد كما في الرسم لتوضيح ناتج.....



(أ) $٥ \div ١٥$

(ب) $٥ - ١٥$

(ج) $٣ - ١٥$

(د) ٣×١٥

[٠٠٠٦٦٥٦]

٣- أ ، ب ، ج ثلاثة أعداد طبيعية النسبة بينها كنسبة ٣ : ٤ : ٥
على الترتيب، فإذا كان ب - أ = ٥ فما قيمة ج؟

(أ) ١٥

(ب) ٢٠

(ج) ٢٥

(د) ٣٠

[٠٠٠٦٦٩٢]

٤- عند اختيار بطاقة من بين مجموعة بطاقات متماثلة مرقمة من ٣ - ١٣، فإن
احتمال أن تحمل البطاقة المسحوبة عدداً أولياً.....

(أ) $\frac{6}{11}$

(ب) $\frac{5}{11}$

(ج) $\frac{4}{11}$

(د) $\frac{3}{11}$

[٠٠٠٦٧٢٩]

٥- كم عدد المكعبات التي طول حرف كل منها ٢ سم، ونحتاجها لنملاً حوضاً على شكل متوازي مستطيلات أبعاده ٤ سم، ٨ سم، ١٦ سم؟

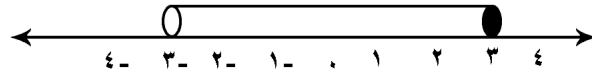
(أ) ٦٤ مكعب.

(ب) ١٢٨ مكعب.

(ج) ٢٥٦ مكعب.

(د) ٥١٢ مكعب.

[٠٠٠٦٦٦٩]



٦-

أى ما يلي يمثله الشكل السابق؟

(أ) $[-3, 3]$

(ب) $3 > x \geq -3$

(ج) $3 > x \geq -3$

(د) $[-3, 3]$

[٠٠٠٦٧٦٦]

٧- ترتبط الرياضيات في مواقف البيع والشراء باستخدام.....

(أ) الحساب العقلي.

(ب) التقدير التقريبي.

(ج) التخمين.

(د) الآلة الحاسبة.

[٠٠٠٦٧٥٧]

٨- يسمى الجزء من المستقيم الذي له نقطة بداية.....

(أ) خط مستقيم.

(ب) شعاع.

(ج) قطعة مستقيمة.

(د) متجه.

[٠٠٠٦٧١٨]

٩- ترتيب الأعداد -٠.٣، -٠.٢٣، -١ تصاعدياً كالتالي.....

(أ) $\frac{1}{3}$ ، -٠.٣، -٠.٢٣

(ب) -٠.٣، $\frac{1}{3}$ ، -٠.٢٣

(ج) -٠.٢٣، $\frac{1}{3}$ ، -٠.٣

(د) -٠.٢٣، -٠.٣، $\frac{1}{3}$

[٠٠٠٦٦٩٣]

١٠- أدخلت ليلي ٣٥ × ٧٧٥٧ في الآلة الحاسبة بدلاً من

كم تضيف لتصلح خطأها وتحصل على الإجابة الصحيحة؟

(أ) ٢٠

(ب) ٢٠٠

(ج) ٧٠

(د) ٧٠٠

[٠٠٠٦٧٧٢]

هذه إجابات نماذج الوزارة وبها إجابات خاطئة مثل (١ ، ٢ ، ٩)

المادة: معلم رياضيات ابتدائي C14

تنبيه: الإجابة الصحيحة هي الإجابة المظللة.

الترتيب	المسلسل	الإجابة	أ	ب	ج	د
1	6665	أ	<input checked="" type="radio"/>	<input type="radio"/>	<input type="radio"/>	<input type="radio"/>
2	6656	ب	<input type="radio"/>	<input checked="" type="radio"/>	<input type="radio"/>	<input type="radio"/>
3	6692	ج	<input type="radio"/>	<input checked="" type="radio"/>	<input type="radio"/>	<input type="radio"/>
4	6729	ب	<input type="radio"/>	<input type="radio"/>	<input checked="" type="radio"/>	<input type="radio"/>
5	6669	أ	<input checked="" type="radio"/>	<input type="radio"/>	<input type="radio"/>	<input type="radio"/>
6	6766	ب	<input type="radio"/>	<input checked="" type="radio"/>	<input type="radio"/>	<input type="radio"/>
7	6757	أ	<input checked="" type="radio"/>	<input type="radio"/>	<input type="radio"/>	<input type="radio"/>
8	6718	ب	<input type="radio"/>	<input checked="" type="radio"/>	<input type="radio"/>	<input type="radio"/>
9	6693	أ	<input checked="" type="radio"/>	<input type="radio"/>	<input type="radio"/>	<input type="radio"/>
10	6772	د	<input type="radio"/>	<input type="radio"/>	<input type="radio"/>	<input checked="" type="radio"/>