

مكتبة طلابنا
TLABNA LIBRARY



س ١: من درس (أمير الأطباء أبو بكر الرازي): ()

(أبو بكر بن محمد الرازي، عاش في بغداد عاصمة العلوم في زمانه. وهو أبو الطب العربي، وحجة الطب في أوروبا قديماً. بدأت حياته بحبه العلوم العقلية، لكنه سرعان ما غير اهتمامه عند بلوغه الثلاثين من عمره).

أ. من هو أمير الأطباء؟

.....

ب. أين عاش الرازي؟

.....

استخرجي من القطعة السابقة:

- فعلاً ماضياً:
- كلمة بها (ال) قمرية:
- كلمة بها (ال) شمسية:
- كلمة بها تنوين كسر:
- كلمة بها تنوين فتح:
- كلمة مختومة ب(تاء مربوطة):
- كلمة مختومة ب(تاء مفتوحة):

س ٢: أكملی النشید التالي: ()

العِلْمُ ضِيَاءٌ وَالْعَالَمُ صَاحِبُهُ
وَالْعَالَمُ يَجْعَلُ بِالْعِلْمِ سِلَاحًا كَي

س ٣: أختاري الإجابة الصحيحة مما يأتي: ()

- أ- جَمْعُ الْعَالَمِ:
- ب- يَجْعَلُ:
- ج- مضاد (ضياء):
- (الْعُلَمَاءُ - الْأَعْلَامُ - الْعِلْمُ)
- (اسْمًا - فِعْلًا - حَرْفًا)
- (نور - ظلام - ضوء)

س ٤: ضعي علامة (✓) أو (x) عن شمال العبارات الآتية: ()

١. أَحْمَدُ بْنُ مَاجِدٍ مَلَّاحٌ عَرَبِيٌّ أَصْلُهُ مِنْ (ظِفَارِ). ()
٢. مُرَادِفُ كَلِمَةِ رَبَّانٍ هُوَ: قَائِدُ السَّفِينَةِ. ()
٣. (أَحْمَدُ اللَّهِ عَلَى نِعْمَتِهِ) أَحْمَدٌ فِي الْجُمْلَةِ السَّابِقَةِ اسْمًا. ()

س ٥: رتبي أحداث القصة ثم اكتبها: ()

- () فَوَجَدَ امْرَأَةً وَمَعَهَا صِغَارُهَا يَبْكُونَ مِنَ الْجُوعِ.
- () خَرَجَ الْخَلِيفَةُ عُمَرُ بْنُ الْخَطَّابِ ذَاتَ لَيْلَةٍ وَمَعَهُ خَادِمَةٌ.
- () وَأَسْرَعَ نَحْوَ مَخْزَنِ بَيْتِ الْمَالِ وَحَمَلَ لَهُمْ كَيْسًا مِنَ الدَّقِيقِ.
- () فَتَأَلَّمَ مِنْ مَنظَرِ الْأَوْلَادِ.

س ٦: اكتبي بخط جميل: ()

تَأَلَّمَ الْخَلِيفَةُ عُمَرُ مِنْ كَلَامِ الْمَرْأَةِ وَمَنظَرِ الْأَوْلَادِ

.....

الاختبار التحريري الثاني (الفترة الرابعة)

الصف: الثالث الابتدائي

المادة: لغتي

الفصل الدراسي: الثاني

س٧: اكتب ما يُملأ عَلَيْكَ:

()

انتهت الأسئلة مع تمنياتي للجميع بالتوفيق

اختبار الفترة ٤

اسم الطالب : المادة : الفقه والسلوك الصف : الثالث الابتدائي

أجيب عن جميع الأسئلة مستعيناً بالله .

السؤال الأول : اختر مما بين القوسين :

(**الخير** - **السوء** - **البر** - **الله**)

١ - مجالس يذكر فيها الله .

٢ - مجالس يذكر فيها الكذب .

٣ - إن الصدق يهدي إلى

٤ - سبحان وبحمده سبحان الله العظيم .

السؤال الثاني : أضع دائرة حول الصفة المختلفة مما يأتي :

الغيبة - الصدق - النميمة - الاستهزاء بالآخرين .

السؤال الثالث : ضع علامة (✓) أو (×) :

١ - لا أذكر عيوب الآخرين ولا أسخر منهم . ()

٢ - من آداب اللباس تجنب الملابس المحرمة . ()

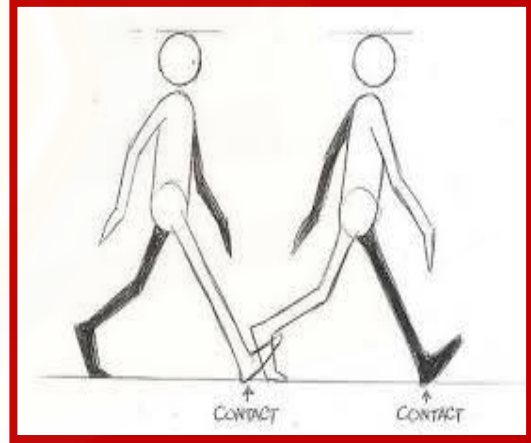
٣ - عندما أرتدي ملابس أبدأ باليسار . ()

٤ - صلاة الفرد أفضل من صلاة الجماعة . ()

س ١: أكمل العبارات الآتية بما يناسبها:

- ١- الموقع هو
- ٢- من أمثلة قوى التلامس و
- ٣- عندما تضعي إصبعك على حنجرتك وأنت تتكلمين تشعري بـ
- ٤- الضوء هو
- ٥- تنقسم الأجسام من حيث نفاذيتها للضوء إلى و

س ٢: انظري إلى الصور التالية وسمي نوع كل حركة:



س ٣: اذكرى ما يأتي:

١. بعض الطرائق للمحافظة على الأذن.
٢. تجربة توضح انكسار الضوء.

انتهت الأسئلة مع تمنياتي للجميع بالتوفيق

س ١: ضعي علامة (✓) أمام العبارة الصحيحة وعلامة (x) أمام العبارة الخاطئة:

١. يجب أن تحتوي وجبتنا الغذائية على نوع - على الأقل - من كل مجموعة من المجموعات الغذائية. ()
٢. لا نراعي النظافة عند إعداد الطعام. ()
٣. تطلق "الشطيرة" على شريحتي خبز بينهما نوع من الحشو. ()
٤. ليس من الضروري تطبيق آداب الطعام عند تناول الشطيرة. ()

س ٢: اكتبي أسفل كل صورة اسم المرحلة التي يمر بها التمر من بين الكلمات التالية (رطب - تمر - بلح)



()

()

()

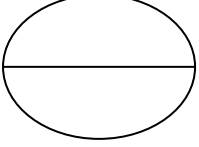
س ٣: بالاستعانة بالصور التالية اكتبي إلام تحتاجين لعمل تمر بالشوكولاته:



()

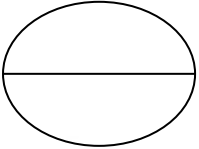
()

()



س ٤: أشيري بعلامة (✓) أمام التصرف الصحيح الواجب على الضيوف مراعاته:

- دخول المنزل إذا كان الباب مفتوحاً. ()
- التجول في المنزل لرؤيته. ()
- الاستئذان ثلاثاً قبل دخول المنزل. ()
- إطالة الزيارة. ()



س ٥: أكمل ما يأتي:

١. النزاهات تجدد وتشرح
٢. نقول دعاء ركوب عند الذهاب إلى أي مكان.
٣. المجموعات الغذائية مجموعات.
٤. المحافظة على البيئة من التلوث يجعلنا نعيش في

انتهت الأسئلة مع تمنياتي للجميع بالتوفيق

اختبار الفترة ٤

اسم الطالب : المادة : رياضيات الصف : الثالث الابتدائي

أجيب عن جميع الأسئلة مستعينا بالله .

السؤال الأول :

أصنف كلا من الجسمين الآتيين :

شكل له وجهان ويس له أحرف

شكل له وجه واحد

(٢) أدرّب وأحل المسألة :

قسم معلم التربية البدنية طلاب صفه إلي ٤ مجموعات .. اثنان منها تضم كل واحدة منها ٥ طلاب ، واثنان تضم كل واحدة منهما ٧ طلاب . فما عدد طلاب الصف

(١) السؤال الثاني

تلف سعاد شريطا من القماش حول سجادة مستطيلة الشكل محيطها ١٠ أمتار . فإذا كان عرض السجادة مترين ، فكم طولها ؟

٢) اختبار الفصل

أضع علامة (✓) أمام العبارة الصحيحة و علامة (x) أمام العبارة الخاطئة :

البيانات التي نحصل عليها من عملية المسح يمكن تمثيلها بلوحة إشارات .
()

لا يحتاج التمثيل بالأعمدة إلي تدرج
()

- السؤال الأول: ضعي علامة (✓) أو (x) أمام العبارات التالية: ()
- () ✗ النزول بالوحي هو عمل الملائكة عليهم السلام.
- () ✗ كتابة الأعمال هو عمل الرسل عليهم السلام.
- () ✗ معنى أفراد الله تعالى بالألوهية هو صرف جميع أنواع العبادة لله وحده لا شريك له.
- () ✗ الأسماء المراد بها أسماء الله الحسنى.
- () ✗ جزاء الإيمان بالله هو الحياة حياة طيبة والسعادة في الدنيا و الآخرة.
- () ✗ اليوم الآخر: المراد به آخر يوم في الحياة.
- () ✗ ثمرة الإحسان في حياة الإنسان أن الإنسان يجتهد في الطاعات ويبتعد عن المعاصي.

السؤال الثاني: رتبي الكلمات التالية للحصول على معنى الإيمان بالرسول: ()

مِنْ أَوْلِيهِمْ - التَّصْدِيق - نُوحٍ عَلَيْهِ السَّلَام - بِجَمِيعِ الرُّسُل - مُحَمَّدٌ صَلَّى اللَّهُ عَلَيْهِ وَسَلَّمَ - إِلَى آخِرِهِمْ.

السؤال الثالث: ضعي الكلمات التالية في موضعها المناسب من الآية القرآنية للحصول على دليل الإيمان بالرسول: ()

(الرَّسُولُ - الْمُؤْمِنُونَ - وَرُسُلِهِ)

قال الله تعالى:

"أَمَّنْ بِمَا أَنْزَلَ إِلَيْهِ مِنْ رَبِّهِ وَ كُلُّ آمَنَ بِاللَّهِ وَمَلَائِكَتِهِ وَكُتُبِهِ لَا نُفَرِّقُ بَيْنَ أَحَدٍ مِنْ رُسُلِهِ وَقَالُوا سَمِعْنَا وَأَطَعْنَا غُفْرَانَكَ رَبَّنَا وَإِلَيْكَ الْمَصِيرُ (٢٨٥)".

السؤال الرابع: ضعي الكلمات التالية في الفراغ المناسب للحصول على معنى الإيمان باليوم الآخر:

()

(عذاب - النار - الجنة - الموت - نعيمه - الجزاء - بعث - نقر)

نُصَدِّقُ بِكُلِّ مَا يَقَعُ بَعْدَ مِنْ الْقَبْرِ و ، و النَّاسِ
لِلْحِسَابِ، و بِدُخُولِ أَوْ

السؤال الخامس: اختاري الإجابة الصحيحة بوضع خطٍ تحتها فيما يلي:

()

☒ المؤمن إذا أصابته مصيبة في الحياة

(يصبر ويحتسب - يجزع ويسخط - يفعل ما يشاء)

☒ الدليل على الإيمان باليوم الآخر قول الله تَعَالَى

("وَبِالْآخِرَةِ هُمْ يُوقِنُونَ" - "الْحَمْدُ لِلَّهِ رَبِّ الْعَالَمِينَ")

☒ نستعد لليوم الآخر بفعلٍ ما الله به.

(أمر - نهى - صدق)

انتهت الأسئلة مع تمنياتي للجميع بالتوفيق