


ورقة عمل (التصنيف وفق خاصية واحدة)

السؤال الأول : ارسم دائرة حول المجموعة التي عناصرها متشابهة ؟

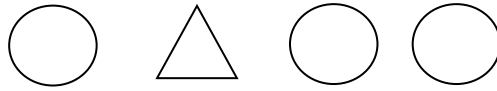


السؤال الثاني : أين أعيش ؟

تعيش في الماء تعيش في الماء واليابسة تعيش في اليابسة



السؤال الثالث : ارسم دائرة حول الشيء المختلف ؟




السؤال الرابع : لون الدائرة أسفل الشيء الأصغر ؟




أتقن	لم يتقن	ملحوظات المعلم	توقيع ولي الأمر

ورقة عمل (التصنيف وفق أكثر من خاصية)

السؤال الأول: ارسم ○ حول الأشياء المتماثلة × على الأشياء المختلفة ؟



السؤال الثاني: ضع إشارة × على الشيء المختلف ؟



السؤال الثالث: ارسم ○ حول الأشياء المتماثلة في الشكل والقياس ؟



السؤال الرابع: لون الجوارب باللون الأحمر ثم ارسم ○ حول شيئين متماثلين في الحجم واللون ؟



أنتن	لم يتنن	ملحوظات المعلم	توقيع ولي الأمر

ورقة عمل (أكثر من وأقل من ويساوي)

السؤال الأول : ارسم شمساً لكل هلال بحيث يكون للمجموعتين العدد نفسه ؟



السؤال الثاني : صل بخط بين كل شيئين في كلتا المجموعتين ولون المجموعة التي عددها أكثر ؟



السؤال الثالث : صل بخط بين كل شيئين في كلتا المجموعتين ولون المجموعة التي عددها أقل ؟



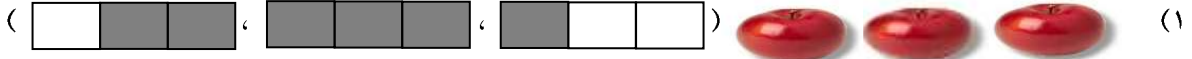
السؤال الرابع : ارسم سمكة لكل حوض بحيث يكون للمجموعتين العدد نفسه ؟



أنتن	لم يتنن	ملحوظات المعلم	توقيع ولي الأمر

ورقة عمل (الأعداد ١-٢-٣)

السؤال الأول: أخط الإجابة الصحيحة ؟



(١ ، ٢ ، ٣)



(١ ، ٢ ، ٣)



السؤال الثاني: ضع علامة \checkmark أمام العبارات الصحيحة وعلامة \times أمام غيرها ؟

أ) الأعداد ١-٢-٣ مرتبة ترتيباً صحيحاً

ب) عدد السمك المرسوم أمامك  ٢

ج) عدد الكرات المرسومة  ٣

السؤال الثالث: أعد الأشياء التالية واكتب العدد ؟



{ }



{ }



{ }

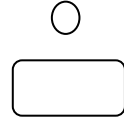
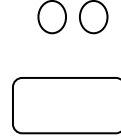
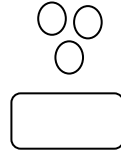
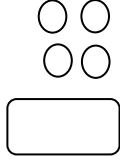
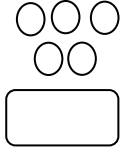
السؤال الرابع: أكمل الجدول يا بطل بتكرار كتابة العدد؟

						١
						٢
						٣

أتقن	لم يتقن	ملحوظات المعلم	توقيع ولي الأمر

ورقة عمل (الأعداد ٤ و ٥)

السؤال الأول : تمثل الدوائر أعداداً مرتبة . اكتب عددها ؟



السؤال الثاني: صل بين كل مجموعة من الصور والعدد المناسب لها ؟



١

٣

٢

٤

٥



السؤال الثالث : أكمل الجدول يا بطل بتكرار كتابة العدد ؟

						٣
						٤
						٥


أُتقن	لم يتقن	ملحوظات المعلم	توقيع ولي الأمر

ورقة عمل (فوق وتحت)

السؤال الأول : لون القلم الذي في الأعلى باللون الأزرق والذي في الوسط باللون الأحمر والذي في الأسفل باللون الأخضر ؟



السؤال الثاني : ضع حول العربة التي في الأسفل ولون العربة التي في الوسط وضع على العربة التي في الأعلى ؟




السؤال الثالث : لون الحصان الذي يأتي بعد البقرة ؟



توقيع ولي الأمر	ملحوظات المعلم	لم يتقن	أتقن

ورقة عمل (الأنماط)

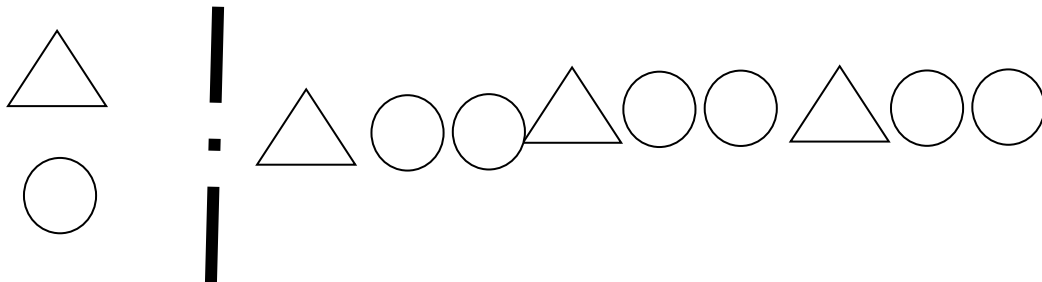
السؤال الأول : لون الأشكال أعلى القلوب بالأحمر والأشكال أسفل القلوب باللون الأزرق ؟



السؤال الثاني : أجد النمط ولون المربعات لتوضيحه ؟

أخضر	أخضر	أخضر	أخضر	أخضر	أخضر

السؤال الثالث : ارسم دائرة حول الشكل التالي في النمط ؟




توقيع ولي الأمر	ملحوظات المعلم	لم يتقن	أتقن



ورقة عمل (أعلى وأوسط وأسفل)

السؤال الأول :



- أ) ارسم ٣ عصفير تطير فوق الشجرة ؟
ب) ارسم عشباً تحت الشجرة ؟
ج) ارسم أرنبين على العشب تحت الشجرة ؟
د) ارسم الشمس فوق الشجرة ؟

السؤال الثاني : أكمل الجدول يا بطل بتكرار كتابة العدد ؟

						١
						٢
						٣
						٤
						٥


أتقن	لم يتقن	ملحوظات المعلم	توقيع ولي الأمر

ورقة عمل (الأعداد ٦-٧-٨)

السؤال الأول : صل بخط بين كل مجموعة والعدد المناسب لها ؟



٦




٧

٨



السؤال الثاني : أخط الإجابة الصحيحة ؟

(٧، ٦، ٥، ٤)



(أ) عدد الأحصنة المرسومة أمامك

(٧، ٦، ٥، ٤)

(ب) عدد الأجزاء المظلمة




السؤال الثالث : أكمل الجدول يا بطل بتكرار كتابة العدد ؟

							٦
							٧
							٨

أنتن	لم يتقن	ملحوظات المعلم	توقيع ولي الأمر

ورقة عمل (الأعداد ٩ و ١٠)

السؤال الأول : اكتب العدد المناسب في



السؤال الثاني : لون بحسب العدد ؟



٧



٩

السؤال الثالث : أكمل الجدول يا بطل بتكرار كتابة العدد ؟




						٨
						٩
						١٠

أتقن	لم يتقن	ملحوظات المعلم	توقيع ولي الأمر



ورقة عمل (ترتيب الأعداد حتى ١٠)

السؤال الأول: ارسم صورة بحسب العدد ٩

٨		
٩		
١٠		

السؤال الثاني: عد إلى ١٠ واكتب الأعداد المفقودة ٩

أ- ٢ ١ ٥ ٦ ٧ ٩

ب- ١ ٤ ٦ ٧ ٩

ج- ٢ ٢ ٥ ٨ ٩

السؤال الثالث:

أ) أنا عدد بين العددين ٦، ٨،

ب) أنا عدد أكبر من ٨


ج) أنا عدد أصغر من ٢

د) أنا عدد أكبر من ٥ أصغر من ٧

أُتقن	لم يتقن	ملحوظات المعلم	توقيع ولي الأمر

ورقة عمل (الأعداد من ١١ إلى ١٦)

السؤال الأول : أخط الإجابة الصحيحة ؟



(١٤ - ١٣ - ١٢ - ١١)



(١٤ - ١٣ - ١٢ - ١١)



(١٤ - ١٣ - ١٢ - ١١)

السؤال الثاني : عد الأشياء التالية واكتب عددها ؟



السؤال الثالث : أكمل الجدول التالي بتكرار كتابة الأعداد ؟

						١١
						١٢
						١٣
						١٤
						١٥
						١٦

أُتقن	لم يتقن	ملحوظات المعلم	توقيع ولي الأمر



ورقة عمل (الأعداد من ١٨ إلى ٢٠)

السؤال الأول : لون بحسب العدد ؟

١٨

١٧

١٩

٢٠

السؤال الثاني : أخط الإجابة الصحيحة ؟



(٢٠ - ١٩ - ١٨ - ١٧)

السؤال الثالث : أكمل الجدول يا بطل بتكرار كتابة العدد ؟

									١٧
									١٨
									١٩
									٢٠

أتقن	لم يتقن	ملحوظات المعلم	توقيع ولي الأمر



ورقة عمل (مقارنة الأعداد حتى ٢٠)

السؤال الأول: أعد الأشياء الموجودة في كل مجموعة واكتب العدد وارسم دائرة حول العدد الأقل ومربعاً حول العددين المتساويين؟



.....



.....



.....



.....

السؤال الثاني: اكتب الأعداد المفقودة ؟

١٧ ○ ١٥ ○ ١٣ ١٢ (أ)

١٥ ١٤ ○ ○ ١١ ١٠ (ب)

٩ ○ ○ ٦ ٥ ○ (ج)

توقيع ولي الأمر	ملحوظات المعلم	لم يتقن	أتقن



ورقة عمل (نشاط صفي)

أكمل الجدول يا بطل بتكرار كتابة العدد ؟

									٠
									١
									٢
									٣
									٤
									٥
									٦
									٧
									٨
									٩
									١٠
									١١
									١٢
									١٣
									١٤
									١٥
									١٦
									١٧
									١٨
									١٩
									٢٠



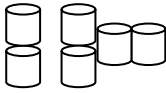
ورقة عمل (قصص الجمع)

السؤال الأول: أكمل الفراغات التالية بكتابة العدد المناسب في




أ) كان في الحقل أرنبان رماديان ثم جاء أرنب آخر فأصبح في الحقل أرانب
ب)

الجزء	الجزء
٣	١
الكل	



ج) ٥ زائد ١ يساوي



د) ٢ زائد ٣ يساوي

السؤال الثاني :

تسوق فاكهة طازجة

٧ برتقالات	٥ تفاحات
٤ موزات	٣ كمثرى

تفاح + كمثرى =

تفاح + موز =

كمثرى + برتقال =

أنتن	لم يتنن	ملحوظات المعلم	توقيع ولي الأمر

ورقة عمل (جمل الجمع)

السؤال الأول: أخط الاجابة الصحيحة ؟

(٨ ، ٧ ، ٦ ، ٥)

(أ) = ٥ + ٥



(٨ ، ٧ ، ٦ ، ٥)

(ج) = ٦ + ٢


(٨ ، ٧ ، ٦ ، ٥)



السؤال الثاني: اختر من العمود (أ) ما يناسبه من (ب) ؟

ب	أ
٨	= ٣+٢
٥	= ٦+١
٦	
٧	
٩	= ٥+٨
٢	

السؤال الثالث: ارسم ٥ تفاحات على الشجرة الأولى و ٢ على الثانية ثم اكتب عدد التفاحات التي على الشجرتين معاً ؟



توقيع ولي الأمر	ملحوظات المعلم	لم يتقن	أتقن



ورقة عمل (تدريبات على الجمع)

السؤال الأول: اكتب العدد المناسب في

١٠ = + (أ)

١٢ = + (ب)

= ١ + ٣ (ج)

٦ (هـ)
٣ +

٣ (د)
٢ +

السؤال الثاني: اكتب + أو =

= ٢ ٤ (أ)

= ٤ ٦ (ب)

٥ ٢ + ٣ (ج)

١ + ١ (د)

أُتقن	لم يتقن	ملحوظات المعلم	توقيع ولي الأمر