

تجميع ١٤٤٠ هـ  
الفترة  
الأولى

تجميع  
(قدرات ورقية)



تجميع الاعداد ٢٧-١-١٤٤٠  
مسابقي



[Twitter.com/AbdihQT](https://twitter.com/AbdihQT)



[Instagram.com/AbdihQT](https://www.instagram.com/AbdihQT)



[Snapchat.com/add/AbdihQT](https://www.snapchat.com/add/AbdihQT)



[T.me/AbdihQT](https://t.me/AbdihQT)

## الفهرس

رقم الصفحة	إسم الصفحة
١	المقدمة
٢	دعاء بداية المذاكرة
٣	القسم اللفظي
	القسم الكمي
	دعاء نهاية المذاكرة
	الخاتمة
اللاخيرة	فريق العمل

## المقدمة

بسم الله الرحمن الرحيم  
الصلاة والسلام على المبعوث رحمة للعالمين  
سيدنا محمد وعلى آله أصحابه وأتباعه أجمعين .

نتقدم بتجميعنا هذا إلى زملائنا التلاميذ وإلى  
كل من يجمعنا بهم رباط العلم ،  
نحن نضع بين أيديكم هذا التجميع الذي نرجوا أن  
يحاز رضاكم وأن يكون في المستوى ونأمل أننا  
لم نقصر ولم نهمل، لأننا محصورين بعوامل  
كثيرة يصعب التوفيق في ما بينها، ومنها  
الوقت والكتابة .

(والكمال لله سبحانه وتعالى، ونعتذر إن وُرد  
خطأ منا)

**اللهم** انى أسألك فهم النبيين وحفظ الملائكة  
المقربين اللهم اجعل لسانى عامرا بذكرك وقلبى  
بخشيتك وسرى بطاعتك انك على كل شيء قدير

دعاء بداية المذاكرة

## القسم اللفظي



كرسي : خشب

أ. ثوب:قطن

ب.

ج.

د.

الاجابة (أ و ب)

سباحة : نشاط

أ. سباحة : نشاط

ب.

ج.

د.

الاجابة (أ)

قائم : قاعد

أ. الآخذ : الوهاب

ب. نائم : مستلقين

ج.

د.

الاجابة (أ)

ماء : صفاء

ب. هواء : نقاء

أ. شباب : نظارة

د.

ج.

الاجابة (أ و ب)

عسل : نحل

ب.

أ. مسك : غزال

د.

ج.

الاجابة (أ)

كرسي : جلوس

ب.

أ. قلم:كتابة

د.

ج.

الاجابة (أ)

للصدق رائحة ..... بالأنوف ولكن تحس ..... .

أ. تشم-القلوب

ب.

ج.

د.

الاجابة (أ)

الهوايات ..... تحمي الشباب من العمل الضار ،  
وتوفر لهم ..... مشروعه

أ. المفيدة-المتعة

ب.

ج.

د.

الاجابة (أ)

سقم : شفاء

أ. خيانة:وفاء

ب.

ج.

د.

الاجابة (أ)



إحذر من ..... مازحته ومن ..... إذا عاشرته

ب. كريم-لئيم

أ. أرعن-سافل

د.

ج.

الاجابة (أ)

جمال الأفكار و ..... يجعل ..... سهلاً على الذاكرة

ب. تفكها-تخزينها

أ. ترابطها-استدعاؤها

د.

ج. غموضها-نسيانها

الاجابة (أ)

حياة الإنسان لا تقاس بطول ..... بل بعرض .....

ب. الايام-المصائب

أ. السنين-الاحداث

د.

ج. الشهور-المنازل

الاجابة (أ)

إذا كانت المرأة الجميلة كنز ، فالمرأة الفاضلة  
فضة

أ. الجميلة

ب. كنز

ج. الفاضلة

د. فضة

الإجابة (د)

تهتم الدولة بتدوير الاحداث و عنيت بتأسيس  
المؤسسات وتسهر على مصلحة أبنائها

أ. تدوير

ب.

ج.

د.

الإجابة (أ)

يقال إن بن سينا كان إذا استغلق عليه ..... شيء تردد على  
المسجد فصلى وابتهل لربه حتى يفتح له .....

أ. أخذ-الرزق

ب. جهل-الباب

ج. ادراك-اليسر

د. فهم-المستغلق

الإجابة (أ)

شيء جميل أن يستشهد المسلم لأجل دينه ، ولكن  
الأجمل أن يموت لأجل هذا الدين

ب. الاجمل

أ. الدين

د. هذا

ج. يموت

الاجابة (ج)

أهم العامل صنعته وتفوق على أقرانه

ب. صنعته

أ. اهمل

د. اقرانه

ج. تفوق

الاجابة (أ)

القناعة دائماً عظيمة فمهما كنت فقيراً فهناك أكثر  
غنى منك

ب. عظيمة

أ. القناعة

د. أكثر

ج. فقيراً

الاجابة (ج)

فلنحکم على الأشخاص بما يعطون لا بما يبذلون

أ. فلنحکم

ب. الاشخاص

ج. يعطون

د. يبذلون

الاجابة (د)

كلما ازداد الشرب من البئر قل عطاؤها

أ. البئر

ب. قل

ج. عطاؤها

د. ازداد

الاجابة (ج)

نقطة التحول في حياتنا عندما نقرر أن نفعل ما  
كنا نعتقد أنه ممكناً

أ. التحول

ب. نقرر

ج. نعتقد

د. ممكناً

الاجابة (د)

أختر المفردة الشاذة مما يلي

أ. ماء

ب. زيادين

ج. طيب

د. قشطة

الاجابة (أ)

أختر المفردة الشاذة مما يلي

أ. مها

ب. ظبي

ج. ريم

د. بقرة

الاجابة (د)

أختر المفردة الشاذة مما يلي

أ. سيد

ب. حسن

ج. علي

د. حسين

الاجابة (أ)

أختر المفردة الشاذة مما يلي

ب. كتاب

أ. كرسي

د. ورقة

ج. قلم

الإجابة (أ)

أختر المفردة الشاذة مما يلي

ب. مذياع

أ. تلفاز

د. سيارة

ج. فرن

الإجابة (د)

أختر المفردة الشاذة مما يلي

ب. فقيه

أ. بليغ

د. زاهد

ج. محدث

الإجابة (أ)

مسجد - امام - ماموم - مصحف

أ. مسجد

ب. امام

ج. ماموم

د. مصحف

الاجابة (أ)

بطاطس - أرز - قمح - عدس

أ. بطاطس

ب. أرز

ج. قمح

د. عدس

الاجابة (أ)

أم-أب-طفل-اخ

أ. أم

ب. أب

ج. طفل

د. اخ

الاجابة (ج)



## القسم الكمي



١٣ اعداد صحيحة موجبه متتاليه حاصل جمعهم  
يساوي حاصل ضرب الثاني في الثالث فإن أحد هذه الأعداد؟

ب. ٣

أ. ٤

د. ١٠

ج. ٠

الإجابة (ب)

دائرة نصف قطرها ١٠٠ سم رسم على قطرها ٢٠ دائرة صغيرة  
اوجد نسبة المساحة بين الدائرة الصغيرة و الكبيرة

ب. ٢ : ٢٠٠

أ. ١ : ٤٠٠

د. ١ : ٥٠٠

ج. ١ : ٣٠٠

الإجابة (أ)

اشترى عبدالله ٥ دفاتر و ٤ أقلام وتبقى له ريالان  
واشترى أخوه ٤ دفاتر و ٥ أقلام وتبقى له ٥ ريال فإذا كان ما دفعاه  
متساويًا فقارن بين - سعر القلم - سعر الدفتر

ب. القيمة الثانية اكبر من الاولى

أ. القيمة الاولى اكبر من الثانية

د.

ج.

الإجابة (ب)

$$\sqrt[10]{256} =$$

أ.  $0.2^8$

ب.

ج.

د.

الإجابة (أ)

ما مجموع المتسلسلة "المتتابعة" التالية عند  
الحد رقم ٥٠  
 $٣ + ٣ + ٣ + \dots$

أ. ١٥٠

ب. ٩٠

ج. ١٢٠

د. ٥٠

الإجابة (أ)

إذا لعب خالد ومحمد الكرة الساعة ١٠:٢٠ وتوقفوا بعدها بساعتين و  
٥٥ دقيقة ثم لعبوا بعدها بساعتين و ١٥ دقيقة متى انتهوا من اللعب؟

أ. ٣:٣٠

ب. ٢:٣٠

ج. ٣:١٥

د. ٢:٠٠

الإجابة (أ)

اوجد قيمة  $س$

$$31 \dots 26 \dots 21 \dots 16 \dots س \dots 6$$

أ. 11

ب. 7

ج. 5

د. 9

الإجابة (أ)

مصنع بة 4 مولدات تنتج 5000 واط لو توقف احدهم  
عن العمل كم تنتج

أ. 3750

ب. 3500

ج. 4500

د. 4000

الإجابة (أ)

سلك طوله 36 شكلنا به مستطيل إذا كان الطول ضعف العرض فما  
مساحة المستطيل ؟

أ. 72

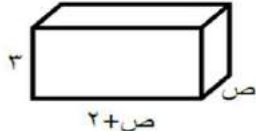
ب. 60

ج. 70

د. 62

الإجابة (أ)

إذا كان حجم المتوازي = ٧٢ فأوجد ص



ب. ٥


أ. ٤

د. ٦

ج. ٧

الإجابة (أ)

أوجد ص + ص



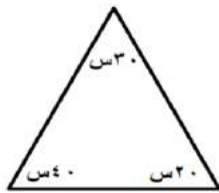
ب. ١٠٠

أ. ١٥٠

د. ٢٥٠

ج. ١٢٠

الإجابة (أ)



ما قيمة  $\angle$  ص  $٤٠^\circ$  في الشكل المقابل؟

ب. ٤٠

أ. ١٦٠

د. ٨٠

ج. ٦٠

الإجابة (د)

قارن بين

0.1

و

$\frac{11}{111}$

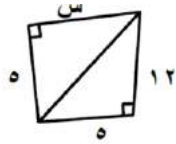
ب. القيمة الثانية اكبر من الاولى

أ. القيمة الاولى اكبر من الثانية

د. المعطيات غير كافية

ج. القيمتان متساوية

الاجابة (أ)



اوجد قيمة س:

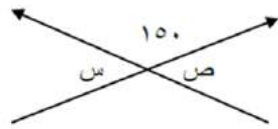
ب. 13

أ. 12

د. 9

ج. 144

الاجابة (أ)



اوجد س+ص

ب. 20

أ. 60

د. 180

ج. 30

الاجابة (أ)

إذا كان مع محمد ٥٠ وهو مثلي ما مع خالد  
بفارق ٢٠ ريال فكم مع خالد

ب. ٣٠

أ. ١٥

د. ٥٠

ج. ٢٥

الإجابة (أ)

أوجد متوسط الأعداد التالية  
١٦ ، ١٢,٢٥ ، ١٣,٧٥

ب. ١٤

أ. ٢٥

د. ٧٥

ج. ٢٠

الإجابة (ب)

$$= \frac{1}{5} + 1$$

ب. ١

أ. ١.٢

د. ١.٥

ج. ٢

الإجابة (أ)

باع تاجر سلعة ب ١٠٠ ريال واشترها ب ١٢٠ ثم باعها ب ١٦٠  
قارن بين - الربح - ٣٠ ريال

ب. القيمة الثانية اكبر من الاولى

أ. القيمة الاولى اكبر من الثانية

د.

ج. الربح = ٤٠

الاجابة (أ)

ملاحظة الاختبار يحتوى على العديد من  
الاسئلة الهندسية فى القسم الكمي

تابعونا على التلجرام

[http://t.me/Abdih\\_t](http://t.me/Abdih_t)

قناة احدث التسريبات سيتم  
نشر بقية التسريبات فى القناة  
لانه تحتوى على اشكال هندسية

**اللهم** انى أستودعك ما قرأت وما حفظت وما تعلمت  
فردده عند حاجتي إليه , إنك على كل شيء قدير.

دعاء نهاية المذاكرة



## الخاتمة

{فَمَنْ كَانَ يَرْجُو لِقَاءَ رَبِّهِ فَلْيَعْمَلْ عَمَلًا  
صَالِحًا وَلَا يُشْرِكْ بِعِبَادَةِ رَبِّهِ أَحَدًا }

نأمل اننا قد وفقنا بعملنا هذا  
نشكر القائمين على إعداد هذا العمل

للتواصل :

Telegram:@AbdihQT  
Twitter:@AbdihQT

## فريق العمل





تابعونا على ...



[Twitter.com/AbdihQT](https://twitter.com/AbdihQT)



[Instagram.com/AbdihQT](https://www.instagram.com/AbdihQT)



[Snapchat.com/add/AbdihQT](https://www.snapchat.com/add/AbdihQT)



[T.me/AbdihQT](https://t.me/AbdihQT)