



الوحدة الثالثة
دول شبه الجزيرة العربية
(الخصائص الطبيعية)





أهداف الوحدة

• تهدف هذه الوحدة إلى :

- معرفة موقع وحدود ومساحة دول شبه الجزيرة العربية
- استنتاج تضاريس دول شبه الجزيرة العربية
- وصف مناخ دول شبه الجزيرة العربية



الدرس الأول: الملامح العامة لدول شبه الجزيرة العربية



- ألاحظ شكل (١) ، ثم أجيب :

أ- ما اسم وطني؟

المملكة العربية السعودية

ب- ماذا يمثل اللون الأبيض في الخارطة؟

دول شبه الجزيرة العربية

ج- ما الفرق بين الجزيرة وشبه الجزيرة؟

هي قطعة اليابسة التي يحيط بها الماء من ثلاث جهات

د- لم وصفت شبه الجزيرة العربية بالعربية؟

لأنها موطن العرب

هـ- أدون دول شبه الجزيرة العربية في الشكل (٣).



شكل (١)



شكل (٢)

| شعارها | علمها | اسم الدولة |
|--------|-------|------------|
| | | |
| | | |
| | | |
| | | |
| | | |
| | | |
| | | |

شكل (٣) أعلام دول شبه الجزيرة العربية وشعاراتها

موقع شبه الجزيرة العربية:



- أتمل الشكل (٤)، ثم أجب:



شكل (٤)

أ- ما المظاهر التضاريسية الكبرى الموجودة على الخارطة؟
قارات العالم

ب- ماذا يمثل اللون الأخضر؟

شبه الجزيرة العربية

ج- ما القارات التي تتوسطها شبه الجزيرة العربية؟

تتوسط قارات العالم القديم (آسيا - أفريقيا - أوروبا)

د- ما اسم القارة التي تقع فيها شبه الجزيرة العربية؟

قارة آسيا

هـ- أين تقع شبه الجزيرة العربية بالنسبة لتلك القارة؟

تقع جنوب غرب القارة



شكل (٥)

أهمية موقع دول شبه الجزيرة العربية:



- أتمل الشكل (٥)، ثم أجب:

أ- ما المدن المقدسة في شبه الجزيرة العربية؟
مدينة مكة المكرمة

المدينة المنورة

ب- في أي جهة من شبه الجزيرة العربية يتركز النفط؟
في جهة الشرق

ج- لماذا تعد البحار والمضايق مهمة لدول شبه الجزيرة العربية؟
لأنها تطل على مضيقين مهمين هما (مضيق باب المندب ومضيق هرمز)



الحرم المكي

لدول شبه الجزيرة العربية أهمية كبيرة لأنها:

١- تضم أهم المقدسات الإسلامية في العالم.

شكل (٦).

٢- تربط قارات العالم الثلاث: آسيا، وإفريقيا،

وأوروبا، حيث تمر بها خطوط الملاحة العالمية

الجوية، والبحرية.

٣- تطل على بحار مهمة من ثلاث جهات.

٤- تطل بعض دولها على مضيق باب المندب،

وهرمز اللذين يؤديان دوراً تجارياً عالمياً.

٥- تحتزن في أراضيها كميات كبيرة من النفط.



الحرم المدني

شكل (٦) صورة الحرمين الشريفين



أ- أستنتج الميزة التي ميز الله فيها وطني.

ميز الله المملكة العربية السعودية بالامكان

الإسلامية المقدسة الموجودة في مكة - المدينة

ومن الأشياء التي وهب الله وطني إياها النفط

تلاطلاع

النفط: سائل أسود يتم تكريره إلى

مشتقات؛ مثل البنزين، والديزل،

وزيوت التشحيم، ويدخل في كثير من

الصناعات.

ب - ألاحظ شكل (٧) ، ثم أكمل الجدول :



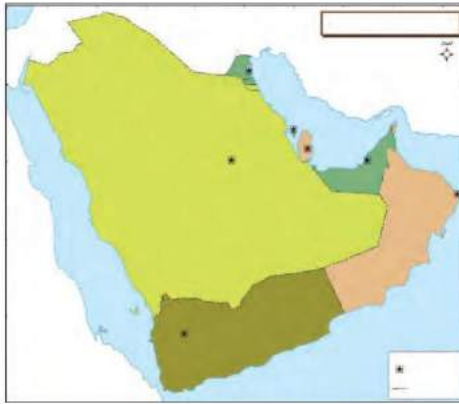
شكل (٧)

| اسم المضيق | الدول المطلة عليه | المسطحات المائية التي يربط بينها |
|------------|-------------------|----------------------------------|
| | | |
| | | |

حدود شبه الجزيرة العربية :



شكل (٨)



شكل (٩)

- ألاحظ الشكل (٩)، ثم:

- أ- أكتب على الخارطة ما يلي:
- دول شبه الجزيرة العربية.
 - عواصم دول شبه الجزيرة العربية.
 - المسطحات المائية التي تطل عليها شبه الجزيرة العربية.
 - الدول المجاورة لشبه الجزيرة العربية.
- ب- أسجل اسم دولة من دول شبه الجزيرة العربية:

اليمن

- لا تطل على الخليج العربي.

- لا تتصل بدول شبه الجزيرة العربية بحد بري.

البحرين

- الأطول حدوداً مع وطني.

اليمن

حدود شبه جزيرة العرب

ج- أضع عنواناً للخارطة.

مساحة دول شبه الجزيرة العربية:

| الدولة | المساحة / كم ^٢ |
|---------------|---------------------------|
| الكويت | ١٧,٨١٨ |
| قطر | ١١,٥٢١ |
| مملكة البحرين | ٧٧٠ |

| الدولة | المساحة / كم ^٢ |
|--------------------------|---------------------------|
| المملكة العربية السعودية | ٢,٠٠٠,٠٠٠ |
| الجمهورية اليمنية | ٥٥٥,٠٠٠ |
| سلطنة عمان | ٣٠٩,٥٠٠ |
| الإمارات العربية المتحدة | ٧١,٠٢٣ |

تلاطلاع

مساحة الدولة: هي أرض الدولة الواقعة داخل حدودها السياسية المعترف بها دولياً.

أقرأ الجدول، ثم:

أ- أحسب مساحة دول شبه الجزيرة العربية بكاملها.
حوالي ٢,٩٧٨,٠٥٢ مليون كم^٢

ب- اكمل الفراغات التالية بما يناسبها:

- أكبر دول شبه الجزيرة العربية مساحة هي: المملكة العربية السعودية

- أصغر دول شبه الجزيرة العربية مساحة هي: البحرين

ج- أصنّف دول شبه الجزيرة العربية حسب المساحة في الجدول التالي:

| أقل من ١٠٠٠ كم ^٢ | من ١٠ آلاف إلى أقل من ١٠٠ ألف كم ^٢ | من ١٠٠ ألف إلى مليون كم ^٢ | أكثر من مليون كم ^٢ |
|-----------------------------|---|--------------------------------------|-------------------------------|
| | | | |
| | | | |
| | | | |

عواصم دول شبه الجزيرة العربية:

| الدولة | العاصمة |
|--------------------------|---------|
| المملكة العربية السعودية | الرياض |
| الإمارات العربية المتحدة | أبو ظبي |
| مملكة البحرين | المنامة |
| سلطنة عمان | مسقط |
| الكويت | الكويت |
| قطر | الدوحة |
| الجمهورية اليمنية | صنعا |



شكل (١٠)

- أستعين بأحد الأطالس الجغرافية، ثم:
- أحدّد مع مجموعتي مواقع عواصم دول شبه الجزيرة العربية على الخارطة على الشكل (١٠).
 - أكتب اسم مدينة غير العاصمة لكل دولة من دول شبه الجزيرة العربية.

.....

.....

.....

- ج- أعبّر عن أهمية موقع وطني بالنسبة لدول شبه الجزيرة العربية في ثلاثة أسطر.
- موقع متميز حيث ساعد على وجود علاقات قوية مع الدول المجاورة وسهولة الاستيراد والتصدير لوجود البحر الاحمر والخليج العربي



أقرأ التعليق أسفل كل صورة فيما يأتي، ثم أسجل اسم الدولة:



شكل (١٣) مسقط، وتبدو الحدائق والمنزهات المطلة على البحر



شكل (١٢) المنامة وتظهر بعض المباني الفخمة التي تزخر بها المدينة



شكل (١١) أبو ظبي بمبانيها الشاهقة

تعلمت أن:



شكل (١٤) الكويت بأبراجها الشهيرة



شكل (١٥) دبي بتخطيطها الحديث



شكل (١٦) الدوحة ويظهر بها شارع الكورنيش



شكل (١٧) صنعاء ببنائها الحجري القديم

- دول شبه الجزيرة العربية هي (المملكة العربية السعودية، الكويت، مملكة البحرين، الإمارات العربية المتحدة، قطر، سلطنة عُمان، الجمهورية اليمنية).
- شبه الجزيرة العربية تقع في الجنوب الغربي من قارة آسيا.
- لموقع شبه الجزيرة العربية مميزات أكسبته أهمية كبرى.
- وطني يتميز بوجود المقدسات الإسلامية مما يدعو إلى الاعتزاز بذلك.
- المملكة العربية السعودية هي أكبر دول شبه الجزيرة العربية مساحة، ومملكة البحرين هي أصغرها مساحة.



الدرس الثاني: تضاريس دول شبه الجزيرة العربية



ألاحظ الشكل (١٨)، ثم:

أ- أبين مدلول الألوان التالية:
(البنّي - الأخضر - الأصفر).

ب- أذكر سبب تنوع الألوان في الخارطة.

بسبب تنوع تضاريس الجزيرة العربية

ج- أضع عنواناً آخر للخارطة.

تضاريس شبه الجزيرة العربية

تمثل الصوري الشكل (١٩) بعضاً من مظاهر سطح شبه الجزيرة العربية؛ من مرتفعات ومنخفضات، والتي تعرف بالتضاريس. ولكبر مساحة أراضي شبه الجزيرة العربية فقد تنوعت تضاريسها إلى:



شكل (١٩) بعض مظاهر السطح في شبه الجزيرة العربية

تلاطلاع

التضاريس: مأخوذة من التضرس
ويقال الأرض مضرسة أي كالأضراس
فيها مرتفعات ومنخفضات.

أولاً: الجبال:



أ- أعلل تنوع التضاريس في شبه الجزيرة العربية.
لكبر مساحتها

ب- ما الواجب علينا تجاه نعمة تنوع التضاريس في بلادنا؟
شكر الله سبحانه وتعالى وتقدير عظمته وتسخيرها واستخدامها بما يعود بالنفع



أقرأ الآية القرآنية الكريمة، ثم أجب:

قال تعالى: ﴿وَالْجِبَالُ أَرْسَاهَا﴾ [سورة النازعات: ٢٢].

أ- ما المظهر التضاريسي الوارد في الآية؟

الجبال - التي خلقها الله لكي يثبت الأرض

ب- ما معنى أرساها؟

أي اثبتها على وجه الأرض لتسكن

ج- ما الحكمة من خلق الجبال؟
تثبيت الجبال - جمال لها - استفادة الانسان منها في التعدين واستخراج مواد البناء
ومدرجات زراعية

تعد الجبال من أبرز الظواهر التضاريسية في شبه الجزيرة العربية، وتوجد إما على هيئة
سلاسل جبلية متصلة ببعضها كجبال الحجاز، أو جبال متفرقة؛ مثل جبل أحد.

- أبرز السلاسل الجبلية في شبه الجزيرة العربية:

أ- جبال الحجاز:

تلاطلاع

سميت جبال الحجاز بذلك لأنها
تحجز بين هضبة نجد وسهول تهامة.
يسن عند صعود الجبال قول: الله
أكبر وعند النزول قول: سبحان الله.

هي سلسلة جبلية تمتد من خليج العقبة شمالاً حتى خليج عدن
على بحر العرب جنوباً، وهي موازية للبحر الأحمر، وتعد أكثر
الجبال امتداداً وارتفاعاً في شبه الجزيرة العربية، ويزيد الارتفاع
كلما اتجهنا جنوباً عند عسير واليمن حيث تسمى بالسروات.

ب- جبال سلطنة عُمان :

هي سلسلة جبلية تشرف على خليج عُمان، وتنحدر بشدة نحو الساحل، ويبلغ أقصى ارتفاع لها عند الجبل الأخضر، وفي الجنوب تقع مرتفعات ظفار على بحر العرب، وهي عالية الارتفاع (شكل ٢٠).



شكل (٢٠)



أستعين بالشكل (٢١)، ثم :

أ- أدون أسماء ثلاثة من الجبال المذكورة في الخارطة.

الجبل الأخضر - جبل السروات - جبال الحجاز

ب- أسمى الجبال الأكثر ارتفاعاً في شبه الجزيرة العربية.

جبل السروات - جبال الحجاز

ج- أسمى أقرب جبل إلى منطقتي.



شكل (٢١)

د- أذكر أسماء بعض الجبال المرتبطة

بتاريخ وطني.

جبل حراء - ثور - احد

هـ- أتخيل أن أراضي شبه الجزيرة العربية

كلها جبال، ما الذي يحدث؟

كان يصعب التواصل بين المدن

كان يصعب استعمال وسائل النقل

والمواصلات



شكل (٢٢) أحد أطراف جبال طويق

تلاطلاع

هضبة نجد؛ سميت نجدًا لعلوها، ونجد في اللغة العربية تعني المكان المرتفع، وتقع بين المرتفعات الغربية غربًا حتى نطاق الدهناء شرقًا، وبين النفود الكبرى شمالاً والربع الخالي جنوبًا.

ثانيًا: الهضاب:

تعد الهضاب من أكثر التضاريس اتساعًا في شبه الجزيرة العربية، ومن أهمها:

أ- هضبة نجد:

تمتد وسط شبه الجزيرة العربية، وهي أكبر الهضاب فيها، وتنحدر الهضبة نحو الشرق والشمال الشرقي، ومن أبرز المظاهر التضاريسية فيها جبال طويق، وجبال شمر شكل (٢٢).

ب- هضبة حضرموت:

تقع في أقصى جنوبي شبه الجزيرة العربية، وتنحدر قليلاً نحو الشمال، وهي هضبة قاحلة، يجري فيها وادي حضرموت. كما توجد في شبه الجزيرة العربية هضاب أخرى من أهمها: حسمى - الدبدبة - الصمان - الحجرة.



شكل (٢٣)

نشاط

أتأمل شكل (٢٣)، ثم:

أ- أذكر في أي دول شبه الجزيرة العربية تقع هضبة نجد؟

المملكة العربية السعودية

ب- أحيط بدائرة موقع هضبة حضرموت.

تلا طلاع

سهول تهامة: سهول ساحلية تسمى باسم المنطقة التي تمتد فيها، ففي الحجاز تعرف بتهامة الحجاز، وفي عسير بتهامة عسير، وفي اليمن بتهامة اليمن.

قال تعالى: ﴿وَأَذْكُرُوا إِذْ جَعَلْنَا خُلَفَاءَ مِنْ بَعْدِ عَادٍ وَبَوَّأَكُمْ فِي الْأَرْضِ تَتَّخِذُونَ مِنْ سُهُولِهَا قُصُورًا﴾
[سورة الأعراف: ٧٤].

أقرأ الآية الكريمة، ثم:

أ- أسمى المظهر التضاريسي الوارد في الآية.

السهول

ب- أستنتج من الآية إحدى نعم الله سبحانه وتعالى.

ان خلق الله السهول لنسكن فيها

تقل السهول في شبه الجزيرة العربية، وتمتد على السواحل، وتنقسم إلى:

أ- السهول الساحلية الغربية:

تطل على البحر الأحمر، وتمتد من خليج العقبة شمالاً حتى خليج عدن جنوباً، وهي سهول ضيقة لقرب الجبال من البحر الأحمر، تغطيها الرمال والحصى، وتعرف بسهول تهامة.

ب- السهول الساحلية الشرقية:

سهول واسعة تطل على الخليج العربي، وخليج عُمان، وتمتد من الكويت شمالاً إلى رأس الحد في سلطنة عُمان جنوباً، وتنقسم إلى:

- سهول الأحساء:

وهي السهول الشرقية وأراضيها خصبة واسعة، تتخللها بعض السبخ الملحية، وتختزن كميات كبيرة من المياه الجوفية.

- سهل الباطنة :

هي السهول الشرقية الواقعة على ساحل خليج عُمان، وأراضيها منخفضة .

ج - السهول الساحلية الجنوبية :

تقع على سواحل بحر العرب وخليج عدن، وهي سهول منخفضة وضيقة، تتسع كلما اتجهنا شرقاً .
وتكثر في شبه الجزيرة العربية الجزر والرؤوس والخلجان، خاصة في الخليج العربي .

تلاطلاع

الخلجان الصغيرة لها أسماء
أخرى مثل: خور، دوحة، شرم .



أ- أقرن بين سهول شبه الجزيرة العربية من حيث: الموقع والاتساع .

السهول الساحلية الغربية :- تطل على البحر الأحمر غرباً وتمتاز بطولها وضيقتها لقرب الجبال منها وقلة تعاريجها
السهول الساحلية الشرقية : تطل على الخليج العربي شرقاً وتمتاز باتساعها لعدم وجود جبال قريبة منها
وكثرة تعاريج السواحل فيها

ب- أعدد حُرَف سكان السهول الساحلية .

صيد الأسماك - استخراج الأولو - صناعة السفن - تحفيف تغليب الاسماك

ج- أذكر بعض المدن الساحلية المهمة في وطني .

جدة - الدمام - الخبر - الجبيل - راس تنورة جازان - امالج -

ضباء - ينبع - حقل - رابع

د- أصنف المظاهر التضاريسية التالية وفقاً للجدول التالي: تهامة، نجد، الحجاز، حضرموت، الباطنة .

| مرتفعات | منخفضات |
|---------------------|------------------|
| الحجاز ونجد وحضرموت | تهامة - والباطنة |

رابعاً: المناطق الرملية:



شكل (٢٤) رمال الربع الخالي

عبارة عن كثبان رملية تمتد في شمالي شبه الجزيرة العربية وشرقيها وجنوبيها، ومن أبرزها: أ- رمال الربع الخالي:

تقع جنوبي شبه الجزيرة العربية، وتعد أكبر صحراء رملية متصلة في العالم، وتتحصر بين هضبة الصمان شمالاً وهضبة حضرموت جنوباً شكل (٢٤). ب- النفود الكبير:

يوجد على شكل مثلث في شمالي شبه الجزيرة العربية.

ج- رمال الدهناء:

تمتد على شكل قوس يصل بين النفود الكبير في الشمال، والربع الخالي في الجنوب، وهي تمثل الجزء الأوسط من المناطق الرملية في شبه الجزيرة العربية شكل (٢٥).



شكل (٢٥) رمال الدهناء

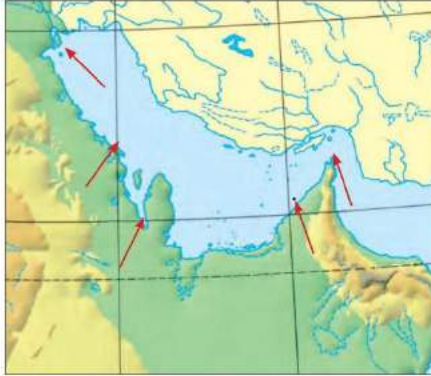
أ- أحدد أكبر الدول التي تضم المناطق الرملية السابقة.

المملكة العربية السعودية

ب- أستنتج الدول الأخرى التي تمتد بها رمال الربع الخالي.

نماذج من أسماء الجزر والرؤوس والخلجان في دول شبه الجزيرة العربية

| الدول النوع | المملكة العربية السعودية | الكويت | مملكة البحرين | قطر | الإمارات العربية المتحدة | سلطنة عمان | الجمهورية اليمنية |
|----------------|--------------------------------|---------|------------------|-------|--------------------------------|---------------|----------------------|
| من الجزر | فرسان | بوبيان | المحرق | حالول | أبوموسى | الحلائيات | سوقطرة |
| من الرؤوس | رأس تنورة | الزور | البر | ركن | خميس | مستدم | هرتك |
| من الخلجان | سلوى | عبدالله | القلبيعة | الخور | دبي | مصيرة | عدن |



شكل (٢٦)



أستعين بالأطلس، ثم:

أ- أسجّل المسميات التالية على الخريطة في مواقعها التي تشير إليها الأسهم:
فيلكة - رأس تنورة - دبي - مستدم - سلوى.

ب- أفرّق بين الرأس والخليج.

الرأس : جزء من اليابس داخل في البحر
الخليج : جزء من البحر داخل في اليابس

تعلمت أن:

- التضاريس هي المرتفعات والمنخفضات الموجودة على سطح الأرض.
- كبر مساحة شبه الجزيرة العربية من أسباب تنوع تضاريسها.
- تضاريس شبه الجزيرة العربية تتمثل في:
- الجبال مثل: (سلسلة جبال الحجاز، الجبل الأخضر).
- الهضاب مثل: (نجد، حضرموت).
- السهول مثل: (الأحساء، تهامة، الباطنة).
- الرمال مثل: (الدهناء، النفود الكبير، الربع الخالي).
- أحرّد مواقع بعض المظاهر التضاريسية البارزة على خارطة شبه الجزيرة العربية.
- تنوع تضاريس شبه الجزيرة العربية نعمة عظيمة علينا التفكر بها.



الدرس الثالث : مناخ دول شبه الجزيرة العربية



الحرارة

تعد الحرارة، والرياح، والأمطار شكل (٢٧) من أهم العناصر المؤثرة في المناخ، وتجتمع هذه العناصر معاً لتمثل حالة الجو (فصل، سنة، أو عدة سنوات) أي: وصف حالات الجو لفترة زمنية طويلة، وهذا ما يسمى بالمناخ.

مناخ شبه الجزيرة العربية:

مناخ صحراوي بوجه عام.



الرياح

مميزات عناصر المناخ في شبه الجزيرة العربية:

أولاً: الحرارة:

يمر مدار السرطان ببعض دول شبه الجزيرة العربية؛ ولذا فأغلب أراضيها واقع ضمن المنطقة الحارة.

- في الصيف ترتفع الحرارة على معظم الجهات، ما عدا المناطق الجبلية فهي معتدلة.

- في الشتاء تنخفض الحرارة على هذه الجهات، ما عدا المناطق الساحلية فهي دافئة.



الأمطار

شكل (٢٧)

تلاطاع

- المناخ يضم الميم وصف حالة الجو، وأما المناخ بفتح الميم اسم المكان الذي تبرك فيه الإبل.
- الطقس: وصف حالة الجوفي مدة زمنية قصيرة يوم، أو عدة ساعات.
- الشمس هي مصدر الحرارة الرئيس على سطح الأرض.
- أجهزة قياس الحرارة:
- الترموجراف.
- الترمومتر وهو على نوعين: ترمومتر مئوي ويرمز لدرجته بالحرف (°C)، وترمومتر فهرنهايتي ويرمز لدرجته بالحرف (°F).

• كيف يمكنني التغلب على ارتفاع درجة الحرارة وانخفاضها في بيتي ؟
 باستخدام اجهزة التكيف ولبس الملابس القطنية والخفيفة صيفا
 واجهزة التدفئة ولبس الملابس الصوفية والثقيلة شتاء



شكل (٢٨)

ثانياً: الرياح والأمطار:

أتأمل الشكل (٢٨)، ثم:

١ - أكمل الفراغات التالية بما يناسبها:

- تهب على شبه الجزيرة العربية ثلاثة أنواع من الرياح:

أ- رياح صيفية ممطرة، تهب من الجهات

الجنوبية الغربية. وتسقط أمطارها - بإذن الله - على المرتفعات الجنوبية الغربية مثل:

مرتفعات السروات و مرتفعات اليمن والجنوبية كمرتفعات ظفار.

ب- رياح شتوية ممطرة، تهب من الجهات

الشمالية الغربية وتسقط أمطارها على معظم أراضي

شبه الجزيرة العربية.

ج- رياح تهب طوال العام من الجهات

الشمالية الشرقية

تلاطلاع

أجهزة قياس الرياح:

- الأنيوموتر لقياس سرعة الرياح.
- دوارة الرياح لتحديد اتجاه الرياح.
- عند تأخر هطول المطر أو قلة هطوله يبادر المسلمون إلى إقامة صلاة الاستسقاء، اتباعاً لسنة نبينا محمد ﷺ.

٢- أذكر أقل الجهات في شبه الجزيرة العربية أمطاراً؟

المناطق الرملية والهضاب

٣- أستنتج مما سبق مميزات المناخ الصحراوي.

حار صيفاً بارد شتاءً والأمطار قليلة ومعظمها تسقط شتاءً

العوامل المؤثرة في مناخ شبه الجزيرة العربية:

يتأثر المناخ في شبه الجزيرة العربية بعدة عوامل منها:

القرب والبعد عن المسطحات المائية

التضاريس

الموقع بالنسبة لدوائر العرض

أولاً: الموقع بالنسبة لدوائر العرض:

ويعني به القرب والبعد عن خط الاستواء، حيث تزداد الحرارة كلما اقتربنا من خط الاستواء، وتنخفض كلما ابتعدنا عنه.

ثانياً: التضاريس:

تتنوع التضاريس في شبه الجزيرة العربية؛ لذا أثر هذا التنوع في مناخها فمثلاً:

- الجبال:

تعمل على خفض درجة الحرارة في المناطق الواقعة عليها كما في مرتفعات الحجاز والجمهورية اليمنية.

ثالثاً: القرب والبعد عن المسطحات المائية:

يقتصر تأثير المسطحات المائية على السواحل القريبة منها في زيادة الرطوبة، وتلطيف درجة الحرارة صيفاً، وتقل الرطوبة كلما ابتعدنا عنها.

أ- أعدد أكثر المدينتين تعرضاً للرطوبة: الرياض أم المنامة، ولم؟
المنامة لأنها مدينة ساحلية فتكون أكثر تعرضاً للرطوبة. عكس الرياض

ب- أصف المناخ في منطقتي.

حار صيفا ممطر شتاء قليل

ج- أقرن بين مدينتي جدة وأبها من حيث المناخ.

مدينة جدة تتميز بانها حارة صيفا ومعتدلة شتاء وتسقط عليها الامطار شتاء اما ابها معتدلة صيفا وباردة شتاء والامطار طوال العام خاصة صيفا بسبب هبوب الرياح الموسمية الجنوبية الغربية

تعلمت أن:

- المناخ هو وصف لحالة الجو في فترة زمنية طويلة من حيث الحرارة، والأمطار، والرياح في فصل مناخي أو سنة أو عدة سنوات.
- مناخ شبه الجزيرة العربية بوجه عام مناخ صحراوي.
- الرياح في شبه الجزيرة العربية ثلاثة أنواع.
- الموقع، التضاريس، القرب والبعد عن المسطحات المائية. من العوامل المؤثرة في مناخ شبه الجزيرة العربية.



س ١ : أكمل الفراغات التالية بما يناسبها :

- أ- تحيط المسطحات المائية بشبه الجزيرة العربية من ثلاث جهات هي الشرق
و الغرب و الجنوب
- ب- تشتمل شبه الجزيرة العربية على سبع دول منها السعودية و الكويت
و البحرين و عمان و الإمارات و اليمن و قطر
- ج- وطني جزء من شبه جزيرة العرب الواقعة في الجهة الجنوب الغربي من قارة آسيا
- د- تشرف السهول الساحلية الجنوبية في شبه الجزيرة العربية على بحر العرب و خليج
- هـ- تقل درجة الحرارة في المرتفعات وتزداد في الكثبان الرملية صيفًا .

س ٢ : أنظر الخارطة، ثم أجب :

أ- ماذا تمثل الخارطة؟

خارطة العالم

ب- أكتب قارات العالم على الخارطة.

ج- ألون شبه الجزيرة العربية بلون أختاره.

د- تتوسط شبه الجزيرة العربية ثلاث قارات

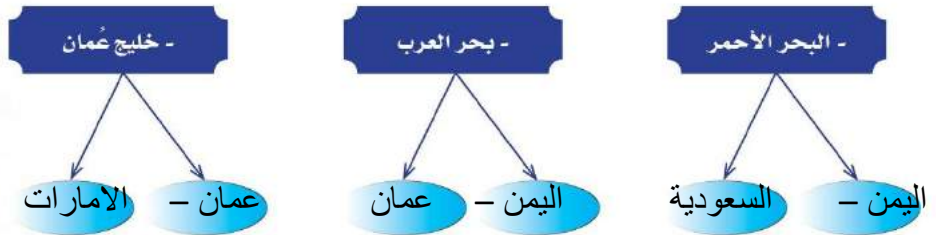
هي: قارة آسيا

أفريقيا

أوروبا

وقارة وقارة

س ٣ : أدون اسم دولتين من دول شبه الجزيرة العربية تشرف على الواجهات المائية التالية :

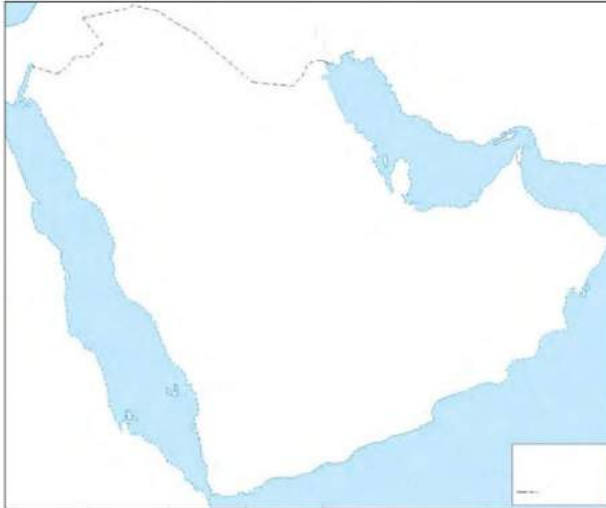


س٤ : أين موقع الحدود التالية من شبه الجزيرة العربية، وفقاً للجدول التالي :
 المملكة الأردنية الهاشمية - بحر العرب - العراق - الخليج العربي - البحر الأحمر .

| موقعه من شبه الجزيرة العربية | الحد |
|------------------------------|---------------|
| جنوب | بحر العرب |
| شمال | الأردن |
| شمال | العراق |
| شرق | الخليج العربي |
| غرب | البحر الأحمر |

س٥ : أدقق النظر في الخارطة، ثم :

أ- أصل النقاط التالية بقلم الرصاص لتكتمل خارطة شبه الجزيرة العربية.



ب- أدوّن على الخارطة :

- حدود شبه الجزيرة العربية .
- المدن المقدسة .

- أضع سهم الشمال على الخارطة .

ج- أضع دائرة على :

مضيق باب المندب - مضيق هرمز .

د- أضع مفتاحاً للخارطة .

س٦ : أتملّ الخارطة، ثم :

أ- أكتب الحدود الشمالية لدول شبه الجزيرة العربية على الخارطة.



ب- أرتب دول شبه الجزيرة العربية حسب المساحة من الأكبر إلى الأصغر .

المملكة العربية السعودية - اليمن - عمان - الإمارات العربية المتحدة - الكويت - قطر - مملكة البحرين

ج- أكتب دلالات الأرقام الواردة في الخارطة :

| | | |
|------------------|--------------------|---------------|
| ١- الخليج العربي | ٢- البحر الاحمر | ٣- دولة اليمن |
| ٤- مضيق هرمز | ٥- دولة الكويت | ٦- بحر العرب |
| ٧- دولة عمان | ٨- مضيق باب المندب | ٩- دولة قطر |

د- أحدّد موقع عاصمة كل من :

المملكة العربية السعودية - الجمهورية اليمنية - الإمارات العربية المتحدة - سلطنة عُمان.
الرياض - صنعاء - ابوظبي - مسقط

س٧: أضع علامة (✓) داخل مربع الإجابة الصحيحة فيما يلي:

- أ- دولة قطر: جزيرة مجموعة جزر شبه جزيرة
- ب- يمتد البحر الأحمر: غرب شرق جنوب شبه الجزيرة العربية.
- ج- تعد من أكثر المظاهر التضاريسية اتساعاً في شبه الجزيرة العربية:
الجبال الهضاب السهول
- د- تمتد سهول تهامة على السواحل: الغربية الشرقية الجنوبية
- هـ- الرياح الجنوبية الغربية الصيفية رياح: ممطرة جافة محملة بالغبار
- و- تسقط الأمطار الشتوية على معظم أراضي شبه الجزيرة العربية بسبب هبوب الرياح:
الشمالية الغربية الجنوبية الغربية الشمالية الشرقية

س٨: أعلل ما يأتي:

لاتساع مساحتها وتنوع تضاريسها لان معظم

- أ- تنوع المناخ في شبه الجزيرة العربية.
اراضيها عبارة عن رمال ولتاثرها بالمناخ الصحراوي لضيق المسطحات المائية ولاتساع مساحة شبه جزيرة العرب ولوجود الجبال التي تمنع وصول تأثير المسطحات المائية للداخل
- ب- اعتدال درجة الحرارة صيفا وانخفاضها شتاء على المرتفعات في منطقة عسير.

س٩: من أكون؟

أ- أنا شبه جزيرة أقع في شبه جزيرة.

قطر

ب- أنا دولة في وسط مياه الخليج العربي.

البحرين

ج- أنا أكبر صحراء رملية متصلة في العالم.

رمال الربع الخالي

س١٠: أعرف كلاً من:

التضاريس - المناخ.

التضاريس يقصد بها كل ما على سطح الارض من مرتفعات كالجبال والهضاب والمنخفضات كالسهول المناخ هو وصف لحالة الجو من حيث الحرارة والامطار والرياح في مدة طويلة (فصلا او سنة او عدة سنوات)

س ١١ : أ- أصنّف المظاهر التضاريسية التالية في شبه الجزيرة العربية وفقاً للجدول التالي:
حزرموت، تهامة، الدهناء، طويق، ظفار، الأحساء، الصمان.

| جبال | هضاب | سهول | كثبان رملية |
|------|--------|---------|-------------|
| ظفار | حزرموت | تهامة | الدهناء |
| طويق | الصمان | الأحساء | |
| | | | |

ب- أرّتب المظاهر التضاريسية التالية في شبه الجزيرة العربية حسب الارتفاع تصاعدياً
هضبة نجد - تهامة - الجبل الأخضر. تهامة - هضبة نجد - الجبل الأخضر.

س ١٢ : قال تعالى: ﴿ أَفَلَا يَنْظُرُونَ إِلَى الْإِبِلِ كَيْفَ خُلِقَتْ ﴿٧﴾ وَإِلَى السَّمَاءِ كَيْفَ رُفِعَتْ ﴿١٨﴾ وَإِلَى الْجِبَالِ كَيْفَ نُصِبَتْ ﴿١٩﴾ ﴾ [سورة الفاشية].

أ- ما المظهر التضاريسي الوارد في الآية؟

الجبال

ب- ما الذي تدعوه الآيات؟

الى التفكير في خلق الله عز وجل للابل والسماء والجبال لما فيها من دلائل على عظمة الخالق
ج- كيف يكون التفكير في خلق الجبال؟ عظمة الله عز وجل في خلق

الجبال وتكوينها قدرة الله في تمكين الانسان من استغلالها عظمة الله سبحانه في تنوع
ارتفاعاتها واحجامها والوانها قدرة الله سبحانه في تسخيرها للانسان بما اودع

س ١٣ : أ- أقرن بين جبال اليمن وسهول الأحساء من حيث الموقع، وعناصر المناخ في الجدول التالي:

| الظاهرة | الموقع | الحرارة | الرياح | الأمطار |
|--------------|--------------------------------------|---------------------------|-------------------------------|-----------------|
| جبال اليمن | الجنوب الغربي من شبه الجزيرة العربية | معتدلة صيفا باردة شتاء | موسمية جنوبية غربية | ممطرة صيفا شتاء |
| سهول الأحساء | شرق شبه جزيرة العرب | حارة صيفا معتدلة شتاء | شمالية شرقية وشمالية غربية | ممطرة شتاء |

ب- أحدد العلاقة بين التضاريس والمناخ.

تعمل الجبال على خفض درجة الحرارة لارتفاعها اما الكثبان الرملية فتعمل على رفع درجة الحرارة لخلوها من الغطاء النباتي

س ١٤ : أربط بين الرياح والأمطار بإكمال الجدول التالي :

| اسم الرياح | وقت هبوبها | المناطق التي تهب عليها | مميزاتها |
|------------------|------------|-----------------------------------|------------------|
| الشمالية الشرقية | طوال العام | الجهات الشرقية من شبه جزيرة العرب | ممطرة صيفا وشتاء |
| الجنوبية الغربية | صيفا | الجنوبية والجنوبية الغربية | ممطرة شتاء |
| الشمالية الغربية | شتاء | معظم اجزاء شبه جزيرة العرب | ممطرة |