

تم تحميل وتوفير المادة من

موقع كتبي

المدرسية اونلاين



www.ktbbby.com

موقع كتبي يعرض لكم الكتب الدراسية الطبعة الجديدة
وحلولها، توزيع مناهج، تحضير، أوراق عمل، عروض
بوربوينت، نماذج إختبارات بشكل مباشر PDF

جميع الحقوق محفوظة للقائمين على العمل

مهارات الصف الرابع الابتدائي
للفصل الدراسي الثاني



المهارة	أنقنت	لم تتقن	ملاحظات
تحديد موقع مكة المكرمة وأهم مظاهرها الطبيعية			



نشاط (1)

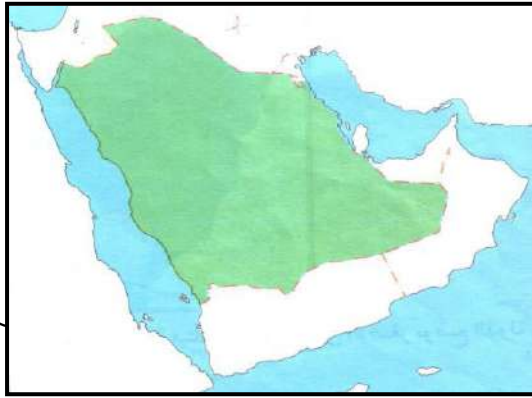
أكملي الفراغات التالية :

- تقع مكة المكرمة في شبه الجزيرة العربية .
 -مكة عبارة عن تحيط بها من جميع الجهات .



نشاط (2)

حددي على الخارطة التالية موقع مكة المكرمة .



نشاط (3)

اذكري أهم المظاهر الطبيعية التي تتميز بها مكة ؟

ملاحظات	لم تتقن	أقنت	المهارة
			تحديد مولد النبي صلى الله عليه وسلم ونسبه



نشاط (1)

اختاري الإجابة الصحيحة فيما بين القوسين :

- 1- ولد النبي صلى الله عليه وسلم في (المدينة- مكة- جدة- الطائف)
- 2- ولد النبي صلى الله عليه وسلم في يوم (السبت- الأحد- الاثنين- الثلاثاء)

~~~~~

### نشاط (2)

اكمل الفراغ التالي :

ولد النبي صلى الله عليه وسلم عام .....

~~~~~

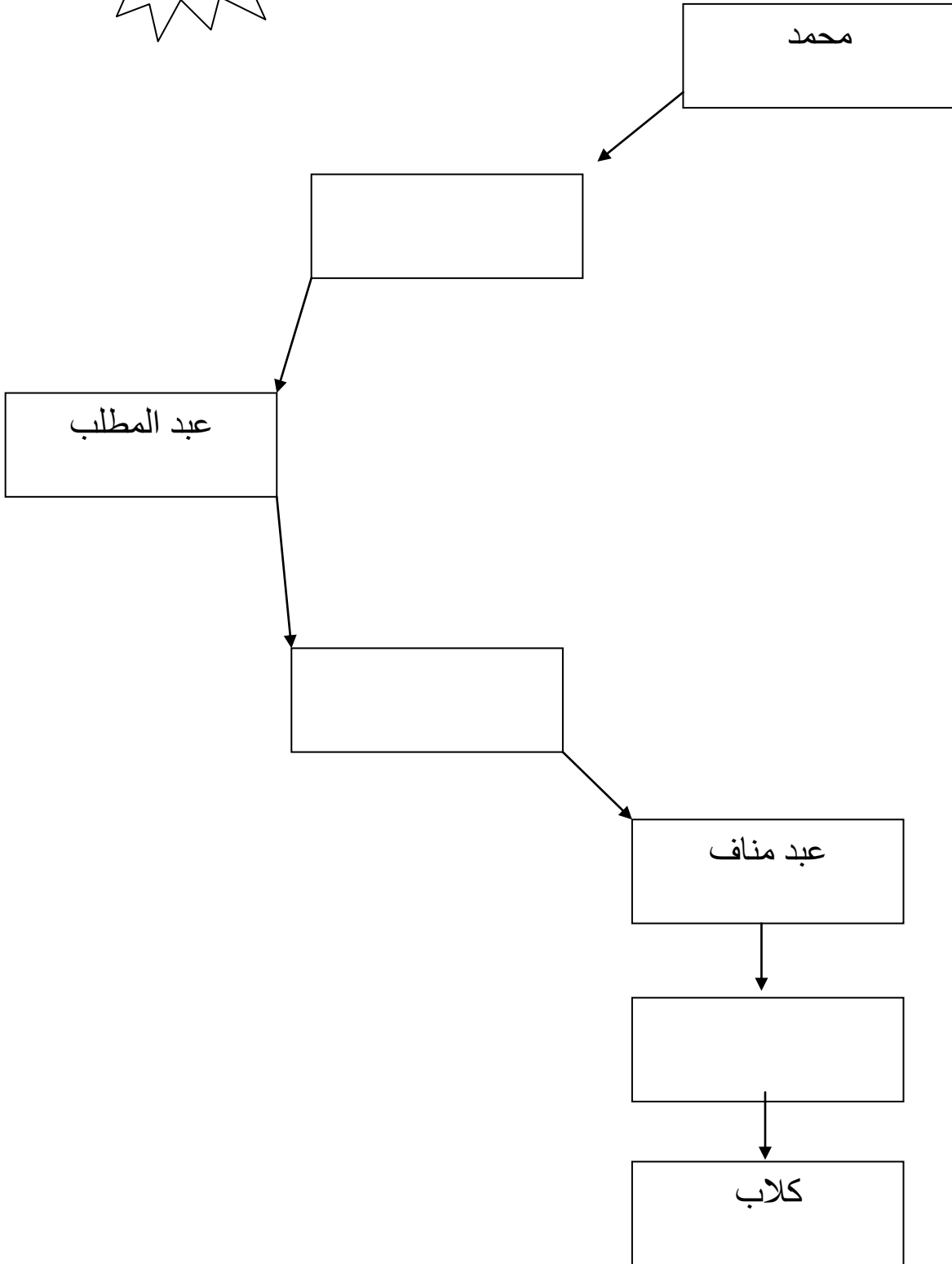
نشاط (3)

ارسمي خريطة ذهنية موضحة عليها نسب النبي صلى الله عليه وسلم.

نشاط (4)

اكمل خريطة المفاهيم التالية :

الزمن 10



ملاحظات	لم تتقن	أنقنت	المهارة
			معرفة بعثة النبي محمد صلى الله عليه وسلم



نشاط (1)

أكملي الفراغات التالية :

- 1- نزل الوحي على النبي صلى الله عليه وسلم في شهر
في غار
- 2- أول آية نزلت على النبي صلى الله عليه وسلم هي



نشاط (2)

صفي حال النبي صلى الله عليه وسلم عندما نزل عليه الوحي ؟

المهارة	أنقنت	لم تتقن	ملاحظات
وصف مراحل دعوة النبي محمد صلى الله عليه وسلم في مكة المكرمة			



نشاط (1)

قارني بين الدعوة السرية والجهرية من حيث (العدد والمدة)

الدعوة	العدد	المدة
السرية		
الجهرية		



نشاط (2)

ضعي علامة (✓) أمام العبارة الصحيحة وعلامة (x) أمام العبارة الخاطئة :

1- أول من آمن بالنبي صلى الله عليه وسلم من النساء زوجته عائشة رضي الله عنها ()

2- أول من آمن بالنبي صلى الله عليه وسلم من الصبيان علي بن أبي طالب رضي الله عنه ()

المهارة	أنقنت	لم تتقن	ملاحظات
ذكر أحداث بيعتي العقبة (الأولى والثانية)			



نشاط (1)

قارني بين كلاً من بيعة العقبة الأولى وبيعة العقبة الثانية من حيث :
(السنة - عدد الرجال - عدد النساء - موضوع البيعة - نتيجة البيعة)

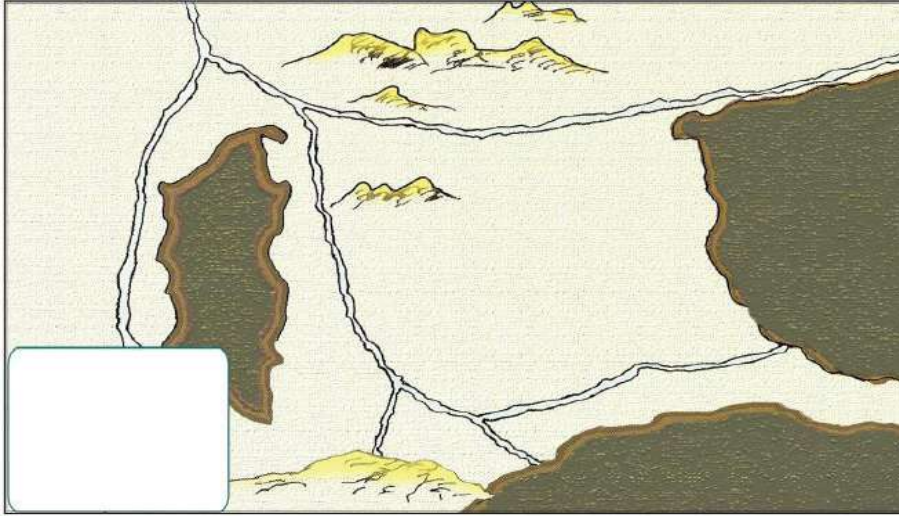
بيعة العقبة الأولى	بيعة العقبة الثانية	
		السنة
		عدد الرجال
		عدد النساء
		موضوع البيعة
		نتيجة البيعة

المهارة	أُتقنت	لم تتقن	ملاحظات
تحديد موقع المدينة المنورة وأهم مظاهرها الطبيعية			



نشاط (1)

حددي على الخارطة موقع المدينة ومظاهرها الطبيعية .



نشاط (2)

ظلي الإجابات الصحيحة فيما يلي :

1- تقع المدينة المنورة في .

- غرب ○ شمال ○ جنوب

2- يحيط بالمدينة المنورة من الجهتين الشرقية والغربية مجموعة من :

- الهضاب ○ الجبال ○ الحرات

المهارة	أُتقنت	لم تتقن	ملاحظات
وصف أحداث هجرة النبي صلى الله عليه وسلم إلى المدينة المنورة			



نشاط (1)

صفي أحداث هجرة النبي صلى الله عليه وسلم إلى المدينة .

~~~~~

## نشاط (2)

صلي بين العمود ( أ ) ما يناسبه من العمود ( ب )

| ( ب )                                                                                                                                             | ( أ )                                                                                                                                                                           |
|---------------------------------------------------------------------------------------------------------------------------------------------------|---------------------------------------------------------------------------------------------------------------------------------------------------------------------------------|
| - عمر بن الخطاب رضي الله عنه<br>- أبو بكر الصديق رضي الله عنه<br>- أسماء رضي الله عنها<br>- علي بن ابي طالب رضي الله عنه<br>- عائشة رضي الله عنها | - صاحب النبي صلى الله عليه وسلم في الهجرة<br>- نام في فراش النبي صلى الله عليه وسلم ليلة الهجرة<br>- تأتي النبي صلى الله عليه وسلم وصاحبه أبو بكر بالطعام والشراب وهما في الغار |

| المهارة                                            | أتقنت | لم تتقن | ملاحظات |
|----------------------------------------------------|-------|---------|---------|
| تعداد أعمال النبي محمد صلى الله عليه وسلم بالمدينة |       |         |         |



### نشاط (1)

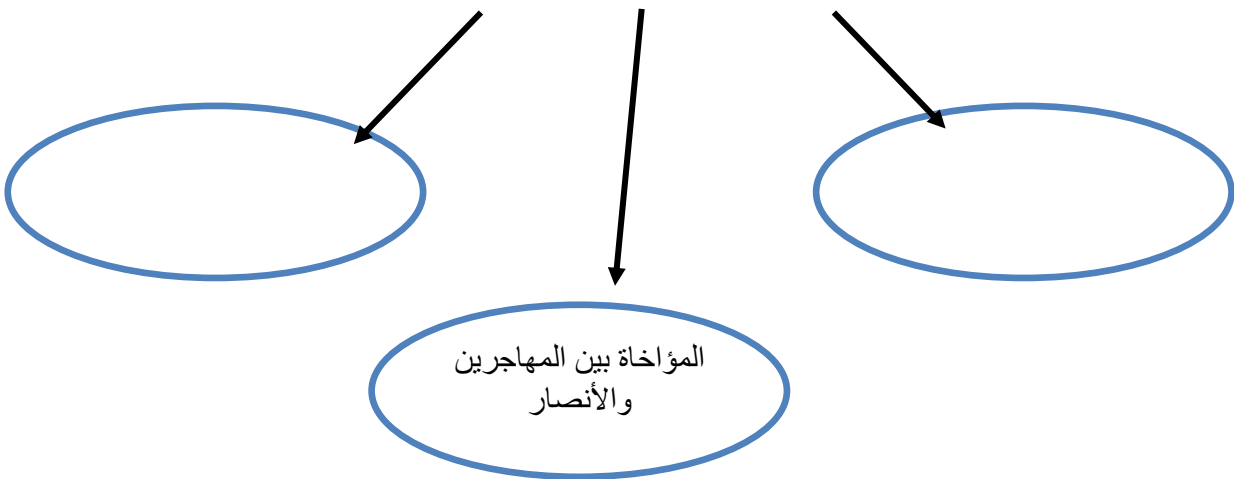
عددي أهم أعمال النبي صلى الله عليه وسلم في المدينة المنورة .

- 1- .....
- 2- .....
- 3- .....

### نشاط (2)

أكملي خارطة المفاهيم التالية :

أعمال النبي صلى الله عليه وسلم في المدينة



| المهارة                                   | أنقنت | لم تتقن | ملاحظات |
|-------------------------------------------|-------|---------|---------|
| معرفة غزوات النبي محمد صلى الله عليه وسلم |       |         |         |

### نشاط (1)

رتبي الغزوات حسب سنة حدوثها .



| اسم الغزوة  | سنة حدوثها |
|-------------|------------|
| غزوة بدر    | 2هـ        |
| غزوة أحد    |            |
| غزوة الخندق |            |

~~~~~

نشاط (2)

علي : هزيمة المسلمين في غزوة أحد ؟

~~~~~

### نشاط (3)

اذكري نتائج فتح مكة ؟

---



---

| المهارة                                                                | أنقنت | لم تتقن | ملاحظات |
|------------------------------------------------------------------------|-------|---------|---------|
| إعطاء أمثلة على<br>استشارة النبي محمد<br>صلى الله عليه وسلم<br>لأصحابه |       |         |         |



### نشاط (1)

من أكون :

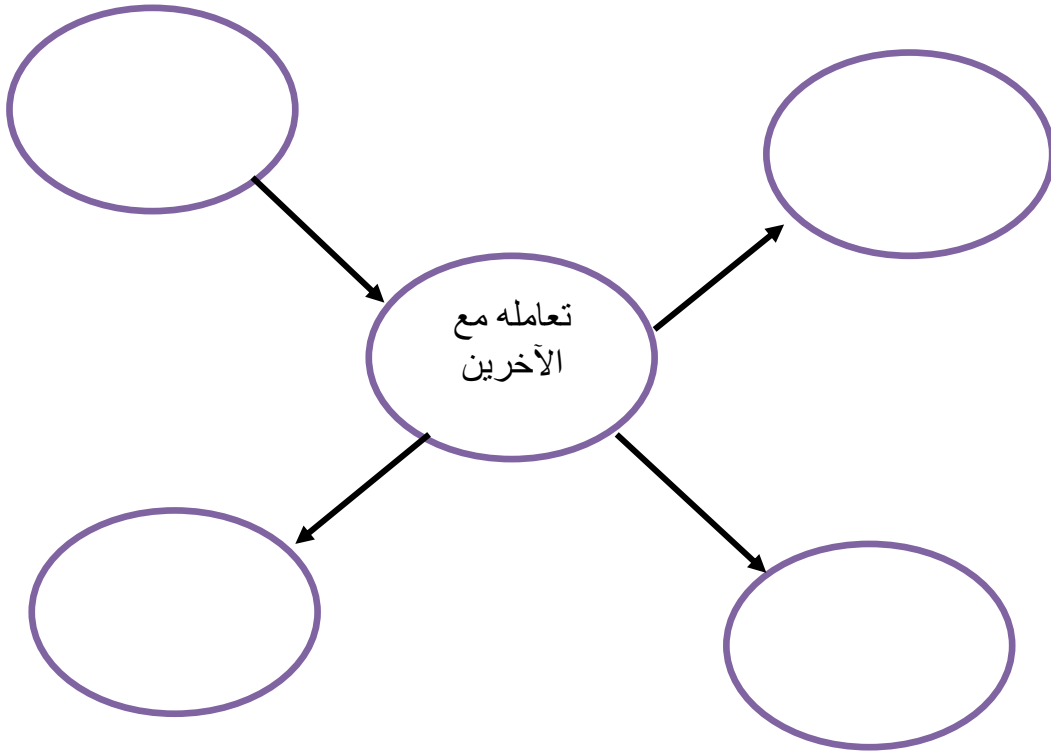
- 1- أشرت على النبي صلى الله عليه وسلم بحفر الخندق ( )
- 2- أشرت على النبي صلى الله عليه وسلم بأن يعسكر بالقرب من  
بئر بدر ( )
- 3- أشرت على النبي صلى الله عليه وسلم بحل الإحرام ( )

| ملاحظات | لم تتقن | أنقذت | المهارة                                                             |
|---------|---------|-------|---------------------------------------------------------------------|
|         |         |       | إعطاء أمثلة على<br>حسن تعامله صلى<br>الله عليه وسلم مع<br>الآخرين . |



### نشاط (1)

أكتبي في الخارطة المعرفية التالية أهم الأخلاق التي كان يتعامل معها النبي صلى الله عليه وسلم مع أصحابه .

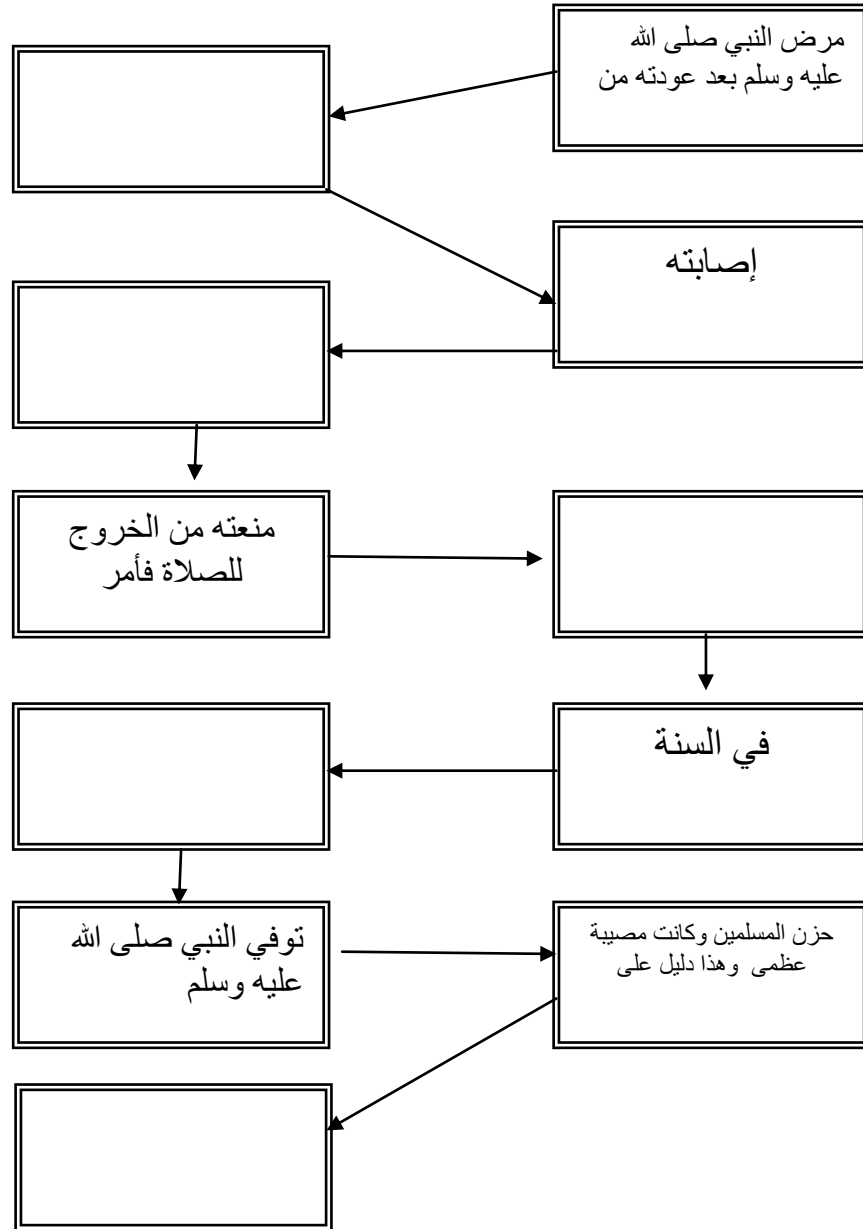




| ملاحظات | لم تتقن | أتقنت | المهارة                                      |
|---------|---------|-------|----------------------------------------------|
|         |         |       | وصف وفاة النبي<br>محمد صلى الله عليه<br>وسلم |



## نشاط (1) أكمل الخارطة المعرفية التالية باتباع السهم :



# إعداد المعلمة فوزة البلوي